

تم تحميل هذا الملف من موقع المناهج الكويتية




محمد البلاطي

الملف أسئلة اختبار القصير من منصة البلاطي

[موقع المناهج](#) ⇨ [المناهج الكويتية](#) ⇨ [الصف الحادي عشر الأدبي](#) ⇨ [تاريخ](#) ⇨ [الفصل الثاني](#)

روابط مواقع التواصل الاجتماعي بحسب الصف الحادي عشر الأدبي



روابط مواد الصف الحادي عشر الأدبي على تلغرام

[الرياضيات](#)

[اللغة الانجليزية](#)

[اللغة العربية](#)

[التربية الاسلامية](#)

المزيد من الملفات بحسب الصف الحادي عشر الأدبي والمادة تاريخ في الفصل الثاني

<a href="#">مراجعة التاريخ الاسلامي</a>	1
<a href="#">بنك اسئلة للفصل الثاني</a>	2
<a href="#">مراجعة التاريخ الاسلامي</a>	3
<a href="#">مذكرة تاريخ</a>	4
<a href="#">مراجعة</a>	5

# توقعات ليلة الامتحان أسئلة امتحانات تجريبية قصير (أ)



## التاريخ الإسلامي

### الفصل الدراسي الثاني

2025 - 2024

11

10

### السؤال الأول : موضوعي ويتكون من أ . ب لكل نقطه نصف درجه

أ- صوب ماتحته خط في العبارات التالية :-

1 - المعركة البحرية التي انتصر بها المسلمون علي الروم عام 34 هـ تسمى صفين.

( )

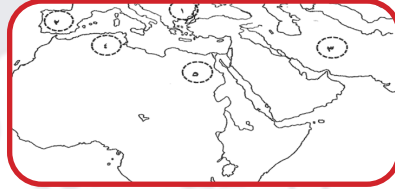
2 - الزعيم الذي وحد القبائل المغولية وأسس دولتهم في شرق آسيا يسمى هولاكو.

( )

3 - المدينة التي أنشأها القائد حسان بن النعمان لغساني تسمى سبتة.

4 - مؤسس الدولة العباسية يسمى أبو جعفر المنصور.

( ب ) لاخط الخريطة التي أمامك جيداً ثم نفذ ما هو مطلوب منك :-



1 - أحد مراكز أنتقال الحضارة العربية الإسلامية إلي أوروبا يمثلها علي الخريطة الرقم ( ... )

2 - مدينة القسطنطينية يمثلها علي الخريطة الرقم ( ... )

### السؤال الثاني : مقالي ويتكون من أ . ب : (درجه لكل نقطه)

أ- فسر مفهوم البربر :

.....  
.....

ب- اذكر موقف المسلمون والأنصار عند تولي عثمان ابن عفان الخلافة : (درجتين)

.....  
.....

### السؤال الثالث : مقالي :

أ- قارن بين كل من معركة شزونه و معركة بلاط الشهداء. ( لكل نقطه درجه )

وجه مقارنة	شذونة	بلاط الشهداء
السنة	.....	.....
الأطراف	.....	.....

10

### السؤال الأول : موضوعي ويتكون من أ . ب لكل نقطه نصف درجه

أ- أكمل العبارات التالية بما يناسب بها من كلمات :-

- 1 - القائد الذي أرسله موسى بن نصير لفتح بلاد الأندلس يسمى .....
  - 2 - المدينة التي فتحها طارق بن زياد بعد انتصاره علي القوط في معركة شذونة تسمى .....
  - 3 - المدينة التي تقابل فيها موسى بن نصير مع قائده طارق بن زياد تسمى .....
  - 4 - الجبال التي تخطتها الجيوش الإسلامية من أجل فتح بلاد غالة تسمى .....
- ب) لاخط الخريطة التي أمامك جيداً ثم نفذ ما هو مطلوب منك :-



- 1- منطقة دخلها العثمانيون عام 1517 م يمثلها علي الخريطة الرقم. ( )
- 2- مدينة أسسها عقبة بن نافع الفهري يمثلها علي الخريطة الرقم. ( )

### السؤال الثاني : مقالي ويتكون من أ . ب : (درجه لكل نقطه)

أ-فسر مفهوم بلاد الأندلس :

.....  
ب- علل لما يأتي :

- 1 - الاستقرار السياسي لدولة المماليك. ( لكل نقطه درجه )

.....  
.....

### السؤال الثالث : مقالي اكتب مما درست :

- 1 - عوامل سقوط الدولة الفاطمية :

.....  
.....

- 2 - أعمال صلاح الدين الأيوبي بعد تثبيت الأوضاع في مصر :

.....  
.....

مع أطيب التمنيات بالنجاح والتوفيق،،،

10

### السؤال الأول : موضوعي ويتكون من أ . ب : لكل نقطة نصف درجه

أ- أكمل العبارات التالية بما يناسب بها من كلمات :-

- 1 - الدولة التي توسعت علي حساب اراضيها العثمانيون تسمى .....
  - 2 - السلطان السلجوقي الذي اعلن عثمان قيام دولته بعد وفاته يسمى .....
  - 3 - المدينة التي فتحها واتخذها أورخان بن عثمان عاصمة لدولته تسمى .....
  - 4 - اللقب الذي أطلقتة السلطان السلجوقي علاء الدين كيقباد علي عثمان بن ارطغرل .....
- (ب) لاخط الخريطة التي أمامك جيدا ثم نفذ ما هو مطلوب منك :-



- 1 - بحر القلزم علي الخريطة يمثلته الرقم. ( )
- 2 - عاصمة الفاطمية التي أسسها جوهر الصقلي علي الخريطة يمثلها الرقم. ( )

### السؤال الثاني : مقالي ويتكون من أ . ب : (درجه لكل نقطه)

أ -فسر مفهوم العثمانيون :

.....  
.....

ب- علل لما يأتي :

- 1 - اتخاذ أورخان بن عثمان مدينة بورصة عاصمة له.

.....

### السؤال الثالث : مقالي

- 1 - اكتب بطاقة تعريفية عن صلاح الدين الايوبي :

نسبة	.....
مولده	.....
اعماله	.....
وفاته	.....

مع أطيب التمنيات بالنجاح والتوفيق ،،،

10

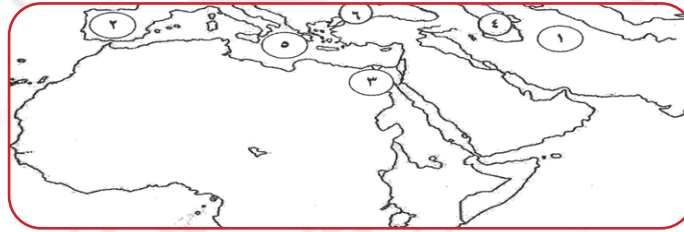
### السؤال الأول : موضوعي ويتكون من أ . ب لكل نقطه نصف درجه

أ- أكمل العبارات التالية بما يناسب بها من كلمات :-

- 1 - الخليفة الذي تم في عهده بناء أول أسطول إسلامي يسمى .....
- 2 - والي الشام الذي تم في عهده بناء أول اسطول إسلامي شامي يسمى .....
- 3 - القائد المسلم الذي تم علي يديه بناء الأسطول المصري في البحر المتوسط يسمى .....
- 4 - الخليفة الراشد الذي تم في عهده استحداث وظيفة المحتسب يسمى .....

موقع  
المنهج الكويتية  
almanahj.com/kw

ب) لاحظ الخريطة التي أمامك جيدا ثم نفذ ما هو مطلوب منك :-



- 1 - الدولة التي أنشأها عبد الرحمن الداخل علي الخريطة رقم. ( )
- 2 - بحر الروم يمثله علي الخريطة رقم. ( )

### السؤال الثاني : مقالي ويتكون من أ . ب : (درجه لكل نقطه)

أ- فسر مفهوم الحضارة:-

.....

ب- فرق بين كلا من:-

العلوم العقلية	العلوم التقلية
.....	.....
.....	.....
.....	.....

### السؤال الثالث : أذكر مايلي مقالي :

1 - أهم القيم التي ميزت الحضارة العربية الإسلامية:

.....

2 - مراكز إشعاع الحضارة العربية الإسلامية:

.....

مع أطيب التمنيات بالنجاح والتوفيق،،،



10

### السؤال الأول : موضوعي ويتكون من أ . ب لكل نقطه نصف درجه

أ- أكمل العبارات التالية بما يناسب بها من كلمات :-

- 1 - الخليفة الذي أمر الأذان الأول ليوم الجمعة يسمى .....
- 2 - المكان الذي دارت فيه معركة صفين يسمى .....
- 3 - أول فدائي في الإسلام يسمى .....
- 4 - العام الذي دورت فيه معركة الجمل .....

ب) لاخط الخريطة التي أمامك جيداً ثم نفذ ما هو مطلوب منك :-



- 1 - موقع نيسابور علي الخريطة يمثل الرقم . ( )
- 2 - موقع خراسان علي الخريطة يمثل الرقم . ( )

### السؤال الثاني : مقالي ويتكون من أ . ب : (درجه لكل نقطه)

أ- فسر مفهوم بلاد الغال:-

.....

ب- علل سمي عام الجماعة بهذا الأسم:-

.....

### السؤال الثالث : أكتب بطاقة تعريفية عن عثمان ابن عفان:-

.....	الاسم
.....	مولده
.....	اعماله
.....	وفاته

مع أطيب التمنيات بالنجاح والتوفيق،،،



## احرص على اقتناء سلسلة منصة البلاطي

- كتاب الشرح.
- كتاب الأسئلة.
- كتاب إجابة الأسئلة.
- المراجعة النهائية (الأسئلة - الإجابة).
- توقعات ليلة الامتحان (الأسئلة - الإجابة).
- كبسولة ليلة الامتحان.
- برشامة ليلة الامتحان.

موقع  
المنهج الكويتية  
almanahj.com/kw



## التاريخ الإسلامي 11

### الفصل الدراسي الثاني

2025 - 2024

استمتع بتجربة التعلم  
مع منصة البلاطي

