

تم تحميل هذا الملف من موقع المناهج الكويتية



منطقة العاصمة التعليمية

الملف نموذج إجابة منطقة العاصمة

موقع المناهج ← المناهج الكويتية ← الصف الثامن ← اجتماعيات ← الفصل الأول

روابط مواقع التواصل الاجتماعي بحسب الصف الثامن



روابط مواد الصف الثامن على تلغرام

[الرياضيات](#)

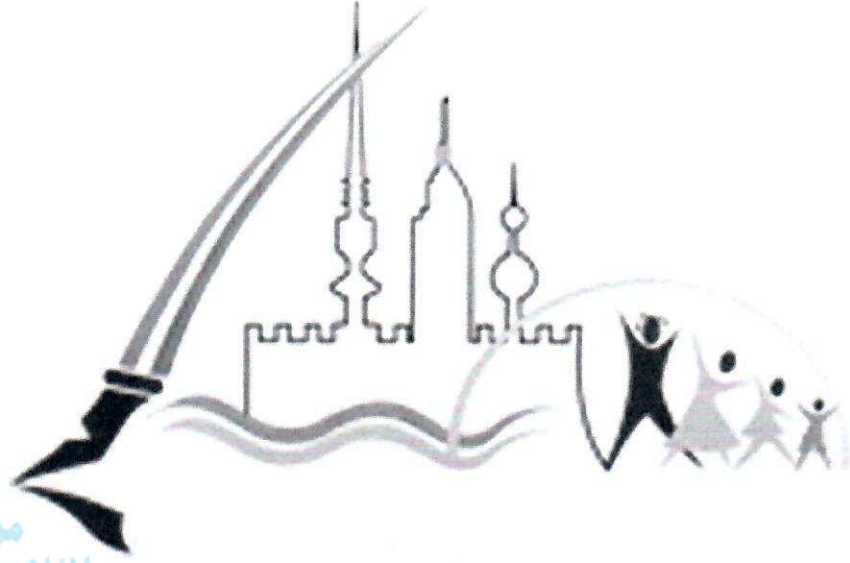
[اللغة الانجليزية](#)

[اللغة العربية](#)

[التربية الاسلامية](#)

المزيد من الملفات بحسب الصف الثامن والمادة اجتماعيات في الفصل الأول

مسودة كتاب الطالب في مادة الاجتماعيات لعام 2018	1
خطة توزيع منهج العام الجديد في مادة الاجتماعيات	2
حل الوحدة الاولى في مادة الاجتماعيات	3
ورقة عمل في مادة الاجتماعيات	4
ورقة عمل في مادة الاجتماعيات	5



موقع
المناهج الكويتية
almanahj.com/kw

منطقة العاصمة التعليمية تم التحميل من شبكة ياكويت التعليمية



Telegram:
ykuwait_net_home

الاجابة النموذجية

أجب عن جميع الأسئلة التالية

السؤال الأول : ويتكون من (أ- ب - ج - د - هـ)

أ- أكمل العبارات التالية بما يناسبها مما درست :

١- الدولة الإسلامية الوحيدة في قارة أمريكا الجنوبية تسمى سورينام ص٥١

٢- كمية النفط المخزونة في باطن الأرض ولم تستخرج بعد تسمى احتياطي النفط ص٦٨

٣- العالم الذي ألف كتاب الصيدلة في الطب يسمى البيروني ص١٩

٤- الدولة الإسلامية التي تحتل المركز الأول في إنتاج الذهب حسب احصاء ٢٠١٤م اسمها أوزباكستان ص٧٠

٥- الخليفة الراشد الذي استحدث في عهده منصب المحتسب اسمه عمر بن الخطاب ص٢٥

٦- نبات يصنع منه الحبال والأحذية والحقائب والأقمشة الخشنة يسمى الجوت ص٧٣

ب - ظلل الإجابة الصحيحة من بين البدائل التي تلي العبارات التالية :

(٦ × ١) = ٦ درجات

١- حوض أو منخفض طبيعي على سطح الأرض :

التل	الجبل	السهول	الوادي
------	-------	--------	--------

٢- لقب الشيخ صباح الأحمد الصباح بقائد العمل الإنساني في عام :

٢٠١٤م	٢٠١٥م	٢٠١٦م	٢٠١٧م
-------	-------	-------	-------

٣- يقع تل جال الزور في دولة :

البحرين	الكويت	قطر	عمان
---------	--------	-----	------

٤- تقع دولة الكويت ضمن الإقليم المناخي :

الاستوائي	المداري	الصحراوي	الموسمي الحار
-----------	---------	----------	---------------

٥- القصر الذي بناه الخليفة الاموي معاوية بن أبي سفيان :

الرصافة	الحمراء	الخضراء	عمرة
---------	---------	---------	------

٦- أول حاكم للمسلمين بعد وفاة الرسول صلى الله عليه وسلم :

علي بن أبي طالب	أبو بكر الصديق	عمر بن الخطاب	عثمان بن عفان
-----------------	----------------	---------------	---------------

ج - صحح ما تحته خط في العبارات التالية بكتابة الإجابة الصحيحة بين الأقواس : (٦ × ١) = ٦ درجات

١- يبلغ إنتاج العالم الإسلامي من الغاز الطبيعي بالنسبة للإنتاج العالمي ٤٦% . (٣٦%) ص ٦٧

٢- داعية كويتي له اسهامات في العمل الخيري والإنساني أحمد زويل (د. عبدالرحمن السميّط) ص ٢٤

٣- أحد أكبر مساجد العالم وأولى القبلتين في الإسلام المسجد النبوي . (المسجد الأقصى المبارك) ص ٣٣

٤- من أشهر المدن التي برع فيها المسلمون في مد المجاري الجوفية بغداد . (مجريط / مدريد) ص ٤٣

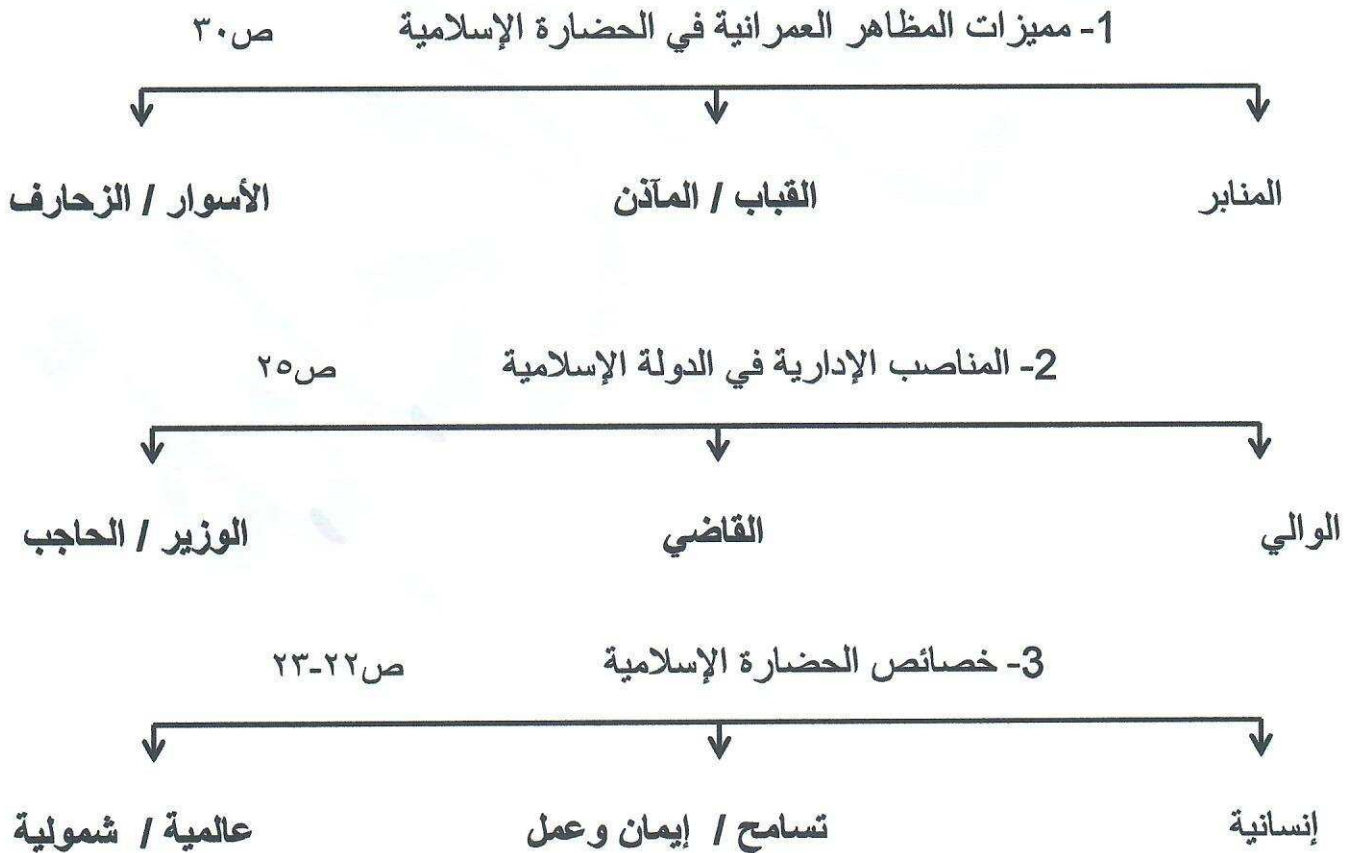
(مرو) ص ٢٧

٥- مدينة في خراسان تم إنشاء ديوان الماء فيها بخاري .

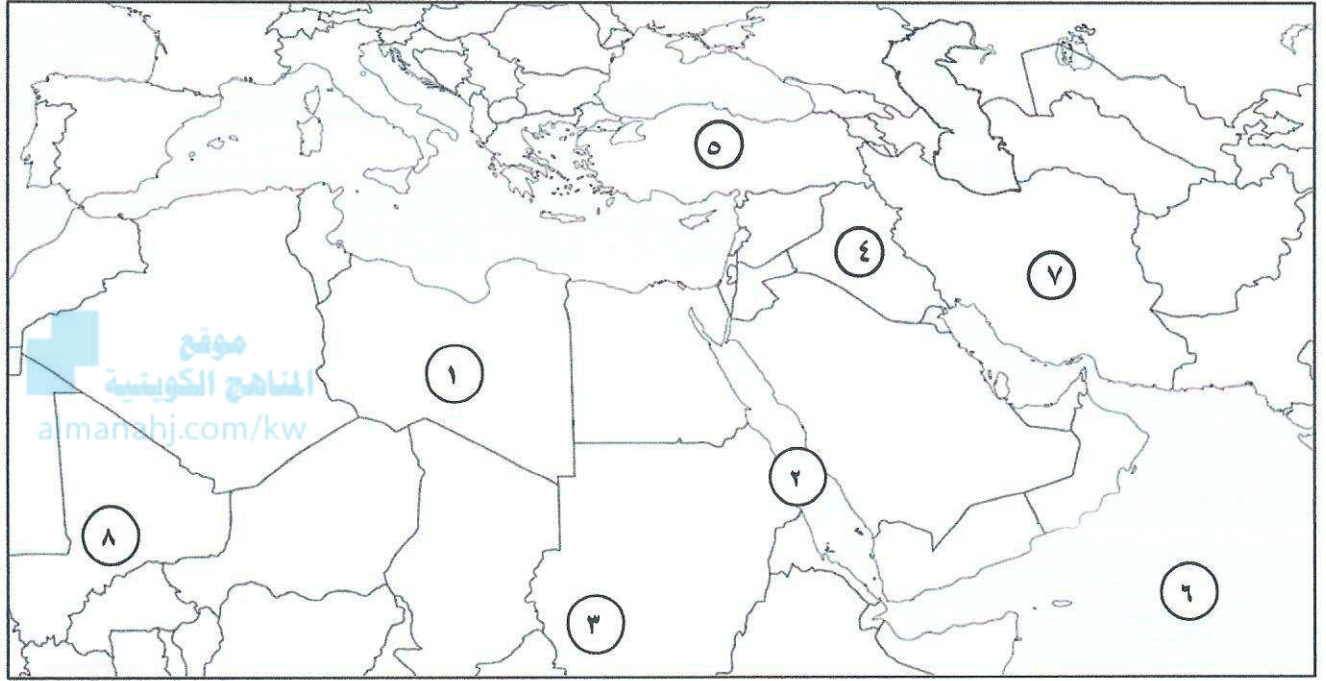
(الشريف الإدريسي) ص ٤٢

٦- مؤلف كتاب نزهة المشتاق في اختراق الآفاق الرازي .

د - أكمل المخططات السهمية التالية : (٦ × ١) = ٦ درجات



هـ - لاحظ خريطة العالم الإسلامي الصماء ثم اكتب الأرقام الدالة على كلا مما يلي : (١ × ٦) = ٦ درجات



- | | | |
|-------|------|------------------------------------------------|
| (٢) | ص ٧٤ | * البحر الأحمر يمثل على الخريطة الرقم |
| (٧) | ص ٥٦ | * هضبة ايران يمثلها على الخريطة الرقم |
| (٥) | ص ٥٦ | * هضبة الأناضول يمثلها على الخريطة الرقم |
| (٤) | ص ٥٩ | * سهول العراق يمثلها على الخريطة الرقم |
| (١) | ص ٥٦ | * هضبة الصحراء الكبرى يمثلها على الخريطة الرقم |
| (٣) | ص ٥٤ | * جبل مره يمثل على الخريطة الرقم |

السؤال الثاني : ويتكون من (أ - ب)

أ- علل لما يلي :

$(٥ \times ١) = ٥$ درجات

ص ٥٥

١- تسمية مرتفعات الحجاز بهذا الاسم .

* لأنها تحجز سهل تهامة في الغرب عن هضبة نجد في الشرق .

٢- لقيت التجارة تشجيعا كبيرا في الحضارة الإسلامية . (يكتفى بنقطتين) ص ٢٨

* لدورها الكبير في التبادل التجاري مع المناطق المجاورة . * أسهمت في نشر الدين الإسلامي .

موقع المناهج الكويتية
almanahj.com/kw

* موقع العالم الإسلامي الاستراتيجي .

٣- تنوع المناخ في دول العالم الإسلامي . (يكتفى بنقطتين) ص ٦٣

* امتداد دول العالم الإسلامي على مساحة شاسعة . * الموقع بالنسبة لدوائر العرض .

* الإطلالة على عدة مسطحات مائية في معظم أجزائه . * التنوع في التضاريس من جبال وهضاب وسهول ووديان .

$(٥ \times ١) = ٥$ درجات

ب - عرف ما يلي :

١- الهضبة : أرض مرتفعة سطحها مستو ، وتمتد لمساحة واسعة. ص ٥٣

٢- الزكاة : ركن من أركان الإسلام يخرجها المسلمون الأغنياء للمستحقين من الفقراء . ص ٢٨

٣- أهل الذمة : هم اليهود والنصارى الذين ظلوا على دينهم مع دفع الجزية . ص ٣٦

٤- الحضارة : هي كل ما يطرأ على المجتمع من تقدم وتطور ورفي سواء في الجانب المادي (مساجد، قصور مستشفيات ، مكتبات والأدوات ، والاختراعات) أو الجانب الروحي (العلوم والفكر والأدب والأخلاق والسياسة والثقافة) .

ص ١٨

ص ٥٣

٥- التضاريس : هي أشكال سطح الأرض .



السؤال الثالث : ويتكون من (أ – ب)

أ- فرق بين كل من حيث التعريف:

(١ × ٤) = ٤ درجات

المناخ ص ٦٤	الطقس ص ٦٤
هو حالة الجو خلال فترة زمنية طويلة من حيث (عناصره) وهي درجة الحرارة ، الرطوبة ، الأمطار ، الضغط الجوي .	هو حالة الجو في مكان لمدة قصيرة تتراوح بين يوم أو عدة أيام من حيث درجة الحرارة والرطوبة والأمطار والضغط الجوي .
الخارج ص ٢٨	الجزية ص ٢٩
ضريبة الأرض الزراعية التي تخرج مبلغا ماليا معيناً من ناتج المحصول الزراعي .	مبلغ مالي يدفعه الرجال غير المسلمين من (أهل الذمة) ممن هم قادرون على حمل السلاح نظير حماية الدولة لهم .

ب - أجب عن الأسئلة التالية :

(١ × ٦) = ٦ درجات

- ١- أذكر المراكز العلمية في الحضارة الإسلامية . (يكتفى بنقطتين) ص ٣٨
 - * المسجد الحرام في مكة المكرمة والمسجد النبوي في المدينة المنورة . * بيت الحكمة في بغداد .
 - * المرصد الفلكي في مراغة في أذربيجان . * مجمع باي كاليان في مدينة بخاري في أوزبكستان .
- ٢- ما أهم المصادر الغير طبيعية لإنتاج الأسماك في دول العالم الإسلامي ؟ ص ٧٤
 - * الاستزراع السمكي .

٣- ما العوامل التي ساعدت على زيادة الإنتاج الزراعي في دول العالم الإسلامي .

(يكتفى بثلاث نقاط) ص ٧٢

* التربة الخصبة . * المناخ . * وجود البحيرات والأنهار والآبار .

* سقوط الأمطار . * كثرة السكان والأيدي العاملة .



السؤال الرابع : ويتكون من (أ - ب)

أ- دال على صحة العبارات التالية : (١ × ٤) = ٤ درجات

١- ازدهار العلم وظهور العلماء في العالم الإسلامي . (يكتفى بنقطتين) ص ٣٧

* تشجيع العلماء ورعاية وتمويل القيادات السياسية لهم من خلفاء وملوك وسلطين وأمراء .

* التنافس العلمي بين الدول الإسلامية . * الرخاء الاقتصادي .

* حركة التعريب (الترجمة) للكتب القديمة اليونانية والهندية والفارسية وغيرها .

٢- تقدم المسلمين في مجال الزراعة . (يكتفى بنقطتين) ص ٢٦

* شق القنوات المائية والترع * إقامة السدود .

* تنظيم وسائل الري .

ب - أجب على الأسئلة التالية : (١ × ٦) = ٦ درجات

١- ما أسس الحضارة الإسلامية . (يكتفى بنقطتين) ص ٢٠

* الدين الإسلامي . (القرآن والسنة) * اللغة العربية . (لغة القرآن الكريم)

* الحضارات الأخرى . (الفرس / اليونان / الهند / الصين)

٢- عدد مراكز إشعاع الحضارة الإسلامية إلى أوروبا . (يكتفى بنقطتين) ص ٤١

* بلاد الأندلس . * صقلية .

* بلاد الشام .

٣- اذكر أهمية السهول . (يكتفى بنقطتين) ص ٥٨

* استخدامها كموانئ طبيعية . * تشييد المدن .

* تركيز السكان فيها لسهولة النقل .

انتهت الإجابة