

تم تحميل هذا الملف من موقع المناهج الكويتية



مذكرات الصفوة

الملف مذكرة الصفوة للوحدة الأولى (بلادي الكويت)

[موقع المناهج](#) ⇨ [المناهج الكويتية](#) ⇨ [الصف الخامس](#) ⇨ [اجتماعيات](#) ⇨ [الفصل الأول](#)

روابط مواقع التواصل الاجتماعي بحسب الصف الخامس



روابط مواد الصف الخامس على تلغرام

<a href="#">الرياضيات</a>	<a href="#">اللغة الانجليزية</a>	<a href="#">اللغة العربية</a>	<a href="#">التربية الاسلامية</a>
---------------------------	----------------------------------	-------------------------------	-----------------------------------

المزيد من الملفات بحسب الصف الخامس والمادة اجتماعيات في الفصل الأول

<a href="#">نموذج اجابة اختبار لمنطقة الجهراء لعام 2016 في مادة الاجتماعيات</a>	1
<a href="#">نماذج اختبارات مجمعة في مادة الاجتماعيات</a>	2
<a href="#">اسئلة تدريبية ممتازة في مادة الاجتماعيات</a>	3
<a href="#">تلاخيص مهمة للكورس الاول في مادة الاجتماعيات</a>	4
<a href="#">مراجعة عامة في مادة الاجتماعيات</a>	5

غير مصرح  
بالتصوير

للتوصيل

60431360

الفصل الدراسي الأول 2023م



مذكرات

الصفوة

إختيارك الأول

اجتماعيات

اطادة

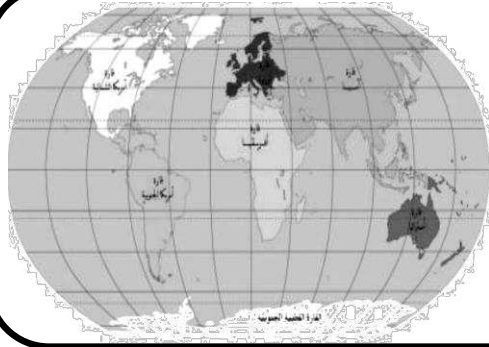
الخامس

الصف

سلسلة مذكرات الصفوة لجميع المراحل

## الوحدة الأولى: بلاي الكويت

### الدرس الأول: سطح الكرة الأرضية



تتكون الكرة الأرضية من يابسة وماء، وتغطي المياه حوالي 70 % من سطح الكرة الأرضية وتوجد على شكل مسطحات مائية، وتمثل اليابسة حوالي 30 % من مساحة الأرض.



#### • اذكر مكونات سطح الكرة الأرضية

– اليابس (30%) – المياه (70%)

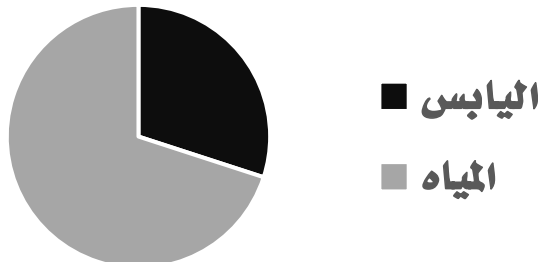
#### • أكمل العبارات التالية بما يناسبها مما درست:

1. نسبة اليابس من إجمالي مساحة الكرة الأرضية يقدر بنحو (( 30 )) %
2. نسبة المسطحات المائية من إجمالي مساحة الكرة الأرضية يقدر بنحو (( 70 )) %
3. يرمز اللون الأصفر على الخريطة إلى (( اليابس ))
4. يرمز اللون الأزرق على الخريطة إلى (( المياه ))

#### • ضع علامة ( ✓ ) للعبارات الصحيحة وعلامة ( ✗ ) للعبارات غير الصحيحة وذلك بين القوسين :

1. تبلغ نسبة اليابسة من سطح الكرة الأرضية 70% ( ✗ )
2. مساحة المياه على سطح الكرة الأرضية أكبر من مساحة اليابس ( ✓ )

#### • مثل نسبة المياه ونسبة اليابسة على سطح الكرة الأرضية في الشكل التالي:



## المسطحات المائية

## • عرف المفاهيم التالية:

- (( المحيط )): مسطح كبير جداً من الماء المالح .
- (( البحر )): مسطح مائي أصغر من المحيط يفصل بين القارات .
- (( الخليج )): بحر ضيق يمتد طويلاً بين اليابس .

توزيع المسطحات المائية على سطح الكرة الأرضية		
المحيطات	البحار	الخلجان
- المحيط الهادي	- البحر الاحمر	- الخليج العربي.
- المحيط الهندي	- البحر المتوسط	- خليج عدن.
- المحيط الأطلسي.	- بحر العرب.	- خليج عمان.

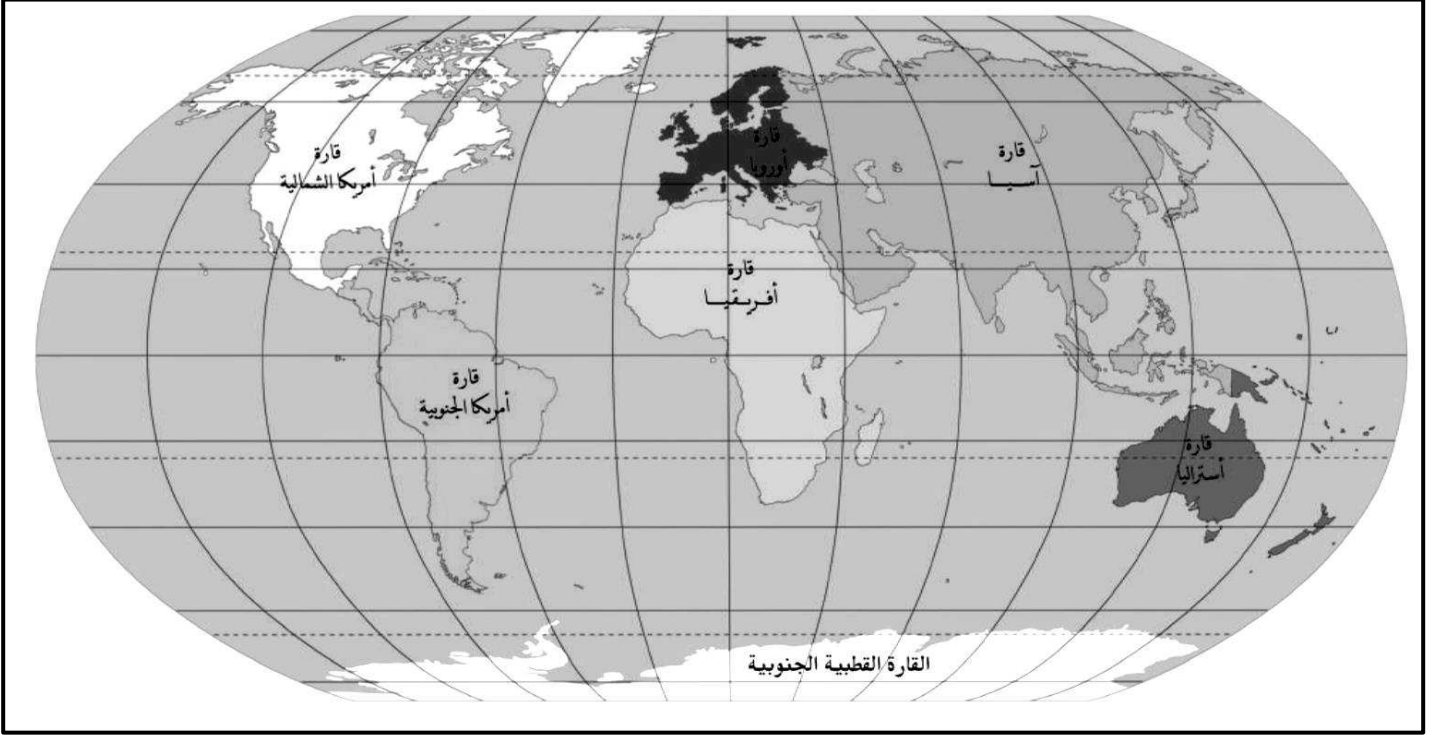
• علل لما يلي :• تكرار اسم المحيط الهادي على خريطة العالم أكثر من مرة.

- لأن الأرض كروية الشكل.

• أكمل العبارات التالية بما يناسبها مما درست:

1. تطل بلادي الكويت على مسطح مائي يسمى (( الخليج العربي ))
2. مسطح مائي أصغر من المحيط يفصل بين القارات يسمى (( البحر ))
3. يبلغ عدد المحيطات في العالم (( خمسة )) محيطات
4. مسطح كبير جداً من الماء المالح يسمى (( المحيط ))
5. المحيط الذي تكرر اسمه أكثر من مرة على خريطة العالمي يسمى (( المحيط الهادي ))
6. بحر ضيق يمتد طويلاً بين اليابس يسمى (( الخليج ))

## القارات



### عرف المفاهيم التالية:

(( القارة )): هي مساحة كبيرة من اليابسة يحيط بها الماء.

### • اذكر أسماء قارات العالم السبع

- آسيا
- أوروبا
- أفريقيا
- أمريكا الشمالية
- أمريكا الجنوبية
- أستراليا
- القارة القطبية الجنوبية

### • أكمل العبارات التالية بما يناسبها مما درست:

1. أكبر قارات العالم وأكثرها سكاناً تسمى (( آسيا ))
2. القارة التي تقع فيها بلادي الكويت تسمى (( آسيا ))
3. القارة غير المأهولة بالسكان اسمها (( القارة القطبية الجنوبية ))
4. أصغر قارات العالم من حيث المساحة اسمها (( أستراليا ))
5. عدد قارات العالم يقدر بنحو (( سبع )) قارات



## الدرس الثاني: بلدي الكويت ودول الخليج العربية



دول الخليج العربية		
سلطنة عمان	دولة قطر	بلدي الكويت
المملكة العربية السعودية	دولة الامارات العربية	مملكة البحرين

### • عرف المفاهيم التالية:

(( الضيق )): منفذ أو ممر ضيق من الماء يفصل بين مسطحين مائيين.

### • علل لما يلي :

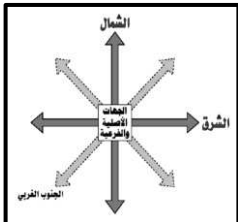
### • تسمية دول الخليج العربية بهذا الاسم.

– لأنها تطل على مسطح مائي يسمى الخليج العربي.

دول خليجية تطل على منفذ مائي واحد	دول خليجية تطل على أكثر من منفذ
الكويت – قطر – البحرين – الامارات	– سلطنة عمان – المملكة العربية السعودية

### • أكمل العبارات التالية بما يناسبها مما درست:

- المسطح المائي الذي تطل عليه جميع دول الخليج العربية يسمى (( الخليج العربي ))
- تقع بلادي الكويت بالنسبة لشبه الجزيرة العربية في جهة (( الشمال الشرقي ))
- تطل جميع دول الخليج العربية بالنسبة للخليج العربي على جهة (( الغرب ))
- منفذ أو ممر ضيق من الماء يفصل بين مسطحين مائيين يسمى (( الضيق ))
- عدد دول الخليج العربية يقدر بنحو (( ست )) دول
- الشكل المقابل يرمز إلى (( الجهات الأصلية والفرعية ))

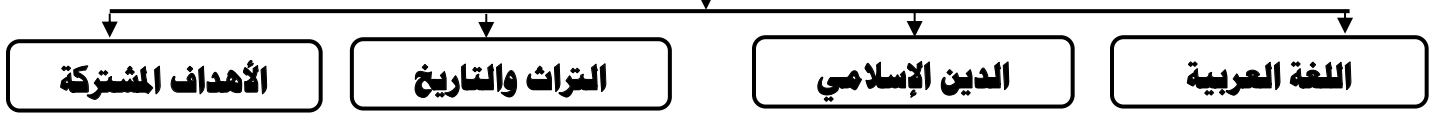


## الدرس الثالث: بلادي الكويت ودول الوطن العربي



أن الوطن العربي يضم مجموعة من الدول تجمعها سمات مشتركة مثل (الدين واللغة العربية والتراث والتاريخ والأهداف المشتركة) ويقع في وسط العالم ويمتد بين قارتي آسيا وأفريقيا، وتقع بلادي الكويت في الجهة الشرقية من الوطن العربي .

### السمات المشتركة بين دول الوطن العربي



#### • عدد أهمية موقع الوطن العربي.

– يطل الوطن العربي على العديد من المسطحات المائية.

– ويشرف على العديد من المضائق المائية.

#### • ما هي القارات التي يقع فيها الوطن العربي.

– قارة آسيا.

– قارة أفريقيا.

#### • أكمل العبارات التالية بما يناسبها مما درست :

1. تقع بلادي الكويت بالنسبة للوطن العربي في الجهة ((الشرقية))

2. عدد الدول العربية يقدر بنحو ((22)) دولة

#### • ضع علامة ( ✓ ) للعبارات الصحيحة وعلامة ( X ) للعبارات غير الصحيحة وذلك بين القوسين :

( ✓ )

1. يقع الوطن العربي في وسط العالم

( ✓ )

2. يمتد الوطن العربي بين قارتي آسيا وأفريقيا