

تم تحميل هذا الملف من موقع المناهج الكويتية



منطقة الجهراء التعليمية

الملف نموذج إجابة منطقة الجهراء

موقع المناهج ⇌ المناهج الكويتية ⇌ الصف الثامن ⇌ اجتماعيات ⇌ الفصل الأول

روابط مواقع التواصل الاجتماعي بحسب الصف الثامن



روابط مواد الصف الثامن على تلغرام

[الرياضيات](#)

[اللغة الانجليزية](#)

[اللغة العربية](#)

[التربية الاسلامية](#)

المزيد من الملفات بحسب الصف الثامن والمادة اجتماعيات في الفصل الأول

<a href="#">مسودة كتاب الطالب في مادة الاجتماعيات لعام 2018</a>	1
<a href="#">خطة توزيع منهج العام الجديد في مادة الاجتماعيات</a>	2
<a href="#">حل الوحدة الاولى في مادة الاجتماعيات</a>	3
<a href="#">ورقة عمل في مادة الاجتماعيات</a>	4
<a href="#">ورقة عمل في مادة الاجتماعيات</a>	5



العام الدراسي: ٢٠٢٢م / ٢٠٢٣م  
الزمن: ساعة وخمسة وأربعون دقيقة  
عدد الأوراق: (٦)

امتحان نهاية الفترة الدراسية الأولى  
لـ للصف الثامن  
دولة الكويت والعالم الإسلامي

وزارة التربية  
الإدارة العامة لمنطقة الجواء التعليمية  
التوجيه الفني للاجتماعيات

أجب عن جميع الأسئلة التالية :-

السؤال الأول: (موضوعي) يتكون من ( أ - ب - ج - د - هـ - و ) :- لكل سؤال درجة

أ) أكمل العبارات التالية بما يناسبها فيما درست :-

- ١ - أول خليفة للمسلمين اسمه أبو بكر الصديق ، (ص ٢٥)
- ٢ - الدولة العربية التي يوجد بها المسجد الأقصى المبارك تسمى فلسطين . (ص ٣٣)
- ٣ - مؤلف كتاب " نزهة المشتاق في اختراق الآفاق " اسمه الشريف الإدريسي . (ص ٤٢)
- ٤ - حوض أو منخفض طبيعي على سطح الأرض يسمى الوادي . (ص ٥٣)
- ٥ - نسبة إنتاج العالم الإسلامي من الحبوب تبلغ ١٤ % . (ص ٧٢)

ب) اختر الإجابة الصحيحة من بين البدائل التالية بوضع خطا تحت العنصر المناسب :-

- ١ - الحاكم الذي لقب بقائد العمل الإنساني عام ٢٠١٤ م الشيخ :  
- جابر الأحمد الصباح - سعد عبدالله الصباح - صباح الأحمد الصباح - نواف الأحمد الصباح (ص ٢٤)
- ٢ - الدولة العربية التي يوجد بها قصر عمره :  
- سوريا - الأردن - لبنان - فلسطين (ص ٣٤)
- ٣ - عدد الدول الإسلامية التي توجد في قارة آسيا :  
- ٢٤ - ٢٥ - ٢٦ - ٢٧ (ص ٥١)
- ٤ - كل قمة لا يقل ارتفاعها عن ١٠٠٠ متر تقريبا :  
- السهول - الهضبة - الجبل - التل (ص ٥٣)
- ٥ - القارة التي يقع فيها جبل عسير هي :  
- آسيا - أفريقيا - أوروبا - أمريكا الجنوبية (ص ٥٥)

ج) صنف الكلمات التالية إلى مكانها المناسب في الجدول الذي يليها :  
 - الرياضيات - الفيزياء - التفسير - الكيمياء - التاريخ

علوم عقلية	علوم عقلية
الرياضيات / الفيزياء / الكيمياء	التفسير / التاريخ

د) أكتب المفاهيم أو المصطلحات الدالة على العبارات التالية :

١ - الزكاة : (ص ٢٨)

ركن من أركان الإسلام يخرجها المسلمون الأغنياء للمستحقين من الفقراء وسميت الزكاة لما فيها من تزكية للنفس وتطهيرها .

٢ - القصور : (ص ٣٤)

مقر الحاكم والمكان الذي يضم المؤسسات الإدارية كالوزارة والدواوين وأحيانا تكون قصورا صحراوية لتتزه الخلفاء .

٣ - أهل الذمة : (ص ٣٦)

النصارى واليهود الذين ظلوا على دينهم مع دفع الجزية .

٤ - التضاريس : (ص ٥٣)

أشكال سطح الأرض .

٥ - الغلات النقدية : (ص ٧٣)

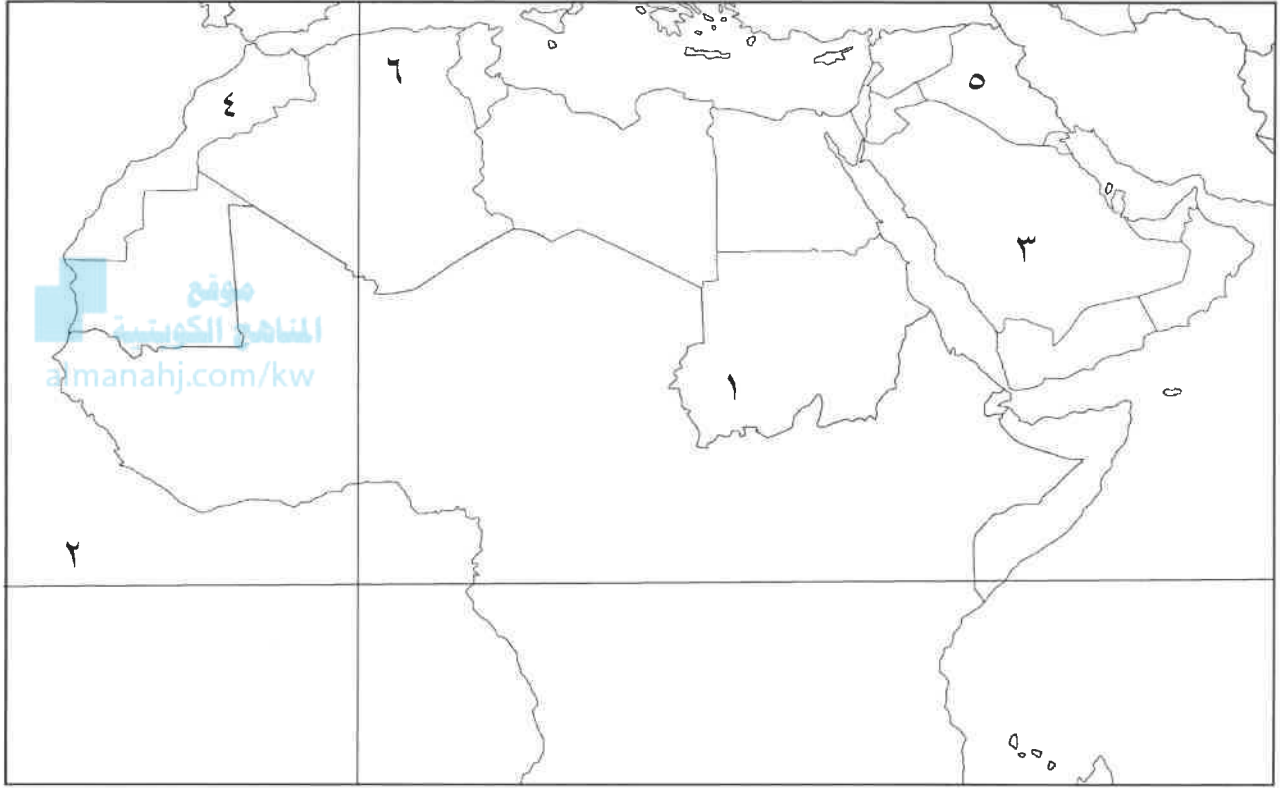
المحاصيل التي تزرع من أجل التصدير .

هـ) صوب ما تحته خط في العبارات التالية :

م	العبارة	التصويب
١-	المدينة التي يوجد بها المسجد الأموي هي القاهرة .	دمشق (ص ٣٣)
٢-	تتواجد دول العالم الإسلامي ضمن ثلاث قارات .	أربع (ص ٥١)
٣-	يقع تل وارة في دولة قطر .	الكويت (ص ٦١)
٤	نسبة انتاج العالم الإسلامي من الغاز الطبيعي من إجمالي الإنتاج العالمي ٣٠% .	٣٦% (ص ٦٧)
٥-	يعتبر القطن والجوت والمطاط الطبيعي من ضمن الحبوب .	الغلات النقدية (ص ٧٣)

و) لاحظ خريطة الوطن العربي الصماء ثم نفذ المطلوب منك :-

\* اكتب الرقم الدال على العبارات التالية :-



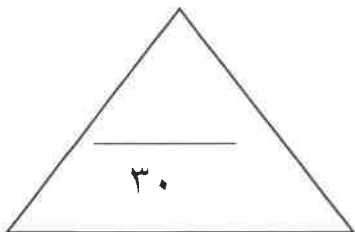
- جبل مرة يمثل على الخريطة الرقم ( ١ ) ( ص ٥٤ )

- هضبة نجد يمثلها على الخريطة الرقم ( ٣ ) ( ص ٦٥ )

- المركز العلمي " بيت الحكمة " يوجد في مدينة عربية يمثلها على الخريطة الرقم ( ٥ ) ( ص ٤١ )

- خط الاستواء يمثل على الخريطة الرقم ( ٢ ) ( ص ٦٣ )

- سهول نهر أم الربيع يمثلها على الخريطة الرقم ( ٤ ) ( ص ٥٩ )



## السؤال الثاني : ( مقال ) يتكون من ( أ - ب - ج ) :

### ( أ ) فرق بين كل من : - ( أربع درجات )

<b>الخراج ( ص ٢٨ )</b>	<b>الجزية ( ص ٢٩ )</b>
ضريبة الأرض الزراعية التي تخرج مبلغا ماليا معينا من ناتج المحصول الزراعي .	مبلغ مالي يدفعه الرجال غير المسلمين من أهل الذمة ممن هم قادرون على حمل السلاح نظير حماية الدولة لهم .
<b>المناخ ( ص ٦٤ )</b>	<b>الطقس ( ص ٦٤ )</b>
حالة الجو خلال فترة زمنية طويلة من حيث عناصره وهي درجة الحرارة والرطوبة والأمطار والضغط الجوي .	حالة الجو في مكان لمدة قصيرة تتراوح بين يوم أو عدة أيام من حيث درجة الحرارة والرطوبة والأمطار والضغط الجوي .

almanahj.com/kw

### ( ب ) علل لما يأتي :

١- تدين أوروبا بالفضل الكبير للحضارة الإسلامية . ( ص ٤٢ ) درجة لأنها كانت السبب في النهضة الصناعية والعلمية الأوروبية الحديثة .

٢- تنوع المناخ في دول العالم الإسلامي . ( ص ٦٣ ) يكتفى بنقطتين درجتين

- ١ - امتداد دول العالم الإسلامي على مساحة شاسعة .
- ٢ - الموقع بالنسبة لدوائر العرض .
- ٣ - الإطلالة على عدة مسطحات مائية في معظم أجزائه .
- ٤ - التنوع في التضاريس من جبال وهضاب وسهول ووديان .

### ( ج ) عدد ما يلي :

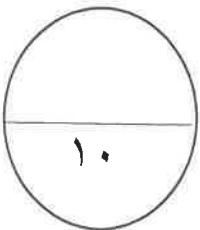
١ - أهم أنواع الثروات المعدنية في العالم الإسلامي . ( ص ٧٠ ) ( يكتفى بثلاثة نقاط ) درجة ونصف

- ١ - اليورانيوم .
- ٢ - الذهب .
- ٣ - الفضة .
- ٤ - النحاس .

- ٥ - الحديد .
- الفوسفات

٢ - خصائص الحضارة الإسلامية . ( ص ٢٢ / ٢٣ ) ( يكتفى بثلاثة نقاط ) درجة ونصف

- حضارة تسامح .
- حضارة إيمان وعمل .
- حضارة إنسانية .
- حضارة عالمية .
- حضارة شمولية .



السؤال الثالث : ( مقال ) يتكون من ( أ - ب - ج ) :

أ ) أكتب مما درست :

١ - أهمية السهول . ( ص ٥٨ ) يكتفى بنقطة درجة

- ١ - استخدامها كموانئ طبيعية .
- ٢ - تشييد المدن .
- ٣ - تركيز السكان فيها لسهولة التنقل .

٢ - العوامل التي ساعدت الإنتاج الزراعي في دول العالم الإسلامي . ( ص ٧٢ ) يكتفى بنقطتين

درجتان

- التربة الخصبة .
- المناخ .
- وجود البحيرات والأنهار والآبار .
- سقوط الأمطار .
- كثرة السكان والأيدي العاملة .

almanahj.com/kw

ب ) عرف المفاهيم والمصطلحات التالية : - درجة لكل تعريف

١ - الوقف الإسلامي . ( ص ٢٩ )

صدقة جارية يوقفها المرء في حياته لوجوه الخير والبر ويكون أجرها ونفعها ما دامت باقية ويستمر الأجر حتى بعد وفاته .

٢ - المساجد . ( ص ٣٢ )

تقام فيها الصلوات وخطبة الجمعة والتعليم الديني .

٣ - الهضبة . ( ص ٥٣ )

أرض مرتفعة سطحها مستو وتمتد لمساحة واسعة .

ج ) نفذ ما بين القوسين :

١ - المناصب الإدارية التي ظهرت مع اتساع الدولة الإسلامية . ( أذكر ) ( ص ٢٥ ) يكتفى بنقطتين درجتين

- الخليفة - الوزير - الوالي - المحتسب - القاضي

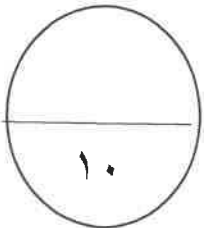
٢ - تنوع الثروات الطبيعية في العالم الإسلامي . ( علل ) ( ص ٦٧ ) درجة

لان العالم الإسلامي يمتد على مساحات شاسعة من اليابسة وذو تنوع تضاريسي ومناخي .

٣ - تتعدد مصادر إنتاج الأسماك الطبيعية في دول العالم الإسلامي . ( عدد ) ( ص ٧٤ ) درجة

- المحيطات والبحار .

- المياه العذبة .



السؤال الرابع : ( مقال ) يتكون من ( أ - ب - ج ) :-

أ ) اقرأ الفقرة التالية ثم أجب عما يليها من أسئلة :-

" منذ قيام الدولة الإسلامية في المدينة المنورة على يد سيدنا محمد - صلى الله عليه وسلم - في القرن الثامن الميلادي ، انطلق شعاع الحضارة الإسلامية ليضيء نورها شتى بقاع الأرض في كافة الميادين العلمية والثقافية والاقتصادية والسياسية والاجتماعية وغيرها من المجالات " ( ص ١٧ )

١ - من هو مؤسس الدولة الإسلامية ؟ ( درجة )

سيدنا محمد - صلى الله عليه وسلم .

٢ - في أي قرن قامت الدولة الإسلامية ؟ ( درجة )

في القرن الثامن الميلادي .

٣ - عرف ما تحته خط . ( ص ١٨ ) ( درجة )

الحضارة هي كل ما يطرأ على المجتمع من تقدم وتطور ورقي سواء في الجانب المادي ( مساجد وقصور وغيرها ) أو الجانب الروحي ( العلوم والفكر والأدب وغيرها )

٤ - أذكر أسس الحضارة الإسلامية . ( ص ٢٠ ) يكتفى بنقطتين ( درجتان )

- الدين الإسلامي - اللغة العربية - الحضارات الأخرى

ب ) دلل على صحة العبارات التالية :-

١ - ظهور العديد من الصناعات في الدولة الإسلامية . ( ص ٢٧ ) يكتفى بنقطتين ( درجتان )  
- صناعة السفن - صناعة الأسلحة - صناعة الورق - صناعة الأدوية - صناعة المنسوجات - صناعة الخزف والمعادن - الصناعات الخشبية . ( الأرابيسك )

ج ) أذكر ما يلي :-

١ - جهود المسلمين في الزراعة . ( ص ٢٦ ) يكتفى بنقطة ( درجة )

- شق القنوات المائية والترع . - إقامة السدود . - تنظيم وسائل الري .

٢ - مميزات المظاهر العمرانية في الحضارة الإسلامية . ( ص ٣٠ ) يكتفى بنقطتين ( درجتان )

- الأسوار . - القباب . - المآذن . - المنابر . - الزخارف .

" انتهت الإجابة "