

تم تحميل هذا الملف من موقع المناهج الكويتية




محمد البلاطي

الملف إجابة أسئلة اختبار القصير الأول من منصة البلاطي

[موقع المناهج](#) ← [المناهج الكويتية](#) ← [الصف السابع](#) ← [اجتماعيات](#) ← [الفصل الثاني](#)

روابط مواقع التواصل الاجتماعي بحسب الصف السابع



روابط مواد الصف السابع على تلغرام

[الرياضيات](#)

[اللغة الانجليزية](#)

[اللغة العربية](#)

[التربية الاسلامية](#)

المزيد من الملفات بحسب الصف السابع والمادة اجتماعيات في الفصل الثاني

مذكرة موضوعية محلولة	1
حل الكتاب	2
حل الوحدة الرابعة في مادة الاجتماعيات	3
بنك اسئلة التربة سابع	4
مراجعات الصف السابع	5

توقعات ليلة الامتحان إجابة امتحانات تجريبية قصير (أ)



الدراسات الاجتماعية
الكويت والوطن العربي
الفصل الدراسي الثاني
2024 - 2025

10

اسم الطالب/ نموذج (1)
الشعبة/

5

السؤال الأول:

أكمل العبارات التالية بما يناسبها:

- ١ أكثر الدول العربية في إنتاج التمور هي. (السعودية)
- ٢ تبلغ المساحة المزروعة في الوطن العربي. (56%)
- ٣ الدولة العربية الأولى في إنتاج الحديد هي. (موريتانيا)
- ٤ تزايد عدد السكان من عام لآخر نتيجة للزيادة الطبيعية والغير طبيعية. (النمو السكاني)
- ٥ أكبر تجمع للسكان في الوطن العربي يكون حول. (الأنهار ومصادر المياه)

3

السؤال الثاني:

علل لما يأتي :

- ١ تقوم الدولة بإجراء تعداد سكاني مستمر.
- ٢ تختلف أنواع المنتجات من دولة عربية إلى أخرى.

2

السؤال الثالث:

عرف المفاهيم التالية:

- ١ غلات نقدية:
- المياه هي الغلات التي تدخل في الصناعة وتزدحم بغرض التجارة والحصول على النقد.
- ٢ الطاقة:
- قوى محركة للآلات وعنصر مهم للتقدم الاقتصادي في جميع المجالات.

مع أطيب التمنيات بالنجاح والتوفيق

10

اسم الطالب / نموذج (2)
الشعبة /

3

السؤال الأول:

(أ) اختر الإجابة الصحيحة علمياً لكل من العبارات التالية بوضع علامة (✓) في المربع المقابل لها:

1 - تأسست منظمة الأوبك في عام:

(✓) 1960م () 1970م () 1980م () 1990م

2 - أولى الدول العربية في إنتاج الغاز الطبيعي هي:

() موريتانيا () السعودية () مصر (✓) قطر

3 - تستخدم مواد أولية محلية وتعتمد على المجهود البشري هي:

(✓) صناعات حرفية () صناعات تعدينية () صناعات تحويلية () صناعات تجميعية

2

السؤال الثاني:

اكتب المصطلح العلمي الدال على العبارات التالية:

١ عمليتي التصدير والاستيراد بين الدول. (التبادل التجاري)

٢ الثروات التي منحها الله لاقليم من دون أن يكون للإنسان دور في وجودها. (الموارد الطبيعية)

5

السؤال الثالث:

(أ) عدد الأتي :

١ عدد مقومات الإنتاج الزراعي.

١ مقومات طبيعية ٢ مقومات بشرية

٢ الوسائل التي تجعل الثروة الحيوانية قابلة للزيادة والنمو.

١ رعاية الانسان لها ٢ تحسين أنواعها

٣ أنواع الموارد الطبيعية.

١ الثروات المعدنية. ٢ الغابات.

٣ موقع الاقليم. ٤ الموارد المائية. ٥ المراعي.

مع أطيب التمنيات بالنجاح والتوفيق

نموذج (3)

الشعبة /

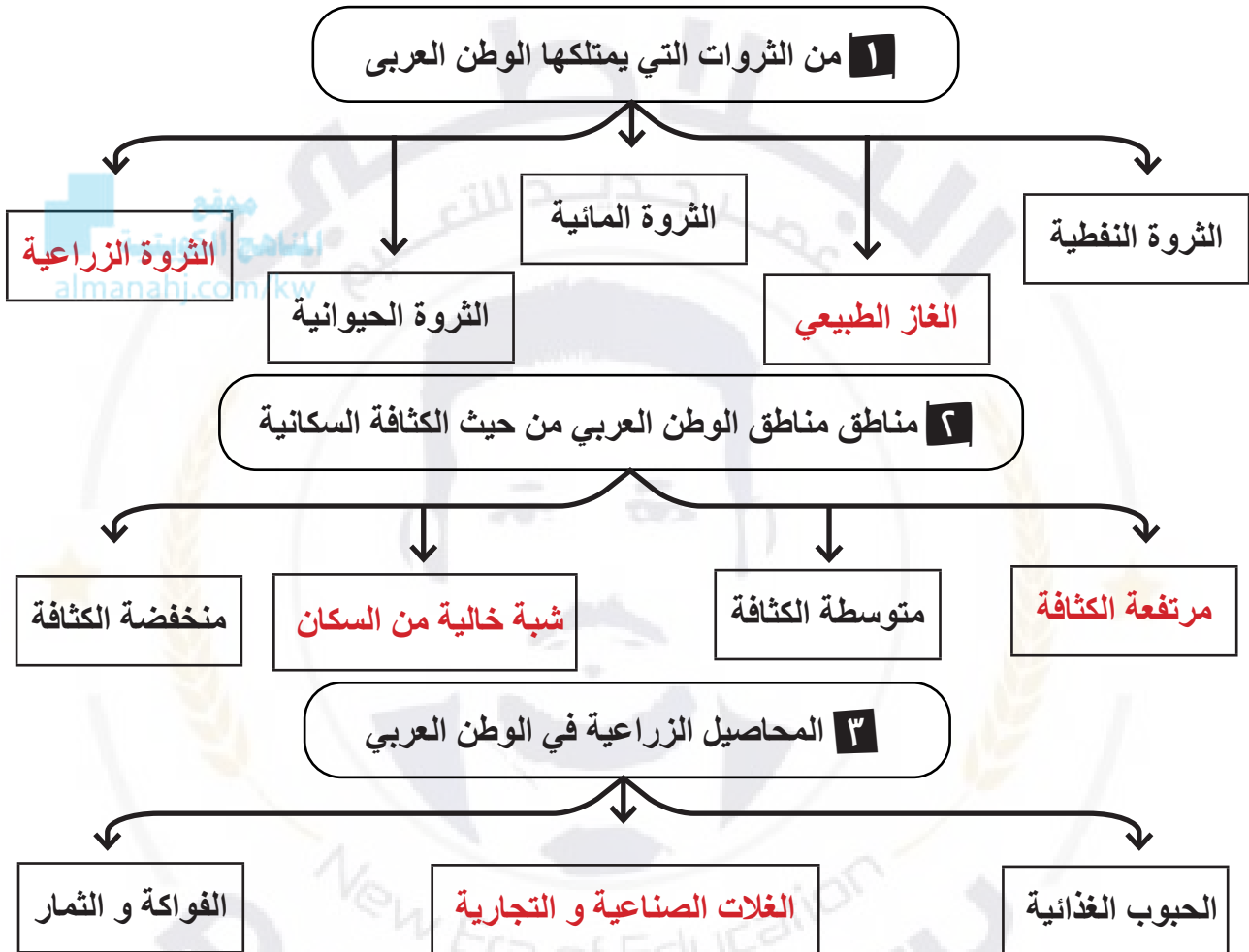
اسم الطالب /

10

5

السؤال الأول:

أكمل المخططات السهمية الآتية:



السؤال الثاني:

قارن بين كلاً مما يلي

وجه المقارنة	منظمة الوبك	منظمة الاوابك
المفهوم	منظمة الاقطار المصدرة للنفط	منظمة البلدان العربية المصدرة للنفط
سنة التأسيس	عام ١٩٦٠م.	عام ١٩٦٨
عدد الدول	11 دولة	11 دولة
الاهداف	الحرض على استقرار اسعار النفط في الاسواق العالمية	تامين وصول النفط إلى الاسواق الاستهلاكية
الاجان و الاجهزة	مؤتمر مجلس المحافظين- الامانة العامة	مجلس الوزراء - المكتب التنفيذي - الامانة العامة

مع أطيب التمنيات بالنجاح والتوفيق

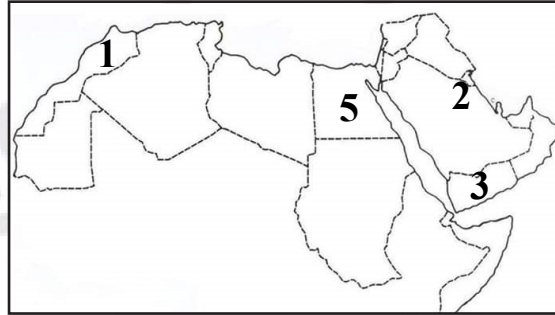
10

اسم الطالب / نموذج (4)
الشعبة /

5

السؤال الأول:

لاحظ خريطة الوطن العربي الصماء التي أمامك نفذها يطلب منك:



- ١ الدولة الأولى في إنتاج السمك تحمل الرقم 5. (مصر)
- ٢ الدولة الأولى في إنتاج المعادن تحمل الرقم 1. (المغرب)
- ٣ الدولة التي تنفرد بزراعة محصول البن و تحمل على الخريطة الرقم 3. (اليمن)
- ٤ الدولة التي توجد بها مقر منظمة الأوبك تحمل على الخريطة الرقم 2. (الكويت)
- ٥ أولى الدول العربية في إنتاج النفط واحتياطية تسمى. (السعودية)

3

السؤال الثاني:

علل لما يأتي :

- ١ قلة حجم النقل النهري بالنسبة لباقي وسائل النقل.
- ٢ لقلة الانهار.
- ٣ معظم صادرات دول الخليج العربية من النفط.
- ١ لقلة مصانع التكرير.
- ٣ يعد النفط والغاز الطبيعي من أهم مصادر الطاقة.
- ١ لأهمية لاقتصاد الدول العربية.

2

السؤال الثالث

قارن بين كلا مما يلي:

الزيادة الطبيعية	الزيادة غير الطبيعية	وجه المقارنة
هي الزيادة الناتجة عن الهجرة.	هي الفرق بين معدل المواليد و الوفيات.	المفهوم

مع أطيب التمنيات بالنجاح والتوفيق

نموذج (5)

الشعبة /.....

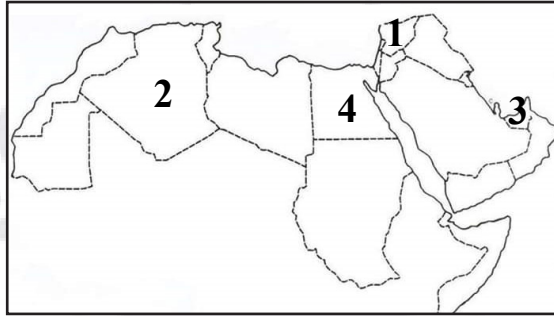
اسم الطالب /.....

10

5

السؤال الأول:

لاحظ خريطة الوطن العربي الصماء التي أمامك نفذها يطلب منك:



- ١ الدولة التي تعاني من سوء توزيع السكان و تحمل الرقم (4). (مصر)
- ٢ أكبر دوله عربية من حيث المساحة و تحمل الرقم (2). (الجزائر)
- ٣ اولى الدول في انتاج العنب و تحمل الرقم (1). (سوريا)
- ٤ اولى الدول العربية في إنتاج الابل تسمى. (الصومال)
- ٥ اولى الدول العربية في انتاج الغاز الطبيعي و تحمل الرقم (3). (قطر)

السؤال الثاني:

علل لما يأتي :

- ١ أهداف الصناعات البتروكيميائية.
- ٢ تنويع مصادر الدخل. ٢ توفير المواد الأولية للصناعات التحويلية.
- ٣ اسباب هجرة الايدي العاملة من بعض دول آسيا للبلاد العربية.
- ١ لتوفر فرص العمل وارتفاع الاجور.
- ٣ ماذا يحدث عند زيادة عدد السكان عن موارد الدولة الاقتصادية.
- ١ ينخفض دخل الفرد وترتفع أسعار الخدمات.
- ٤ المشكلات التي تعاني منها الزراعة في الوطن العربي.
- ١ عدم توفر الوسائل الحديثة. ٢ التصحر وقلة المياه الايدي العاملة المدرسة.

مع أطيب التمنيات بالنجاح والتوفيق

10

اسم الطالب/ نموذج (6)
الشعبة/

5

السؤال الأول:

(أ) اختر الإجابة الصحيحة علمياً لكل من العبارات التالية بوضع علامة (✓) في المربع المقابل لها:

1 - من أكثر الدول العربية المهددة بالتصحّر:

(✓) السودان () لبنان () فرنسا () النيجر

2 - عقد مؤتمر قمة الأرض عام ١٩٩٢م في دولة تسمى:

() ألمانيا () الكويت () المكسيك (✓) البرازيل

3 - تأسس الصندوق الكويتي للتنمية في عهد الشيخ:

(✓) عبد الله السالم () صباح الاحمد () نواف الاحمد () جابر الاحمد

4 - الغاز المسؤول عن زيادة حرارة الأرض هو:

() الأكسجين () الهيليوم () النيتروجين (✓) ثاني أكسيد الكربون

5 - تأسس صندوق أبوظبي للإنماء الاقتصادي العربي عام:

() 1961م (✓) 1971م () 1981م () 1991م

السؤال الثاني:

عدد الأتي :

5

١ أهداف الصندوق الكويتي للتنمية.

١ تقديم القروض الميسرة للدول المحتاجة.

٢ تقديم كافة المساعدات المادية لقضايا العالم العربي والإسلامي.

٣ المساهمة في تطوير التنمية في العالم العربي والإسلامي.

٢ أهداف التنمية الاقتصادية.

١ استخدام العلم في زيادة الانتاج.

٢ تحقيق التكامل بين الدول العربية.

10

اسم الطالب/ نموذج (7)
الشعبة /.....

5

السؤال الأول:

ضع علامة (✓) بعد العبارة الصحيحة وعلامة (X) بعد العبارة غير الصحيحة فيما يأتي:

- ١ تأتي 50% من الموارد المائية في العالم العربي من خارج حدوده. (صح)
- ٢ صاحب فكرة إنشاء الصندوق الكويتي للتنمية هو الشيخ عبد الله السالم. (خطأ)
- ٣ عقد مؤتمر المانحين لدعم الوضع في سوريا في دولة المغرب. (خطأ)
- ٤ الطبقة الغازية المسؤولة عن حماية الارض من الاشعة الفوق بنفسجية هي طبقة الاوزون. (صح)
- ٥ انصمت دولة الكويت جامعة الدول العربية في عام ١٩٦١م. (صح)

2

السؤال الثاني:

فسر المفاهيم التالية :

- ١ التصحر:
- ٢ زحف رمال الصحراء على المناطق الحافة وشبه الجافة.
- ٣ التنمية المستدامة:
- هي عبارة عن برامج تحسين نوعية الحياة ولا تتحقق إلا بمشاركة جميع المواطنين.

3

السؤال الثالث

علل لما يلي:

- ١ عدم استغلال الأراضي القابلة للزراعة.
- لندرة مياه الري أو تذبذب الامطار وقلة الايدي العاملة.
- ٢ موقع الوطن العربي يعرضه للتصحّر.
- بسبب وقوعه في المناطق الجافة وشبه الجافة.
- ٣ هجرة الشباب والعلماء العرب إلى الخارج.
- عدم اتاحة الفرص وعدم توفير الدعم.

10

اسم الطالب/ نموذج (8)
الشعبة/

السؤال الأول:

3

اختر من المجموعة (٢) ما يناسبها من المجموعة (٣) بكتابة الرقم المناسب:

م	المجموعة (٢)	الرقم	المجموعة (٣)
١	تعرض قطاع غزة للغزو من قبل.	-	السعودية
٢	الضرر الذي يلحق بالتربة والهواء والماء.	٣	الكويت
٣	الدولة العربية التي تحتل المركز الثالث في انتاج النفط.	٢	التلوث
٤	-----	١	الاحتلال الاسرائيلي

السؤال الثاني:

2

صنف المقومات الصناعية التالية حسب مكانها في الجدول الذي يليها :

(غاز طبيعي - معدنية - بترول - حيوانية)	
الطاقة	مواد خام
غاز طبيعي - بترول	معدنية - حيوانية

السؤال الثالث

عدد لما يلي:

5

١ أنواع طرق النقل في الوطن العربي.

١ طرق النقل البرية. ٢ طرق النقل المائية.

٢ أنواع الهجرة.

١ هجرة داخلية. ٢ هجرة خارجية.

٣ فسر التجارة البيئية:

هي التبادل التجاري بين الدول العربية.

مع أطيب التمنيات بالنجاح والتوفيق

10

اسم الطالب / نموذج (9)
الشعبة /

5

السؤال الأول:

(ا) اختر الإجابة الصحيحة علمياً لكل من العبارات التالية بوضع علامة (✓) في المربع المقابل لها:

- 1 - العام الذي استضافة فيه دولة الكويت أكبر وأهم مؤتمر قمة عربية اقتصادية تنموية:
() 2006م () 2007م () 2008م (✓) 2009م
- 2 - تبلغ نسبة سكان الوطن العربي في القارة الآسيوية:
() 10% () 20% (✓) 30% () 40%
- 3 - الدولة العربية التي تحتل المركز الأول في إنتاج البن:
() السعودية (✓) اليمن () مصر () الصومال
- 4 - الدولة العربية الأولى في إنتاج الغاز الطبيعي:
() السعودية () البحرين () الجزائر (✓) قطر
- 5 - العام الذي تأسست فيه منظمة الدول المصدرة للنفط أوبك:
(✓) 1960م () 1961م () 1962م () 1963م

5

السؤال الثاني:

علل لما يلي:

- 1 تحتل الأغنام العربية مكاناً مهماً ضمن الثروة الرعوية.
1 الأكثر انتشاراً في المراعي العربية. 2 لأهمية منتجاتها بالنسبة للسكان.
- 2 تختلف أنواع المنتجات الزراعية من دولة عربية إلى أخرى.
بسبب اختلاف المناخ والتربة ومدى توافر موارد المياه.
- 3 تدني وفرة المياه في الوطن العربي.
1 النمو السريع للسكان. 2 الطرق التقليدية المستخدمة في استغلال المياه.

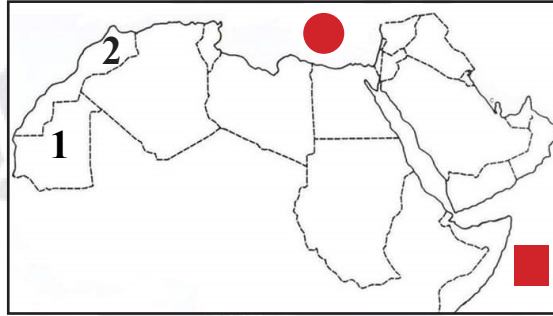
10

اسم الطالب/
نموذج (10)
الشعبة /

5

السؤال الأول:

لاحظ خريطة الوطن العربي الصماء التي أمامك نفذها يطلب منك:



- ١ الدولة العربية التي تحتل المرتبة الأولى في إنتاج معدن الحديد يمثلها على الخريطة الرقم.
- ٢ الدولة العربية التي تحتل المرتبة الأولى في إنتاج معدن الفوسفات يمثلها على الخريطة.
- ٣ حدد علي الخريطة باستخدام الرمز ■ المحيط الهندي
- ٤ حدد علي الخريطة باستخدام الرمز ● البحر المتوسط
- ٥ أولى الدول العربية في إنتاج النفط واحتياطية تسمى.

(السعودية)

السؤال الثاني:

دال على صحة العبارات التالية:

- ١ يتمتع النفط العربي بمكانة مهمة على المستوى العالمي.
- ٢ لأهمية الدول المتقدمة.
- ٣ للمكونات مساهمات كبيرة في العمل العربي المشترك.
- ٤ المساهمات الاقتصادية.
- ٥ الصندوق الكويتي للتنمية الاقتصادية العربية.

السؤال الثالث

أجب عما يلي:

- ١ اقترح حلولاً لمشكلة قلة وانخفاض الإنتاج الزراعي في الوطن العربي.
- ٢ زيادة الإنتاج عن طريق الاساليب العلمية.
- ٣ زيادة المساحة المزروعة.



احرص على اقتناء سلسلة منصة البلاطي

- كتاب الشرح.
- كتاب الأسئلة.
- كتاب إجابة الأسئلة.
- المراجعة النهائية (الأسئلة - الإجابة).
- توقعات ليلة الامتحان (الأسئلة - الإجابة).
- كبسولة ليلة الامتحان.
- برشامة ليلة الامتحان.

موقع
المنهج الكويتية
almanahj.com/kw



7 الدراسات الاجتماعية الكويت

والوطن العربي

الفصل الدراسي الثاني

2025 - 2024

استمتع بتجربة التعلم
مع منصة البلاطي

