

تم تحميل هذا الملف من موقع المناهج الكويتية



الملف نموذج 6 للاختبار التحصيلي الأول

[موقع المناهج](#) ⇌ [المناهج الكويتية](#) ⇌ [الصف الأول](#) ⇌ [رياضيات](#) ⇌ [الفصل الثاني](#)

روابط مواقع التواصل الاجتماعي بحسب الصف الأول



روابط مواد الصف الأول على تلغرام

الرياضيات	اللغة الانجليزية	اللغة العربية	التربية الاسلامية
---------------------------	----------------------------------	-------------------------------	-----------------------------------

المزيد من الملفات بحسب الصف الأول والمادة رياضيات في الفصل الثاني

لوراق عمل	1
مذكرة الوحدة السابعة	2
توزيع مقترح لمنهج الرياضيات	3
لوراق عمل	4
نموذج اختبار أول	5



الاختبار التحصيلي الأول للصف الأول

الفصل الدراسي الثاني للعام الدراسي 2024-2025

بنود الاختبار	توزيع درجات الاختبار		درجة الاختبار	مدة الاختبار	موعد الاختبار
	مقالي	موضوعي			
الوحدة الثامنة من البنود : (٦-٨) إلى (٩-٨) + الوحدة التاسعة + الوحدة العاشرة من البنود : (١-١٠) إلى (٧-١٠)	١٥	٥	٢٠ درجة	حصة دراسية	الأسبوع ٨

إشراف الموجهة الفنية : أ. ليلى سالم




نموذج (١)
الاختبار التحصيلي (١)
للفصل الأول في مادة الرياضيات
الفصل الدراسي الثاني للعام الدراسي ٢٠٢٤ / ٢٠٢٥ م



السؤال الأول :

أ/ حل المسألة .

ب/ أكمل .


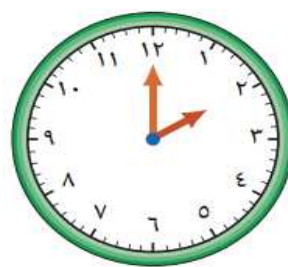




أطعم جاسم ٦ و ٧ .
كم عدد الدجاجات التي أطعمها جاسم؟

----- = ----- + -----

السؤال الثاني :

أ/ أكتب الوقت .

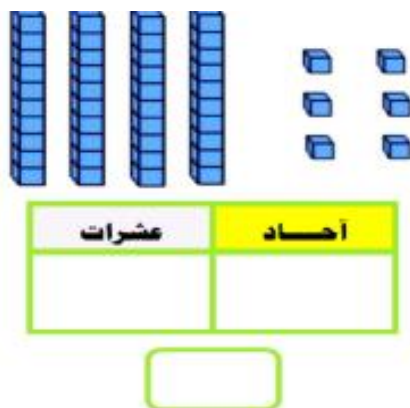


ب/ أكمل . عدد الأشهر في السنة الميلادية ----- شهراً .

السؤال الثالث :

أ/ قارن . اكتب رمز العلاقة المناسب (> أو < أو =)

ب/ أكتب رمز العدد .



٨٥ ○ ٩٣
١٩ ○ ١٩
٩٠ ○ ٨٠

السؤال الرابع :

(١) صل بالعدد المجهول

٣

٦

٤

$$١٣ = \square + ١٠$$



(٢) حوظ . الشهر الذي يصوم فيه المسلمون

رجب

رمضان

شعبان

(٣) حوظ التقدير المناسب



أكثر من ١٠ تقريباً

أقل من ١٠ تقريباً

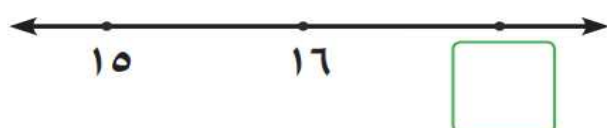
(٤) حوظ العشرة الأقرب إلى العدد ٧٩



٨٠

٦٠

٧٠



(٥) العدد الذي يأتي بعد العدد مباشرة

٢٠

١٧

١٩

-انتهت الأسئلة -

الإدارة العامة للتعليم الخاص - توجيه الرياضيات


إجابة نموذج (١)
الاختبار التحصيلي (١)
للفصل الأول في مادة الرياضيات
الفصل الدراسي الثاني للعام الدراسي ٢٠٢٤ / ٢٠٢٥ م

السؤال الأول :

أ/ حل المسألة .


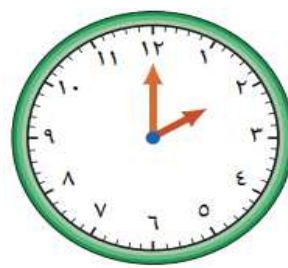

ب/ أكمل .

أطعم جاسم ٦ ، و ٧ .
كم عدد الدجاجات التي أطعمها جاسم؟
----- = ----- + -----
٦ ٧ ١٣



السؤال الثاني :

أ/ أكتب الوقت .



ب/ أكمل . عدد الأشهر في السنة الميلادية ----- ١٢ ----- شهراً .

السؤال الثالث :

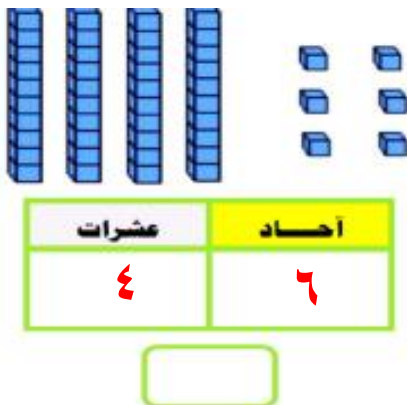
أ/ قارن . اكتب رمز العلاقة المناسب (> أو < أو =)

٨٥ < ٩٣

١٩ = ١٩

٩٠ > ٨٠

ب/ أكتب رمز العدد .



السؤال الرابع :

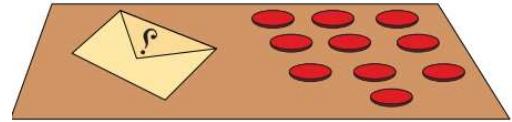
(٢) صل بالعدد المجهول

٣

٦

٤

$$١٣ = \square + ١٠$$



(٢) حوِّط . الشهر الذي يصوم فيه المسلمون

رجب

رمضان

شعبان

(٣) حوِّط التقدير المناسب



أكثر من ١٠ تقريباً

أقل من ١٠ تقريباً

(٤) حوِّط العشرة الأقرب إلى العدد ٧٩

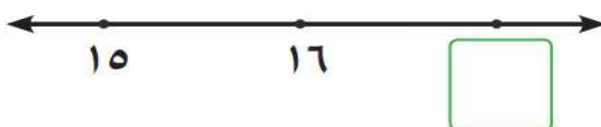


٨٠

٦٠

٧٠

(٥) العدد الذي يأتي بعد العدد مباشرة



٢٠

١٧

١٩

-انتهت الأسئلة -

الإدارة العامة للتعليم الخاص - توجيه الرياضيات



نموذج (٢)
الاختبار التحصيلي (١)
للفصل الأول في مادة الرياضيات
الفصل الدراسي الثاني للعام الدراسي ٢٠٢٤ / ٢٠٢٥ م

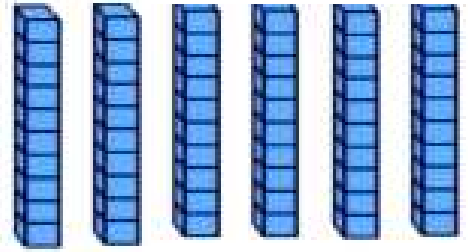


السؤال الأول :

(ب) اكتب الوقت .

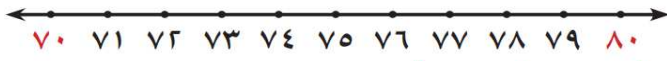


(أ) اكتب رمز العدد .



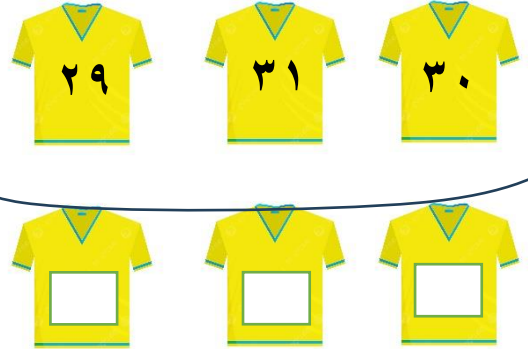
السؤال الثاني :

(ب) اكمل (بإمكانك استخدام خط الأعداد).



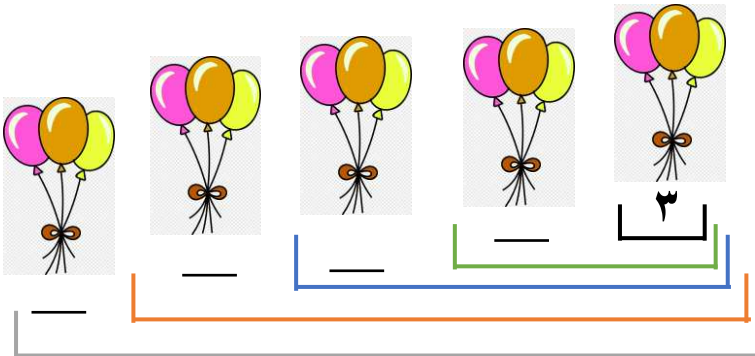
العدد ٧٩ أقرب الى العدد _____

(أ) رتب الأعداد التالية من الأكبر الى الأصغر.



السؤال الثالث :

(ب) أكمل .



(أ) حل المسائل .

١٦ طائر على الشجرة


٥ طار منها

كم بقي على الشجرة ؟

_____ = _____ _____

السؤال الرابع :

(١) حوط ما يمثل النصف



(٢) لون الشهر الأول من السنة الهجرية

محرم

رمضان

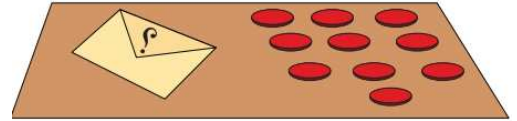
(٣) صل بالعدد المجهول

٣

٦

٤

$$١٦ = \square + ١٠$$




(٤) حوط التقدير المناسب



أكثر من ١٠ تقريباً

أقل من ١٠ تقريباً

(٥) حوط رمز العدد



٦٢

٦٢

-انتهت الأسئلة -

الإدارة العامة للتعليم الخاص - توجيه الرياضيات



إجابة نموذج (٢)
الاختبار التحصيلي (١)
للفصل الأول في مادة الرياضيات
الفصل الدراسي الثاني للعام الدراسي ٢٠٢٤ / ٢٠٢٥ م



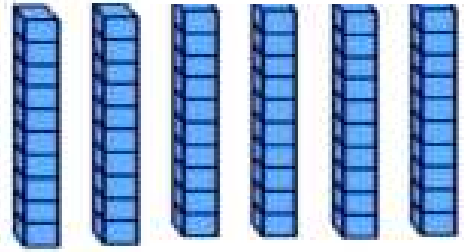
السؤال الأول :

(ب) اكتب الوقت .



٩ : ٠٠

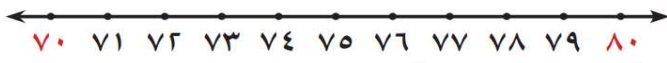
(ب) اكتب رمز العدد .



٦٠

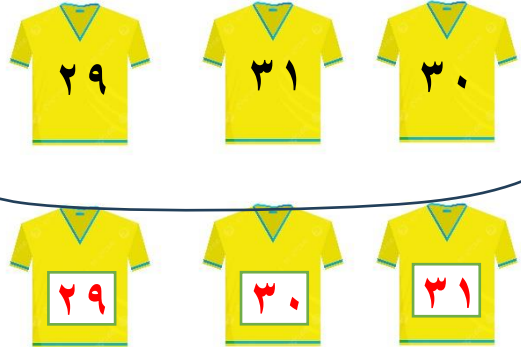
السؤال الثاني :

(ب) اكمل (بإمكانك استخدام خط الأعداد).



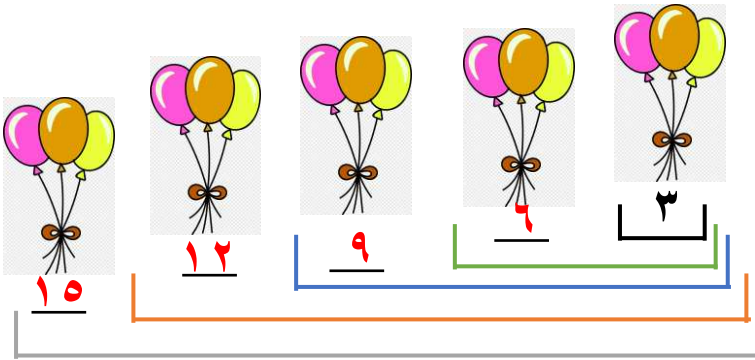
العدد ٧٩ أقرب الى العدد ٨٠

(أ) رتب الأعداد التالية من الأكبر الى الأصغر.



السؤال الثالث :

(ب) أكمل .



(ب) حل المسائل .

١٦ طائر على الشجرة


٥ طار منها

كم بقي على الشجرة ؟

١٦ - ٥ = ١١

السؤال الرابع :

(٦) حوط ما يمثل النصف



(٧) لون الشهر الأول من السنة الهجرية

محرم

رمضان

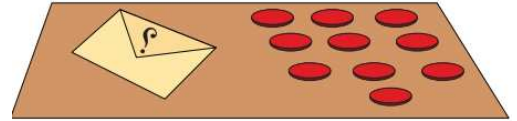
(٨) صل بالعدد المجهول

٣

٦

٤

$$١٦ = \square + ١٠$$



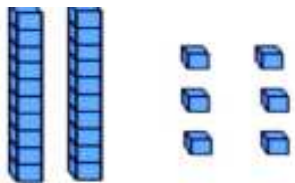
(٩) حوط التقدير المناسب



أكثر من ١٠ تقريباً

أقل من ١٠ تقريباً

(١٠) حوط رمز العدد



٢٢

٢٦

-انتهت الأسئلة -

الإدارة العامة للتعليم الخاص - توجيه الرياضيات