

تم تحميل هذا الملف من موقع المناهج الكويتية



الملف أسئلة منطقة الجهراء التعليمية

[موقع المناهج](#) ← [المناهج الكويتية](#) ← [الصف السابع](#) ← [اجتماعيات](#) ← [الفصل الثاني](#)

روابط مواقع التواصل الاجتماعي بحسب الصف السابع



روابط مواد الصف السابع على تلغرام

[الرياضيات](#)

[اللغة الانجليزية](#)

[اللغة العربية](#)

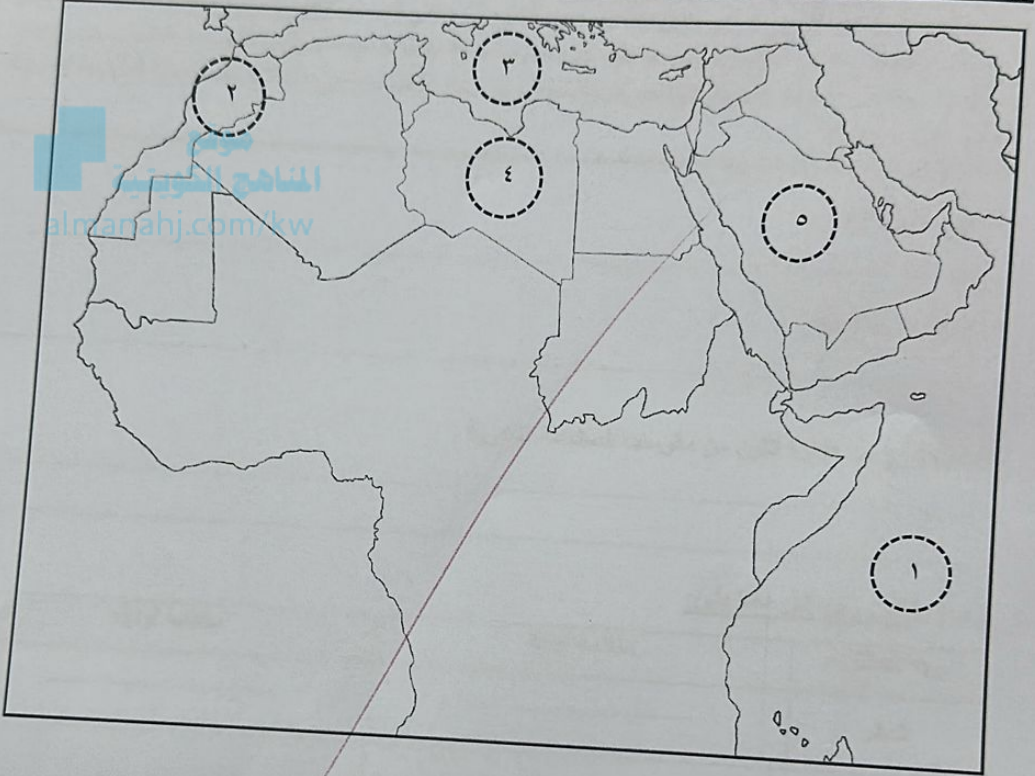
[التربية الاسلامية](#)

المزيد من الملفات بحسب الصف السابع والمادة اجتماعيات في الفصل الثاني

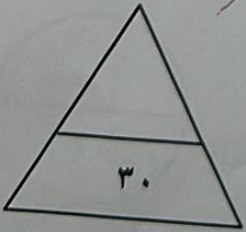
مذكرة موضوعية محلولة	1
حل الكتاب	2
حل الوحدة الرابعة في مادة الاجتماعيات	3
بنك اسئلة التربة سابع	4
مراجعات الصف السابع	5

تابع / السؤال الأول موضوعي:

(و) - لاحظ خريطة الوطن العربي ثم اكتب مدلولات الأرقام على العبارات التالية:



- الدولة العربية الأولى في إنتاج التمور يمثلها على الخريطة الرقم
- الدولة العربية الأولى في إنتاج الرصاص يمثلها على الخريطة الرقم
- البحر المتوسط يمثلها على الخريطة الرقم
- المحيط الهندي يمثلها على الخريطة الرقم



مجموع السؤال الأول بالحروف



وزارة التربية .
الإدارة العامة لمنطقة الجهوراء التعليمية .
التوجيه الفني للاجتماعيات .

العام الدراسي: ٢٠٢٤ / ٢٠٢٥ م
الزمن: ساعة وخمسة وأربعون
عدد الأوراق: ٦

امتحان الفترة الدراسية الثانية
لمقرر الكويت والوطن العربي
للمصف السابع المتوسط

أجب عن جميع الأسئلة

- السؤال الأول (موضوعي) يتكون من (أ - ب - ج - د - هـ - و):

(أ) - صوب ما تحته خط في العبارات التالية بكتابة الإجابة الصحيحة:

م	العبارة	التصويب
١	الدولة العربية التي استضافت القمة العربية الاقتصادية والتنمية والاجتماعية عام ٢٠٠٩ م قطر .	-----
٢	غاز مصاحب للنفط الخام أو يوجد منفرداً، تتم إسالته لاستخدامات عديدة <u>الميثان</u> .	-----
٣	بلغت نسبة المساحة المزروعة في الوطن العربي من المساحة القابلة للزراعة حوالي <u>٥٤%</u> .	-----
٤	عقد مؤتمر قمة الأرض في مدينة ريودي جانيرو عام <u>١٩٩٥</u> م .	-----
٥	الغاز الناتج عن عوادم السيارات ويؤدي إلى ارتفاع متزايد في درجة حرارة الأرض <u>الهيدروجين</u>	-----

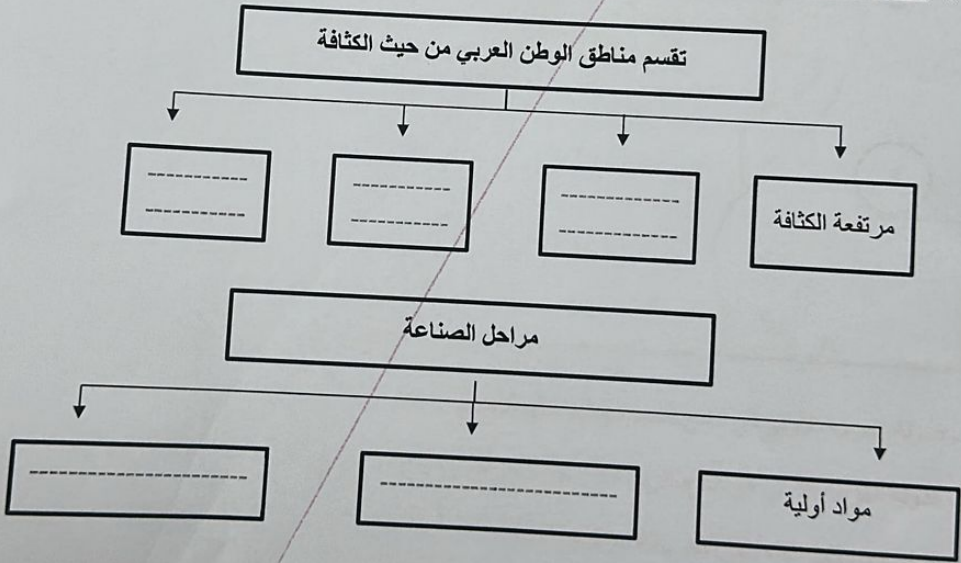
(ب) - ضع خطأ تحت الخيار الصحيح من بين الخيارات التي تلي كل عبارة :

- ١ - عدد الدول التي يتألف منها الوطن العربي :
٢١ دولة - ٢٢ دولة - ٢٣ دولة - ٢٤ دولة
- ٢ - الصناعات الأولى في العالم وتستخدم مواد أولية محلية وتعتمد على المجهود البشري :
التجميعية - الحرفية - التحويلية - التعدينية
- ٣ - بلغت نسبة احتياطي النفط الخام في الوطن العربي :
٢٥% - ٣٥% - ٤٥% - ٥٥%
- ٤ - تعتبر الشمس والرياح والمياه من مصادر الطاقة:
البشرية - الصناعية - البديلة - الناضبة
- ٥ - يقتصر النقل النهري في الوطن العربي على نهري دجلة والفرات ونهر:
النيل - شلبي - جوبا - أم الربيع

تابع / السؤال الأول موضوعي :
(ج) - اختر من المجموعة (أ) ما يناسبها من المجموعة (ب) بوضع الرقم في المكان المناسب:

م	المجموعة (أ)	المكان المناسب	المجموعة (ب)
١	الدولة العربية التي تحتل المرتبة الأولى في إنتاج الأبل .	-----	الجزائر
٢	أكبر دول الوطن العربي من حيث المساحة .	-----	موريتانيا
٣	الدولة العربية الأولى في إنتاج الحديد .	-----	مصر
٤	الدولة العربية الأولى في الإنتاج السمكي .	-----	السعودية
٥	الدولة العربية الأولى في إنتاج النفط الخام .	-----	السودان
		-----	الصومال

(د) - أكمل المخططات السهمية التالية:



(هـ) - صنف المحاصيل الزراعية التالية في مكانها المناسب في الجدول الذي يليها:

(النرة (الشامية) - البن - الموز - الأرز - قصب السكر - العنب)

الحبوب الغذائية	الغلات الصناعية	الفواكه والأشجار
-----	-----	-----
-----	-----	-----

-السؤال الثاني (مقال) يتكون من (أ - ب - ج) .

(أ) - اقرأ الفقرة التالية ثم أجب عما يليها من أسئلة:

تقوم الصناعة في الوطن العربي على مجموعة من المقومات والتي تسمى مقومات الصناعة والتي تنقسم إلى مقومات طبيعية ومقومات بشرية وساعد ذلك على قيام صناعة حديثة وناجحة، وكان للمقومات البشرية من رؤوس الأموال، والأيدي العاملة، والمهارة والخبرة، والسوق، ووسائل النقل دور في استثمار المقومات الطبيعية المتمثلة بالمواد الخام والطاقة.

١- ضع عنواناً للفقرة.

٢- عرف ما تحته خط .

٣- استخرج من الفقرة اثنتين من مقومات الصناعة البشرية .

(ب) - قارن بين كل مما يلي:

وجه المقارنة	منظمة أوبك	منظمة أوابك
المقر	-----	-----
سنة التأسيس	م -----	م -----

(ج) - عرف المفاهيم أو المصطلحات التالية:

١ - التنمية المستدامة :

٢ - التلوث :

مجموع السؤال الثاني بالحروف

-السؤال الرابع (مقالى) يتكون من (أ - ب - ج)

٠ (أ) - لاحظ الشكل المقابل ثم أجب عن الأسئلة التالية :
١- كم عدد الأعضاء المؤسسين لهذه المنظمة؟

٢- اذكر اثنان من أهداف هذه المنظمة.

٠ (ب) - أذكر نقطتين لكل مايلي:
١- أسباب التصحر.

٢- أهداف التنمية البشرية في الوطن العربي.

٠ (ج) - برهن على صحة العبارة التالية:

* - ساهمت الصناديق الإنمائية العربية في مشاريع التنمية العربية.

مجموع السؤال الرابع بالحروف

١٠

انتهت الأسئلة؟؟؛ نرجو لكم النجاح والتوفيق...

السؤال الثالث (مقالى) يتكون من (أ - ب - ج)

(أ) - فرق بين كل مما يلي:

الزيادة السكانية الطبيعية	الزيادة السكانية الغير طبيعية
<hr/> <hr/>	<hr/> <hr/>

(ب) - علل لما يلي:

١- تدني وفرة المياه في الوطن العربي.

٢- اختلاف أنواع المنتوجات الزراعية من دولة عربية إلى أخرى.

(ج) - عدد لكل مما يلي:

١- أهم الصناعات التحويلية.

٢- المساهمات التي يقوم بها الصندوق الكويتي للتنمية الاقتصادية العربية .