

تم تحميل هذا الملف من موقع المناهج الكويتية



محمد البلاطي

الملف أسئلة اختبار القصير الأول من منصة البلاطي

[موقع المناهج](#) ⇨ [المناهج الكويتية](#) ⇨ [الصف السادس](#) ⇨ [علوم](#) ⇨ [الفصل الثاني](#)

روابط مواقع التواصل الاجتماعي بحسب الصف السادس



روابط مواد الصف السادس على تلغرام

[الرياضيات](#)

[اللغة الانجليزية](#)

[اللغة العربية](#)

[التربية الاسلامية](#)

المزيد من الملفات بحسب الصف السادس والمادة علوم في الفصل الثاني

بنك أسئلة	1
دليل المعلم	2
دليل المعلم	3
كتاب الطالب 6	4
تحضير درس مخطط جسمك	5



الفصل الدراسي الثاني



نموذج (1)

الشعبة

8

اسم الطالب /

السؤال الأول

اختر الإجابة الصحيحة علمياً لكل من العبارات التالية بوضع علامة (✓) في المربع المقابل لها: 2 درجة

1 - خلية طوبلة رقيقة كثيرة التفرع، مما يساعدها في نقل الإشارات بين أجزاء الجسم :

() خلايا عضلية () كريات الدم الحمراء

() خلايا عصبية () خلايا الجلد

2 - مجموعة الأنسجة التي تعمل متضافرة لتأدية وظائف معينة تكون :

() خلية () نسج

() عضو () جهاز

اكتب بين القوسين كلمة (صحيحة) أمام العبارة الصحيحة و كلمة (خطأ) أمام العبارة غير الصحيحة في كل مما يلي : 2 درجة

1 - عضيات الخلايا تساعدها على البقاء حية.

2 - الخلايا تحتوي على مادة وراثية (حمض نووي) حيث تنتقل من خلالها صفات معينة من الخلايا الأبوة إلى الخلايا البنوة.

اكتب المصطلح العلمي الدال على العبارات التالية : 2 درجة

1 - عدسة تكون قربة من الشي المراد تكبيرة.

2 - عضية تكون في الخلية النباتية تصنع الغذاء.

السؤال الثاني

من الرسم الذي أمامك حدد :



1 - الخلية النباتية يمثلها الرقم



2 - السهم المقابل يشير إلى

نموذج (2)

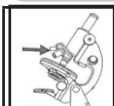
الشعبة

8

اسم الطالب /

السؤال الأول

اختر الإجابة الصحيحة علمياً لكل من العبارات التالية بوضع علامة (✓) في المربع المقابل لها: 2 درجة



1 - الجزء المشار اليه في الشكل المقابل يسمى :

() القاعدة () العدسة العينية () العدسة الشيئية () الضابط الكبير

2 - تنتج الغذاء للخلية النبات حيث إنها تحتوي على مادة الكلوروفيل :

() النواة () الميتوكوندريا () الجدار () البلاستيدات الخضراء

اكتب بين القوسين كلمة (صحيحة) أمام العبارة الصحيحة و كلمة (خطأ) أمام العبارة غير الصحيحة في كل مما يلي : 2 درجة

- 1 - تتشابه الخلايا النباتية والحيوانية أنها تحتوي على جبع العضيات.
- 2 - النسبج العمادي في الورقة يحتوي على المادة الخضراء.

اكتب المصطلح العلمي الدال على العبارات التالية : 2 درجة

- 1 - انتظام مجموعة من الخلايا المتخصصة. (.....)
- 2 - ينقل الماء والاملاح من الجذور الى الاوراق بواسطة . (.....)

السؤال الثاني

أي مم يلي لا ينتمي للمجموعة : 2 درجة

- 1 - جدار الخلية - ميتوكوندريا - فجوة عصارية كبيرة - الجسم المركزي.

الذي لا ينتمي :

السبب:

علل لما يأتي تعليلا علميا سليما : 2 درجة

- 1 - النواة تحدد صفات الكائن الحي.

.....

نموذج (3)

الشعبة

8

اسم الطالب /

السؤال الأول

اختر الإجابة الصحيحة علمياً لكل من العبارات التالية بوضع علامة (✓) في المربع المقابل لها: 2 درجة

1 - خلايا تقوم بنقل الماء والأملاح من الجذور إلى الأوراق :

() العضلية () العصبية () الجلدية () الخشب

2 - جميع الخلايا بها أجزاء صغيرة تسمى :

() نسج () جهاز () عضيات () أعضاء

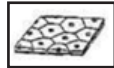
اكتب بين القوسين كلمة (صحيحة) أمام العبارة الصحيحة و كلمة (خطأ) أمام العبارة غير الصحيحة في كل مما يلي : 2 درجة

1 - النواة عضيه تتحكم في جميع أنشطة الخلية.

.....

2 - الشكل المقابل يوضح أعلى مستويات التعضي.

.....



أكمل الفراغ التالي بما يناسبه علمياً : 2 درجة

1 - تركيب ينقبض وينبسط ويساعد الجسم على الحركة

2 - تقوم كريات الدم الحمراء بنقل داخل الجسم.

السؤال الثاني

في الجدول المقابل قارن بين كلا مما يلي : 2 درجة

وجه المقارنة	الخلية النباتية	الخلية الحيوانية
جدار الخلية
السييتوبلازم

نموذج (4)

الشعبة

اسم الطالب /

8

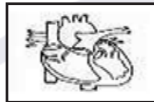
السؤال الأول

اختر الإجابة الصحيحة علمياً لكل من العبارات التالية بوضع علامة (✓) في المربع المقابل لها: 2 درجة

1 - الوحدة الوظيفية والاساسية في جسم الكائن الحي :



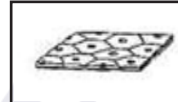
()



()



()



()

2 - تنظيم الانسجة في كثير من الكائنات مع بعضها في مجموعات يطلق عليها :

() الأجهزة

() الخلايا

() الأعضاء

() جسم الكائن الحي

اكتب بين القوسين كلمة (صحيحة) أمام العبارة الصحيحة و كلمة (خطأ) أمام العبارة غير الصحيحة في كل مما يلي : 2 درجة



.....

1 - الشكل المقابل يثل خلايا نباتية متخصصة.

.....

2 - يتحد الاكسجين مع نواتج هضم الطعام لتحرير الطاقة اللازمة للخلايا.

اكتب المصطلح العلمي الدال على العبارات التالية : 2 درجة

1 - الجزء في المجهر يزود الضوء لرؤية العينة. (.....)

2 - عضيه تطلق الطاقة من الغذاء. (.....)

السؤال الثاني

عل لما يأتي تعليلا علميا سليما : 2 درجة

1 - وجود الجهاز الهضمي في جسم الانسان.

.....

2 - تتكون خلايا جذور النباتات من جدار رقيق.

.....

نموذج (5)

الشعبة

8

اسم الطالب/

السؤال الأول

اختر الإجابة الصحيحة علمياً لكل من العبارات التالية بوضع علامة (✓) في المربع المقابل لها:

2 درجة

1 - خلايا النباتات التي تتمكن من امتصاص الماء والأملاح المعدنية :

() جذور () الخشب () اللحاء () العمادية

2 - جهاز مسؤول عن ضخ الدم في كافة أنحاء الجسم يسمى الجهاز :

amanahj.com/kw

() الهضمي () العصبي

() الدوري () العضلي

اكتب بين القوسين كلمة (صحيحة) أمام العبارة الصحيحة و كلمة (خطأ) أمام العبارة غير الصحيحة في كل مما يلي : 2 درجة

1 - الخلية العضلية تعتبر أطول خلية في جسم الانسان.

2 - يطلق على مجموعة الخلايا المتخصصة نسج.

اكمل العبارات التالية بما يناسبها علمياً : 2 درجة

1 - تنظم كل مجموعة من الخلايا المتخصصة في ما يعرف بـ

2 - تكون مجموعة الأعضاء التي تعمل معا ما يعرف بـ

السؤال الثاني

أي مما يلي لا ينتمي للمجموعة : 2 درجة



1 -

الذي لا ينتمي :

السبب:



2 -

الذي لا ينتمي :

السبب:

*** مع أطيّب التمنيات بالنجاح والتوفيق ***

السؤال الأول

اختر الإجابة الصحيحة علمياً لكل من العبارات التالية بوضع علامة (✓) في المربع المقابل لها: 2 درجة

1 - الجزء المسؤول عن خفض ورفع العدسات الشبكية :

() المصدر الضوئي () القاعدة () الضابط الصغير () الضابط الكبير

2 - جزء في الخلية النباتية يحميها ويغلفها ويحدد شكلها :

() غشاء الخلية () جدار الخلية

() النواة () السيتوبلازم

اكتب بين القوسين كلمة (صحيحة) أمام العبارة الصحيحة و كلمة (خطأ) أمام العبارة غير الصحيحة في كل مما يلي : 2 درجة

1 - البلاستيدات الخضراء مادة هلامية شفافة تتكون معظمها من الماء.

2 - الجهاز العصبي يجمع ويحول ويعالج المعلومات وارسال الأوامر الى الدماغ.

اكتب المصطلح العلمي الدال على العبارات التالية : 2 درجة

1 - الوحدة التركيبية والوظيفية الأساسية في جميع الكائنات الحية.

2 - عضيه كبيرة الحجم توجد في وسط الخلية تخزن الغذاء والماء والفضلات.

السؤال الثاني

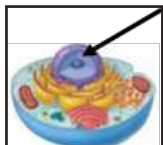
الرسم المقابل يمثل الخلية البكتيرية : 2 درجة

1 - رتب مستويات التعضي ترتيباً تصاعدياً بالأرقام من (1-4) واكتب الرقم المناسب مع اتجاه السهم.



2 - الرسم المقابل يمثل :

الجزء المشار اليه يمثل :



السؤال الأول

اختر الإجابة الصحيحة علمياً لكل من العبارات التالية بوضع علامة (✓) في المربع المقابل لها: 2 درجة

1 - عضيه توجد في الخلية الحيوانية :

() البلاستيدات الخضراء () غشاء الخلية

() جدار الخلية () الجسم المركزي

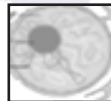
2 - مركز التحكم في الخلية :



()



()



()



()

اكتب بين القوسين كلمة (صحيحة) أمام العبارة الصحيحة و كلمة (خطأ) أمام العبارة غير الصحيحة في كل مما يلي : 2 درجة

1 - خلايا الجلد تكون مسطحة وتنظم معا بشكل متراس لتحافظ حماية الجسم.

2 - تكون خلايا اللحاء النسج العمادي في الورقة.

اكتب المصطلح العلمي الدال على العبارات التالية : 2 درجة

1 - عضيه تتكون من شبكة من الانابيب والقنوات تنقل المواد من مكان لآخر داخل الخلية. (.....)

2 - عجلة صغيرة توجد في المجهر تستعمل لرؤية واضحة. (.....)

السؤال الثاني

علل لما يأتي تعليلا علميا سليما : 2 درجة

1 - تقوم البلاستيدات الخضراء على صنع الغذاء في الخلايا النباتية.

.....

2 - الخلايا العصبية طويلة وكثيرة التفرعات.

.....

نموذج (8)

الشعبة

8

اسم الطالب/

السؤال الأول

اختر الإجابة الصحيحة علمياً لكل من العبارات التالية بوضع علامة (✓) في المربع المقابل لها: 2 درجة

1 - خلايا النباتات التي تتمكن من نقل الغذاء المتكون في الورقة إلى جميع أجزاء النبات :

() جذور () الخشب () اللحاء () العمادية

2 - جهاز مسؤول عن الاتصال بين الأعضاء بالهرمونات :

() الهضمي () العصبي

() الغدد الصماء () الدوري

اكتب بين القوسين كلمة (صحيحة) أمام العبارة الصحيحة و كلمة (خطأ) أمام العبارة غير الصحيحة في كل مما يلي : 2 درجة

1 - خلايا الجلد تكون مسطحة وتنظم معاً بشكل متراص لتحافظ حماية الجسم.

2 - يطلق على مجموعة الخلايا المتخصصة نسج.

أكمل العبارات التالية بما يناسبها علمياً : 2 درجة

1 - تنتظم الانسجة في الكثير من الكائنات الحية في مجموعات يطلق عليه

2 - خلايا قرصية الشكل تنقل الأكسجين ومواد أخرى داخل جسم الكائن الحي كريات الدم

السؤال الثاني

في الجدول المقابل قارن بين كلا مما يلي : 2 درجة

وجه المقارنة	خلايا اللحاء	خلايا الخشب
الوظيفة

نموذج (9)

الشعبة

اسم الطالب /

8

السؤال الأول

اختر الإجابة الصحيحة علمياً لكل من العبارات التالية بوضع علامة (✓) في المربع المقابل لها:

2 درجة

1 - الجزء الذي يثبت المجهر ويدعمه :

() القاعدة () المصدر الضوئي

() الضابط الكبير () الضابط الصغير

2 - جزء رقيق في الخلية يحميها ويغلفها وينظم مرور المواد من الي الخلية واليها :

() النواة () غشاء الخلية

() جدار الخلية () السيتوبلازم

اكتب بين القوسين كلمة (صحيحة) أمام العبارة الصحيحة و كلمة (خطأ) أمام العبارة غير الصحيحة في كل مما يلي : 2 درجة

1 - السيتوبلازم مادة هلامية شفافة تتكون معظمها من الماء.

2 - خلايا جذور النبات ذات جدار سميك حتى تتمكن من امتصاص الماء و الأملاح.

أكمل الفراغ التالي بما يناسبه علمياً : 2 درجة

1 - النواة في الخلية تحدد.....

2 - الجلد خلايا مسطحة متراسة وظيفتها.....

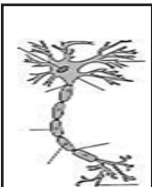
السؤال الثاني

ادرس الصورة ثم أجب عن المطلوب : 2 درجة



1 - الرسم المقابل يمثل:

وظيفتها:



2 - نوع الخلية:

وظيفتها:

نموذج (10)

الشعبة

8

اسم الطالب /

السؤال الأول

اختر الإجابة الصحيحة علمياً لكل من العبارات التالية بوضع علامة (✓) في المربع المقابل لها:

2 درجة

1 - خلايا تنقبض وتساعد على حركة الجسم :

() كريات الدم الحمراء

() الجلد

() العصبية

() العضلية

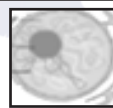
2 - خلايا في النبات تمتص الماء والأملاح من التربة :



()



()



()



()

اكتب بين القوسين كلمة (صحيحة) أمام العبارة الصحيحة و كلمة (خطأ) أمام العبارة غير الصحيحة في كل مما يلي : 2 درجة

1 - خلايا العصبية تكون مسطحة وتنتظم معاً بشكل متراص لتحافظ حماية الجسم.

2 - تكون خلايا عمادية تكون النسج العمادي في الورقة.

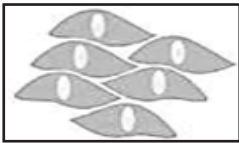

اكتب المصطلح العلمي الدال على العبارات التالية : 2 درجة

1 - عضيه تتحكم في جميع أنشطة الخلية.

2 - العدسة التي ترى من خلالها العين الى الداخل لرؤية العينة.

السؤال الثاني

في الجدول المقابل قارن بين كلا مما يلي : 2 درجة

		وجه المقارنة
.....	نوع الخلية
.....	وظيفتها
.....	اسم الخلية



احرص على اقتناء سلسلة منصة البلاطي

- كتاب الشرح.
- كتاب الأسئلة.
- كتاب إجابة الأسئلة.
- المراجعة النهائية (الأسئلة - الإجابة).
- توقعات ليلة الامتحان (الأسئلة - الإجابة).
- كبسولة ليلة الامتحان.
- برشامة ليلة الامتحان.

موقع
المنهج الكويتية
almanahj.com/kw



6

العلوم

الفصل الدراسي الثاني

2025 - 2024

استمتع بتجربة التعلم
مع منصة البلاطي

