

تم تحميل هذا الملف من موقع المناهج الكويتية



الملف اختبار تحصيلي أول

[موقع المناهج](#) ⇌ [المناهج الكويتية](#) ⇌ [الصف الأول](#) ⇌ [رياضيات](#) ⇌ [الفصل الثاني](#)

روابط مواقع التواصل الاجتماعي بحسب الصف الأول



روابط مواد الصف الأول على تلغرام

[الرياضيات](#)

[اللغة الانجليزية](#)

[اللغة العربية](#)

[التربية الاسلامية](#)

المزيد من الملفات بحسب الصف الأول والمادة رياضيات في الفصل الثاني

<a href="#">لوراق عمل</a>	1
<a href="#">مذكرة الوحدة السابعة</a>	2
<a href="#">توزيع مقترح لمنهج الرياضيات</a>	3
<a href="#">لوراق عمل</a>	4
<a href="#">نموذج اختبار أول</a>	5


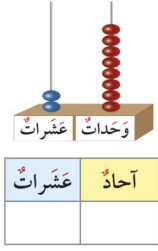


# الاختبار التحصيلي الاول للصف الاول الفصل الدراسي الثاني للعام 2024-2025

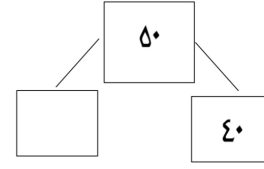
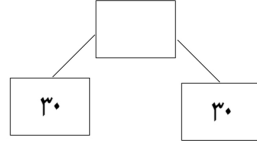




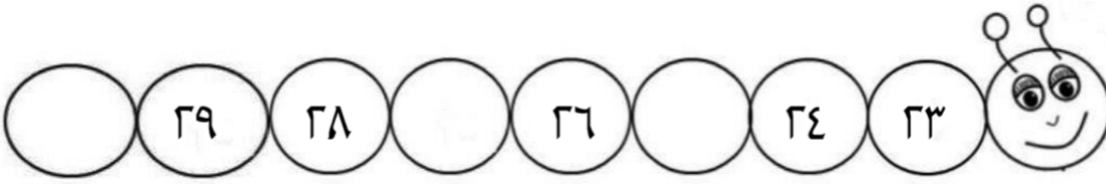
## السؤال الأول : (أ) اكتب اكتب رمز العدد



(ب) أكمل:



## السؤال الثاني :



(أ) أكمل:

(ب) أكتب رمز العلاقة المناسب < أو > أو =

٣٧ ○ ٨٢

٦٦ ○ ٦٦

## السؤال الثالث : (أ) حل:

(أ) عدد الأشهر في السنة الهجرية = ..... شهرا

(ب) حل المسألة :

كان عند فاطمة ١٠ 🐣 أهداها والدها ٥ 🐣 أخرى كم عدد البطات عند فاطمة ؟

🐣 — = — ○ —

## السؤال الرابع :

أولا : صل كل صورة بالساعة المناسبة

٥ : ٠٠



٧ : ٠٠



ثانيا : حوّل الإجابة الصحيحة

(أ) حوّل العبارة ذات الصلة المناسبة  $١١ = ٥ + ٦$

$$٨ = ٣ - ١١$$

$$٦ = ٥ - ١١$$

$$٩ = ٣ - ١٢$$

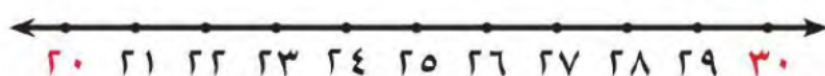
(ب) حوّل الشهر الذي يصوم فيه المسلمون

فبراير

شعبان

رمضان

(ج) العدد ٢٩ أقرب إلى العدد



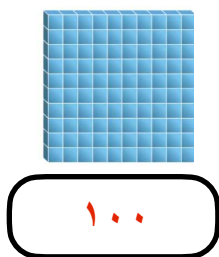
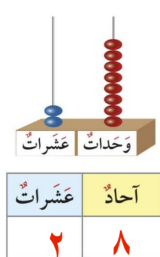
٢٠

٢٥

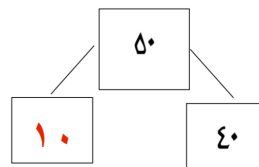
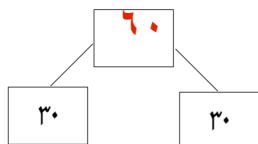
٣٠

انتهت الأسئلة نتمنى لكم التوفيق،،،

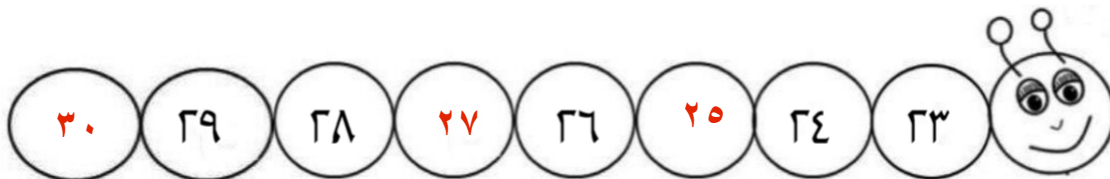
## السؤال الأول : (أ) اكتب اكتب رمز العدد



(ب) أكمل:



## السؤال الثاني :



(أ) أكمل:

(ب) اكتب رمز العلاقة المناسب < أو > أو =

٣٧ < ٨٢

٦٦ = ٦٦

## السؤال الثالث : (أ) حل:

(أ) عدد الأشهر في السنة الهجرية = ١٢..... شهرا

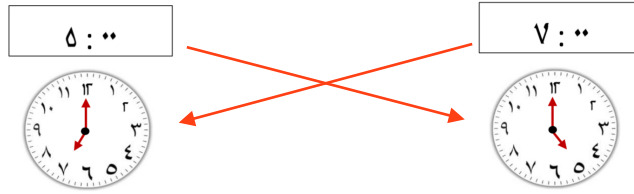
(ب) حل المسألة :

كان عند فاطمة ١٠ 🐣 أهداها والدها ٥ 🐣 أخرى كم عدد البطات عند فاطمة ؟

١٠ + ٥ = ١٥

## السؤال الرابع :

أولا : صل كل صورة بالساعة المناسبة



ثانيا : حوّل الإجابة الصحيحة

(أ) حوّل العبارة ذات الصلة المناسبة  $11 = 5 + 6$

$$8 = 3 - 11$$

$$6 = 5 - 11$$

$$9 = 3 - 12$$

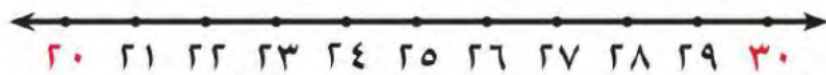
(ب) حوّل الشهر الذي يصوم فيه المسلمون

فبراير

شعبان

رمضان

(ج) العدد ٢٩ أقرب إلى العدد



٢٠

٢٥

٣٠

انتهت الأسئلة نتمنى لكم التوفيق،،،