

تم تحميل هذا الملف من موقع المناهج الكويتية



الملف نموذج إجابة منطقة مبارك الكبير

[موقع المناهج](#) ⇨ [المناهج الكويتية](#) ⇨ [الصف السابع](#) ⇨ [اجتماعيات](#) ⇨ [الفصل الثاني](#)

روابط مواقع التواصل الاجتماعي بحسب الصف السابع



روابط مواد الصف السابع على تلغرام

<a href="#">الرياضيات</a>	<a href="#">اللغة الانجليزية</a>	<a href="#">اللغة العربية</a>	<a href="#">التربية الاسلامية</a>
---------------------------	----------------------------------	-------------------------------	-----------------------------------


المزيد من الملفات بحسب الصف السابع والمادة اجتماعيات في الفصل الثاني

<a href="#">مذكرة موضوعية محلولة</a>	1
<a href="#">حل الكتاب</a>	2
<a href="#">حل الوحدة الرابعة في مادة الاجتماعيات</a>	3
<a href="#">بنك اسئلة التربة سابع</a>	4
<a href="#">مراجعات الصف السابع</a>	5



وزارة التربية  
الإدارة العامة لمنطقة مبارك الكبير التعليمية

موقع  
المناهج الكويتية  
almanahj.com/kw



نموذج إجابة

الإدارة العامة لمنطقة مبارك الكبير التعليمية



وزارة التربية  
دائرة العامة لمنطقة مبارك الكبير التعليمية مقرر/ الدراسات الاجتماعية الكويت والوطن العربي الزمن : ساعة ٥٥ دقيقة  
التوجيه الفني للاجتماعيات  
نموذج إجابة امتحان نهاية الفترة الدراسية الثانية العام الدراسي: ٢٠٢١/ ٢٠٢٢ م  
للصف السابع المتوسط عدد الاوراق : ٦

**السؤال الأول ( الموضوعي ) : يتكون من ( أ - ب - ج - د - هـ - و ) : ( لكل جزئية درجة )**

**( أ ) ضع خطأ تحت الخيار الصحيح من بين الخيارات التي تلي كل عبارة مما يأتي :**

١- أنشأ صندوق أبو ظبي للتنمية عام : ص ١٧٩

١٩٧١م - ١٩٧٢م - ١٩٧٣م - ١٩٧٤م

٢- تنفرد الصومال بين الدول العربية بزراعة محصول : ص ١١٤

البن - قصب السكر - القطن - الموز

٣- يبلغ عدد دول مجلس التعاون الخليجي : ص ١٨١

٥ دول - ٦ دول - ٧ دول - ٨ دول

٤- تبلغ مساحة الوطن العربي : ص ٩٩

١٣,٥ مليون كم<sup>٢</sup> - ١٤,٥ مليون كم<sup>٢</sup> - ١٥,٥ مليون كم<sup>٢</sup> - ١٦,٥ مليون كم<sup>٢</sup>

٥- تبلغ نسبة إنتاج النفط الخام لدول الوطن العربي بالنسبة للعالم : ص ١٢٧

١٠٪ - ٢٠٪ - ٣٠٪ - ٤٠٪



**( ب ) اكمل العبارات التالية بما يناسبها :**

١- يطلق على التبادل التجاري بين الدول العربية اسم التجارة البينية . ص ١٥٢

٢- التطور و التطوير و هي عملية تتطلب التخطيط و المشاركة من الجميع تسمى التنمية . ص ١٧٢

٣- تأسس الصندوق الكويتي للتنمية الاقتصادية العربية في عهد الشيخ عبد الله السالم الصباح . ص ١٨٤

٤- تؤدي بعض المواد الغازية لا سيما الكلور الموجودة في وسائل التبريد إلى ثقب في طبقة تسمى الاوزون . ص ١٦٩

٥- عقد أكبر مؤتمر للأمم المتحدة في البرازيل عام ١٩٩٢م و عرف باسم قمة الارض . ص ١٦٧

٦- أهم مصادر الطاقة المتجددة المياه و الرياح و الشمس . ص ١٧١

تابع / السؤال الأول :

( ج ) صنف الصناعات حسب أنواعها في الجدول التالي : ص ١٤١+١٤٢

استخراج المعادن - صناعة المنسوجات - صهر الحديد - الصناعة الغذائية

صناعات تحويلية	صناعات استخراجية
صناعة المنسوجات	استخراج المعادن
الصناعة الغذائية	صهر الحديد



المناهج الكويتية

almanahj.com/kw

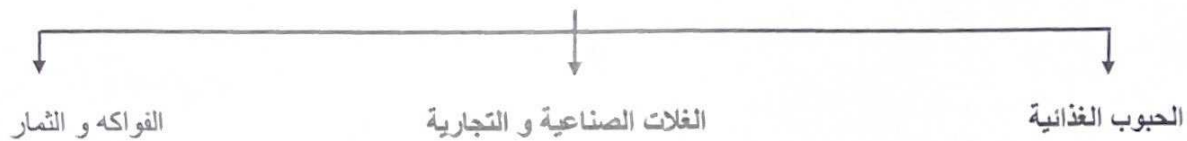
( د ) صحح ما تحته خط في العبارات التالية وذلك بكتابة التصويب في المكان المناسب :

م	العبارة	التصويب
١	يقتصر النقل النهري في الوطن العربي على نهري دجلة و الفرات و نهر <u>المجر</u> ص ١٤٩	النيل
٢	يتبع الصندوق الكويتي للتنمية الاقتصادية العربية حاليا وزارة <u>الداخلية</u> ص ١٨٤	الخارجية
٣	عدد السكان الكلي على المساحة الكلية تسمى <u>التعداد السكاني</u> ص ١٠٢	الكثافة السكانية
٤	عملية تركيب و جمع المواد المصنعة كي نحصل على سلع متنوعة تسمى الصناعات <u>التعدينية</u> ص ١٤٣	التجميعية
٥	تتألف دول الوطن العربي من <u>٢٦ دولة</u> ص ٩٩	٢٢ دولة
٦	الضرر الذي يلحق بالتربة و الهواء و الماء يسمى <u>التوازن البيئي</u> ص ١٦٦	التلوث

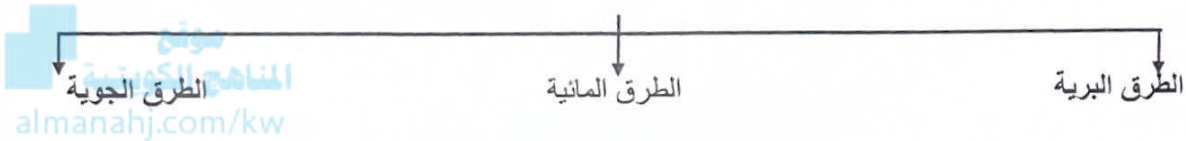


**(هـ) أكمل المخططات السهمية التالية:**

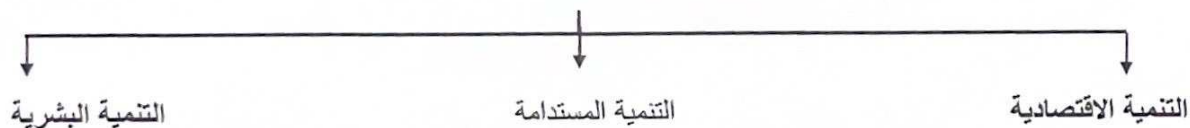
**١- المحاصيل الزراعية في الوطن العربي ص ١١٣**



**٢- أنواع طرق النقل ص ١٤٧**



**٣- وسائل وأساليب التنمية في الوطن العربي ص ١٧٣**

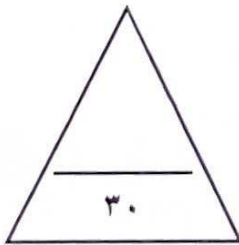
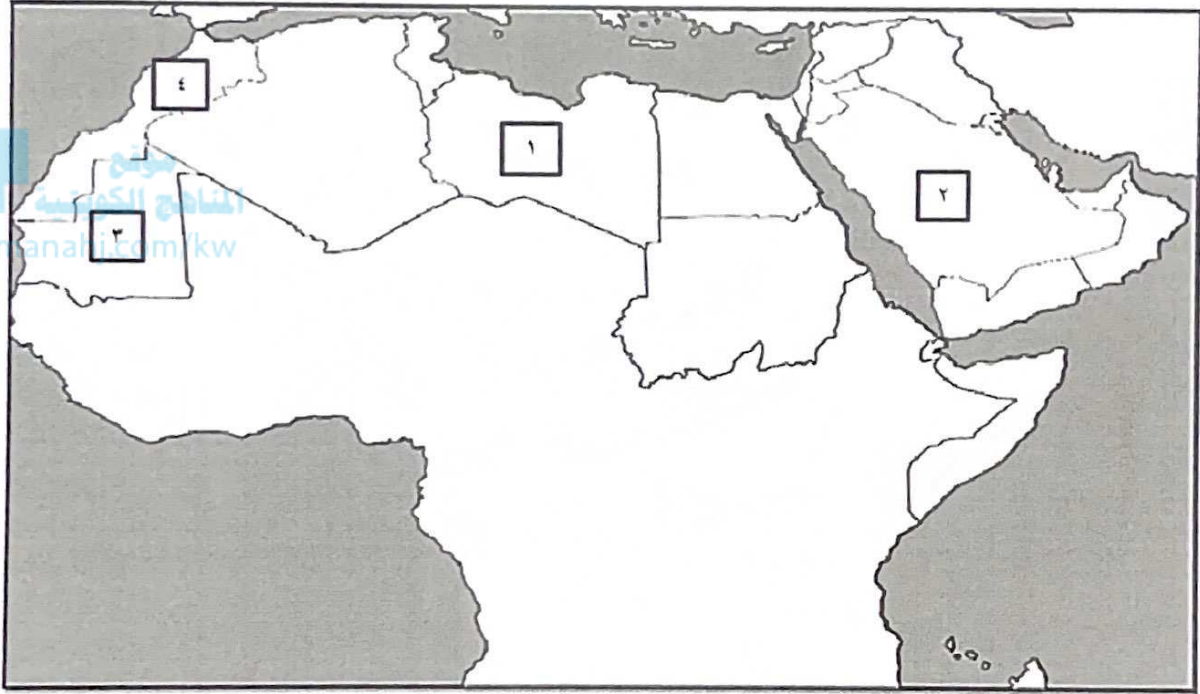




تابع / السؤال الأول :

( و ) لاحظ خريطة الوطن العربي الصماء من ثم نفذ ما هو مطلوب منك :

- تحتل موريتانيا المرتبة الأولى عربيا في إنتاج الحديد و يمثلها على الخريطة الرقم ( ٣ ) ص ١٣٣
- تتصدر المغرب المرتبة الأولى عربيا في إنتاج الفوسفات و يمثلها على الخريطة الرقم ( ٤ ) ص ١٣٣
- المملكة العربية السعودية أحد أعضاء منظمة أوابك و يمثلها على الخريطة الرقم ( ٢ ) ص ١٣٦



**السؤال الثاني (المقال) يتكون من ( أ - ب - ج ) :**

**( أ ) علل لما يأتي :**

- ١- تحتل الأغنام العربية مكانا مهما ضمن الثروة الرعوية . ( درجتان يكتفى بإجابتيين ) ص ١١٨
  - الأكثر انتشارا في المراعي العربية / لأنها مصدر أساسي من مصادر الثروة القومية / الأهمية منتجاتها بالنسبة للسكان / أكثر الحيوانات المستأنسة و الملائمة لمراعي الوطن العربي و ذلك لتحملها الجفاف و الانتقال
- ٢- تدني وفرة المياه في الوطن العربي . ( درجتان يكتفى بإجابتيين ) ص ١٦٤
 

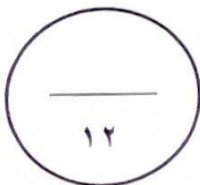
النمو السريع للسكان الذي يشكل ضغطا متزايدا على المياه المتوفرة لكل فرد / ٥٠٪ من الموارد في العالم العربي تأتي من خارج حدوده و تتحكم فيها دول المنبع في غياب تشريعات دولية تضمن حقوقنا / الطرق التقليدية المستخدمة في استغلال المياه في معظم مناطق العالم العربي مسنولة عن تدني نسبة المياه ( استخدام الري بالغمر و الاستهلاك غير المسئول في مجالات المياه / الشبكات المؤهلة لنقل المياه شبكات قديمة / افتقار الدول العربية الى برامج لإدارة المياه كما انها لا تستخدم الأدوات الاقتصادية اللازمة لترشيد الاستخدام المتزايد من المياه.

**( ب ) فرق بين كل مما يلي من حيث التعريف : ( ٤ درجات لكل جزئية درجة )**

الموارد الطبيعية ص ١٠٩	الموارد البشرية ص ١٠٩
الثروات التي منحها الله لإقليم من دون ان يكون للإنسان أي دور في وجودها.	هي التي ترتبط بالسكان من حيث اعدادهم و توزيعهم و مناسبة اعدادهم لمساحة الأرض التي يستغلونها.
النفط ص ١٢٥	الغاز الطبيعي ص ١٢٥
بقايا عضوية على هيئة نباتات و حيوانات دقيقة ترسبت في عصور قديمة و انطمرت تحت رواسب سميكة و تحولت بالضغط و الحرارة الى صورتها الحالية.	غاز مصاحب للنفط الخام او يوجد منفردا تتم اسالته لاستخدامات عديدة.

**( ج ) عرف المفاهيم التالية : ( ٤ درجات لكل جزئية درجة )**

- ١- الإحصاء الحيوي: ص ٩٩ تسجيل المواليد و الوفيات و حالات الزواج و الطلاق و نحصل على بياناتها من واقع السجلات الرسمية للدولة.
- ٢- الطاقة: ص ١٢٥ قوى محركه للآلات و عنصر مهم للتقدم و التطور الاقتصادي في جميع المجالات .
- ٣- التبادل التجاري: ص ١٥١ عمليتا التصدير و الاستيراد بين الدول .
- ٤- التضامن العربي: ص ١٧٧ هو العمل على توثيق الصلات بين الدول و الشعوب العربية و حماية مصالحها السياسية و الاقتصادية و الثقافية .





### السؤال الثالث (المقال) يتكون من ( أ - ب - ج ) :

#### ( أ ) اذكر نقطتين فيما يلي:

- ١- أهداف التنمية الاقتصادية . ( درجتان ) ص ١٧٤
- استخدام العلم في زيادة الإنتاج / تحقيق التكامل بين الدول العربية في الإمكانيات و الحاجات
- ٢- أهداف جامعة الدول العربية. ( درجتان ) ص ١٧٧
- توثيق العلاقات بين الدول الأعضاء /تنسيق التعاون فيما بينها للحفاظ على استقلالها و سيادتها /النظر في شئون و مصالح الدول العربية /تحقيق التعاون العربي و التكامل الاقتصادي بين الدول العربية.
- ٣- مقومات الصناعة (البشرية) في الوطن العربي . ( درجتان ) ص ١٣٩
- رؤوس الأموال / الايدي العاملة / المهارة و الخبرة / السوق / وسائل النقل
- ٤- العقبات التي تواجه الإنتاج الزراعي في الوطن العربي. ( درجتان ) ص ١٦١
- عدم استغلال الأراضي القابلة للزراعة لندرة مياه الري او تذبذب الامطار او قلة الايدي العاملة / اتباع طرق الزراعة التقليدية في معظم أجزاء الوطن العربي / زحف الرمال (التصحّر) و انجراف التربة /تلوث التربة نتيجة للإسراف في استخدام المبيدات الحشرية و ارتفاع نسبة الملوحة بالتربة / الرعي الجائر

#### ( ب ) قارن بين كل مما يلي : ( ٦ درجات لكل جزئية درجة )

أوجه المقارنة	منظمة الدول المصدرة للنفط (أوبك)	منظمة الأقطار العربية المصدرة للنفط (أوبك)
سنة التأسيس	ص ١٣٤ ١٩٦٠م	ص ١٣٥ ١٩٦٨م
المقر	فيينا	الكويت
الأهداف	الحرص على استقرار أسعار النفط في الأسواق العالمية	حاجة الدول العربية المنتجة للنفط إلى تعميق التعاون فيما بينها في مختلف أوجه النشاط الاقتصادي في صناعة النفط/ تأمين وصول النفط إلى الأسواق الاستهلاكية بشروط و أسعار عادلة /تطوير الصناعات البترولية في جميع المجالات / تبادل الخبرات

#### ( ج ) لاحظ الصورة التي أمامك ثم أجب عما يلي : ( ٤ درجات لكل جزئية درجة ) ص ١٨٦



- ١- اذكر اسم القمة .
- القمة العربية الاقتصادية والتنمية والاجتماعية
- ٢- من هو صاحب المبادرة لعقد القمة ؟
- الشيخ صباح الأحمد الجابر الصباح
- ٣- في أي دولة عربية عقدت القمة ؟ دولة الكويت
- ٤- اذكر واحدة من أهداف هذه القمة.
- انشاء بنك عربي لتمويل شتى المشاريع التنموية للتقليل من معدلات الفقر/ القضاء على البطالة و الفقر بتوفير فرص العمل / الاستثمار الاقتصادي بين الدول العربية و تقوية التبادل التجاري / الاعتناء بالعنصر البشري و التنمية المستدامة.

