

تم تحميل هذا الملف من موقع ملفات الكويت التعليمية



[com.kwedufiles.www//:https](https://www.kwedufiles.com)

*للحصول على أوراق عمل لجميع الصفوف وجميع المواد اضغط هنا

* للحصول على أوراق عمل لجميع مواد الصف السابع اضغط هنا

<https://kwedufiles.com/7>

* للحصول على جميع أوراق الصف السابع في مادة اجتماعيات وجميع الفصول, اضغط هنا

<https://kwedufiles.com/7social>

* للحصول على أوراق عمل لجميع مواد الصف السابع في مادة اجتماعيات الخاصة بـ الفصل الأول اضغط هنا

<https://www.kwedufiles.com/7social1>

* لتحميل كتب جميع المواد في جميع الفصول للـ الصف السابع اضغط هنا

<https://www.kwedufiles.com/grade7>

* لتحميل جميع ملفات المدرس جلييلة الدغيم اضغط هنا

[bot_kwlinks/me.t//:https](https://t.me/bot_kwlinks)

للحصول على جميع روابط الصفوف على تلغرام وفيسبوك من قنوات وصفحات: اضغط هنا

الروابط التالية هي روابط الصف السابع على مواقع التواصل الاجتماعي

مجموعة الفيسبوك

صفحة الفيسبوك

مجموعة التلغرام

بوت التلغرام

قناة التلغرام

رياضيات على التلغرام



مدرس الأول : البيئة الطبيعية في الوطن العربي

أ - تعريف الوطن العربي



شكل (١) موقع الوطن العربي على خريطة العالم

نشاط (١) علام بدل اللون الأصفر في الخريطة؟

ما اسم القارات التي يمتد فيها وطننا العربي؟

آسيا وإفريقيا

ما موقع الوطن العربي بالنسبة إلى قارات العالم؟

يقع الوطن العربي في وسط العالم

لاحظ الخريطة شكل (١) ثم قم بمساعدة خالد في الإجابة عن أسئلته :



نشاط (٢) لاحظ الجدول التالي :

الدولة	اللغة الرسمية	الدين
الكويت	اللغة العربية	الإسلام
مملكة المغرب	اللغة العربية	الإسلام
مملكة الأردن	اللغة العربية	الإسلام

ماذا نستنتج من الجدول السابق؟

ترتبط الدول العربية بعدة سمات منها الدين واللغة.

نشاط (٣) من خلال نشاط (١) ونشاط (٢) أوجد تعريفاً للوطن العربي حسب رأيك .

مساحة واسعة من الأرض تمتد ضمن قارتين من أكبر قارات العالم مساحة

إذن نستنتج أن الوطن العربي :

هو مجموعة الدول العربية التي يجمعها عدد من السمات المشتركة (الدين واللغة) ويمتد ضمن قارتين من أكبر قارات العالم مساحة .

مفهوم: الوطن العربي

ب - دول الوطن العربي

لنقم عزيزي المتعلم برحلة في وطننا العربي لتتعرف عدد الدول العربية أو أسماءها وعواصمها .



تقع جمهورية جزر القمر خارج نطاق موقع الوطن العربي، حيث تتكون من اتحاد أربع جزر مستقلة تقع شمال غرب جزيرة مدغشقر في المحيط الهندي، عاصمتها موروني وانضمت إلى الجماعة العربية في عام ١٩٩٣.

شكل (٢) خريطة الوطن العربي السياسية

(۱) نشاط

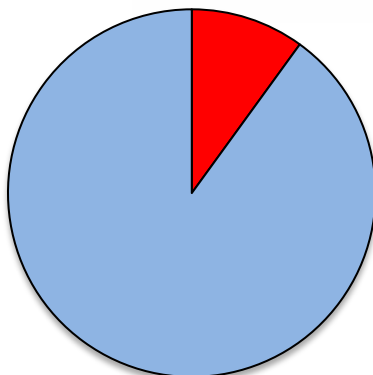
صنف الدول العربية الآسيوية والدول العربية الأفريقية في الجدول التالي :

الوطن العربي	الدول العربية الآسيوية		الدول العربية الأفريقية	
	أكبر دولة عربية	السعودية	أكبر دولة عربية	الجزائر
البحرين	أصغر دولة عربية <th>البحرين</th> <td>أصغر دولة عربية<th>جزر القمر</th></td>	البحرين	أصغر دولة عربية <th>جزر القمر</th>	جزر القمر

استخدم مهارة رسم دائرة بيانية

تمثل مساحة الوطن العربي نحو ٨٠٪ من جملة مساحة العالم والتي تبلغ

١٣,٥٠٠ مليون كم^٢ تقريباً بعد انفصال جنوب السودان عن دولة السودان .



☒ الوطن العربي
☐ العالم

جزر القمر	الدولة
.....	عدد الجزر
شمال غرب جزيرة	الموقع
.....	العاصمة
.....	الانضمام للجامعة العربية

• ورقة عمل: أكمل الجدول التالي بما هو مطلوب:

نشاط (٢)

ساعد خالد في الإجابة عن تساؤلاته من الشكل رقم (٢)
ما اسم البحر الذي يفصل الجناح الآسيوي عن الجناح الأفريقي؟
..... **البحر الأحمر**

ما الدولة التي انضمت حديثاً لجامعة الدول العربية؟
..... **جزر القمر**

نشاط (٣)

- أراد خالد السفر من مطار الكويت الدولي إلى مطار المغرب الدولي :-
- هل تستطيع مساعدة خالد في رسم مسار رحلة الطائرة على الخريطة؟
 - اكتب أسماء الدول العربية التي سوف يمر الطائرة في أجولها علم

تفكير



٢) الخريطة الصماء للوطن العربي

بديلة لمعرفة الدول استخدم جوجل إيرث

أكثر من إجابة يرغب بها المتعلم

من الكويت السعودية مصر ليبيا ... تونس الجزائر . الى . المغرب
من الكويت ... العراق الاردن البحر المتوسط ... الجزائر الى المغرب

نشاط (٤)



بالاستعانة بالأطلس المدرسي و شبكة الإنترنت تعرف على أسماء الدول العربية وعواصمها .



البحرين	الامارات	عمان	السعودية	قطر	الكويت	اسم الدولة العربية
المنامة	ابوظبي	مسقط	الرياض	الدوحة	الكويت	عاصمتها



الاردن	سوريا	فلسطين	لبنان	العراق	اليمن	اسم الدولة العربية
عمان	دمشق	القدس	بيروت	بغداد	صنعاء	عاصمتها



موريتانيا	المغرب	الجزائر	تونس	ليبيا	مصر	اسم الدولة العربية
نواكشوط	الرباط	الجزائر	تونس	طرابلس	القاهرة	عاصمتها



السودان	جيبوتي	الصومال	جزر القمر	اسم الدولة العربية
الخرطوم	جيبوتي	مقديشو	موروني	عاصمتها

أ: جليله الدغيم



ج - هُويّة الوطن العربي



في هذا الامتداد تعيش مجموعة من الدول التي تتكلم لغة واحدة وهي اللغة العربية لغة القرآن الكريم ، والتي ساهمت في امتزاج (اختلاط) هذه الدول ثقافياً وحضارياً وتاريخياً أي ذات هُوية واحدة ، وكونت شعوب هذه المنطقة وطناً كبيراً له عاداته وتقاليدته وقيمته ، وتربط بين أبنائه وحدة الدين واللغة والتراث والأهداف المشتركة ، وهذه الهوية هي التي اجتمعت عليها دول الوطن العربي على امتداده الجغرافي .

نشاط (١)

أكمل المخطط السهمي التالي بعد الاستعانة بالفقرة السابقة :



أ: جليله الدغيم

ساعد خالد في كتابة رسالة إلى أحد أصدقائه في الخارج ، يبين فيها أهم العادات والتقاليد العربية في الوطن العربي .

بسم الله الرحمن الرحيم

الكويت في يوم الخميس الموافق ٣.....م
صديقتي العزيزة /
السلام عليكم ورحمة الله وبركاته، أتمنى لك الصحة والسعادة، وبعد:
في هذه المناسبة المباركة أسأل الله أن يتقبل منا صيامنا وقيامنا وصالح أعمالنا
في شهر رمضان المبارك
لقد كانت الاجواء ايمانية استمتعنا فيها في بقراءة القران حيث استطاع اخي
ان ينتهي من حفظه وقمنا بحفل خاص له وترديد دعاء **التحميده (الحمد لله**
الذي هدانا (أمين) للدين والإسلام واجتباننا (أمين) سبحانه من خالق سبحانه بفضل علمنا القرآن
فهي عادة قديمة تحدث بعد إتمام الصبي لحفظ كتاب الله تعالى
كما اننا قد تجمعننا لأداء صلاة التراويح . وكان في حيننا شخص يقوم
بايقاضنا يسمى في الكويت ابو طيبله وبعض الدول العربية - المسحراتي
وهو شخص يطوف الأحياء في ليالي رمضان وقت الأسحار ليوظ الناس
للسحور ويمسك أبو طيبله يلق عليها وهو يردد بعض الأدعية والعبارات
التي تشجع الناس على الاستيقاظ من نومهم
قائلاً (لا إله إلا الله محمد رسول الله اصحي يا صايم يا نايم
واعبد ربك الدائم قوم صل قوم صوم) هذا عن بعض عاداتنا في رمضان
انتظر ان تخبرني ماهي عاداتك في بلادك
وكل عام وأنتم بخير.
والسلام عليكم ورحمة الله وبركاته.
أخوكم خالد

نهتم بربط هذا النشاط بمادة اللغة العربية
لتحقيق الارتباط مع المواد الأخرى

أ: جليله الدغيم

أ - موقع الوطن العربي وحدوده

لماذا يهتم الوطن العربي بموقع إستراتيجي مهم
تجدد أهميته على مر العصور؟

التساؤل



استنتج

الموقع الإستراتيجي :

أي موقع ذي
مكثمة مهمة بين دول
العالم -



شكل (٤) خريطة توضح الموقع الإستراتيجي للوطن العربي

المضيق :

ممر مائي ضيق يصل
بين بحرين أو محيطين أو أي
مساحتين كبيرتين نسبياً من
الماء .

القناة :

مجري مائي صناعي ضيق
يشق لأغراض الري أو
النقل .

مسطحات المائية :

جميع أشكال المياه على
سطح الأرض مثل البحار
والخلجان والمحيطات ،
بحيرة ، نهر . . إلخ .

التساؤل ٢
ما هي أشكال
المسطحات المائية

التساؤل ٢ ما الفرق

اجابة التساؤل ١

لأنه يقع في وسط العالم ويتحكم في منافذ التجارة
ويطل على عدة مسطحات مائية

أ: جليله الدغيم

نشاط (١)

ساعد خالدًا في الإجابة عن تساؤلاته في الشكل رقم (٤)

التساؤل ٤

ما الصفات الأساسية التي يتمتع بها موقع الوطن العربي؟

- حلقة الوصل بين الشرق والغرب، وبين الشمال والجنوب
- تعتبر المنطقة بهذا الامتداد الجغرافي من أغنى المناطق العالمية بالثروات الطبيعية،
- كثرة الموارد الطبيعية وتنوعها / وجود أهم الأنهار فيه
- يشرف على مضائق وممرات عالمية مهمة / قوة الاقتصاد



في أي قارة يمتد القسم الأكبر من الوطن العربي؟

في القسم الغربي (الجناح الأفريقي)

نشاط (٢)

ساعد خالدًا في التعرف على أسماء المضائق، والممرات المائية وكذلك أسماء المسطحات المائية التي تتصل بهما.



مضيق

جبل طارق

وهذا المضيق

يصل بين البحر

المتوسط

والمحيط

الأطلسي



قناة

السويس

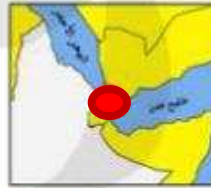
وهذه القناة

تصل بين البحر

المتوسط

والبحر

الأحمر



مضيق

باب المندب

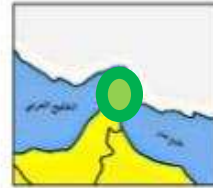
وهذا المضيق

يصل بين الخليج

عدن

والبحر

الأحمر



مضيق

هرمز

وهذا المضيق

يصل بين الخليج

العربي

وخليج

عمان

أ: جليله الدغيم

نشاط (٣)



ساعد خالداً في تصنيف المسطحات المائية للوطن العربي من خلال خريطة شكل (٤) حسب الجدول التالي :

بحار	خلجان	محيطات
١ - المتوسط	١ - العربي	١ - الهندي
٢ - العرب	٢ - عدن	٢ - الأطلسي
٣ - الأحمر	٣ - عمان	قناة السويس



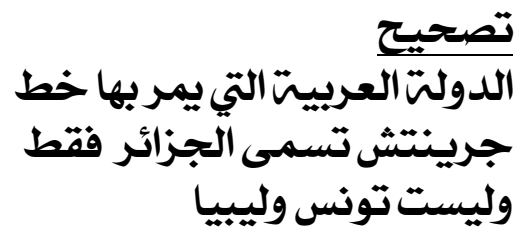
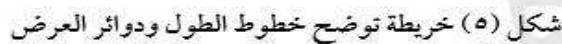
أ: جليله الدغيم



قیم

التساؤل ١

المهارات



أ: جليله الدغيم



نشاط (١)

ساعد خالدًا في المقارنة بين خطوط الطول ، و دوائر العرض حسب الجدول التالي :

أوجه المقارنة	خطوط الطول	دوائر العرض
التعريف	خطوط وهمية تقسم الكرة الأرضية إلى قسمين شرقي وغربي	دوائر وهمية تقسم الكرة الأرضية إلى قسمين شمالي وجنوبي
العدد	٣٦٠ خط	١٨٠ دائرة
الخط الرئيسي	خط الاستواء	خط الاستواء
مميزاته	تقسيم الكرة الأرضية إلى مناطق حرارية رئيسية. / معرفة المناخ	معرفة التوقيت الزمني في مختلف جهات العالم



نشاط (٢)

ساعد خالدًا في الإجابة عن تساؤلاته من الشكل رقم (٥)

ما الدول العربية التي يمر بها خط الاستواء؟

الصومال



ما الدولة العربية التي يمر بها خط جرينتش؟

الجزائر

* يمكن الاستعانة بكتاب الدراسات الاجتماعية للصف السادس .