

تم تحميل هذا الملف من موقع ملفات الكويت التعليمية



[com.kwedufiles.www//:https](https://www.kwedufiles.com)

\*للحصول على أوراق عمل لجميع الصفوف وجميع المواد اضغط هنا

\* للحصول على أوراق عمل لجميع مواد الصف السادس اضغط هنا

<https://kwedufiles.com/6>

\* للحصول على جميع أوراق الصف السادس في مادة اجتماعيات وجميع الفصول, اضغط هنا

<https://kwedufiles.com/6social>

\* للحصول على أوراق عمل لجميع مواد الصف السادس في مادة اجتماعيات الخاصة بـ الفصل الثاني اضغط هنا

<https://www.kwedufiles.com/6social2>

\* لتحميل كتب جميع المواد في جميع الفصول للـ الصف السادس اضغط هنا

<https://www.kwedufiles.com/grade6>

\* لتحميل جميع ملفات المدرس تطبيق خدمة الطالب اضغط هنا

[bot\\_kwlinks/me.t//:https](https://t.me/bot_kwlinks)

للحصول على جميع روابط الصفوف على تلغرام وفيسبوك من قنوات وصفحات: اضغط هنا

الروابط التالية هي روابط الصف السادس على مواقع التواصل الاجتماعي

مجموعة الفيسبوك

صفحة الفيسبوك

مجموعة التلغرام

بوت التلغرام

قناة التلغرام

رياضيات على التلغرام

# الوحدة الخامسة

## الكويت ودول الخليج العربية في مواجهة التحديات

نشاط ٢ / اكتب في الجدول نوع التعاون الذي تمثله كل صورة

التعاون العسكري	التعاون الاقتصادي	التعاون السياسي	التعاون الثقافي
			
		علم فلسطين	

## التحديات (المشكلات) التي تواجه دول الخليج العربية

هيا نشارك خالد

ساعد خالدًا في توصيل الهدف - بوضع خط من الكرة إلى المكان الذي تراه مناسبًا داخل المرمى .

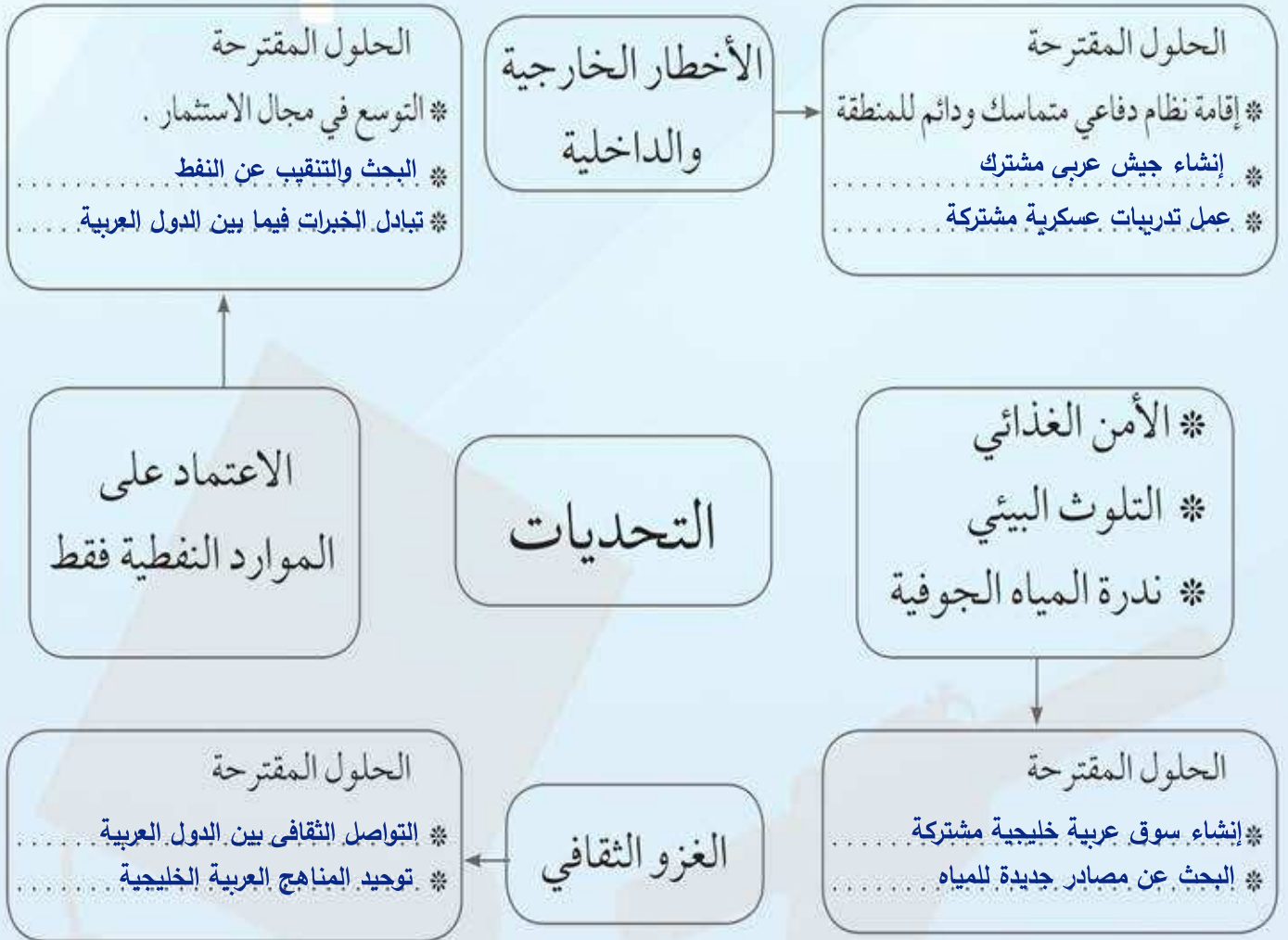


تطبيق خدمة الطالب 50152882

# هل تواجه دول الخليج تحديات كالتى يواجهها خالد ؟

تلعب دولة الكويت دوراً مهماً مع دول مجلس التعاون الخليجي من أجل ترسيخ الأمن والاستقرار في منطقة الخليج العربي ، وتعزيز التكامل الاقتصادي وصولاً إلى الوحدة الخليجية المنشودة ومواجهة التحديات .

هيا نتعرف على بعض من هذه التحديات ونقترح حلولاً لمواجهتها :



نستنتج أن

دول الخليج العربية تواجه تحديات ومشكلات عديدة متنوعة تشكل عائقاً أو حاجزاً أمام برامج التنمية .



اكمل مع زملائك الشكل التالي الذي يوضح أسباب ثقب الأوزون وأضراره على البيئة وعناصرها والمقترحات للحد من هذه الظاهرة .



### نشاط ٣



اكتب تعليقاً مناسباً على هذه الصورة  
يشكل الدخان الصادر من وسائل النقل خطراً  
حقيقياً على صحة من يستنشق هذه الغازات  
السامة والخطرة : .....


لاحظ الصورة التي أمامك ثم نفذ المطلوب مستخدماً طريقة حل المشكلات :  
اسم المشكلة : ... تلوث الماء .....




الأسباب	الحلول
<ul style="list-style-type: none"> <li>- رمى المخلفات في المسطحات المائية</li> <li>- النفط ومشتقاته</li> <li>- النفايات الخطيرة</li> </ul>	<ul style="list-style-type: none"> <li>- توعية الناس بخطورة الامر</li> <li>- التخلص من النفايات الضارة بعيد عن الماء</li> <li>- وقف التسريبات النفطية</li> </ul>

### نشاط ٣ /

ظلل الكلمة الخطأ في المربعات المقابلة



١- أسباب التلوث الضوضائي هي :-



٢- أسباب التلوث البحري هي :-



٣- أسباب التلوث الهوائي هي :-

### نشاط ٤ /

صمم مشروعاً من خلال إعادة تدوير النفايات ( المدرسية أو المنزلية ) في إحدى

الموضوعات التالية :

- ١- وسيلة تعليمية .
- ٢- لعبة تربوية .
- ٣- لوحة فنية .

يجمع الطالب مجموعه من الصور عن النفايات  
وأضرارها وكيفيه التخلص منها بشكل سليم ويقوم  
بلصق هذه الصور على لوحة من الفلين أو غير ذلك  
كما يرى الطالب .



## نشاط ١

استخرج من الحوار السابق مظاهر التلوث الناجمة عن الغزو العراقي الغاشم على دولة الكويت

- ١- تفجير وإحراق وتدمير معظم الابار النفطية الكويتية البالغ عددها ٧٣٧ بئرا ...
- ٢- تدمير خزانات النفط الرئيسية وموانئ التصدير وخطوط الانابيب التي ينقل عن طريقها النفط.
- ٣- تدمير الصجراء. يقتل الحيوانات البرية والنباتات نتيجة لحرق الايار . . . . .
- ٤- لوث البحر بالقاء الملايين من البراميل النفطية في مياه الخليج العربي مما أدى الى قتل أعداد كبيرة من الاحياء المائية والطيور .

## نشاط ٢

صمم لوحة ( بوستر ) بالتعاون مع زملائك عن أنواع التلوث الذي تعرضت له بلدك

الحبيبة الكويت جراء الغزو العراقي الغاشم .

يقوم الطالب بجمع صور عما فعله العدوان الغاشم مثل حرق الابار النفطية وما نتج عنها من تلوث ولصق هذه الصور على لوحة .

تطبيق خدمة الطالب 50152882




١ - صح أم خطأ :

- أ- شملت التغيرات في المجتمعات الخليجية الجوانب الاجتماعية فقط (X)
- ب- تأثرت القيم المتعلقة بالأسرة والعادات والتقاليد بالتغيرات الاجتماعية (✓)

٢ - استعن بالصور ثم سجل أمثلة على المشكلة الاجتماعية .

- .. التفكك الأسري ..
- .. تعاطي المخدرات ..
- .. العنف ..



## نشاط ١

١- سجل مفهوم العمالة المنزلية في الشكل التالي :

مجموعه من الافراد الذين يشاركون الاسرة فى دور أو أكثر داخل المنزل أو خارجه  
من المربيات والطباخين والسائقين والخدم .

٢- لاحظ الشكل التالي ثم سجل وظائف أخرى للعمالة المنزلية :



حارس

مربية

عامل نظافة

سائق

طباخ

لاحظ الصور التالية ثم اختر الأفضل من كل مجموعة بوضع علامة (✓) في الدائرة  
التابع لها مع ذكر السبب والتعليق :



التعليق : خطر السير أمام الحافلات .



السبب : من الامان السير بعيدا عن الحافلات



التعليق : اصطحاب الاسرة للاطفال شئ جيد



السبب : ترك الاطفال مع الخادمة أمر خطير



التعليق : تعليم الام للطفل في المراحل الاولى بناء



السبب : الخادمة قد تعلم الطفل سلوكيات سلبية



التعليق : البقاء القمامة على الارض .  
شئ سلبي جدا



السبب : المحافظة على النظافة يقينا من الامراض

لا للصياح



لا للمنف



لا يجب التخريب



لا للمنف مع الابناء

لا لخروج الاطفال بمفردهم



تابع الصور السابقة :

١- سجل تعليقاً مناسباً أسفل كل صورة .

٢- اذكر أشكال العنف ؟ التعدي على الآخرين و التدمير والتخريب

٣- عرّف مفهوم العنف

التمرد والعصيان وجواذب المرور والضرب والاعتداء على الآخرين والسب .

صحح ما تحته خط :

١- العنف ظاهرة موروثة (..... متعلمة)

٢- أوجد حلاً للمعادلة التالية :

تربية الطفل الخاطئة	+	الإحباط	←	يؤدي إلى	العنف
---------------------	---	---------	---	----------	-------

١- استخرج مرادف كلمة عنف .

تجاوز الحد - الغلط - التعسف

٢- اذكر أسباب العنف .

- أسباب أسرية

- أسباب نفسية

- أسباب بيئية عامة

لاحظ الصور التالية ثم سجل تعليقًا مناسبًا لها :  
١- متعلم وهو يعتدي بالضرب على زميل له .



التعليق : هذا السلوك خاطئ ويجب على المتعلم احترام  
زميله واعتباره اخا له في المدرسة .

٢- متعلمون حطموا مرافق المدرسة من أبواب وأدراج وكتبوا على جدران المدرسة  
عبارات سيئة .



التعليق : .....

هذا السلوك خاطئ ويجب على الطلاب المحافظة على هذه الاشياء .  
٣ - متعلم وهو يعتدي بالضرب أو الكلام على معلمه .



التعليق : هذا السلوك خاطئ فيجب على التلميذ  
احترام المعلم لانه قدوة ونموذج  
يحتذى به .

٤ - متعلم لا يلتزم بالزي الرسمي للمدرسة .



التعليق : هذا السلوك خاطئ ويجب على  
الطلبة احترام النظام المدرسي

\* اكتب حقيقة عن الصور السابقة يمثل السلوك العدواني مشكله واسعه الانتشار في  
المجتمعات .

تطبيق خدمة الطالب 50152882

أسباب مشكلة العنف عند المتعلمين :

أمامك مجموعة مظاهر مسببة للعنف ، المطلوب تصنيفها في الجدول :

أسباب أسرية ، أسباب نفسية ، أسباب بيئية عامة

الأسباب	مظاهر العنف الناتجة عنها
أسباب نفسية	- عدم الرغبة في مواصلة الدراسة .
أسباب أسرية	- عدم وعي الأسرة بأهمية التعليم والتربية .
أسباب أسرية	- التربية الخاطئة للطفل والإحساس بالنقص .
أسباب بيئية عامة	- نقص وسائل الرعاية الاجتماعية والترفيه .
أسباب نفسية	- التوتر والحرمان العاطفي والقلق والشعور بالإحباط .
أسباب بيئية عامة	- وقت الفراغ وأصحاب السوء .

شارك مع زملائك في إعداد مشروع توعوي عن العنف .



تؤكد الدراسات العلمية على أهمية الحوار الاسري لحل المشكلات وحسم كل الخلافات ، سواء بين الزوجين أو بين الاباء والابناء ، فالحوار هو أفضل وسيلة لحياة أسرية هادئة وناجحة فيجب علينا معرفه كل سبب يؤدي إلي العنف للابتعاد عنه وعلينا التمسك بتعاليم الدين الاسلامي التي تحثنا على التحلي بالفضائل والبعد عن العنف .



## الكويت ودول الخليج العربية في مواجهة التحديات

السؤال الأول : اختر الإجابة الصحيحة للعبارات التالية من بين الخيارات التي تلي كلاً منها وضع خطأ تحتها :

- ١- الدولة التي يوجد فيها مقر قوات درع الجزيرة هي .  
( الكويت - السعودية - قطر - عُمان )
- ٢- المدينة التي تم فيها الإعلان عن قيام السوق الخليجية المشترك هي .  
( الدوحة - الكويت - أبوظبي - الرياض )
- ٣- العام الذي قام فيه النظام العراقي البائد بغزو دولة الكويت هو .  
( ١٩٩٠ - ١٩٩١ - ١٩٩٢ - ١٩٩٣ )

السؤال الثاني : صحح ما تحته خط في العبارات التالية واكتب الإجابة الصحيحة فيما بين الأقواس :

- ١- صدر إعلان الدوحة بشأن قيام السوق الخليجية المشترك في يناير ٢٠٠٧ .  
( .....٢٠٠٨..... )
- ٢- يجتمع وزراء التربية والتعليم لدول الخليج العربية كل عام . ( .....عامين..... )
- ٣- عدد الآبار النفطية التي اشعلها النظام العراقي البائد ٧٤٧ بئراً . ( .....٧٣٧..... )
- ٤- يرى العلماء أن العنف مرضاً جسماني . ( .....نفسي..... )
- ٥- العنف ظاهرة موروثة . ( .....متعلمة..... )



السؤال الثالث : عرف المفاهيم التالية :

التلوث - الضوضاء - تلوث التربة - التلوث البحري - العمالة المنزلية - العنف  
العمالة المنزلية : مجموعه من الأفراد الذين يشاركون الأسرة في دور أو أكثر داخل المنزل  
أو خارجه من المربيات والطباخين والسائقين والخدم .  
العنف : هو ذلك السلوك العدواني التدميري الموجه ضد الغير والذي يتسم بالتخريب والتدمير  
سواء كان ذلك السلوك أقوالاً أو أفعالاً .

السؤال الرابع : أكمل المخطط السهمي التالي :



السؤال الخامس :

( أ ) صنف مظاهر التعاون بين دول مجلس التعاون الخليجي حسب مكانها الصحيح في  
الجدول التالي

( المناورات العسكرية / المواقف الموحدة تجاة القضايا والمشكلات السياسية / توحيد المناهج  
التعليمية وتطويرها / زيادة التبادل التجاري / زيادة العلاقات الاقتصادية وتنظيمها / إنشاء  
مكتب التربية العربي / إنشاء قوة مشتركة / مناصرة القضايا العادلة مثل القضية الفلسطينية  
/ قبول أبناء دول مجلس التعاون في الكليات العسكرية / اجتماع وزراء التربية والتعليم /  
وضع السياسات التربوية ) .



التعاون السياسي	التعاون العسكري	التعاون الاقتصادي	التعاون الثقافي
المواقف المحددة تجاه القضايا والمشكلات السياسية مناصرة القضايا العادلة مثل القضية الفلسطينية	المناورات العسكرية إنشاء قوة مشتركة قبول أبناء دول مجلس التعاون في الكليات العسكرية	زيادة التبادل التجاري زيادة العلاقات الاقتصادية وتنظيمها	توحيد المناهج التعليمية وتطويرها إنشاء مكتب التربية العربي اجتماع وزراء التربية والتعليم وضع السياسات التربوية

السؤال السادس : أكمل الجدول التالي :

المشكلة	حل المشكلة
١- العمالة المنزلية	١- فحص العمالة المنزلية طبيا بشكل دوري . ٢- مراقبتهم بشكل مستمر عن طريق كاميرات مراقبة .
٢- العنف	١- توعية الابناء والطلاب ٢- التمسك بالدين الشرع - مراقبه الاباء للابناء .

السؤال السابع : اكتب فيما يلي مما درست :

١- الفوائد المرجوة من التعاون بين دول الخليج العربية .

التعاون السياسي - التعاون العسكري - التعاون الاقتصادي - التعاون الثقافي

٢- التحديات التي تواجه دول الخليج العربية .

الغزو الثقافي - التلوث - ندرة المياه الجوفية - الامن الغذائي

٣- أهداف الدور الهام الذي تلعبه دولة الكويت مع دول مجلس التعاون .

تتعاون دولة الكويت مع دول الخليج العربية من أجل تحقيق أهداف مشتركة .

٤- الأخطار المرضية للضوضاء .

إصابه الاذن لدى الفرد المتواجد فى مناطق الضوضاء .



٥- النتائج المترتبة على تلوث التربة .

ضعف قدرة التربة على الانتاج الزراعي - تلوث الانتاج الزراعي مما يؤثر على صحة الانسان .

٦- أسباب التلوث البحري .

رمى النفايات والمخلفات - التسرب من ناقلات النفط .

٧- أسباب التلوث الهوائي .

دخان المصانع - عادم السيارات والسفن - حرائق الغابات وابار النفط - الإشعاعات .

٨- أسباب التلوث الأرضي .

استخدام المبيدات الحشرية والاسمدة .

٩- أسباب التلوث الضوضائي .

المصانع والمركبات والتلفاز والراديو .

١٠- مظاهر التلوث الناتجة عن الغزو العراقي لدولة الكويت .

حرق ابار النفط مما أدى إلي تلوث الهواء وإهدار الثروة النفطية .

١١- المشكلات الاجتماعية في دول الخليج العربية .

مشكلات العمالة المنزلية - مشكله العنف - المشكلات الأسرية مثل الطلاق .

١٢- وظائف العمالة المنزلية .

أعمال المنزل مثل الطهي والنظافه - قيادة السيارات .

١٣- المشاكل الناتجة عن العمالة المنزلية .

اكتساب الاطفال عادات وتقاليده غريبه - الاختلاط الثقافي واللغوي .

١٤- جوانب الحياة التي شهدت تغيرات في دول منطقة الخليج العربية بعد ظهور النفط .

بناء المدارس والمستشفيات والجامعات - استقدام المعلمين والاطباء والمتخصصين .

١٥- أشكال العنف .

التعدي على الآخرين - التخريب والتدمير - التمرد - الشغب - الارهاب .

١٦- أسباب ظاهرة العنف .

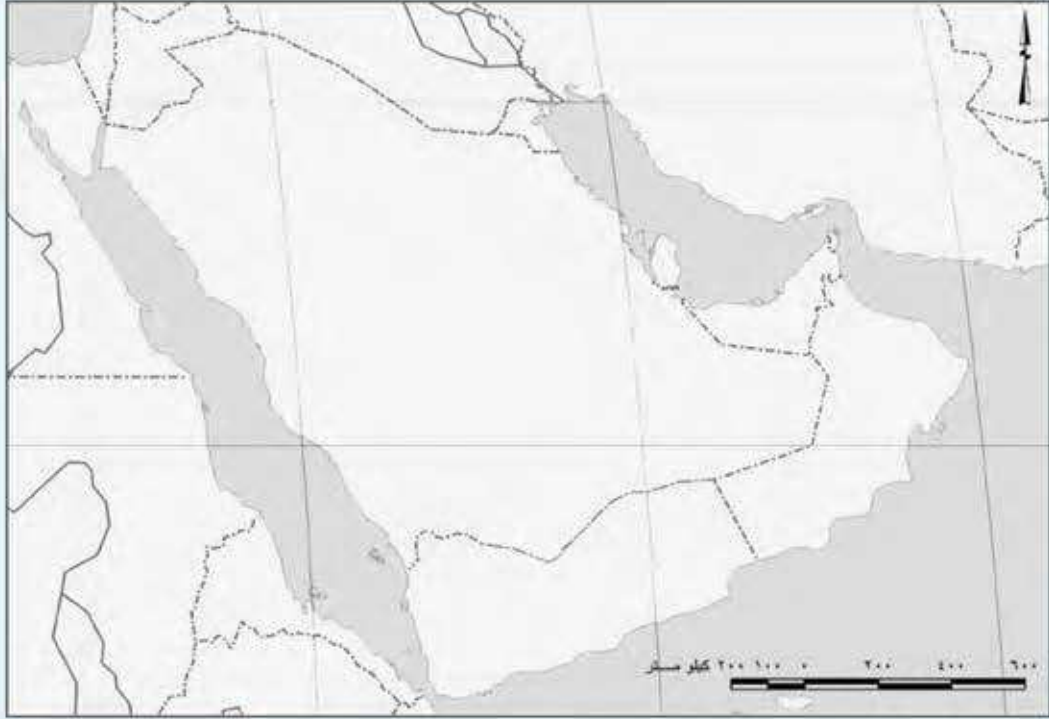
الإمراض النفسية - الحرمان - البعد عن الدين - التفكك الأسري - غياب الوعي .



١٧- أسباب مشكلة العنف عند المتعلمين .

الامراض النفسية - الحرمان - الفشل - البعد عن الدين .....

السؤال الثامن : لاحظ الخريطة التالية ثم نفذ المطلوب منك :



بعد دراستك لموضوعات عديدة عن دولة الكويت الحبيبة ودول الخليج العربية استخرج حقائق مناسبة من الخريطة

- ١ - تتمتع دول الخليج العربية بموقع جغرافي ممتاز .
- ٢ - جميع دول الخليج العربية تتشابه ثقافيا ودينيا واقتصاديا .
- ٣ - تتعاون دول الخليج فيما بينها في كل المجالات .
- ٤ - ظهور النفط في كل دول الخليج .
- ٥ - يتمتع مواطنو دول الخليج بمستوي معيشي مرتفع .
- ٦ - يفد لكل دول الخليج عماله من كل دول العالم .



تطبيق خدمة الطالب 50152882