

تم تحميل هذا الملف من موقع المناهج الكويتية



مدرسة الصفوة النموذجية

الملف ورقة عمل تحصيلي 1

[موقع المناهج](#) ⇌ [المناهج الكويتية](#) ⇌ [الصف الثاني](#) ⇌ [رياضيات](#) ⇌ [الفصل الثاني](#)

روابط مواقع التواصل الاجتماعي بحسب الصف الثاني



روابط مواد الصف الثاني على تلغرام

[الرياضيات](#)


[اللغة الانجليزية](#)

[اللغة العربية](#)

[التربية الاسلامية](#)

المزيد من الملفات بحسب الصف الثاني والمادة رياضيات في الفصل الثاني

تدريبات	1
وسائل الوحدة الحادية عشر	2
مذكرة	3
مذكرة مهمة	4
مذكرة مهمة	5



ورقة عمل تحصيلي (١)

للفص الثاني الابتدائي

للعام الدراسي ٢٠٢٤/٢٠٢٥

الإدارة العامة للتعليم الخاص

مدرسة الصفوة النموذجية بنين

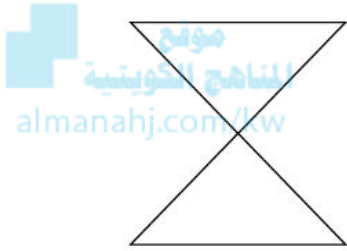
قسم الرياضيات

الاسم :


الصف : ٢ /

السؤال الأول :

(ب) لون ما يمثل النصف



(أ) قسم إلى مجموعات متساوية و أكتب عبارة القسمة :-




..... = ÷

السؤال الثاني :

(ب) ارسم عقربي الساعة اللذين يدلان علي الوقت :

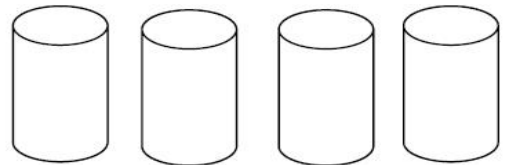


الساعة الخامسة



الساعة الثامنة و الربع

(أ) حوِّط ما يمثل الربع :-



السؤال الثالث :

(ب) اكتب الاسم اللفظي للعدد الممثل



.....

(أ) مثل العدد على المعداد



٧٠٠

السؤال الرابع :

(أ) حوط الإجابة الصحيحة

١) وزعت مها عدد من  بالتساوي على ٣  . فكان في كل  ٥  فكم عدد كل  ؟

٣

٥

١٥

موقع
المنهج الكويتية
almanahj.com/kw

٢) عدد الأيام في أسبوعين

٣٠

١٤

٧

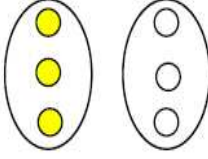
٣) القيمة المكانية للرقم الذي تحته خط ٤٥٠

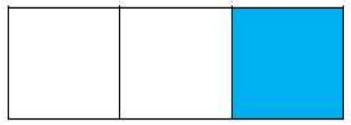
٤٠٠

٤٠

٤

ب) صل من العمود (أ) بما يناسبه من العمود (ب) لتحصل على عبارة صحيحة:

العمود (ب)

الثلث

العمود (أ)

النصف