

تم تحميل هذا الملف من موقع المناهج الكويتية



التوجيه الفني العام للرياضيات

الملف الاختبار التحصيلي التجريبي الأول (نموذج 2)

[موقع المناهج](#) ⇐ [المناهج الكويتية](#) ⇐ [الصف الأول](#) ⇐ [رياضيات](#) ⇐ [الفصل الأول](#)

روابط مواقع التواصل الاجتماعي بحسب الصف الأول



روابط مواد الصف الأول على تلغرام

[الرياضيات](#)

[اللغة الانجليزية](#)

[اللغة العربية](#)

[التربية الاسلامية](#)

المزيد من الملفات بحسب الصف الأول والمادة رياضيات في الفصل الأول

تدريبات على كتابة الاعداد من 1 وحتى 10 في مادة الرياضيات	1
التصنيف وفق خاصية واحدة في مادة الرياضيات	2
اوراق عمل في مادة الرياضيات	3
تحضير درس الانماط في مادة الرياضيات	4
تحضير درس التطابق في مادة الرياضيات	5

الإسم :

الصف : أولى /

الدرجة : / ٢٠

الاختبار التحصيلي (١) التجريبي

لمادة الرياضيات للصف الأول الابتدائي


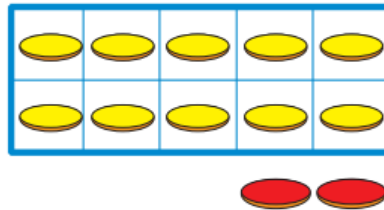
للعام الدراسي ٢٠٢٢ / ٢٠٢٣



وزارة التربية

الإدارة العامة لمنطقة حولي التعليمية
التوجيه الفني للرياضيات

السؤال الأول : (أ) اكتب رمز العدد



(ب) اكمل



السؤال الثاني : أ) قارن . اكتب رمز العلاقة المناسب < أو > أو =

١١ ○ ١١

٠ ○ ٥

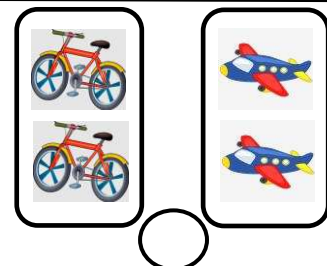

٨ ○ ٣

أسفل المجموعتين المتكافئتين



ضع

ب



أكمل النمط

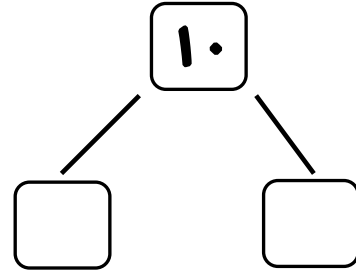
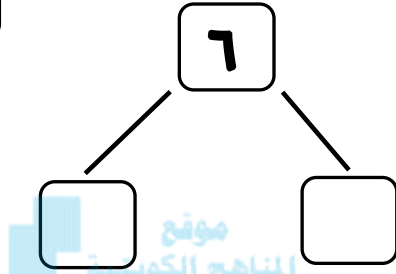
ج

٣



السؤال الثالث : استخدم ● ● لإيجاد مكونات العدد .

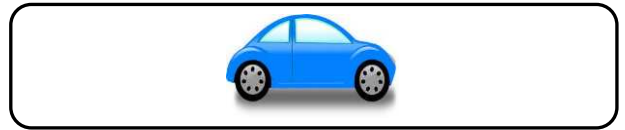
٢




السؤال الرابع : صل كل مجموعة برمز العدد المناسب

٥

٠




١



٣



٥



٩



انتهت الأسئلة