

تم تحميل هذا الملف من موقع المناهج الكويتية



الملف نموذج 4 للاختبار التحصيلي الأول

[موقع المناهج](#) ⇨ [المناهج الكويتية](#) ⇨ [الصف الثاني](#) ⇨ [رياضيات](#) ⇨ [الفصل الثاني](#)

روابط مواقع التواصل الاجتماعي بحسب الصف الثاني



روابط مواد الصف الثاني على تلغرام

[الرياضيات](#)


[اللغة الانجليزية](#)

[اللغة العربية](#)

[التربية الاسلامية](#)


المزيد من الملفات بحسب الصف الثاني والمادة رياضيات في الفصل الثاني

<a href="#">تدريبات</a>	1
<a href="#">وسائل الوحدة الحادية عشر</a>	2
<a href="#">مذكرة</a>	3
<a href="#">مذكرة مهمة</a>	4
<a href="#">مذكرة مهمة</a>	5


الاسم: _____ الصف: ٢ / _____	نموذج الاختبار التحصيلي ( ١ ) للصف الثاني الفصل الدراسي الثاني لعام ٢٠٢٤-٢٠٢٥ م	 وزارة التربية الإدارة العامة لمنطقة الجهراء التعليمية التوجيه الفني للرياضيات
---------------------------------	---	---

السؤال الأول:  
أ) كتب رمز العدد:

٢٠



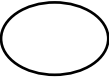
ب) اكمل :-



$$\text{-----} + \text{-----} + ٧ = ٣٠٧$$

ج) قارن بكتابة رمز العلاقة المناسب (<أو>أو=): -


٤

٧٥٠      ٥٧٠

السؤال الثاني:  
أ) قسم إلى مجموعات متساوية وأكمل :-

$$\text{-----} = \text{-----} \div \text{-----}$$

$$\text{-----} = \text{-----} \div \text{-----}$$




ب) حوط ما يمثل الثلث :-



ج) لون ما يمثل الربع:

٥



السؤال الثالث:

(أ) ارسم عقري الساعة اللذين يدلان على الوقت: -



الساعة الرابعة والنصف

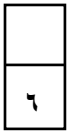
(ب) اكتب الوقت الذي تشير إليه الساعة بطريقتين مختلفتين: -



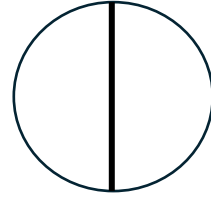
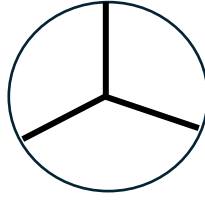
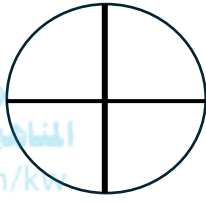
:

الساعة

(ج) حوط الشكل الذي قُسم إلى جزئين متطابقين: -



المناهج الكويتية  
almanahj.com/kw



السؤال الرابع: (أ) صل كل شكل بالكلمة المناسبة: -

- نصف
- ربع



(ب) اختر الإجابة الصحيحة وضع علامة ✓: -

(١) ١٥ 🐠 وزعت على ٥ 🐠 بالتساوي، فكم عدد 🐠 في كل حوض؟

١٥  
○

٥  
○

٣  
○


(٢) القيمة المكانية للرقم الذي تحته خط هي ١ ٧ ٢ :-

٢٠٠  
○

٢٠  
○

٢  
○


(٣) الشهر الذي نحتفل فيه بالعيد الوطني: -



أكتوبر  
○

فبراير  
○


يناير  
○

الاسم: _____ الصف: ٢ / _____	نموذج إجابة الاختبار التحصيلي ( ١ ) للصف الثاني الفصل الدراسي الثاني لعام ٢٠٢٤-٢٠٢٥ م	 وزارة التربية الإدارة العامة لمنطقة الجهراء التعليمية التوجيه الفني للرياضيات
---------------------------------	---	---

**السؤال الأول:**  
أ) كتب رمز العدد: -

٢٠

٢٤١



ب) اكمل: -

٣٠٧ = ٣٠٠ + ٧ + \_\_\_\_\_

موقع المناهج الكويتية  
almanahj.com/kw


ج) قارن بكتابة رمز العلاقة المناسب (< أو > أو =): -

٧٥٠ > ٥٧٠


٤

**السؤال الثاني:**  
أ) قسم إلى مجموعات متساوية وأكمل: -


$\frac{2}{8} = \frac{4}{8} \div \frac{4}{8}$   
 $\frac{4}{8} = \frac{2}{8} \div \frac{2}{8}$



ب) حوط ما يمثل الثلث: -



ج) لون ما يمثل الربع:



٥

السؤال الثالث:

(أ) ارسم عقري الساعة اللذين يدلان على الوقت: -



الساعة الرابعة والنصف

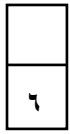
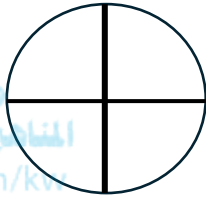
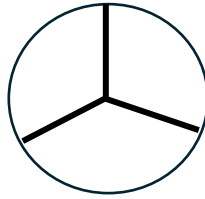
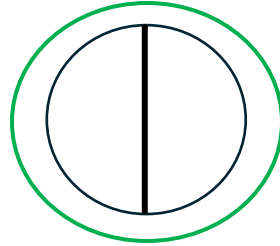
(ب) اكتب الوقت الذي تشير إليه الساعة بطريقتين مختلفتين: -

٦:٠٠

الساعة السادسة



(ج) حوط الشكل الذي قُسم إلى جزئين متطابقين: -



المناهج الكويتية  
almanahj.com/kw

السؤال الرابع: (أ) صل كل شكل بالكلمة المناسبة: -

نصف

ربع



(ب) اختر الإجابة الصحيحة وضع علامة ✓: -

(١) ١٥ 🐠 وزعت على ٥ 🐠 بالتساوي، فكم عدد 🐠 في كل حوض؟

١٥  
☐

٥  
☐

٣  
☒


(٢) القيمة المكانية للرقم الذي تحته خط هي ١ ٧ ٢ :-

٢٠٠  
☒

٢٠  
☐

٢  
☐

(٣) الشهر الذي نحتفل فيه بالعيد الوطني: -



أكتوبر  
☐

فبراير  
☒

يناير  
☐