

تم تحميل هذا الملف من موقع ملفات الكويت التعليمية



[com.kwedufiles.www//:https](https://www.kwedufiles.com)

*للحصول على أوراق عمل لجميع الصفوف وجميع المواد اضغط هنا

* للحصول على أوراق عمل لجميع مواد الصف الثامن اضغط هنا

<https://kwedufiles.com/8>

* للحصول على جميع أوراق الصف الثامن في مادة اجتماعيات ولجميع الفصول, اضغط هنا

<https://kwedufiles.com/8social>

* للحصول على أوراق عمل لجميع مواد الصف الثامن في مادة اجتماعيات الخاصة بـ الفصل الأول اضغط هنا

<https://www.kwedufiles.com/8social1>

* لتحميل كتب جميع المواد في جميع الفصول للـ الصف الثامن اضغط هنا

<https://www.kwedufiles.com/grade8>

* لتحميل جميع ملفات المدرس منطقة الفروانية التعليمية اضغط هنا

[bot_kwlinks/me.t//:https](https://t.me/bot_kwlinks)

للحصول على جميع روابط الصفوف على تلغرام وفيسبوك من قنوات وصفحات: اضغط هنا

الروابط التالية هي روابط الصف الثامن على مواقع التواصل الاجتماعي

مجموعة الفيسبوك

صفحة الفيسبوك

مجموعة التلغرام

بوت التلغرام

قناة التلغرام

رياضيات على التلغرام





وزارة التربية

الإدارة العامة لمنطقة الفروانية التعليمية

التوجيه الفني للاجتماعيات

نموذج اجابة امتحان نهاية

الفترة الدراسية الأولى

الصف الثامن

للعام الدراسي : ٢٠١٩ / ٢٠٢٠ م

مقرر :

دولة الكويت والعالم الاسلامي

الزمن :

ساعة ونصف

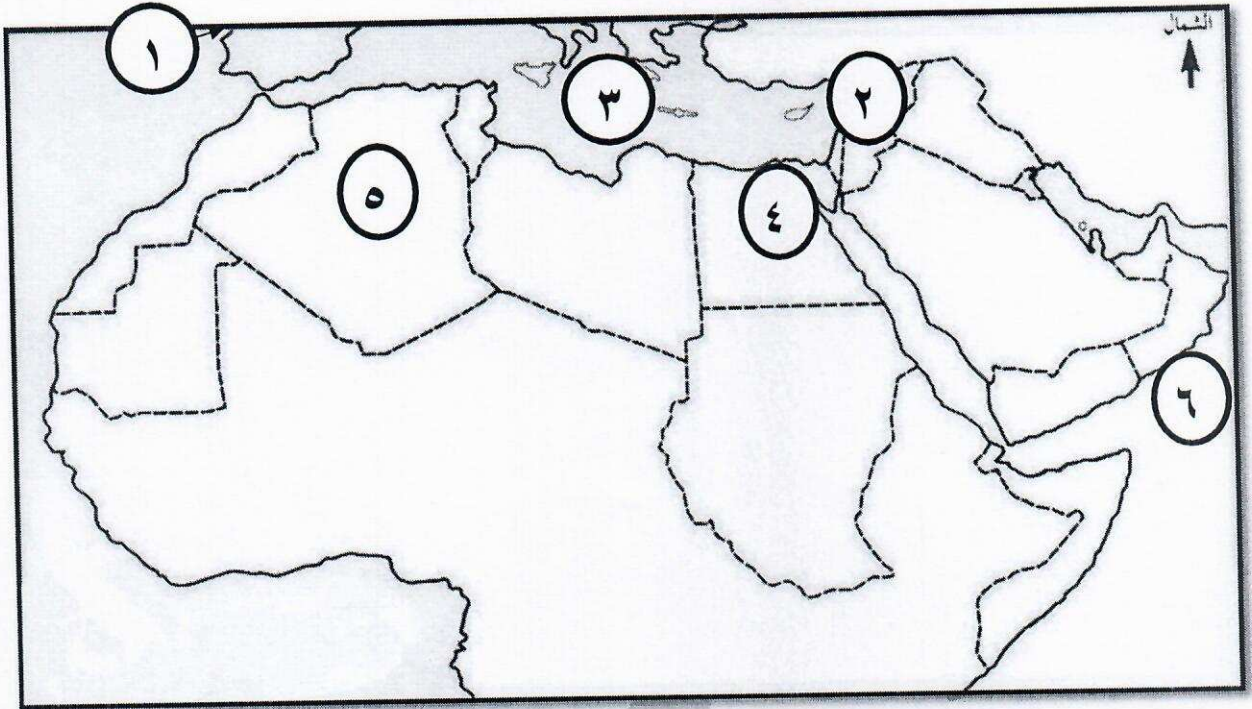
عدد الأوراق : ٦

السؤال الأول : موضوعي ويتكون من (أ ، ب ، ج ، د ، هـ ، و)

أ) اختر البديل المناسب من بين البدائل التي تلي كل عبارة : (٥ درجات)

- ١- مقر جامعة الزيتونة يقع في دولة إسلامية تسمى :
أ - المغرب - ب - تونس - ج - سوريا - د - فلسطين (ص ٣٣)
- ٢- العلوم العقلية التي ظهرت وتطورت في الحضارة الإسلامية تشمل :
أ - الرياضيات - ب - علوم الدين - ج - علوم التفسير - د - التاريخ (ص ١٧)
- ٣- الدولة الإسلامية التي تحتل المركز الأول في إنتاج الذهب حسب احصاء ٢٠١٤ م تسمى :
أ - السودان - ب - أوزباكستان - ج - كازاخستان - د - إندونيسيا (ص ٧٠)
- ٤- من أشهر المدن التي برع فيها المسلمون في مد المجاري الجوفية:
أ - الشام - ب - بغداد - ج - مجريط - د - غرناطة (ص ٤٣)
- ٥- الهضبة التي تمتد من ساحل المحيط الأطلسي غرباً إلى مرتفعات البحر الأحمر شرقاً تسمى :
أ - الصحراء الكبرى - ب - الأناضول - ج - نجد - د - الشطوط (ص ٥٧)
- ب) صحح ما تحته خط في العبارات التالية بكتابة الإجابة الصحيحة بين الأقواس : (٥ درجات)
 - ١- الدولة الإسلامية الوحيدة التي تقع في قارة أمريكا الجنوبية تسمى البانيا . (سورينام) (ص ٥١)
 - ٢- أول حاكم بعد وفاة الرسول صلى الله عليه وسلم عمر بن الخطاب (أبو بكر الصديق) (ص ٢٥)
 - ٣- يبلغ إنتاج العالم الإسلامي من الغاز الطبيعي بالنسبة للإنتاج العالمي ٤٦ % . (٣٦ %) (ص ٦٧)
 - ٤- مؤلف كتاب الجبر والمقابلة والذي يعد من أشهر علماء الجبر يسمى الرازي . (الخوارزمي) (ص ٣٩)
 - ٥- أحد أكبر مساجد العالم وأول القبلتين في الإسلام المسجد النبوي . (المسجد الأقصى) (ص ٣٣)

(ج) لاحظ خريطة العالم الإسلامي ، ثم اكتب مدلولات الأرقام التالية : (٥ درجات)

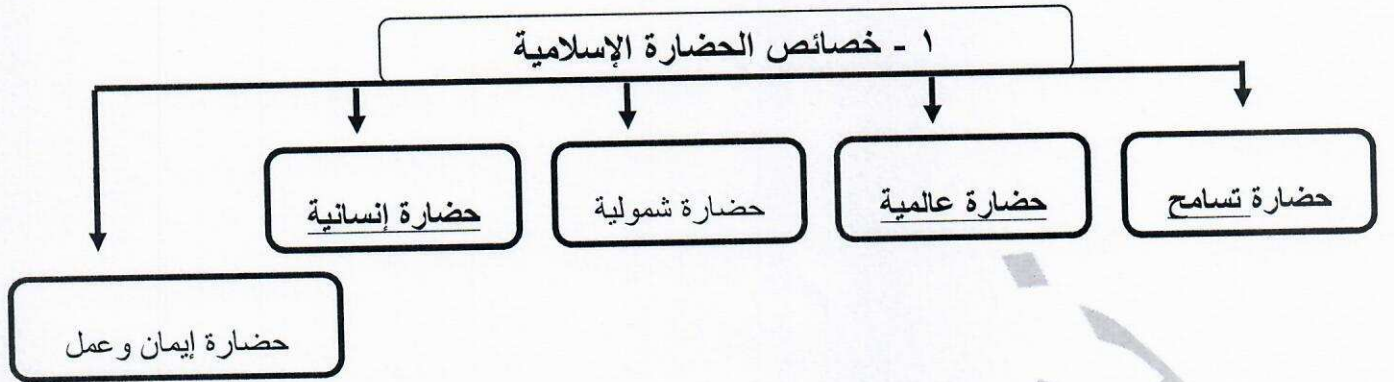


- بلاد الشام يمثلها على الخريطة الرقم (٢) ص ٤١
- مصر يمثلها على الخريطة الرقم (٤) ص ٦٨
- البحر المتوسط يمثلها على الخريطة الرقم (٣) ص ٧٤
- بلاد الأندلس يمثلها على الخريطة الرقم (١) ص ٤١
- بحر العرب يمثلها على الخريطة الرقم (٦) ص ٥٩

(د) أكمل العبارات التالية بما يناسبها فيما درست : (٥ درجات)

- ١- المدينة التي انطلقت منها الحضارة الإسلامية تسمى المدينة المنورة . ص ١٧
- ٢- العالم المسلم الذي اكتشف معادلة نصف قطر الأرض يسمى البيروني . ص ١٩
- ٣- المنصب الإداري الجديد الذي استحدث في عهد الخليفة عمر بن الخطاب يسمى المحتسب . ص ٢٥
- ٤- أصغر دول العالم الإسلامي من حيث المساحة تسمى جمهورية المالديف . ص ٥٢
- ٥- المحاصيل الزراعية التي تزرع من أجل التصدير تسمى الغلات النقدية . ص ٧٣

هـ) أكمل المخططات السهمية التالية : (٦ درجات) ص ٢٢ ، ٢٣



ص ٣٠



و) اكتب المفاهيم والمصطلحات الدالة على العبارات التالية : (٤ درجات)

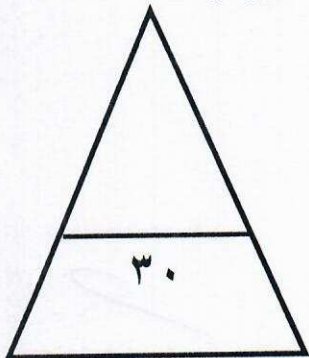
١- (الجزية) مبلغ مالي يدفعه الرجال غير المسلمين من (أهل الذمة) القادرون على حمل السلاح نظير حماية الدولة لهم . ص ٢٩

٢- (الحضارة) كل ما يطرأ على المجتمع من تقدم وتطور ورقي سواء في الجانب المادي أو الجانب الروحي . ص ١٨

٣- (الهضبة) أرض مرتفعة سطحها مستوي وتمتد لمساحة واسعة . ص ٥٣ + ص ٥٦

ص ٦٨

٤- (احتياطي النفط) كمية النفط المخزونة في باطن الأرض ولم تستخرج بعد .



السؤال الثاني : (مقال) ويتكون من (أ ، ب)

(أ) : علل لما يأتي :

- ١- ازدهار العلم وظهور العلماء في الدولة الإسلامية . (درجتان) - يكتفى بنقطتين - ص ٣٧
- تشجيع العلماء ورعاية وتمويل القيادات السياسية لهم من خلفاء وملوك وسلاطين وأمراء.
- الرخاء الاقتصادي . - التنافس العلمي بين الدول الإسلامية .
- حركة التعريب (الترجمة) للكتب القديمة اليونانية والهندية والفارسية .
- ٢- تنوع المناخ في دول العالم الإسلامي . (درجتان) - يكتفى بنقطتين - ص ٦٣
- امتداد دول العالم الإسلامي على مساحة شاسعة . - الموقع بالنسبة لدوائر العرض .
- الإطلالة على عدة مسطحات مائية في معظم أجزائه . - التنوع في التضاريس من جبال وهضاب وسهول ووديان .

(ب) اكتب فيما يلي مما درست :

- ١- أسس الحضارة الإسلامية . (درجتان) - يكتفى بنقطتين - ص ٢٠
- الدين الإسلامي . - اللغة العربية . - الحضارات الأخرى .
- ٢- جهود المسلمين في الزراعة . (درجتان) - يكتفى بنقطتين - ص ٢٦
- شق القنوات المائية والترع . - إقامة السدود . - تنظيم وسائل الري .
- ٣- العوامل التي ساعدت على زيادة الإنتاج الزراعي في دول العالم الإسلامي . (درجتان) - يكتفى بنقطتين - ص ٧٢
- التربة الخصبة . - المناخ . - وجود البحيرات والأنهار والآبار .
- سقوط الأمطار . - كثرة السكان والأيدي العاملة .

السؤال الثالث : (مقال) ويتكون من (أ ، ب)

(٤ درجات)

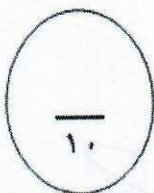
(أ) فرق بين كل مما يلي :

المناخ ص ٦٤	الطقس ص ٦٤
حالة الجو خلال فترة زمنية طويلة من حيث درجة الحرارة والرطوبة والأمطار والضغط الجوي .	حالة الجو في مكان لمدة زمنية قصيرة تتراوح بين يوم أو عدة أيام من حيث درجة الحرارة والرطوبة والأمطار والضغط الجوي .
الوادي ص ٥٣	السهول ص ٥٣
حوض أو منخفض طبيعي على سطح الأرض	أجزاء فسيحة من سطح الأرض تتميز باستوائها وقلة ارتفاعها

(٦ درجات)

(ب) أجب عن الاسئلة التالية :

- ١- عدد أهم المراكز العلمية في الحضارة الإسلامية .
- يكتفى بنقطتين - ص ٣٨
- المسجد الحرام في مكة المكرمة والمسجد النبوي في المدينة المنورة .
- بيت الحكمة في بغداد . - المرصد الفلكي في مراغة في أذربيجان .
- مجمع باي كاليان في مدينة بخارى في أوزبكستان .
- ٢- أذكر أهم الشخصيات الكويتية البارزة في مجال العمل الخيري والإنساني . - يكتفى بنقطتين - ص ٢٤
- سمو أمير البلاد الشيخ صباح الأحمد الصباح (قائد العمل الإنساني) .
- الداعية الدكتور عبد الرحمن السميّط .
(ما يراه المصحح مناسباً)
- ٣- ما أهمية السهول ؟ يكتفى بنقطتين - ص ٥٨
- استخدامها كموانئ طبيعية .
- تشييد المدن .
- تركيز السكان فيها لسهولة التنقل .



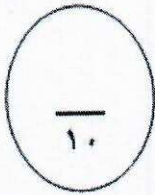
السؤال الرابع: (مقال) ويتكون من (أ ، ب)

- (أ) قارن بين العمان المدنية التالية حسب الجدول التالي : (٤ درجات)

وجه المقارنة	قصر عمرة ص ٣٤	قصر الرصافة ص ٣٥
ال خليفة الذي بناه	- يزيد بن الوليد .	- هشام بن عبد الملك .
الدولة التي يوجد بها	- الأردن	- سوريا .

(ب) علل لما يأتي : (٦ درجات)

- ١- لقيت التجارة تشجيعاً كبيراً في الحضارة الإسلامية . - يكتفى بنقطتين - ص ٢٨
- لدورها الكبير في التبادل التجاري مع المناطق المجاورة .
- إسهامها في نشر الدين الإسلامي .
- امتلاك العالم الاسلامي موقعا استراتيجيا والعديد من الخطوط التجارية البرية والبحرية .
- ٢- قلة عدد السكان في المناطق الجبلية في دول العالم الإسلامي . - يكتفى بنقطتين - ص ٥٥
- شدة انحدارها . - قلة وجود الأكسجين . - صعوبة التنقل .
- ندرة المياه . - ارتفاع درجة الحرارة .
- ٣- تعدد وتنوع مصادر انتاج الاسماك في دول العالم الإسلامي . - يكتفى بنقطتين - ص ٧٤
- وجود المحيطات و البحار . (مصادر طبيعية)
- المياه العذبة . (مصادر طبيعية)
- الاستزراع السمكي . (مصادر غير طبيعية)



(انتهت الأسئلة)