

تم تحميل هذا الملف من موقع المناهج الكويتية



محمد البلاطي

الملف أسئلة اختبار القصير من منصة البلاطي

[موقع المناهج](#) ⇨ [المناهج الكويتية](#) ⇨ [الصف الثاني عشر الأدبي](#) ⇨ [جغرافيا](#) ⇨ [الفصل الثاني](#)

روابط مواقع التواصل الاجتماعي بحسب الصف الثاني عشر الأدبي



روابط مواد الصف الثاني عشر الأدبي على تلغرام

[الرياضيات](#)

[اللغة الانجليزية](#)

[اللغة العربية](#)

[التربية الاسلامية](#)

المزيد من الملفات بحسب الصف الثاني عشر الأدبي والمادة جغرافيا في الفصل الثاني

مراجعة للفصل الثاني	1
دليل قضايا البيئة والتنمية المعاصرة الالكتروني في مادة الجغرافيا	2
ملخص رائع في مادة الجغرافيا	3
نماذج اسئلة في مادة الجغرافيا	4
اسئلة اختبارات واحاباتها النموذجية في مادة الجغرافيا	5

توقعات ليلة الامتحان أسئلة امتحانات تجريبية قصير (أ)



قضايا البيئة
والتنمية المعاصرة
الفصل الدراسي الثاني
2025 - 2024

السؤال الأول

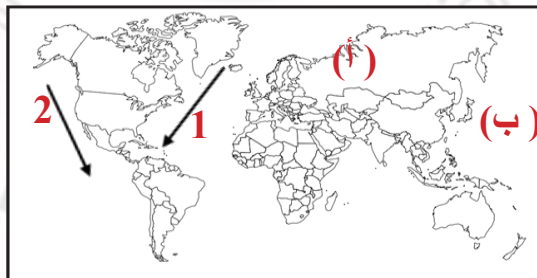
٢ ضع الحرف (أ) اذا كانت العبارتين صحيحتين والحرف (ب) اذا كانت العبارتين خاطئة والحرف (ج) اذا كانت احدي العبارتين صحيحة والاخرى خطأ :

م	العبارة الاولى	العبارة الثانية	الحرف
1-	تقع طبقة الأوزون في طبقة الاستراتوسفير.	تبلغ نسبة الأكسجين 78% في الغلاف الجوي.
2-	تم اكتشاف أول ثقب لطبقة الأوزون فوق القطب الجنوبي.	تعاني الكثير من الدول الصناعية من التلوث الخطر.
3-	تصل نسبة الغلاف المائي حوالي 75%.	ينهار النظام الأيكولوجي في مرحلة التلوث المقبول

٣ اكتب المصطلح العلمي الدال على العبارات التالية :

- 1 - طبقة تتكون من عدة غازات تحيط بالكرة الأرضية.
.....
- 2 - زيادة تركيز أحد الغازات في الغلاف الهوائي والذي يؤدي إلى انخفاض الانتاجية.
.....

٤ شاهد خريطة العالم ثم أجب عما يلي:



- 1 - تيار كاليفورنيا يمثل الرقم.
 - 2 - المحيط الهادي يمثل الحرف.
 - 3 - الموقع الذي يمثل حادثة تشرنوبل يحمل الحرف.
-
.....
.....

السؤال الثاني

٢ علل لما يأتي تعليلا علميا سليما :

1 - تتعدد مصادر التلوث الضوضائي

.....

.....

2 - أهمية الغلاف الجوي

.....

.....

موقع
المنهج الكويتية
almanahj.com/kw

٣ قارن بين كلا من :

أسباب تلوث المياه المالحة	أسباب تلوث المياه العذبة
.....
.....
.....
.....

٤ اقترح حولا لعلاج مشكلة التلوث الهوائي:

.....

.....

.....

.....

مع أطيب التمنيات بالنجاح والتوفيق،،،

السؤال الأول

شاهد خريطة العالم ثم أجب عما يلي:



- 1 - تم اكتشاف أول ثقب لطبقة الأوزون يحمل الرقم.
- 2 - المحيط الاطلنطي يمثل الحرف.
- 3 - تيار اليابان يمثل الرقم

صنف خصائص درجات التلوث حسب الجدول التالي:

(ذات تأثير سلبي على العناصر البيئية الطبيعية والبشرية - ينهار النظام الايكولوجي - لا يكاد تخلو من منطقة ما)

التلوث المدمر	التلوث المقبول	التلوث الخطر
.....

اختر الإجابة الصحيحة علمياً لكل من العبارات التالية بوضع علامة (✓) في المربع المقابل لها:

1 - تبلغ نسبة الأكسجين في الغلاف الجوي:

() 20% () 22%

() 21% () 23%

2 - تقع طبقة الأوزون في طبقة:

() التروبوسفير () الميزوسفير

() الاستراتوسفير () الثيرموسفير

السؤال الثاني

٢ علل لما يأتي تعليلا علميا سليما :

1 - التلوث الهوائي أكثر أنواع التلوث انتشارا.

.....

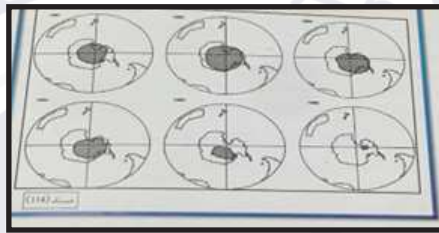
2 - للغلاف الجوي أهمية كبيرة.

.....

.....

٣ شاهد الصورة المعروضة ثم أجب عما يلي:

موقع
المنهج الكويتية
almanahj.com/kw



1 - اكتب تعليقا عما تمثله الصورة

.....

.....

2 - قارن بين كلا من:

الأثار الاقتصادية للتلوث الهوائي	الاثار البشرية للتلوث الهوائي
.....
.....
.....
.....
.....

٤ اقترح حولا لعلاج مشكلة التلوث المائي :

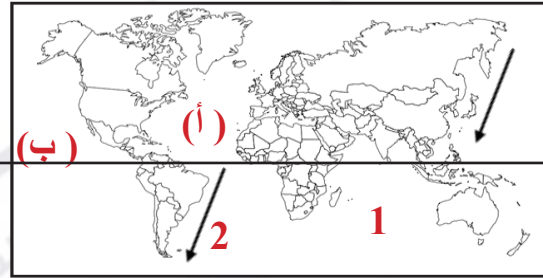
.....

.....

مع أطيب التمنيات بالنجاح والتوفيق،،،

السؤال الأول

٢ شاهد خريطة العالم ثم أجب عما يلي:



موقع
المنهج الكويتية
almanahj.com/kw

- 1 - تيار البرازيل يمثل الرقم.
- 2 - المحيط الاطلنطي يمثل الحرف.
- 3 - خط الاستواء يمثل الحرف

٣ أكمل المخطط التساهمي الاتي:

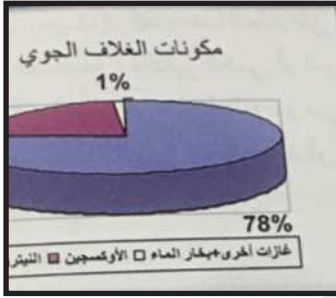


٤ صح ما تحته خط في العبارات التالية:

- ١ تم اكتشاف أول ثقب لطبقة الأوزون فوق القطب الشمالي.
- ٢ صوت غير مرغوب ناتج عن الاهتزازات يصدر علي شكل موجات يمثل تلوث مائي.

السؤال الثاني

٢ شاهد الصورة المعروضة ثم أجب عما يلي:



- عرف التلوث الهوائي

.....

.....

.....

عال لما يأتي تعليلا علميا سليما :

1 - أهمية الغلاف الجوي

.....

.....

2 - تتنوع مصادر التلوث الهوائي.

.....

.....

٣ اكتب ما تعرفه عن الاتي :

1 - التسخين الشامل للأرض:

.....

.....

.....

2 - لاجئ البيئي:

.....

.....

٤ اقترح حولا لعلاج مشكلة التلوث الضوضائي :

.....

.....

مع أطيب التمنيات بالنجاح والتوفيق،،،

السؤال الأول

اختر الإجابة الصحيحة علمياً لكل من العبارات التالية بوضع علامة (✓) في المربع المقابل لها:

1 - أكثر الأنهار الدولية تلوثاً نهر:

- | | |
|-------------|---------------|
| () الراين | () المسيسيبي |
| () الدانوب | () الفولجا |

2 - تعد المناطق المستقبلية للملوثات تعتبر مناطق ضغط :

- | | |
|-----------|-----------|
| () منخفض | () مرتفع |
| () بارد | () معتدل |

اكتب ما تعرفه عن الاتي :



.....
.....

.....
.....

صح ما تحته خط في العبارات التالية:

- | | | |
|---|--|-------|
| ١ | يبلغ عدد الأبار المشتعلة أثناء الغزو العراقي 838 بئراً. | |
| ٢ | يقع مقر منظمة حركة السلام الأخضر في الولايات المتحدة الأمريكية | |

السؤال الثاني

٢ اقرا المقولة التالية ثم أجب عما يلي من اسئلة:

«إن الطبيعة قادرة علي التكيف بسهولة فائقة ولكن الطبيعة تعرضت لضربة شديدة فيما يتعلق بالعناصر البرية والبحرية والجوية في دولة الكويت»

1 - من قائل هذه الكلمات؟

.....

2 - استخرج حقيقة عما تمثله هذه الكلمات

.....

٣ ارسم خريطة الكويت في المربع الذي أمامك ثم أجب عما يلي:



1 - حدد بحرة بالرمز ++

2- حقل الوفرة بالرمز ##

٤ دال علي صحة العبارة:

- اجتمعت بعض العوامل المناخية والبشرية وأضفت صفة العالمية علي مشكلة التلوث البيئي.

.....

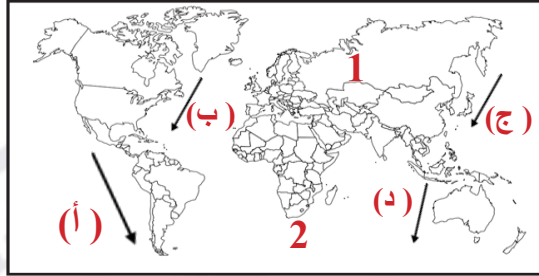
.....

.....

مع أطيب التمنيات بالنجاح والتوفيق،،،

السؤال الأول

شاهد خريطة العالم ثم أجب عما يلي:



- 1 - مقر انفجار مفاعل تشرنوبل بالرقم
- 2 - تيار الخليج بالحرف.
- 3 - تيار بيرو بالحرف.
- 4 - تيار كمتشكا بالحرف

أكمل العبارات التالية بما يناسبها:

- 1 - تم انشاء منظمة حركة السلام الأخضر عام
- 2 - أدي الغزو العراقي إلي وفاة أكثر من 100 شخص في

اكتب ما تعرفه عن الاتي :



السؤال الثاني

أجب عما يلي :

1 - الطرق المتبعة في تنظيف التربة من الملوثات الهيدروكربونية.

.....
.....

2 - الخسائر الاقتصادية والبيئة المترتبة علي عدوان النظام العراقي البائد.

.....
.....



almanahj.com/kw

شاهد الشعار الذي أمامك ثم أجب عما يلي :



1 - ماذا يمثل هذا الشعار.

.....

2 - ما المدنية مقر الشعار.

.....

3 - اذكر أهداف هذا الشعار.

.....

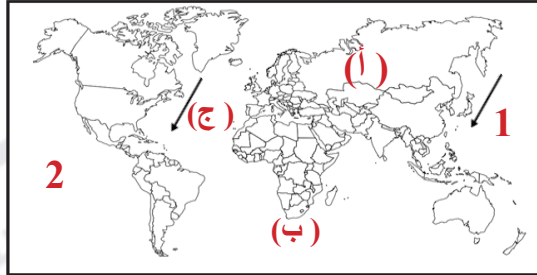
اكتب في حدود سطرين عن دور التجارة الدولية في أعضاء صفة العالمية علي مشكلة البيئي :

.....
.....
.....

مع أطيب التمنيات بالنجاح والتوفيق،،،

السؤال الأول

٢ شاهد خريطة العالم ثم أجب عما يلي:



موقع
المنهج الكويتية
almanahj.com/kw

.....
.....
.....
.....

- 1 - أول ثقب اكتشف لطبقة الأوزون يحمل الحرف.
- 2 - تيار كمشتكا الذي يحمل الرقم.
- 3 - مكان حادثة تشرنوبل يحمل الحرف.
- 4 - أكبر المحيطات مساحة يحمل يحمل الرقم.

٣ اختر الإجابة الصحيحة علمياً لكل من العبارات التالية بوضع علامة (/) في المربع المقابل لها:

1 - تبلغ نسبة الأكسجين في الغلاف المائي:

- | | |
|---------|---------|
| () 67% | () 68% |
| () 69% | () 70% |

2 - تقع طبقة الأوزون في طبقة:

- | | |
|-------------------|-----------------|
| () التروبوسفير | () الميزوسفير |
| () الاستراتوسفير | () الثيرموسفير |

٤ أكمل العبارات التالية بما يناسبها:

- 1 - النهر الذي يمثل أكثر الأنهار الدولية الملوثة نهر يسمى.....
- 2 - المناطق ذات الضغط المرتفع تعتبر مناطق

السؤال الثاني

أذكر اثنان من كلا مما يلي :

1 - أهمية الغلاف الجوي.

.....
.....

2 - مصادر التلوث الهوائي.

.....
.....

المنهج الكويتية
almanahj.com/kw

اكتب ما تعرفه عما يلي :

1 - مناطق تجمع الملوثات:

.....
.....

2 - لاجئ بيئي:

.....
.....

أقترح حلولاً لمعالجة ما يلي:

التلوث الهوائي	التلوث المائي	التلوث الضوضائي
.....
.....
.....
.....
.....

مع أطيب التمنيات بالنجاح والتوفيق،،،

السؤال الأول

اختر الإجابة الصحيحة علمياً لكل من العبارات التالية بوضع علامة (✓) في المربع المقابل لها:

1 - يقع مقر حركة السلام الأخضر في مدينة:

- () فانكوفر () مدريد
() نيروبي () واشنطن

2 - تقع طبقة الأوزون جزء من طبقة:

- () التروبوسفير () الميزوسفير
() الاستراتوسفير () الثيرموسفير

اكتب المصطلح العلمي الدال على العبارات التالية :

- 1 - إحداث خلل وتلف في نوعية المياه ونظامها الأيكولوجي.
2 - زيادة تركيز أحد الغازات في الغلاف الهوائي يؤدي إلى انخفاض الانتاجية الزراعية.

صنف خصائص درجات التلوث حسب الجدول التالي:

(التخلص من الطحالب - الفحص الدوري لعوادم السيارات - علاج مشكلة التلوث النفطي - إبعاد المدارس)

علاج التلوث الهوائي	علاج التلوث المائي	علاج التلوث الضوضائي
.....
.....

السؤال الثاني

١ علل لما يأتي تعليلاً علمياً سليماً :

1 - أهمية الغلاف الجوي.

.....
.....

2 - تتعدد الطرق المتبعة في تنظيف التربة من الملوثات الهيدروكربونية.

.....
.....

٢ ارسم خريطة الكويت في المربع الذي أمامك ثم أجب عما يلي:



1 - حدد منطقة الروضتين ++

2 - حدد حقل الوفرة بالرمز &

٣ قارن بين كلا من:

أسباب تلوث المياه العذبة السطحية	أسباب تلوث مياه البحار والمحيطات
.....
.....
.....
.....
.....

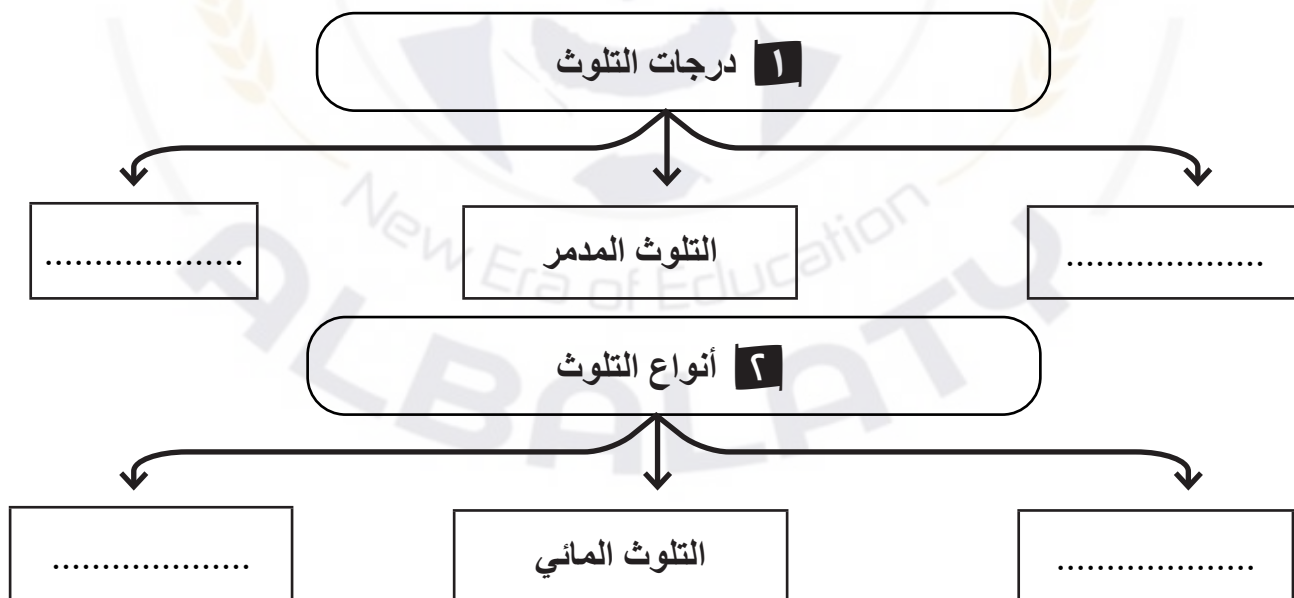
مع أطيب التمنيات بالنجاح والتوفيق،،،

السؤال الأول

٢ اختر من المجموعة (٢) ما يناسبها من المجموعة (١) بكتابة الرقم المناسب:

م	المجموعة (٢)	الرقم	المجموعة (١)
١	صوت غير مرغوب فيه ينتج من الاهتزازات علي شكل موجات	التلوث البيئي
٢	تغير كمي أو نوعي يمكن أي يطرأ علي تركيب عناصر يؤدي إلي خلل	التلوث البيولوجي
٣	تواجد جسيمات أو جزيئات في الهواء	تلوث مائي
٤	خلل أو تلف في نوعية المياه ونظامها الايكولوجي	تلوث هوائي
٥	--	تلوث ضوضائي

٣ أكمل المخطط التساهمي الاتي:



السؤال الثاني

اقرأ المقولة التالية ثم أجب عما يلي من أسئلة:

«يعد الغلاف الجوي هو من أهم الأسباب الرئيسية للحياة على سطح الكرة الأرضية . لكن يتعرض لمصادر عديدة للتلوث فالعالم الآن يحاول معالجة الأضرار الناجمة عن تلوثه »

1 - عرف الغلاف الجوي:

.....

2 - ما أهمية الغلاف الجوي.

.....

.....

المنهج الكويتي
almanahj.com/kw

3 - اذكر مصادر تلوث الغلاف الجوي.

.....

.....

.....

قارن بين كلا من:

مخاطر التلوث الضوئي	مكافحة التلوث الضوئي
.....
.....
.....

اكتب ما تعرفه عن آثار التلوث الهوائي على المناخ :

.....

.....

.....

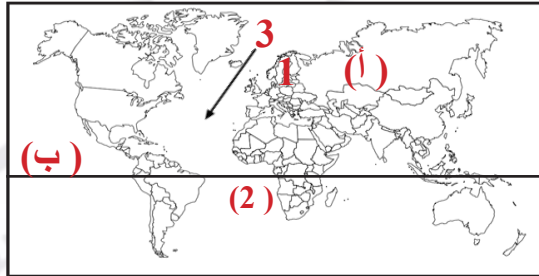
.....

.....

مع أطيب التمنيات بالنجاح والتوفيق،،،

السؤال الأول

٢ شاهد خريطة العالم ثم أجب عما يلي:



موقع
المنهج الكويتية
almanahj.com/kw

.....
.....
.....

- 1 - القارة الذي يجري علي أراضيها أكثر الأنهار تلوثا تحمل الرقم.
- 2 - خط الاستواء يمثل الحرف.
- 3 - تيار لبرادور يمثل الرقم.

٣ اكتب ما تعرفه عن الاتي :



.....
.....



.....

٤ أكمل الناقص في الرسم :



السؤال الثاني

٢ علل لما يأتي تعليلاً علمياً سليماً :

1 - التلوث الهوائي أكثر أنواع التلوث انتشاراً.

2 - تتعدد طرق تنظيف التربة من الملوثات الهيدروكربونية.

3 - للتلوث الضوضائي عدة مصادر.



٣ قارن بين كلا من:

الأثار البشرية للتلوث الهوائي	الأثار الاقتصادية للتلوث الهوائي
.....
.....
.....
.....

٤ اكتب ما تعرفه عن الأضرار التي لحقت بالمناخ :

مع أطيب التمنيات بالنجاح والتوفيق،،،

السؤال الأول

٢ ضع الحرف (أ) اذا كانت العبارةيين صحيحتين والحرف (ب) اذا كانت العبارةيين خاطئة والحرف (ج) اذا كانت احدي العبارةيين صحيحة والاخري خطأ :

م	العبارة الأولى	العبارة الثانية	الحرف
1-	لم يشهد العالم تلوثا بيئيا يمثل حجم التلوث البيئي الناجم عن احتراق أبار البترول.	وصلت سحب الدخان الأسود الناتج عن حرائق البترول إلي سواحل اليونان
2-	تقدر كمية البترول المحترقة في الأبار المشتعلة إلي 16 ملايين برميل يوميا.	يبلغ عدد الأبار المشتعلة أثناء الغزو العراقي 393 بئرا
3-	الأضرار التي تصيب المحاصيل والغابات في الولايات المتحدة الأمريكية يزيد تكاليفها عن 10 مليارات دولار.	تم اكتشاف أول ثقب لطبقة الأوزون فوق القطب الشمالي

٣ ماذا يعني الجمع بين العبارات التالية :

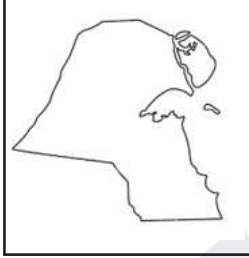
- 1 - زيادة الأمراض + ارتفاع معدلات الوفيات + لاجئ بيئي =
- 2- نقل التربة وردمها + خلط التربة بالمخصبات + سحب البترول إلي خزانات خاصة =

٤ اكتب المصطلح العلمي الدال على العبارات التالية :

- 1 - طبقة تتكون من عدة غازات تحيط بالكرة الأرضية.
- 2- زيادة تركيز أحد الغازات في الغلاف الهوائي يؤدي إلي انخفاض الانتاجية الزراعية.

السؤال الثاني

٢ ارسم خريطة الكويت في المربع الذي أمامك ثم أجب عما يلي:



- 1 - حدد منطقة الروضتين *
- 2 - حدد حقل برقان بالرمز &
- 3 - حدد حقل الصابرية بالرمز #

٣ شاهد الخريطة التي أمامك ثم أجب عما يلي:



- 1 - استخرج حقيقة عما تمثله الخريطة.

- 2 - دُل: هناك نظرية تستند علي الربط بين الأعاصير التي أصابت بعض الدول واحتراق الآبار.

٤ اكتب ما تعرفه عن الأضرار التي لحقت بالتربة في للغزو العراقي :

مع أطيب التمنيات بالنجاح والتوفيق،،،



احرص على اقتناء سلسلة منصة البلاطي

- كتاب الشرح.
- كتاب الأسئلة.
- كتاب إجابة الأسئلة.
- المراجعة النهائية (الأسئلة - الإجابة).
- توقعات ليلة الامتحان (الأسئلة - الإجابة).
- كبسولة ليلة الامتحان.
- برشامة ليلة الامتحان.

موقع
المنهج الكويتية
almanahj.com/kw



قضايا البيئة والتنمية المعاصرة الفصل الدراسي الثاني 2024 - 2025

استمتع بتجربة التعلم
مع منصة البلاطي

