

تم تحميل هذا الملف من موقع المناهج الكويتية



مدرسة التميز النموذجية

الملف أوراق عمل اختبار تحصيلي أول

[موقع المناهج](#) ⇌ [المناهج الكويتية](#) ⇌ [الصف الثاني](#) ⇌ [رياضيات](#) ⇌ [الفصل الثاني](#)

روابط مواقع التواصل الاجتماعي بحسب الصف الثاني



روابط مواد الصف الثاني على تلغرام

[الرياضيات](#)

[اللغة الانجليزية](#)

[اللغة العربية](#)

[التربية الاسلامية](#)

المزيد من الملفات بحسب الصف الثاني والمادة رياضيات في الفصل الثاني

| | |
|--|---|
| تدريبات | 1 |
| وسائل الوحدة الحادية عشر | 2 |
| مذكرة | 3 |
| مذكرة مهمة | 4 |
| مذكرة مهمة | 5 |

[١] أكمل .

٢

| | | |
|----|----|---|
| ٢٠ | ١٦ | ٤ |
| | | |


٤ ÷

١

| | | |
|----|----|---|
| ١٨ | ١٠ | ٤ |
| | | |

٢ ÷

[٢] حوِّط ما يمثِّل النِّصْفَ.



[٣] حوِّط ما يمثِّل الثُّلُثَ.



[٤] حوِّط ما يمثِّل الربع



[٥] اكمل :

(١) الساعة - دقيقة

(٢) نصف الساعة = دقيقة

(٣) ربع الساعة = دقيقة


(٤) الشهر الذي نحتفل فيه بالعيد الوطني هو.....

(٥) الشهر الذي يأتي بعد شهر ابريل هو

(٦) $٦٣٥ = ٥ + + ٦٠٠$

(٧) $٩٦٥ = ٩٠٠ + ٦٠ +$

[٦] اكتب الوقت



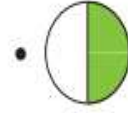
[٧] اكتب رمز العدد

[٨] اربط كل شكل بالكلمة المناسبة:

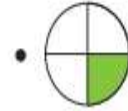
• نصف



• ربع



• ثلث



[٩] : حوّل الإجابة الصحيحة :

(١) $٨ \div ٢ = \dots\dots\dots$ (١ ، ٤ ، ٣)

(٢) الشكل  يمثل (النصف ، الثلث ، الربع)

(٣) الشهر الذي نحتفل فيه بالعيد الوطني هو..... (فبراير ، مارس ، مايو)

(٤) العدد الذي يقع بعد العدد ٦٥٤ مباشرة هو..... (٦٥٣ ، ٦٥١ ، ٦٥٥)

(٥) عبدالله معه ٦ دينار ، نصفهم = دينار (٣ دينار ، ٢ دينار ، دينار واحد)

(٦) عمر معه ٨ دينار ، نصفهم = دينار (٣ دينار ، ٢ دينار ، ٤ دينار)

{ الإجابة }

[١]

١

٢


| | | |
|----|----|---|
| ٢٠ | ١٦ | ٤ |
| ٥ | ٤ | ١ |

| | | |
|----|----|---|
| ١٨ | ١٠ | ٤ |
| ٩ | ٥ | ٢ |

[٢] حَوِّطْ مَا يُمَثِّلُ النِّصْفَ.



[٣] حَوِّطْ مَا يُمَثِّلُ الثُّلُثَ.



[٤] حَوِّطْ مَا يُمَثِّلُ الرُّبْعَ.



[٥] اكمل :

(١) الساعة - دقيقة **٦٠**

(٢) نصف الساعة = دقيقة **٣٠**

(٣) ربع الساعة = دقيقة **١٥**

(٤) الشهر الذي نحتفل فيه بالعيد الوطني هو **فبراير**

(٥) الشهر الذي يأتي بعد شهر ابريل هو **مايو**

(٦) $٦٣٥ = ٥ + \dots + ٦٠٠$ **٣٥**

(٧) $٩٦٥ = \dots + ٦٠ + ٩٠٠$ **٦٥**

[٦] اكتب الوقت



٦:١٥



١:٣٠




٧:٣٠




٦:٠٠

[٧] اكتب رمز العدد



٣٠٠

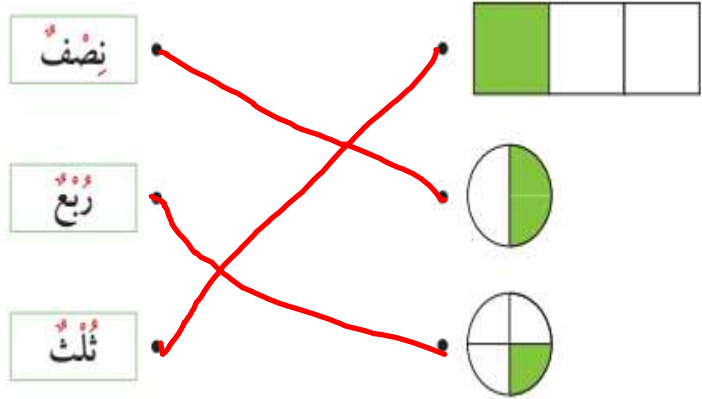


٦٠٠



٣٠٠

[٨] اربط كل شكل بالكلمة المناسبة:



[٩] : حوّل الإجابة الصحيحة :

(١ ، ٤ ، ٣) $2 \div 8 =$ (١)

(٢) الشكل  يمثل (النصف ، الثلث ، الربع)

(٣) الشهر الذي نحتفل فيه بالعيد الوطني هو..... (فبراير ، مارس ، مايو)

(٤) العدد الذي يقع بعد العدد ٦٥٤ مباشرة هو..... (٦٥٥ ، ٦٥١ ، ٦٥٣)

(٥) عبدالله معه ٦ دينار ، نصفهم = دينار (٣ دينار ، ٢ دينار ، دينار واحد)

(٦) عمر معه ٨ دينار ، نصفهم = دينار (٣ دينار ، ٢ دينار ، ٤ دينار)



مدرسة التميز النموذجية
(ابتدائي - متوسط - ثانوي)
الجهاز الفني التربوي

منصات التميز التعليمية

لزيارة منصة التميز التعليمية في اليوتيوب امسح الباركود التالي :



لزيارة منصة التميز التعليمية في تليجرام امسح الباركود الخاص بقناة كل فصل مما يلي :



الصف الرابع



الصف الثالث



الصف الثاني



الصف الأول



الصف التاسع



الصف الثامن



الصف السابع



الصف السادس



الصف الخامس



الصف الثاني عشر
أدبي



الصف الثاني عشر
علمي



الصف الحادي عشر
علمي



الصف الحادي عشر
أدبي



الصف العاشر



لزيارة صفحتنا في تويتر

لزيارة صفحتنا في الانستغرام