

تم تحميل هذا الملف من موقع ملفات الكويت التعليمية



[com.kwedufiles.www//:https](https://www.kwedufiles.com)

*للحصول على أوراق عمل لجميع الصفوف وجميع المواد اضغط هنا

* للحصول على أوراق عمل لجميع مواد الصف السادس اضغط هنا

<https://kwedufiles.com/6>

* للحصول على جميع أوراق الصف السادس في مادة اجتماعيات وجميع الفصول, اضغط هنا

<https://kwedufiles.com/6social>

* للحصول على أوراق عمل لجميع مواد الصف السادس في مادة اجتماعيات الخاصة بـ الفصل الأول اضغط هنا

<https://www.kwedufiles.com/6social1>

* لتحميل كتب جميع المواد في جميع الفصول للـ الصف السادس اضغط هنا

<https://www.kwedufiles.com/grade6>

[bot_kwlinks/me.t//:https](https://t.me/bot_kwlinks)

للحصول على جميع روابط الصفوف على تلغرام وفيسبوك من قنوات وصفحات: اضغط هنا

الروابط التالية هي روابط الصف السادس على مواقع التواصل الاجتماعي

مجموعة الفيسبوك

صفحة الفيسبوك

مجموعة التلغرام

بوت التلغرام

قناة التلغرام

رياضيات على التلغرام





وزارة التربية

الإدارة العامة لمنطقة الفروانية التعليمية
التوجيه الفني للاجتماعيات

امتحان نهاية الفترة الدراسية الأولى
(الصف السادس)
للعام الدراسي (٢٠١٩ م - ٢٠٢٠ م)

المقرر: الكويت ودول الخليج العربية
الزمن : ساعة ونصف
عدد أوراق الأسئلة ٥

أجب عن جميع الأسئلة التالية :

السؤال الأول : ويتكون من (أ - ب - ج - د - هـ - و)

(أ) اختر الإجابة الصحيحة من بين البدائل التي تلي كل عبارة: (٦ درجات)

- ١- تقع منطقة الخليج العربية بالنسبة لقارة آسيا في الجهة : ص ١٩
(الشمالية الغربية - الجنوبية الغربية - الشمالية الشرقية - الجنوبية الشرقية)
- ٢- الدولة الخليجية العربية التي ظهرت فيها حضارة مجان : ص ٤٨
(دولة الكويت - الامارات العربية المتحدة - المملكة العربية السعودية - سلطنة عمان)
- ٣- القرن الميلادي الذي ظهر فيه الإسلام: ص ٥٣
(الخامس - السادس - السابع - الثامن)
- ٤- خرجت هجرة المعاضيد من شبه الجزيرة العربية إلى : ص ٥٧
(البحرين - رأس الخيمة - قطر - الكويت)
- ٥- أول دولة أوروبية استعمارية وصلت للخليج العربي : ص ٦٠
(هولندا - بريطانيا - البرتغال - اسبانيا)
- ٦- العام الذي أعلن فيه عن قيام مجلس التعاون لدول الخليج العربية : ص ٧٠
(١٩٨٠م - ١٩٨١م - ١٩٨٢م - ١٩٨٣م)

(ب) أكمل العبارات التالية بما يناسبها فيما درست : (٦ درجات)

- ١ - الدولة الخليجية العربية التي يوجد بها الجبل الأخضر تسمى سلطنة عُمان ص ٢٣
- ٢- ظهرت الحضارة الهلينستية في دولة الكويت في جزيرة تسمى فيلكا ص ٤٧
- ٣- حاكم الكويت الذي حصلت في عهده دولة الكويت على استقلالها يسمى الشيخ عبد الله السالم الصباح ص ٦٣
- ٤- الدولة الخليجية العربية الوحيدة التي لم تخضع للاستعمار تسمى المملكة العربية السعودية ص ٦٥
- ٥- المدينة التي انطلقت منها الأمة الإسلامية تسمى المدينة المنورة ص ٥٣
- ٦- العام الذي تم فيه انطلاق السوق الخليجي المشترك ٢٠٠٨م ص ٧٧

(ج) اختر من القائمة (أ) ما يناسبها من القائمة (ب) بوضع الرقم في المكان المناسب ص ٣٢ (٦ درجات)

م	القائمة (أ)	الرقم	القائمة (ب)
١	القلاف	٥	ربان السفينة
٢	الطواش	٤	مطرب السفينة
٣	المجدمي	٦	يغوص في أعماق البحر بحثاً عن اللؤلؤ
٤	النهام	-	يسحب الغاصة من قاع البحر
٥	النوخدة	٣	رئيس البحرية
٦	الغواص	٢	تاجر اللؤلؤ
٧		١	صانع السفينة

(د) صنف النباتات الآتية حسب مكانها الصحيح في الجدول:

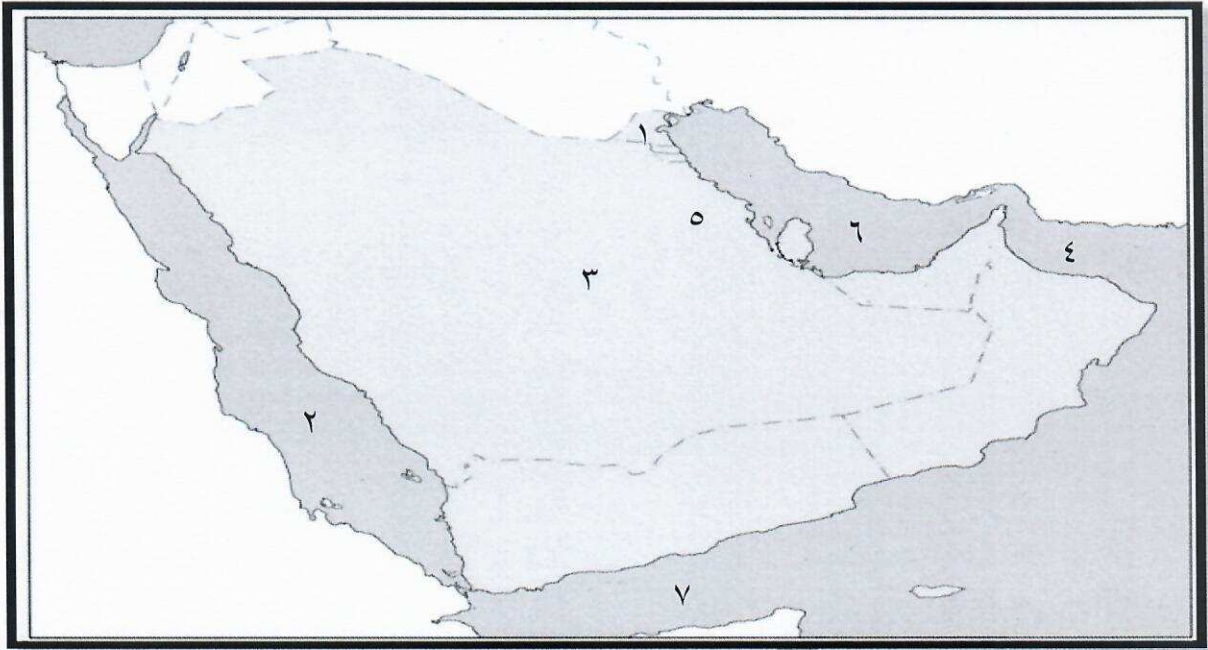
(الخبيزة - الصبار - الحويذان - العرفج - الثندا - العنصيل) . ص ٢٦ (٦ درجات)

النبات المعمر	النبات الحولي
- الصبار - العرفج - الثندا	- الخبيزة - الحويذان - العنصيل

(هـ) أكتب المفهوم أو المصطلح الدال عليه العبارات التالية (٦ درجات)

- ١- (المناخ) حالة الجو في مكان ما خلال فترات زمنية طويلة . ص ٢٥
- ٢- (الواحة) منطقة تقع في الصحراء فيها مياه عذبة صالحة للزراعة . ص ٢٩
- ٣- (المياه الجوفية) المياه التي توجد في باطن الأرض . ص ٢٨
- ٤- (الجبل) كل مرتفع له قمة لا يقل ارتفاعه عن ١٠٠٠ متر تقريباً . ص ٢٣
- ٥- (الخليج العربي) ذراع مائي لبحر العرب يمتد من خليج عُمان جنوباً حتى شط العرب شمالاً . ص ١٩
- ٦- (الاستعمار) أن تسيطر دولة قوية على دولة ضعيفة لاستغلال مواردها وخيراتها . ص ٦١

(و) : لاحظ خريطة شبه الجزيرة العربية ثم أجب عن الأسئلة التي تليها : (٦ درجات) ص ٢٣



(٢)

- البحر الأحمر يمثلته على الخريطة الرقم

(٤)

- خليج عُمان يمثلته على الخريطة الرقم

(٣)

- هضبة نجد يمثلها على الخريطة الرقم

(٥)

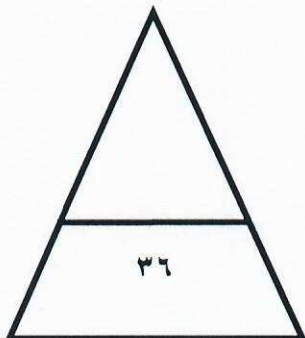
- سهل الأحساء يمثلته على الخريطة الرقم

(١)

- دولة الكويت يمثلها على الخريطة الرقم

(٦)

- الخليج العربي يمثلته على الخريطة الرقم



السؤال الثاني: ويتكون من (أ - ب - ج)

(أ) عرف المفاهيم والمصطلحات التالية:

(٣ درجات)

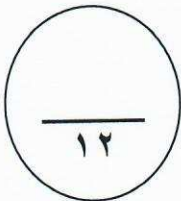
- ١- الموقع النسبي : الموقع بالنسبة للماء واليابس ص ٢٠
- ٢- السهل : أجزاء فسيحة من سطح الأرض تتميز باستوائها وقلة ارتفاعها ص ٢٣
- ٣- الاستقلال: تحرير الدولة من المستعمر الأجنبي وقيامها بمسؤولية إدارة شؤونها الداخلية والخارجية ص ٦٣

(ب) علل لما يأتي (٦ درجات)

- ١- كانت حياة السكان في منطقة الخليج العربية قديماً قاسية وخشنة . ص ٢٧
لنقص البيئة وقلة الموارد فيها خاصة المياه . (ما يراه المصحح مناسباً) (درجة)
- ٢- انصراف سكان منطقة الخليج العربية عن حرفة الغوص على اللؤلؤ حديثاً . ص ٣١ (درجتان)
بسبب ظهور اللؤلؤ الصناعي واكتشاف النفط .
- ٣- تعتبر سفينة البغلة أفضل أنواع السفن المستعملة في رحلة السفر . ص ٣٤ (درجتان)
- لمتانتها - وقدرتها على نقل الحمولة الكبيرة - كما تمتاز بقلة تعرضها للأخطار البحرية .
- ٤- تنافس الدول الاستعمارية على منطقة الخليج العربية منذ القرن الخامس عشر . ص ٦٠ (درجة)
لاستغلال الموقع وإدراكا منها لأهميته

(ج) قارن بين كل مما يلي : ص ٢١ (٣ درجات)

أوجه المقارنة	خطوط الطول	دوائر العرض
التعريف (درجتان)	عبارة عن خطوط وهمية أي غير موجودة على سطح الأرض ترسم على الكرة الأرضية وتقسّم الكرة الأرضية إلى قسمين شرقي وغربي .	عبارة عن خطوط وهمية أي غير موجودة على سطح الأرض ترسم على الكرة الأرضية وتقسّم الكرة الأرضية إلى قسمين شمالي وجنوبي .
العدد (درجة)	٣٦٠ خطاً	١٨٠ دائرة



السؤال الثالث: ويتكون من (أ - ب).
(أ) أجب عن الأسئلة الآتية :

١ - أذكر أنواع الرياح التي تهب على دول الخليج العربية. ص ٢٥ (٣ درجات)

- أ - الرياح الشمالية
- ب - الرياح الجنوبية الشرقية (الكوس)
- ج - الزوابع (العواصف الترابية)

٢ - عدد وسائل صيد الأسماك عند سكان دول الخليج العربية قديماً . ص ٣١ (٣ درجات)

- أ - الميدان
 - ب - الحظرة
 - ج - القرقور
- (ما يراه المصحح مناسباً)

٣ - ما هي العوامل التي ساعدت على قيام الحضارات في منطقة الخليج العربية ؟ ص ٥١ (٣ درجات)


- أ - الموقع المتميز
 - ب - توفر آبار مياه الشرب
 - ج - البيئة الطبيعية الملائمة للاستقرار وقيام الحضارات
- (ما يراه المصحح مناسباً)

(ب) لاحظ الصور التالية ثم أكتب أسماء الحرف اليدوية التي مارسها سكان دول الخليج العربية قديماً:

٣ درجات ص ٢٩



خياطة البشوت



حياكة السدو



صناعة الخوص