

تم تحميل هذا الملف من موقع ملفات الكويت التعليمية



[com.kwedufiles.www//:https](https://www.kwedufiles.com)

*للحصول على أوراق عمل لجميع الصفوف وجميع المواد اضغط هنا

* للحصول على أوراق عمل لجميع مواد الصف السادس اضغط هنا

<https://kwedufiles.com/6>

* للحصول على جميع أوراق الصف السادس في مادة اجتماعيات وجميع الفصول, اضغط هنا

<https://kwedufiles.com/6social>

* للحصول على أوراق عمل لجميع مواد الصف السادس في مادة اجتماعيات الخاصة بـ الفصل الأول اضغط هنا

<https://www.kwedufiles.com/6social1>

* لتحميل كتب جميع المواد في جميع الفصول للـ الصف السادس اضغط هنا

<https://www.kwedufiles.com/grade6>

للحصول على جميع روابط الصفوف على تلغرام وفيسبوك من قنوات وصفحات: اضغط هنا [bot_kwlinks/me.t//:https](https://t.me/bot_kwlinks)

الروابط التالية هي روابط الصف السادس على مواقع التواصل الاجتماعي

مجموعة الفيسبوك

صفحة الفيسبوك

مجموعة التلغرام

بوت التلغرام

قناة التلغرام

رياضيات على التلغرام

منطقة حولي التعليمية

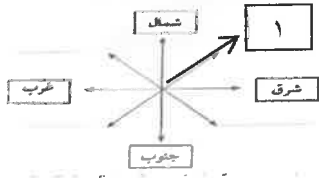
اختبار نهاية الفترة الدراسية الأولى

العام الدراسي 2020/2019م

الصف السادس

نموذج إجابة اختبار مادة

الاجتماعيات



السؤال الأول (موضوعي) ويتكون من (أ - ب - ج - د - هـ - و) :

(أ) ظلل الخيار الصحيح من بين الخيارات التي تلي كل عبارة :

١- يمثل الرقم (١) بالشكل الذي أمامك جهة فرعية تسمى : ص ٢٢

شمال شرق	شمال غرب	جنوب غرب	جنوب شرقي
----------	----------	----------	-----------

٢- أفضل أنواع السفن المستعملة في رحلة السفر لمتانتها وقدرتها على تحمل الحمولة الكبيرة اسمها: ص ٣٤

البغلة	البوم	السنبوك	الجالبوت
--------	-------	---------	----------

٣- تمتد السهول شرقاً على سواحل الخليج العربي فيما عدا منطقة: ص ٢٣

النفوذ	الجبل الأخضر	تلال الزور	الربع الخالي
--------	--------------	------------	--------------



٤- الصورة المقابلة تمثل معلم من معالم دولة خليجية عربية تسمى : ص ٦٨

الإمارات	الكويت	البحرين	قطر
----------	--------	---------	-----

٥- أعلن عن قيام مجلس التعاون الخليجي لدول الخليج العربية في مدينة اسمها : ص ٧٠

الدوحة	الرياض	أبوظبي	جدة
--------	--------	--------	-----

٦- الدولة الخليجية الوحيدة التي لم تتعرض للاستعمار اسمها : ص ٦٥

- الكويت	البحرين	السعودية	عمان
----------	---------	----------	------

تابع السؤال الأول : (موضوعي)

أ- أكمل العبارات التالية بما يناسبها فيما درست: لكل نقطة درجة

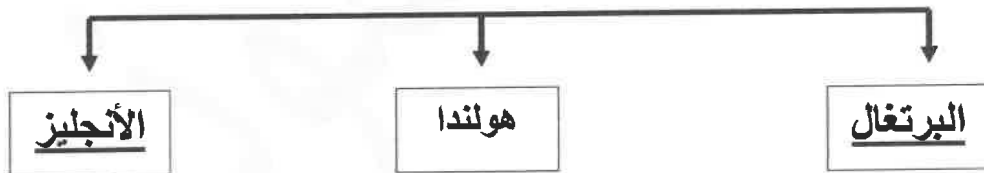
- ١- بداية موسم الغوص يسمى الدشة ص ٣٢
- ٢- عرف الخليج العربي قديما بإسم بحر شروق الشمس و بالبحر . الأدنى ص ٤٧
- ٣- العام الذي حصلت فيه مملكة البحرين على استقلالها ١٩٧١ م ص ٦٥
- ٤- ألغيت معاهدة الحماية ١٨٩٩ مع بريطانيا في عهد الشيخ عبدالله السالم ص ٦٣
- ٥- خطوط الطول عبارة عن خطوط وهمية اي غير موجودة على سطح الأرض عددها ٣٦٠ خطاً ص ٢١
- ٦- الرياح الجنوبية الشرقية في دولة الكويت تسمى الكوس ص ٢٥

ج- أكمل المخططات السهمية التالية بما يناسبه فيما درست: لكل نقطة درجة

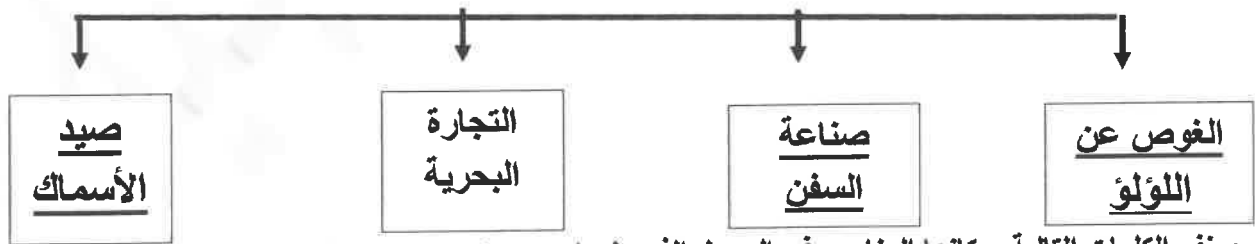
مظاهر الحضارة الإسلامية: ص ٥٥



الدول الاستعمارية الأوربية التي توالى على الخليج العربي: ص ٦٠



الأنشطة البحرية التي مارسها سكان دول الخليج العربية قديما : ص ٣١ - ٣٢ - ٣٤



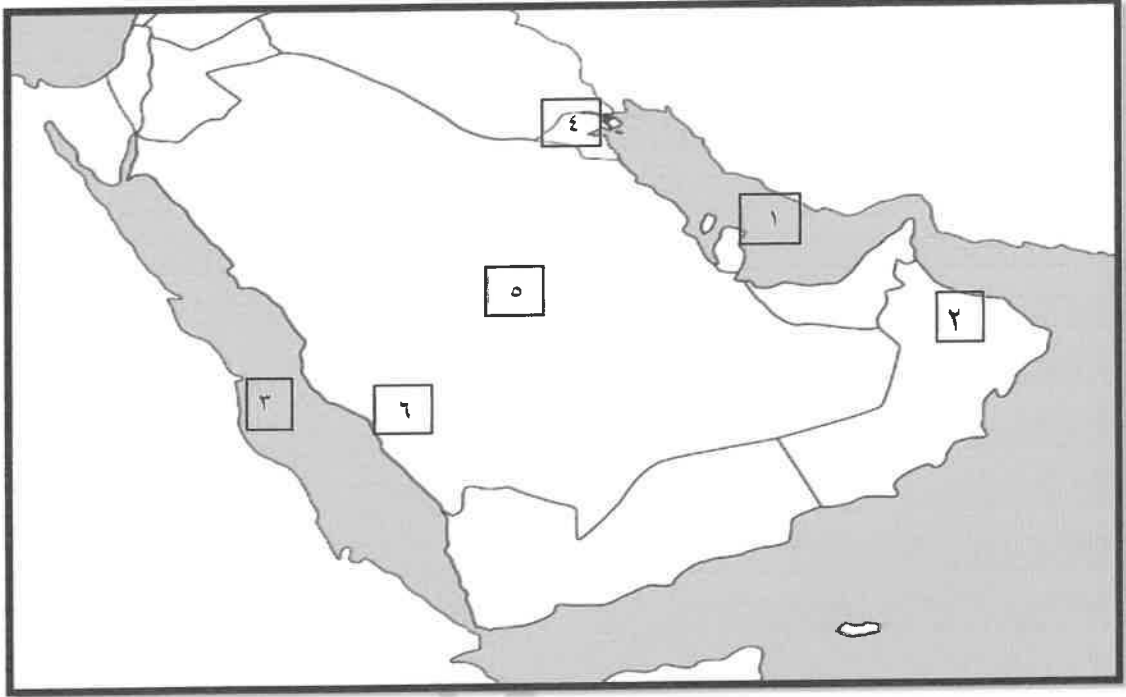
د- صنف الكلمات التالية بمكانها المناسب في الجدول الذي يليها : (ست درجات) ص ٥٧

(القواسم - بني ياس - آل صباح - المعاضيد - آل خليفة - آل بوسعيد -) ص ٥٧

قطر	أبو ظبي	البحرين	الكويت	رأس الخيمة	عمان
المعاضيد	بني ياس	آل خليفة	آل صباح	القواسم	- آل بوسعيد

تابع السؤال الأول : (موضوعي)

هـ - أمامك خريطة شبه الجزيرة العربية الصماء اكتب الرقم الدال على العبارات التي تليها : (ثلاث درجات)



- البحر الأحمر يمثل على الخريطة الرقم (٣) ص ٤٩
- الخليج العربي يمثل على الخريطة الرقم (١) ص ٢٣
- جبال الحجاز وعسير يمثلها على الخريطة الرقم (٦) ص ٤٩
- الجبل الأخضر يمثل على الرقم (٢) ص ٤٨
- الدولة الخليجية التي حصلت على استقلالها عام ١٩٦١ م يمثلها الرقم (٤) ص ٦٥
- هضبة نجد يمثلها على الخريطة الرقم (٥) ص ٢٣

و - اختر من القائمة (ب) ما يرتبط بها من المجموعة (أ) بوضع الرقم في المكان المناسب : ص ٣٢

م	المجموعة (أ)	الرقم المناسب	المجموعة (ب)
١	مطرب السفينة	٣	النوخذه
٢	رئيس البحرية	١	النهام
٣	ربان السفينة	٢	المجدي
٤	يغوص في أعماق البحر بحثاً عن اللؤلؤ	٥	الرضيف
٥	صغار السن وهو المساعد للسبب في السفن الكبيرة	٤	الغواص
			النتاب

السؤال الثاني : (مقالي) يتكون من (أ- ب- ج):

(أ) علل لما يلي : لكل نقطة درجة يكتفى بنقطتين

- ١- تحمل النباتات المعمرة ارتفاع درجة الحرارة في دول الخليج العربية. ص ٢٦
* جذورها طويلة * أوراقها قليلة * كثرة الأشواك * قدرتها العالية على تخزين المياه
 - ٢- تنافس الدول الإستعمارية على منطقة الخليج العربي . ص ٦٠
* لاستغلال الموقع * ادراكاً منها لأهميته
 - ٣- انصراف سكان منطقة الخليج العربية عن مهنة الغوص على اللؤلؤ ص ٣١
* اكتشاف النفط * ظهور اللؤلؤ الصناعي
- (ب) فرق بين كل مما يلي : لكل نقطة درجة**

الموقع النسبي ص ٢٠	الموقع الفلكي ص ٢٠
موقع الدولة بالنسبة للماء واليابس	موقع الدولة بالنسبة لخطوط الطول ودوائر العرض

الطواش ص ٣٢	السيب ص ٣٢
تجار اللؤلؤ	الرجال الذين يسحبون الغاصة من أعماق البحر

(ج) أذكر أهمية موقع منطقة الخليج العربي . ص ١٩ درجتين لكل نقطة درجة

* يقع في وسط العالم

* يتحكم بأهم الطرق التجارية العالمية

السؤال الثالث: (مقالي) يتكون من (أ- ب):

أ- عرف المفاهيم التالية: لكل نقطة درجة

- ١- الواحة: منطقة تقع في الصحراء فيها مياه عذبة صالحة للزراعة ص ٢٩
- ٢- الاستقلال: تحرر الدولة من المستعمر الأجنبي وقيامها بمسؤولية إدارة شؤونها الداخلية والخارجية. ص ٦٣
- ٣- التضاريس: أشكال سطح الأرض (السهول - الهضاب - الجبال) ص ٢٣
- ٤- مجلس التعاون لدول الخليج العربية: منظمة سياسية اقتصادية اقليمية تضم ست دول عربية خليجية . ص ٧٠

ب- عدد ما يلي :

- ١- العوامل المؤثرة في نشأة الحضارات بمنطقة الخليج العربية . لكل نقطة درجة (ثلاث درجات)
٢- ص ٥٢ - ٥١
- * الموقع المتميز .
- *توافر مصادر المياه .
- *البيئة الطبيعية .
- ٢- إنجازات مجلس التعاون لدول الخليج العربية . يكتفى بثلاث نقاط (ثلاث درجات) ص ٧٧
- *إقامة اتحاد جمركي .
- *انطلاق السوق الخليجي المشترك في يناير ٢٠٠٨ .
- *وثيقة التطوير الشامل للتعليم .
- *التنسيق في المجال السياسي بالمحافل الدولية لكل القضايا التي تهتم المجلس .
- *اتفاقية الدفاع المشتركة واستمرار تعزيز قوة درع الجزيرة .
- ٣- أهم الأنشطة البرية في منطقة الخليج العربي قديما ؟ ص ٢٨ يكتفى بنقطتين (درجتين)

- الرعي
- الزراعة
- الحرف اليدوية.
- التجارة البرية



انتهت الأسئلة مع تمنياتنا لكم بالتوفيق 😊