

تم تحميل هذا الملف من موقع ملفات الكويت التعليمية



[com.kwedufiles.www//:https](https://www.kwedufiles.com)

\*للحصول على أوراق عمل لجميع الصفوف وجميع المواد اضغط هنا

\* للحصول على أوراق عمل لجميع مواد الصف السادس اضغط هنا

<https://kwedufiles.com/6>

\* للحصول على جميع أوراق الصف السادس في مادة اجتماعيات وجميع الفصول, اضغط هنا

<https://kwedufiles.com/6social>

\* للحصول على أوراق عمل لجميع مواد الصف السادس في مادة اجتماعيات الخاصة بـ الفصل الأول اضغط هنا

<https://www.kwedufiles.com/6social1>

\* لتحميل كتب جميع المواد في جميع الفصول للـ الصف السادس اضغط هنا

<https://www.kwedufiles.com/grade6>

[bot\\_kwlinks/me.t//:https](https://t.me/bot_kwlinks)

للحصول على جميع روابط الصفوف على تلغرام وفيسبوك من قنوات وصفحات: اضغط هنا

الروابط التالية هي روابط الصف السادس على مواقع التواصل الاجتماعي

مجموعة الفيسبوك

صفحة الفيسبوك

مجموعة التلغرام

بوت التلغرام

قناة التلغرام

رياضيات على التلغرام



مدرسة طارق السيد رجب

العام الدراسي: 2019 / 2020 م

الفصل الدراسي الأول



وزارة التربية  
MINISTRY OF EDUCATION



قسم الاجتماعيات

الصف السادس

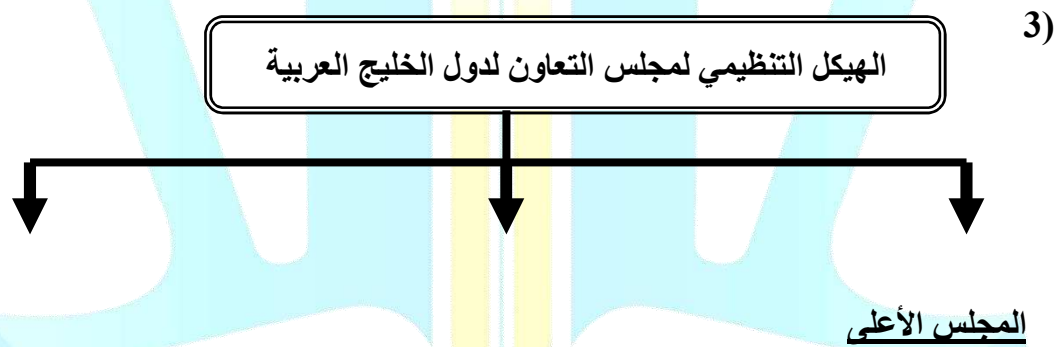
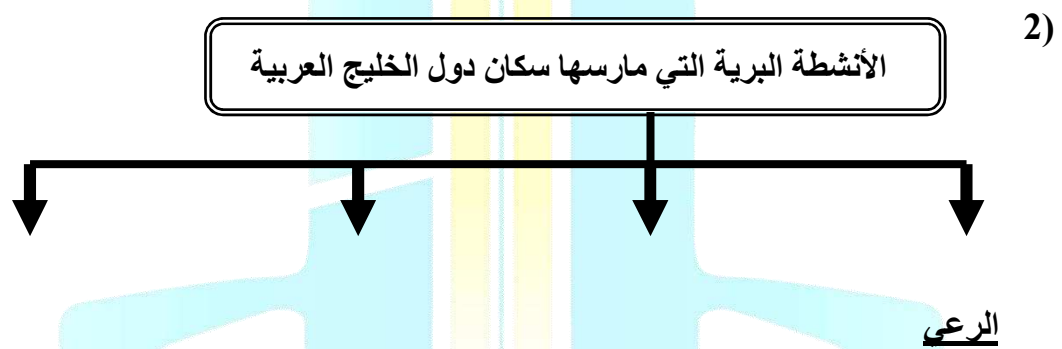
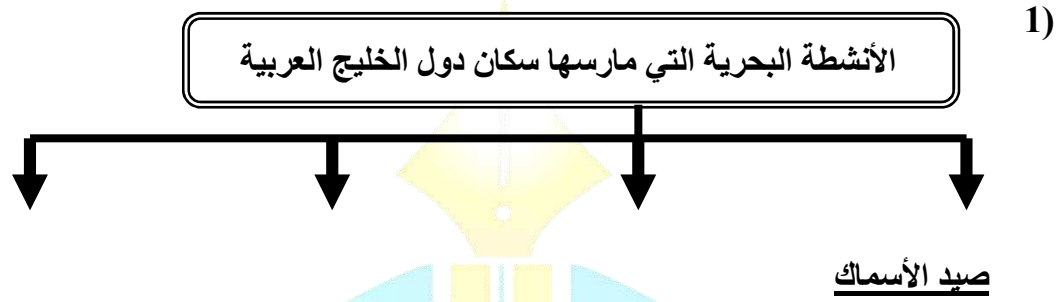
اسم الطالب: ..... الفصل: .....

ملحوظة : هذه التدريبات والشروحات لا تغني عن الكتاب المدرسي

**السؤال الأول :- عرف المفاهيم التالية :-**

	1-	الخليج العربي
	2-	الموقع الفلكي
	3-	الموقع النسبي
	4-	خطوط الطول
	5-	دوائر العرض
	6-	الجبل
	7-	الهضبة
	8-	السهل
	9-	المناخ
	10-	النبات المعمر
	11-	النبات الحولي
	12-	المياه الجوفية
	13-	الواحة
	14-	المسطحات المائية
	15-	القلاف
	16-	الطواش
	17-	النوخذة
	18-	المجدي
	19-	النهام
	20-	السيب
	21-	الحضارة
	22-	القليب أو الجليب
	23-	الاستعمار
	24-	الاستقلال
	25-	الديمقراطية
	26-	مجلس التعاون

السؤال الثاني :- أكمل المخططات السهمية التالية :-



**السؤال الثالث :- أ - قارن بين كل من :-**

دوائر العرض	خطوط الطول	وجه المقارنة
		التعريف
		الخط الرئيسي
		العدد

النبات الحولي	النبات المعمر	وجه المقارنة
		التعريف
		أمثلة

**ب - اكمل الجدول التالي :-**

المنطقة التي هاجروا اليها	الاسم
	آل البوسعيد واليعاربة
قطر	المعاضيد
	القواسم
	بني ياس

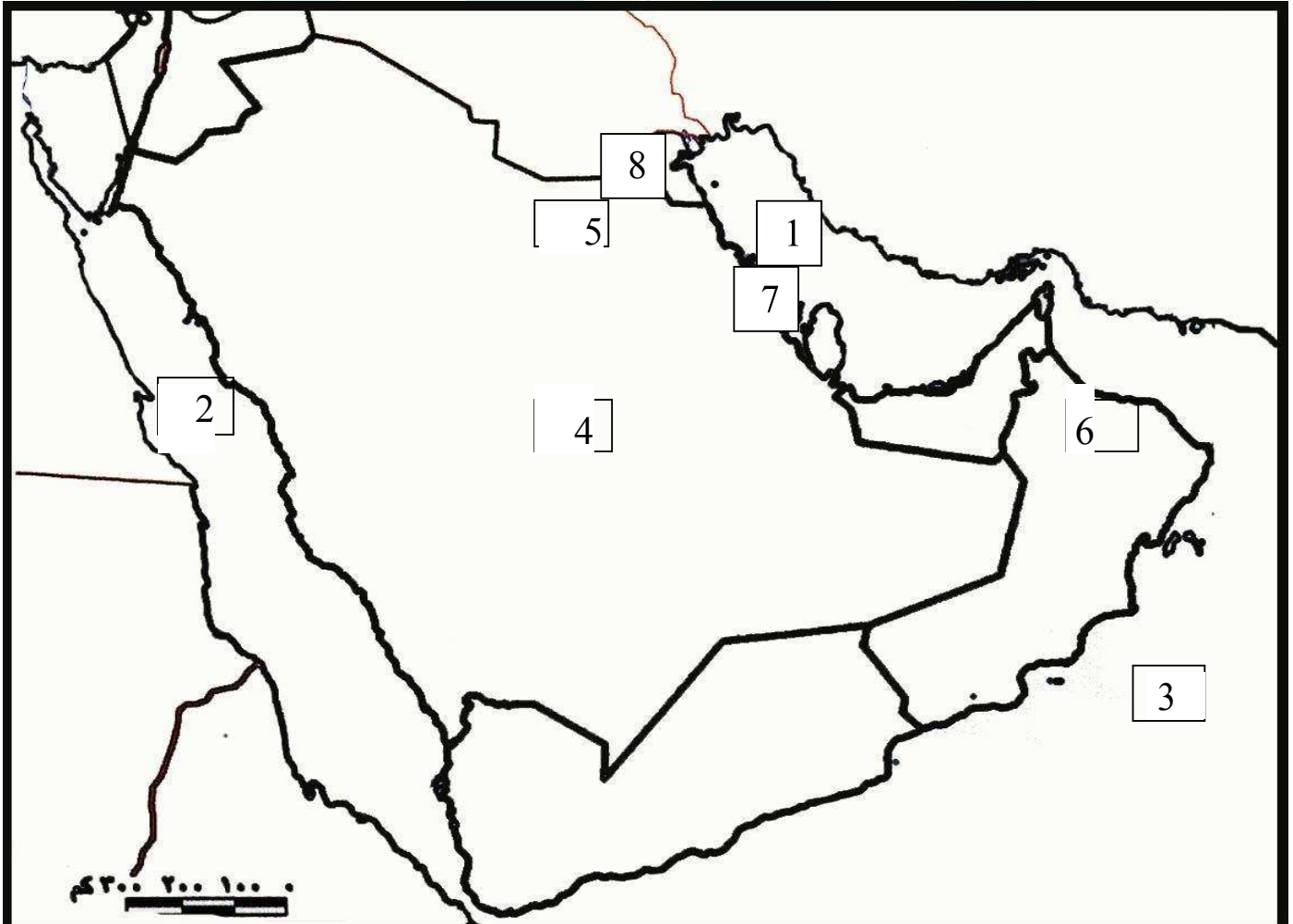
مدرسة طارق السيد رجب

## السؤال الرابع :- علل لما يأتي :-

- 1- أهمية الموقع الجغرافي لمنطقة الخليج العربية :-
- 2- فقر الحياة النباتية والحيوانية بصفة عامة في دول الخليج العربية :
- 3- توفر النبات المعمر طوال العام في دول الخليج :
- 4- تحمل النبات المعمر الجفاف وارتفاع درجة الحرارة :-
- 5- كانت حياة السكان في البيئة الصحراوية لدول الخليج العربي قاسية و خشنة :-
- 6- تشابه الأعمال التي قام بها أبناء دول الخليج العربية قديماً :-
- 7 - ممارسة سكان دول الخليج العربية الأنشطة التجارية وتميزهم فيها :-
- 8- مهنة الغوص على اللؤلؤ من أشهر الحرف التي مارسها أبناء دول الخليج العربية قديماً :-
- 9- انصراف سكان دول الخليج العربية عن حرفة الغوص على اللؤلؤ:-
- 10- سفينة البغلة هي أفضل أنواع السفن المستعملة في رحلة السفر :-
- 11- ازدهار مدن الخليج العربية :-
- 12- تنافس الدول الاستعمارية على منطقة الخليج العربي :-
- 13- جذب الهجرات من شبه الجزيرة العربية الى منطقة الخليج العربية :-
- 14- قيام الشيخ مبارك الصباح بتوقيع اتفاقية الحماية مع بريطانيا عام 1899م
- 15- إنشاء مجلس التعاون لدول الخليج العربية :-

### السؤال الخامس :- علي الخريطة الصماء التي أمامك حدد ما يلي:-

- يشير الرقم 1 الى .....
- يشير الرقم 2 الى .....
- يشير الرقم 3 الى .....
- يشير الرقم 4 الى .....
- يشير الرقم 5 الى .....
- يشير الرقم 6 الى .....
- يشير الرقم 7 الى .....
- يشير الرقم 8 الى .....





## السؤال السادس :- أجب عن الأسئلة التالية :-

- 1- أنواع الرياح التي تهب على دول الخليج العربية : -  
أ- .....  
ب- .....  
ج- .....
- 2- ما هي أهم الحرف اليدوية التي مارسها أبناء دول الخليج العربية قديماً : -  
.....  
3- ما هي وسائل الصيد القديمة في دول الخليج العربية : -  
.....  
4 - ما أهم السفن قديماً في دول الخليج العربية :-  
.....  
5- ما أهم البضائع المستوردة في دول الخليج العربية قديماً :-  
الأخشاب - الأغذية مثل الشاي والسكر والأرز والتوابل  
6- ما هي العوامل المؤثرة في نشأة الحضارات في منطقة الخليج العربية : -  
.....  
.....  
.....  
7 - ما أهداف مجلس التعاون لدول الخليج العربية :-  
.....  
.....  
.....  
8- اكتب أهم إنجازات مجلس التعاون لدول الخليج العربية :-  
.....  
.....  
.....  
.....

مدرس طارق السيد رجب



## السؤال السابع: - أكمل ما يأتي :

- 1 - تقع منطقة الخليج العربية في الجهة الجنوبية الغربية من قارة .....
- 2- يسقط المطر على الجبل الأخضر وجبال عسير في فصل .....
- 3- يبدأ موسم الغوص في شهر **يونيو** و تسمى بداية موسم الغوص بـ .....
- 4- ينتهي موسم الغوص في شهر ..... و تسمى نهاية موسم الغوص بـ .....
- 5- كان يطلق على صانع السفينة اسم .....
- 6- الدولة التي يوجد بها الجبل الأخضر هي .....
- 7- الدولة التي يوجد بها هضبة نجد هي .....
- 8- تعرف الرياح الجنوبية الشرقية باسم .....
- 9- درجات العرض التي تشغلها شبه الجزيرة العربية شمال خط الإستواء .....
- 10- يتصف مناخ منطقة الخليج العربية بأنه .....
- 11- الحرفة التي تعتبر أساسية ومكملة للأنشطة البحرية هي .....
- 12- صغار السن وهو المساعد للسبب في السفن الكبيرة هو .....
- 13- اطلق على الخليج العربي قديما اسم **البحر الأدنى** أو .....
- 14- وقع الشيخ مبارك الصباح اتفاقية الحماية مع ..... في عام .....
- 15- الفترة الزمنية التي امتدت خلالها حضارة منطقة الخليج العربية ..... قرناً.
- 16- تم إنشاء مجلس التعاون لدول الخليج العربية في مدينة ..... عام .....
- 17- يوجد مقر مجلس التعاون لدول الخليج العربية في مدينة .....

### تابع السؤال السابع: - أكمل ما يأتي :

- 18- أول دولة أوروبية استعمارية وصلت للخليج العربي هي .....
- 19- الحضارة التي اشتهرت بأفران صهر المعادن هي .....
- 20- تم انطلاق السوق الخليجي المشترك في يناير عام ..... م .
- 21- حصلت الكويت على استقلالها عام .....م في عهد الشيخ.....
- 22- القرن الذي ظهر فيه الدين الإسلامي هو .....الميلادي .
- 23- حصلت البحرين وقطر وعمان والإمارات على الاستقلال في عام .....م .
- 24- الدولة الخليجية التي لم تخضع للاستعمار .....وأعلن قيامتها عام .....

مدرسة طارق السيد رجب