

تم تحميل هذا الملف من موقع المناهج الكويتية



الملف إجابة الاختبار الأول ونماذج التدريب للفصل الدراسي الأول

موقع المناهج ← ملفات الكويت التعليمية ← الصف الحادي عشر ← فيزياء ← الفصل الأول

المزيد من الملفات بحسب الصف الحادي عشر والمادة فيزياء في الفصل الأول

ليلة الاختبار مراجعة شاملة	1
الزوايا ومدلولاتها	2
مذكرة شاملة مقرر الفصل	3
مراجعة نهاية الفصل	4
تلخيص شامل دروس الفصل	5

(إجابة) الاختبار الأول في
الفيزياء للصف الحادي عشر
الفصل الدراسي الأول



فيزياء الكويت

المنهج الجديد
almanahij.com/kw

في الفيزياء

الفصل الدراسي الأول



يمكنك الحصول علي نسخة كاملة
محلولة من التوقعات لدي مكتبة
راكلان بحولي العجيري سابقاً

ت / 22618415

الصف الحادي عشر
اعداد / محمد أبو الحجاج

فا



فيزياء الكويت

الصف الحادي عشر

الفصل الدراسي الأول

فهرس الموضوعات

م	الموضوع	رقم الصفحة
1	الفهرس	ص 2
2	اختبارات تدريبية علي امتحان الفترة الدراسية الاولى	من ص 3 الي ص 74
3	إجابات الاختبارات التدريبية	عقب كل اختبار
4	أهم التعريفات المقررة	من ص 108 الي ص 109
5	أهم القوانين المقررة	من ص 110 الي ص 111
6	أهم التعليقات المقررة	من ص 112 الي ص 114
7	أهم ماذا يحدث المقررة	ص 115
8	أهم المقارنات المقررة	من ص 115 الي ص 117
9	أهم (العوامل التي يتوقف عليها) المقررة	من ص 118
11	مراجعة ليلة الامتحان	من ص 120 الي ص 134
12	إجابات مراجعة ليلة الامتحان	من ص 135 الي ص 142





مؤرخ اجابتي

دولة الكويت

وزارة التربية

التوجيه الفني العام للعلوم

امتحان الفترة الدراسية الأولى - العام الدراسي 2023-2024 م

المجال الدراسي: الفيزياء للصف الحادي عشر العلمي - الزمن: ساعتان

موقع
المنهج الكويتية
almanahj.com

تأكد أن عدد صفحات الامتحان (7) صفحات مختلفة (عدا صفحة الغلاف هذه)

يقع الامتحان في قسمين:



كنترول القسم العلمي
لجنة تقدير الدرجات

أولاً: الأسئلة الموضوعية (22 درجة) إجبارية

ويشمل السؤال الأول والثاني

والمطلوب الاجابة عنهما بكامل جزئياتهما

ثانياً: الأسئلة المقالية (30 درجة)

وتشمل السؤال الثالث والرابع والخامس والسادس

والمطلوب الاجابة عن ثلاثة أسئلة فقط

وزارة
التربية
التوجيه الفني العام للعلوم

بسم الله الرحمن الرحيم

دولة الكويت

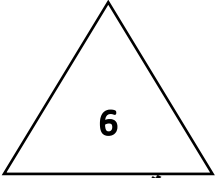
(الأسئلة في ست صفحات)

وزارة التربية

امتحان الفترة الدراسية الأولى - العام الدراسي 2024 - 2025 م

التوجيه الفني للعلوم

المجال الدراسي الفيزياء للصف الحادي عشر

الامتحان الأول نموذج الإجابةأولاً الأسئلة الموضوعيةالسؤال الأول :-

(أ) اكتب بين القوسين الاسم أو المصطلح العلمي الذي تدل عليه كل عبارة من العبارات التالية:

1 - عملية استبدال متجه بمتجهين متعامدين يسميان مركبتا المتجهات.

(تحليل المتجهات)

2 - المسافة الأفقية التي تقطعها القذيفة بين نقطة الإطلاق ونقطة الوصول التي تقع على الخط الأفقي المار بنقطة

(المدى R)

3- حركة جسم على مسار دائري حول مركز دوران مع المحافظة على مسافة ثابتة منه .

(الحركة الدائرية)

4 - مقدار الزاوية بالراديان التي يمسخها نصف القطر في وحدة الزمن.

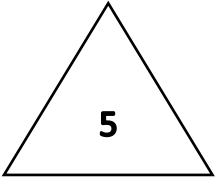
(السرعة الدائرية)

5- نسبة قوة الاحتكاك (\vec{f}) على قوة رد الفعل (\vec{N}) .(معامل الاحتكاك μ)

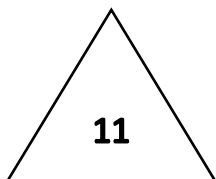
6 - قطة تأثير ثقل الجسم.

(مركز ثقل الجسم)

فيزياء الكويت

(ب) أكمل العبارات التالية بما تراه مناسباً :

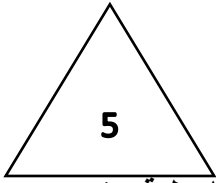
1 - يكون مسار القذيفة التي تنطلق بزاوية في مجال الجاذبية الأرضية على شكل قطع مكافئ.

2 - أكبر مدى للقذيفة عندما تكون زاوية الإطلاق مساوية 453 - تدور لعبة دوارة الخيل بسرعة زاوية مقدارها $(0.314) \text{ rad/s}$ فإن زمنه الدوري بوحدة الثانية يساوي 20.4 - السرعة المماسية في الحركة الدائرية تتناسب طردياً مع السرعة الزاوية عند ثبوت نصف القطر.5 - الأجسام غير منتظمة الشكل يكون مركز الثقل ناحية الطرف الأثقل

السؤال الثاني :-

ضع بين القوسين علامة (✓) أمام العبارة الصحيحة علمياً ، وعلامة (X) أمام العبارة غير الصحيحة علمياً في كل

مما يلي :



1 - (X) جمع المتجهات هو عملية يتم فيها استبدال متجه ما بمتجهين.

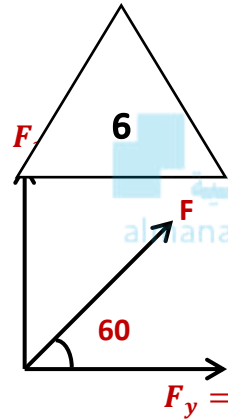
2 - (✓) حركة قذيفة على المحور الأفقي بسرعة ثابتة المقدار.

3 - (✓) في أي نظام جاسئ تكون لجميع الأجزاء السرعة الزاوية نفسها على الرغم من أن السرعة الخطية تتغير

4 - (✓) الجسم المتحرك في مسار دائري حركة دائرية منتظمة تكون العجلة المماسية له = صفر

5 - (✓) تحرك طالب حول دائرة نصف قطرها 5) m فإذا كانت إزاحته الزاوية (0.3π) rad فإن طول المسار

بوحدة المتر يساوي 4.71



ب) ضع علامة (✓) في المربع الواقع أمام أنسب إجابة لكل من العبارات التالية :

1 - واحدة فقط من الكميات الفيزيائية التالية تصنف كمتجه مقيد وهي :

القوة السرعة المتجهة الإزاحة المسافة

2- في الشكل المقابل يكون مقدار القوة (F) بوحدة (N) تساوي :

10 -1 5

40 -2 20

3 - أطلقت قذيفة بسرعة m/s (30) في اتجاه يميل بزاوية 30° مع المحور الأفقي فإن المركبة الرأسية عند أقصى ارتفاع بوحدة m/s تساوي :

60 0 15 30

4 - كرتان قذفت أحدهما أفقياً والأخرى رأسياً في نفس الوقت وبإهمال مقاومة الهواء فإن :

الكرتان تصلان للأرض في نفس الوقت. الكرة التي قذفت أفقياً تصل أولاً.

الكرة التي تقذف أفقياً تستغرق نصف زمن وصول الكرة التي أسقطت رأسياً. الكرة التي أسقطت أولاً تسقط أولاً

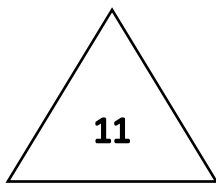
5 - الإزاحة الزاوية التي تقطعها كتلة نقطية عندما تتحرك على مسار دائري نصف قطره 100 m مسافة 157 m =

90° 45° 30° 60°

6 - مركز ثقل قطعة رخام مثلثة الشكل ارتفاعها (h) يكون على الخط المار بمركز المثلث ورأسه على

بعد من قاعدته يساوي :

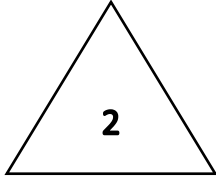
h $\frac{h}{2}$ $\frac{h}{3}$ $\frac{h}{4}$



ثانياً الأسئلة المقالية

السؤال الثالث : -

(أ) علل لكل مما يلي تعليلاً علمياً سليماً :-



(1) ينعدم الضرب العددي لمتجهين متعامدين؟

لأن الزاوية بين المتجهتين = 90° حيث: $\vec{a} \cdot \vec{b} = ab \cos 90 = \text{صفر}$

2 - يتحرك المقذوف في الاتجاه الرأسي حركة معجلة (تشبه حركة مقذوف في الاتجاه الرأسي حركة جسم يسقط سقوطاً حراً).

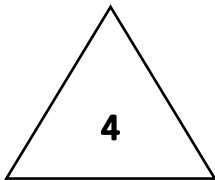
لأن محصلة القوى المؤثرة عليه في الاتجاه الرأسي هي وزن الجسم.



(ب) قارن بين كل مما يلي حسب وجه المقارنة المطلوب في الجدول التالي :-

متجهات مقيدة	متجهات حرة	وجه المقارنة
متجهات لا يمكن نقلها وهي مقيدة بنقطة التأثير.	متجهات يمكن نقلها بشرط المحافظة على المقدار والاتجاه.	إمكانية النقل
القوة.	الازاحة - السرعة المتجهة.	مثال

(ج) حل المسألة التالية :-



اوجد مقدار المحصلة من خلال الرسم الذي امامك :-

$$R = \sqrt{(d_1^2 + d_2^2 + 2d_1 d_2 \cos \theta)}$$

مقدار المحصلة:

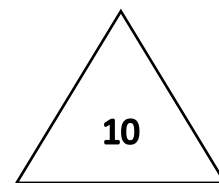
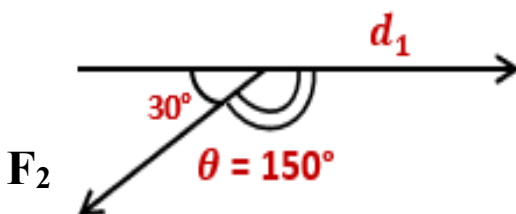
$$R = \sqrt{400^2 + 300^2 + 2 \times 400 \times 300 \cos 150}$$

$$R = 205.3 \text{ Km.}$$

اتجاه المحصلة:

$$\sin \alpha = \frac{d_2 \sin \theta}{R} = \frac{400 \sin 150}{205.3} = 0.97$$

$$\alpha = 76.88^\circ$$



السؤال الرابع (أ) قارن بين كلاً مما يأتي :-

وجه المقارنة	السرعة الأفقية	السرعة الرأسية
العلاقة الرياضية لجسم مقذوف بزاوية	$V_x = V_o \cos\theta$	$V_y = V_o \sin\theta$
وجه المقارنة	الأجسام متماثلة التكوين ومنتظمة الشكل	الأجسام غير منتظمة الشكل
موضع مركز الثقل	المركز الهندسي	أقرب للجزء الأثقل

2

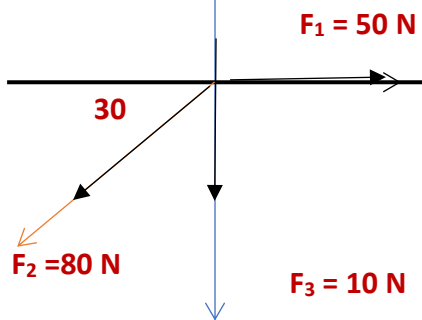
(ب) وضح بالرسم على المحاور التالية العلاقات البيانية التي تربط بين كل من

	
العلاقة بين القوة الجاذبة المركزية (F_c) ومربع السرعة الخطية (V^2) لجسم كتلته (m) يتحرك على مسار دائري نصف قطره (r)	المركبة الأفقية للسرعة (V_x) والزمن (t) لقذيفة أطلقت لأعلى بزاوية (θ) مع الأفق (بإهمال مقاومة الهواء)

4

(ج) حل المسألة التالية :-

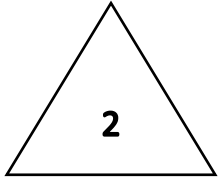
باستخدام تحليل القوي في الشكل المقابل اوجد مقدار المحصلة واتجاه المحصلة :-



f_y (N)	f_x (N)	F (N)
صفر	50 N	$F_1 = 50$
$80 \sin 210 = -40$ N	$80 \cos 210 = -70$ N	$F_2 = 80$
-10 N	صفر	$F_3 = 10$
-50 N	-20 N	F_T

$$F_t = \sqrt{f_x^2 + f_y^2} \quad f_t = \sqrt{20^2 + 50^2} = 53.8 \text{ N}$$

$$\tan \theta = \frac{f_y}{f_x} = \frac{-50}{-20} = 2.5 \quad \theta = 68.1^\circ$$

السؤال الخامس :-

(أ) اذكر العوامل التي يتوقف عليها كل مما يلي :-

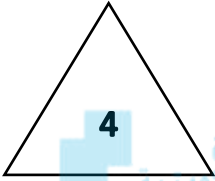
1- العوامل التي يتوقف عليها السرعة الخطية. (يكتفي بعاملين فقط)

نصف القطر.

السرعة الزاوية (ω)

2- أقصى ارتفاع تصل إليه القذيفة بزاوية مع الأفق. (يكتفي بعاملين فقط)

زاوية الإطلاق - سرعة الإطلاق



(ب) ماذا يحدث في كل من الحالات التالية :-

1- لمدى قذيفتين أطلقتنا إحداهما أطلقت بزاوية إطلاق 30° والأخرى 60° ولهما نفس السرعة الابتدائية. يكون لهما نفس المدى لأن مجموع زاويتي الإطلاق $= 90^\circ$.2- لمقدار سرعة قذيفة أطلقت بزاوية (θ) نتيجة الاحتكاك مع الهواء.

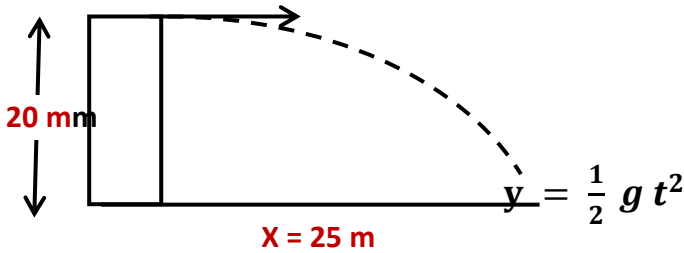
تتباطأ سرعتها ويتغير شكل المسار

3- إذا افلت خيط مربوط فيه جسم يتحرك حركة دائرية منتظمة فجأة يتحرك الجسم بخط مستقيم في اتجاه المماس . بسبب انعدام القوة الجاذبة المركزية وتصبح محصلة القوة المؤثرة على الجسم صفراً فتكون حركته خطية منتظمة .

4- ضرورة الالتزام بسرعة محددة عندما تقود سيارتك بالمنعطفات . لكي تكون المركبة الأفقية لرد الفعل مساوية للقوة المركزية اللازمة لجعل السيارة تنعطف على المسار الدائري .

(د) حل المسألة التالية :-

قذف جسم أفقياً من ارتفاع 20 m عن سطح الأرض فإذا كانت إزاحة الكرة الأفقية 25 m احسب:



1- زمن وصول الجسم للأرض (t)

$$20 = \frac{1}{2} \times 10 \times t^2 \quad t = (2)s$$

2- السرعة الابتدائية (الأفقية) للجسم (v_0)

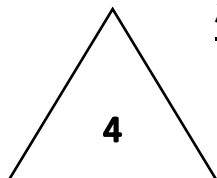
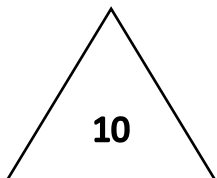
$$x = v_0 t \quad 25 = v_0 \times 2 \quad v_0 = 12.5 m/s$$

للحصول علي النسخة كاملة من
المذكرة مع الحلول النموذجية

بمكتبة راكان

حولي خلف مجمع النقرة

ت - 22618415

انتهت الأسئلة



فيزياء الكويت



- تدري ان 90% من امتحان الفصل الدراسي الأول كان من مذكرة فيزياء الكويت.
- تدري أن مذكرة فيزياء الكويت معدة علي ايدي نخبة من أفضل المعلمين وفق آخر تعديل للمنهج.
- تدري ان مسائل امتحان الفاينال راح تكون مثل الموجودة في المذكرة ياذن الله.
- تدري ان هذه أقوى محتوى علمي في الفيزياء في رولة الكويت بشهادة خريجي السنوات السابقة.
- تدري ان سعر المذكرة ارخص بكثير من محتواها.
- تدري انك تقدر تدخل علي قناة التليجرام وتسال المدرس.
- تدري أننا جميعا نعمل من أجلك.



احرص الى الحصول على المذكرة الأصلية ذات الغلاف الملون حتى تضمن انها متوافقة مع المنهج وليست مقلدة أو قديمة



التليجرام



يوتيوب

