



وزارة
الإدارة العامة لمنطقة العاصمة التعليمية
التوجيه الفني للاجتماعيات

نموذج الإجابة
امتحان نهاية الفترة الدراسية الثانية
لمقرر الكويت ودول الخليج العربية
للمستوى السادس المتوسط

العام الدراسي ٢٠٢٤ / ٢٠٢٥ م
الزمن : ساعة وخمس وأربعون دقيقة
عدد الصفحات : ٥ صفحة

(أجب على جميع الأسئلة)

السؤال الأول : (موضوعي) ويتكون من (أ - ب - ج) :- (كل إجابة درجة = ١٢ درجة)

(أ) اختر البديل الصحيح من بين البدائل التي تلي كل عبارة مما يلي وضع خطأ تحتها :

- ١- عدد الآبار النفطية الكويتية التي قام العدوان العراقي بإحراقها : ص ١٣٩
أ- ٤٣٤ بئر ب- ٥٣٥ بئر ج- ٦٣٦ بئر د- ٧٣٧ بئر
- ٢- المدينة التي تم فيها الإعلان عن قيام السوق الخليجية المشتركة عام ٢٠٠٨ م : ص ١٣٠
أ- دبي ب- الدمام ج- الدوحة د- المنامة
- ٣- العام الذي قام فيه النظام العراقي البائد بغزو دولة الكويت : ص ١٣٩
أ- ١٩٩٠ م ب- ١٩٩١ م ج- ١٩٩٢ م د- ١٩٩٣ م
- ٤- الحقل الذي بدأ فيه التنقيب عن النفط في دولة الكويت عام ١٩٣٤ م : ص ٨٧
أ- الشعبية ب- الروضتين ج- برقان د- بحرة

(ب) ظلل الحرف (ص) إذا كانت العبارة صحيحة أو الحرف (خ) إذا كانت العبارة خاطئة لكل مما يلي :

الرقم	العبارات	ص	خ
١-	أصبحت دول الخليج العربية منطقة جذب سكاني بعد اكتشاف النفط . ص ١١٣		
٢-	الدولة الخليجية التي يوجد فيها مقر درع الجزيرة اسمها الإمارات . ص ١٢٩		
٣-	يعتبر العنف عادة موروثة . ص ١٤٦		
٤-	البعثة التي كشفت عن الحضارات وأثارها المتشابهة في منطقة الخليج العربية تسمى الدانمركية . ص ١٠٥		

(ج) أكمل العبارات التالية بما يناسبها :



- ١- التلوث الذي تمثله الصورة المقابلة يسمى الضوضائي . ص ١٣٣
- ٢- كميات النفط المخزونة في باطن الأرض تعرف باسم احتياطي النفط . ص ٨٨
- ٣- الحاكم الذي تم في عهده تصدير أول شحنة من النفط الكويتي اسمه الشيخ أحمد الجابر الصباح . ص ٩٠
- ٤- المدينة الخليجية التي يوجد فيها مقر مكتب التربية العربي اسمها الرياض . ص ١٣٠

تابع : نموذج إجابة امتحان نهاية الفترة الدراسية الثانية - لمقرر الكويت ودول الخليج العربية - للصف السادس المتوسط - العام الدراسي ٢٠٢٤/٢٠٢٥ م

السؤال الثاني : (موضوعي) ويتكون من (أ - ب - ج) :- (كل إجابة درجة = ١٢ درجة)

(أ) صنّف مظاهر التعاون بين دول مجلس التعاون الخليجي التالية حسب مكانها الصحيح في الجدول ادناه :

(توحيد المناهج - زيادة التبادل التجاري - المناورات العسكرية - قيام سوق خليجية مشترك

إنشاء قوة مشتركة - اجتماع وزراء التربية والتعليم) ص ١٢٩-١٣٠

التعاون الثقافي	التعاون العسكري	التعاون الاقتصادي
توحيد المناهج	المناورات العسكرية	زيادة التبادل التجاري
اجتماع وزراء التربية والتعليم	إنشاء قوة مشتركة	قيام سوق خليجية مشترك


(ب) سجل البيانات الناقصة لعناوين الصور التالية :



- جهاز قياس الضوضاء ص ١٣٤



- التلوث هوائي ص ١٣٣



- مشكلة العنف ص ١٤٥

<https://t.me/ykuwait>

(ج) أكمل المخطط السهمي التالي بما يناسبه :

١-الهجرات العربية إلى ساحل الخليج العربي . ص ١٠٨



تابع : نموذج إجابة امتحان نهاية الفترة الدراسية الثانية - لمقرر الكويت ودول الخليج العربية - للصف السادس المتوسط - العام الدراسي ٢٠٢٤/٢٠٢٥ م

السؤال الثالث : (موضوعي) ويتكون من (أ - ب - ج) :- (كل إجابة درجة = ١٢ درجة)

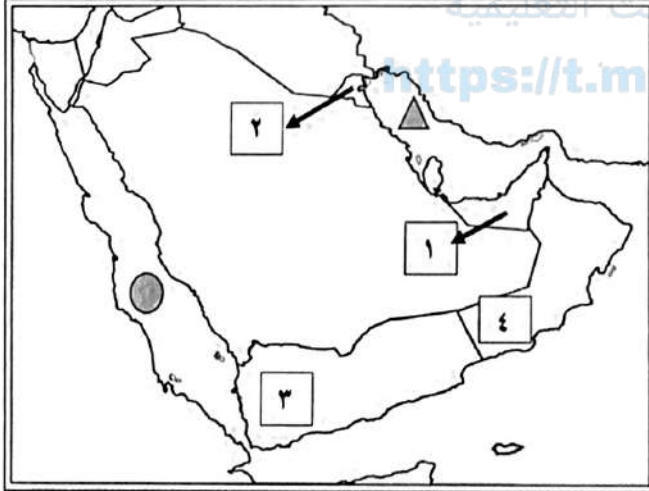
(أ) صحح ما تحته خط في كل عبارة مما يلي بوضع الإجابة الصحيحة في المكان المناسب بالجدول :

الإجابة الصحيحة	العبارة
الدخل القومي	١- مجموع الدخول التي تحصل عليها الدولة خلال عام تسمى <u>دخول الفرد</u> . ص ٩٥
النفط	٢- شهدت منطقة الخليج العربية تغييرات كبيرة وسريعة بعد ظهور <u>اللولؤ</u> . ص ١٤١
ترانزيت	٣- إعادة تصدير البضائع المستوردة تسمى <u>واردات</u> . ص ٩٩
العنف	٤- السلوك العدواني الموجه ضد الغير والذي يتسم بالتخريب والتدمير سواء كان ذلك السلوك أفعالاً أو أفعالاً يسمى <u>الرفق</u> . ص ١٤٤

(ب) اكتب المفهوم أو المصطلح الدال على كل عبارة مما يلي :

المفهوم / المصطلح	العبارات
العمالة المنزلية	مجموعة من الأفراد الذين يشاركون الأسرة في دور أو أكثر داخل المنزل أو خارجه من المربيات والطباخين والسانقين والخدم . ص ١٤٢
الكثافة السكانية	عدد السكان في الكيلومتر المربع وتقاس بقسمة عدد السكان على مساحة الدولة . ص ١١٤
السلالة	مجموعة من الناس تشترك فيما بينها في الصفات الجسمانية الرئيسية كلون الجلد وشكل الأنف وشكل الشعر وطول القامة وما إليها . ص ١٠٦
التلوث	الضرر الذي يصيب عناصر البيئة الأساسية (هواء - ماء - تربة) فتتحول من عناصر مفيدة إلى عناصر ضارة . ص ١٣٣

(ج) لاحظ خريطة دول الخليج العربية ، ثم استعن بالمدلولات التي عليها لإكمال العبارات التالية :



- الدولة الخليجية التي يقع فيها ميناء الأحمدى
يمثلها على الخريطة الرقم ٢ . ص ٩١
- حقل بو حصا النفطي يمثلها على الخريطة الرقم
١ . ص ٩١
- الخليج العربي يمثلها على الخريطة الشكل ▲ ص ٩٢
- منطقة صلالة الزراعية يمثلها على الخريطة الرقم ٤ .

ص ٩٢

تابع : نموذج إجابة امتحان نهاية الفترة الدراسية الثانية - لمقرر الكويت ودول الخليج العربية - للصف السادس المتوسط - العام الدراسي ٢٠٢٤/٢٠٢٥ م

السؤال الرابع: (مقال) ويتكون من (أ - ب - ج): (كل إجابة درجة = ١٢ درجة)

(أ) أكتب عما يلي : كل إجابة درجة / ٤ درجات (يكتفى بنقطتين)

١- حلول لمشكلة العنف . ص ١٥٠

- الاهتمام الجاد بالقرآن الكريم والسنة النبوية - الاهتمام بالقراءة بدلاً من أصدقاء سوء
- القدوة الحسنة من المحيطين بالشباب واتباع أساليب الحوار والتفاهم في علاج المشكلات والخلافات

٢- أهم الصناعات القائمة في دول مجلس التعاون الخليجي . ص ٩٧

- بتر وكيمويات - حديد

- تكرير النفط - الغاز - النحاس - الألمنيوم

(ب) عدد (اثنين) لكل مما يلي : كل إجابة درجة / ٤ درجات (يكتفى بنقطتين فقط)

١- أهم الدول المستوردة للنفط من دولة الكويت . ص ٩٠

- هولندا

- الولايات المتحدة الأمريكية - اليابان

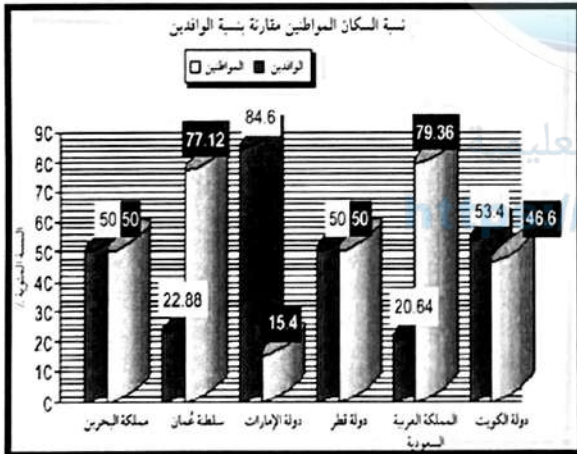
٢- التحديات التي تواجه دول الخليج العربية . ص ١٣٢

- الأمن الغذائي - التلوث البيئي - الأخطار الخارجية والداخلية

- ندرة المياه الجوفية - الغزو الثقافي - الاعتماد على الموارد النفطية فقط

(ج) لاحظ الرسم البياني والذي يمثل نسبة السكان المواطنين مقارنة بنسبة الوافدين في دول الخليج العربية

ثم أجب عن الأسئلة التالية : كل إجابة درجة / ٤ درجات



١- استخراج من الرسم المقابل ما يلي : ص ١١٢

- أقل دولة خليجية في نسبة المواطنين اسمها الإمارات

- أكثر دولة خليجية في نسبة المواطنين اسمها

المملكة العربية السعودية

٢- استخلص حقيقة من الرسم البياني . ص ١١٢

- قطر تتساوى مع البحرين في نسبة الوافدين

(أو ما يراه المصحح مناسباً)

٣- عرف : النمو السكاني .

- التغيير الذي يحدث لعدد السكان نتيجة الزيادة الطبيعية وغير الطبيعية . ص ١١١

تابع : نموذج إجابة امتحان نهاية الفترة الدراسية الثانية - لمقرر الكويت ودول الخليج العربية - للصف السادس المتوسط - العام الدراسي ٢٠٢٤/٢٠٢٥ م

السؤال الخامس: (مقال) ويتكون من (أ - ب - ج): (كل إجابة درجة = ١٢ درجة)

(أ) أكمل المعلومات الناقصة في الخريطة الذهنية بالإجابة عن الأسئلة التالية: كل إجابة درجة = ٤ درجات

١- ما المقصود بالثقافة ؟ ص ١١٨

- الثقافة : مجموعة من العادات والتقاليد والقيم في مجتمع من المجتمعات .

٣- اذكر اثنين من الروابط التي تربط بين سكان دول الخليج العربية. ص ١١٧

- وحدة الأصل / الدين واللغة
- التاريخ المشترك / العادات والتقاليد

العشابه الثقافي
بين سكان دول
الخليج العربية

٢- ما اسم الدولة الخليجية الوحيدة التي لم تتعرض للاستعمار الأجنبي في تاريخها ؟ ص ١٢٠
- المملكة العربية السعودية.

(ب) فرق بين كل مما يلي من حيث (التعريف) : كل إجابة درجة / ٤ درجات

الواردات	الصادرات
٩٩ ص	٩٩ ص
البضائع والسلع التي تشتريها دولنا من الخارج.	السلع والبضائع التي تبيعها دولنا في الخارج.
الزراعة بدون تربة ص ٩٤	البيوت البلاستيكية ص ٩٤
هي التي تتم في بيئة مائية أو رملية أو حصى أو نشارة خشب تضاف إليها المحاليل الغذائية.	يزرع فيها الخضروات في غير مواسمها وتقوم بحماية المحاصيل من تقلبات الطقس.

(ج) علل ما يلي (اذكر السبب) : كل إجابة درجة / ٤ درجات (يكتفى بنقطتين فقط)

١- شهدت منطقة الخليج العربي بعد اكتشاف النفط نمواً سكانياً فجانياً . ص ١١٠

- ارتفاع دخل الفرد - توفر الرعاية الصحية - توفر فرص العمل - الأمن والأمان
- ارتفاع الأجور - السماح للوافدين باصطحاب عائلاتهم - زيادة عدد المواليد

٢- حدوث التلوث المائي . ص ١٣٦

- مخلفات المصانع - النفط ومشتقاته - مياه الصرف الصحي غير المعالجة
- النفايات الخطرة - الأمطار الحمضية - مياه الصرف الزراعي

انتهت الأسئلة ، ، ، ، ،

العام الدراسي ٢٠٢٤ / ٢٠٢٥ م
الزمن : ساعة وخمس وأربعون دقيقة
عدد الصفحات : ٥ صفحة

نموذج الإجابة
امتحان المنهج الكامل
لقرر الكويت ودول الخليج العربية
للفيف السادس المتوسط
أجب عن جميع الأسئلة

وزارة التربية
الإدارة العامة لمنطقة العاصمة التعليمية
التوجيه الفني للاجتماعيات

السؤال الأول : (موضوعي) ويتكون من (أ - ب - ج) :- (كل إجابة درجة = ١٢ درجة)

(أ) اختر البديل الصحيح من بين البدائل التي تلي كل عبارة مما يلي وضع خطأ تحتها :

١- العام الذي صدر فيه إعلان الدوحة لقيام السوق الخليجية المشتركة : ص ١٣٠

أ- ٢٠٠٥ م ب- ٢٠٠٦ م ج- ٢٠٠٧ م د- ٢٠٠٨ م

٢- أول دولة أوروبية استعمارية وصلت للخليج العربي واحتلت أجزاء مهمة منه لفترة من الزمن : ص ٦٠

أ- إنجلترا ب- أسبانيا ج- البرتغال د- هولندا

٣- عدد الابار التي أحرقتها النظام العراقي البائد في دولة الكويت عام ١٩٩٠م أكثر من : ص ١٣٩

أ- ٤٣٤ بنر ب- ٥٣٥ بنر ج- ٦٣٦ بنر د- ٧٣٧ بنر

٤- يطلق على الرياح الجنوبية الشرقية في منطقة الخليج العربية اسم : ص ٢٥

أ- السموم ب- الكوس ج- الزوابع د- العواصف

(ب) ظلل الحرف (ص) إذا كانت العبارة صحيحة أو الحرف (خ) إذا كانت العبارة خاطئة لكل مما يلي:

الرقم	العبارات	ص	خ
١-	تقع منطقة الخليج العربية بالنسبة لقارة اسيا في الجهة الجنوبية الغربية . ص ١٩		
٢-	تحويل المواد الخام إلى مواد يمكن الاستفادة منها تسمى التجارة . ص ٩٥		
٣-	يطلق على ربان السفينة اسم السيب . ص ٣٢		
٤-	الدولة الأجنبية التي وقعت مع دولة الكويت معاهدة الحماية تسمى بريطانيا . ص ٦٢		

(ج) أكمل العبارات التالية بما يناسبها :

١- شهدت دول الخليج العربية تغيرات كبيرة وسريعة بعد ظهور النفط . ص ١٤١

٢- الحضارة التي عثر فيها على العديد من أفران صهر المعادن تسمى مجان . ص ٤٨

٣- الضرر الذي يصيب عناصر البيئة الأساسية (هواء - ماء - تربة) فتتحول من عناصر مفيدة إلى عناصر ضارة

يسمى التلوث . ص ١٣٣

٤- السلع والمنتجات التي تبيعها دولنا في الخارج تسمى الصادرات . ص ٩٩

تابع: نموذج إجابة امتحان المنهج الكامل - لمقرر الكويت ودول الخليج العربية - للصف السادس المتوسط - العام الدراسي ٢٠٢٤/٢٠٢٥ م
السؤال الثاني : (موضوعي) ويتكون من (أ - ب - ج) :- (كل إجابة درجة = ١٢ درجة)

(أ) صنف أنواع الحيوانات التي تعيش في منطقة الخليج العربية حسب مكانها الصحيح في الجدول ادناه :

(الأبل - الضب - الثعبان - الأغنام) ص ٢٦

حيوانات غير مستأنسة	حيوانات مستأنسة
الضب / الثعبان	الأبل / الأغنام

(ب) اكتب المفهوم أو المصطلح الدال على كل عبارة مما يلي :

المفهوم / المصطلح	العبارات
الزراعة بدون تربة	الزراعة التي تتم في بيئة مائية أو رملية أو حصى أو نشارة خشب تضاف إليها المحاليل الغذائية ص ٩٤
الثقافة	مجموعة من العادات والتقاليد والقيم في مجتمع من المجتمعات . ص ١١٨
السلالة	مجموعة من الناس تشترك فيما بينها في الصفات الجسمانية الرئيسية كلون الجلد وشكل الأنف وشكل الشعر وطول القامة وما إليها . ص ١٠٦
ترانزيت	إعادة تصدير البضائع المستوردة ص ٩٩

(ج) اكمل العناوين الناقصة للصور التالية :



- الشيخ عبدالله السالم الصباح ص ٦٣ شبكة ياكويت الشيخ أحمد الجابر الصباح ص ٩٠



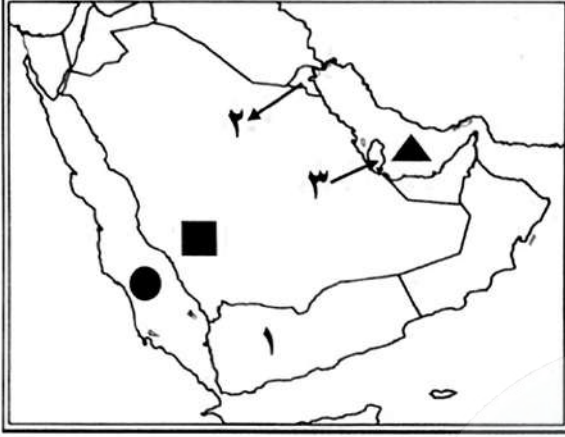
- سفينة البغلة ص ٣٣



- شعار مجلس التعاون لدول الخليج العربية ص ٧٣

تابع: نموذج إجابة امتحان المنهج الكامل - لمقرر الكويت ودول الخليج العربية - للصف السادس المتوسط - العام الدراسي ٢٠٢٤/٢٠٢٥ م
السؤال الثالث: (موضوعي) ويتكون من (أ - ب - ج):- (كل إجابة درجة = ١٢ درجة)

(أ) لاحظ خريطة دول الخليج العربية ، ثم استعن بالمدلولات التي عليها لإكمال العبارات التالية :



- الدولة الخليجية التي يوجد فيها ميناء الشعبية يمثلها على

الخريطة الرقم ٢ ص ٩٧

- الخليج العربي يمثلها على الخريطة الشكل ▲ ص ٢٣

- جبال عسير يمثلها على الخريطة الشكل ■ ص ٢٣

- الدولة الخليجية التي هاجر إليها المعاصيد يمثلها على الخريطة

الرقم ٣ ص ٥٧

(ب) صحح ما تحته خط في كل عبارة مما يلي بوضع الإجابة الصحيحة في المكان المناسب :

الإجابات الصحيحة	العبارات
المملكة العربية السعودية ص ٦٥	١- الدولة الخليجية التي لم تتعرض للاستعمار الأجنبي اسمها <u>سلطنة عُمان</u>
بحرة ص ٨٧	٢- أول حقل كويتي تم فيه التنقيب عن النفط عام ١٩٣٤ م اسمه <u>برقان</u>
الواحة ص ٢٩	٣- منطقة تقع في الصحراء فيها مياه عذبة صالحة للزراعة تسمى <u>هضبة</u>
درع الجزيرة ص ١٢٩	٤- قوة عسكرية مشتركة تضم دول مجلس التعاون الخليجية تسمى <u>درع العرب</u>
احتياطي النفط ص ٨٨	٥- يطلق على كميات النفط المخزونة في باطن الأرض اسم <u>إنتاج النفط</u>

(ج) أكمل المخطط السهمي التالي بما يناسبه :

١- الأنشطة البحرية التي يمارسها سكان منطقة الخليج العربية القديمة . ص ٣١-٣٤



تابع: نموذج اجابة امتحان المنهج الكامل - لمقرر الكويت ودول الخليج العربية - للصف السادس المتوسط - العام الدراسي ٢٠٢٤/٢٠٢٥ م
السؤال الرابع: (مقال) ويتكون من (أ - ب - ج): (كل إجابة درجة = ١٢ درجة)

(أ) علل ما يلي : كل إجابة درجة / ٤ درجات

- ١- ظهرت الحاجة إلى إقامة العديد من الموانئ النفطية في دول مجلس التعاون الخليجي . ص ٩٠
- تزايد الإنتاج النفطي لدول مجلس التعاون الخليجي من الحقول البرية والبحرية.
- تزايد الطلب العالمي على النفط.
- ٢- انصراف سكان دول منطقة الخليج العربية عن حرفة الغوص . ص ٣١
- ظهور اللؤلؤ الصناعي.
- اكتشاف النفط.

(ب) قارن بين كل مما يلي حسب المطلوب في الجدول التالي : كل إجابة درجة / ٤ درجات

أوجه المقارنة	خطوط الطول ص ٢١	دوائر العرض ص ٢١
التعريف	خطوط وهمية أي غير موجودة على سطح الأرض ترسم على الكرة الأرضية، وتقسّم الكرة الأرضية إلى قسمين شرقي وغربي	خطوط وهمية أي غير موجودة على سطح الأرض ترسم على الكرة الأرضية، وتقسّم الكرة الأرضية إلى قسمين شمالي وجنوبي
العدد	٣٦٠ خط	١٨٠ دائرة

(ج) لاحظ الصورة المقابلة ثم أجب عن الأسئلة التالية : كل إجابة درجة / ٤ درجات



١- ما نوع التلوث الذي تمثله الصورة المقابلة ؟ ص ١٣٧

- التلوث المائي.

٢- ما أسباب هذا النوع من التلوث ؟ (يكتفى بثلاث نقاط) ص ١٣٦

- مخلفات المصانع - النفط ومشتقاته - النفايات الخطرة

- مياه الصرف الصحي غير المعالجة - مياه الصرف الزراعي

- الأمطار الحمضية

تابع: نموذج إجابة امتحان المنهج الكامل - لمقرر الكويت ودول الخليج العربية - للصف السادس المتوسط - العام الدراسي ٢٠٢٤/٢٠٢٥ م
السؤال الخامس: (مقالي) ويتكون من (أ - ب - ج): (كل إجابة درجة = ١٢ درجة)

(أ) إقرأ الفقرة التالية ثم أجب عما يليها من أسئلة : كل إجابة درجة / ٤ درجات

(يرى العلماء أن العنف مرض اجتماعي أكثر منه جريمة ، فهو عادة متعلمة تزيد كلما مارس الإنسان مزيداً من العنف ويتكون العنف لدى الإنسان من وقت مبكر في حياته والنتيجة عن خلل في التنشئة الاجتماعية ، نتيجة أسباب أسرية وأسباب نفسية وأسباب بيئية عامة) .

١- ضع عنواناً مناسباً للفقرة السابقة .

- العنف عند المتعلمين - أو ما يراه المصحح مناسباً . ص ١٤٦

٢- عرف ما تحته خط . ص ١٤٤

- هو ذلك السلوك العدوانى الموجه ضد الغير والذي يتسم بالتخريب والتدمير سواء كان ذلك السلوك أقوالاً أو أفعالاً

٣- استخرج من الفقرة السابقة ما يلي :

- أسباب ظاهرة العنف . (يكتفى بنقطتين) ص ١٤٦ - ١٤٩

- أسباب أسرية - أسباب نفسية - أسباب بيئية عامة

- تربية الطفل الخاطئة - الإحباط (أو ما يراه المصحح مناسباً)

(ب) فرق بين كل مما يلي من حيث (التعريف): كل إجابة درجة / ٤ درجات

الموقع النسبي ص ٢٠	الموقع الفلكي ص ٢٠
الموقع بالنسبة لليابس والماء	الموقع بالنسبة لخطوط الطول ودوائر العرض
الكثافة السكانية ص ١١٤	النمو السكاني ص ١١١
عدد السكان في الكيلومتر المربع وتقاس بقسمة عدد السكان على مساحة الدولة	هو التغيير الذي يحدث لعدد السكان نتيجة للزيادة الطبيعية (المواليد والوفيات) والزيادة الغير طبيعية (الهجرة)

(ج) اكتب عما يلي : كل إجابة درجة / ٤ درجات (يكتفى بنقطتين)

١- أهداف مجلس التعاون لدول الخليج العربي . ص ٧٦

- تحقيق التعاون بين الدول الأعضاء في جميع المجالات .

- العمل على تقدم دول مجلس التعاون في المجال العلمي .

٢- وظائف العمالة المنزلية . ص ١٤٢

- طبّاخ - سائق - مربية - خادم (أو ما يراه المصحح مناسباً)

انتهت الاسئلة ،،،،،

٥



وزارة التربية
الإدارة العامة لمنطقة العاصمة التعليمية
التوجيه الفني لمادة التربية الإسلامية

نموذج إجابة

الدرجة الكلية : ٦٠ درجة
الزمن : ساعة و ٤٥ دقيقة

امتحان الفترة الدراسية الثانية

لمادة التربية الإسلامية للصف السابع

للعام الدراسي : ١٤٤٦هـ / ٢٠٢٤ - ٢٠٢٥م

نموذج الإجابة

عشر درجات

السؤال الأول : في مجال حفظ الحديث الشريف :

- أكمل الأحاديث الشريفة الآتية إلى نهايتها :

أ - قال رسول الله ﷺ : " من كَذَبَ عليّ متعمداً فليتبوأ مقعده من النار " .

ثلاث درجات ص ٧٠

ب- قال رسول الله ﷺ : " رُفِعَ عن أمتي الخطأ والنسيان وما استكرهوا عليه " .

ثلاث درجات ص ١٣٥

ج - عن ابن عمر - رضي الله عنهما - أن رسول الله - ﷺ - قال : " اللهم أعز الإسلام بأحب هذين الرجلين إليك ، بأبي

جهل أو بعمر بن الخطاب ، فكان أحبهما إلى الله عمر بن الخطاب " .

أربع درجات ص ١١٧

<https://t.me/ykuwait>

السؤال الثاني : في مجال العقيدة :

تسع درجات

ثلاث درجات

أ - اكتب المصطلح المناسب لكل تعريف مما يأتي :

- ١- (الكرامة) أمر خارق للعادة يظهره الله - ﷻ - على يد عبد صالح غير مدعي للنبوّة . ص ١٠٣
- ٢- (الإسراء) الذهاب ليلاً برسول الله - ﷺ - من المسجد الحرام إلى المسجد الأقصى . ص ١١٤
- ٣- (القرآن الكريم) كلام الله المعجز المنزل على محمد - ﷺ - المكتوب بالمصاحف المنقول بالتواتر المتعبد بتلاوته المبدوء بسورة الفاتحة المختوم بسورة الناس . ص ١١٢

ب - صنف المعجزات حسب الرسل - عليهم السلام - بالجدول التالي :

ثلاث درجات

(القرآن - الناقة - النار - العصا)			
موسى ﷺ	صالح ﷺ	إبراهيم ﷺ	
<u>العصا</u>	<u>الناقة</u>	<u>النار</u>	

ص ١٠٥ - ١٠٦ - ١٠٧

ج - اكتب ثلاثاً من الأمور التي تفرد بها الأنبياء والرسل - عليهم السلام - دون سائر البشر :

ثلاث درجات ص ٢٣

- ١- الوحي .
- ٢- العصمة .
- ٣- تنام أعينهم ولا تنام قلوبهم . / تخييرهم عند الموت / يقبرون حيث يموتون / أحياء في قبورهم لا تأكل الأرض أجسادهم .

<https://t.me/ykuwait>

السؤال الثالث : في مجال الحديث الشريف :

ثمان درجات

أ - املأ الفراغ بما يناسبه من كلمات فيما يأتي :

ثلاث درجات

(العسر - التشدد - الوعي - اليسر)

١- الدين الإسلامي قائم على اليسر والسماحة . ص ١٢٢

٢- المبالغة في الأعمال الدينية ومجاوزة الحد المطلوب هو التشدد في الدين . ص ١٢٣

٣- معالجة التشدد في الدين يكون في زيادة الوعي الديني . ص ١٢٤

عن أبي هريرة - رضي الله عنه - أن رسول الله - صلى الله عليه وسلم - قال " فُضِّلْتُ على الأنبياء بسبب : أعطيتُ جوامع الكلم ، ونُصرت بالرعب ، وأُحلت لي الغنائم ، وجُعِلت لي الأرضُ طهوراً ومسجداً ، وأرسلتُ إلى الخلق كافةً ، وُخِّمَ بي النبيون " . ص ٣١

- من خلال فهمك للحديث الشريف أجب عما يأتي :

خمس درجات

ص ٣٦ - ٣٧

ب - اكمل المخطط السهمي الآتي :

من ميزات وفضائل نبينا محمد - صلى الله عليه وسلم - على سائر الأنبياء والمرسلين عليهم السلام :



تسع درجات

السؤال الرابع في : مجال السيرة :

أ - ضع علامة (√) بعد العبارة الصحيحة وعلامة (x) بعد العبارة غير الصحيحة فيما يأتي :

ثلاث درجات

- ١- عم النبي - ﷺ - المدافع عنه والناصر له ضد قريش هو أبو طالب . (√) ص ١٢٨
- ٢- خرج الرسول - ﷺ - في دعوة أهل الطائف ومعه أبو بكر الصديق . (x) ص ١٢٩
- ٣- كانت دار الأرقم أول مركز دعوي إسلامي . (√) ص ٤٢

ثلاث درجات ص ٤٧

ب - عَدِّدْ صَوْرًا مِنْ أَسَالِيبِ الْإِيذَاءِ الْمَادِي الَّذِي تَعْرُضُ لَهُ الرَّسُولُ ﷺ :



١- وضع الأشواك .

٢- وضع الأوساخ .

٣- الخنق . / القتل / الحبس / النفي .

ثلاث درجات

ج - عَظِّمِ مَا يَأْتِي :

١- دعوة الرسول الكريم كانت سرية في بدايتها .

لحفظ الدعوة من بطش الكفار . ص ٤٠

٢- هجرة المسلمين إلى الحبشة .

عدالة ملكهم النجاشي . ص ٥٣

٣- حزن الرسول محمد - ﷺ - بموت خديجة أم المؤمنين رضي الله عنها .

كانت تقف بجانبه وتواسيه وتخفف عنه ما يلقي من إيذاء وإعراض أهل مكة . ص ١٢٩

تسع درجات

السؤال الخامس : في مجال الفقه :

ثلاث درجات

أ - حدّد الحكم الشرعي بكلمة (يجوز - لايجوز) فيما يأتي :

- ١- أخر أحمد صلاة المغرب لغير عذر حتى خرج وقتها . (لايجوز) ص ٦٤
- ٢- يتجنب بدر صلاة النافلة بعد صلاة العصر . (يجوز) ص ٦٥
- ٣- سجدت فاطمة سجود السهو بعد أن نسيت التشهد الأول . (يجوز) ص ١٤٠

ب - صل بين الصلاة والوقت الاختياري لأدائها بوضع الرقم المناسب في الجدول الآتي :

ثلاث درجات ص ٦٣

الصلاة	الرقم	الوقت الاختياري
١- الظهر	٣	من غياب الشفق الأحمر إلى آخر الثلث الأول من الليل .
٢- الفجر	-	من غروب الشمس إلى ما بعد الغروب بقليل .
٣- العشاء	٢	من طلوع الفجر الصادق إلى الإسفار البين .
	١	من زوال الشمس عن وسط السماء على أن يصير ظل كل شيء مثله .

ثلاث درجات ص ١٣٦

ج - سجّل بقلمك أسباب سجود السهو :

شبكة ياكويت التعليمية

<https://t.me/ykuwait>

- ١- الزيادة .
- ٢- النقص .
- ٣- الشك .

السؤال السادس : في مجال التهذيب :

تسع درجات

أ - حوِّط ثلاثاً من أثر العدل في حياتنا :

ثلاث درجات ص ١٥٦

- التعاون والتماسك

- انتشار الكره بين الناس

- الأمن والطمأنينة

- طريق موصل للنار

- الخير والبركة

ثلاث درجات

ب - ميِّز المواقف الآتية باختيار كلمة (يصح - لا يصح) فيما يلي :

١- رفض صديقك شهادة الزور . (يصح) ص ٧١

٢- كذب تاجر في بيان سلعته . (لا يصح) ص ٧١

٣- يعدل الأب في العطايا والهدايا بين أبنائه . (يصح) ص ١٥٣

ثلاث درجات ص ٨١

ج - دوّن الوسائل المعينة لحفظ الأسرار :

١- محاسبة النفس .

٢- المطالعة في كتب السلف الصالح والإقتداء بهم .

٣- مصاحبة الصالحين . / تجنب الفضول

شبكة ياكويت التعليمية

<https://t.me/ykuwait>

ست درجات

السؤال السابع : في مجال الثقافة الإسلامية :

ثلاث درجات ص ٩٠

أ - ارسم دائرة حول ثلاثة من مضيعات الوقت :

- وضوح الهدف

-التسويف والتأجيل

- سوء التنظيم

- الفوضى

ب - ظلل الوجه 😊 إذا كانت العبارة صحيحة ، و 😞 إذا كانت العبارة غير صحيحة فيما يأتي :

- ١- الإسلام وضع قيود موافقة لشرع الله ﷻ .
ص ١٦٤ 😊 😞
- ٢- المقياس الذي توزن به الحرية عند علماء الغرب هو العدل .
ص ١٦٤ 😊 😞
- ٣- حرية التنقل من صور الحرية التي كفلها الإسلام .
ص ١٦٦-١٦٧ 😊 😞

شبكة ياكويت التعليمية

<https://t.me/ykuwait>

انتهت الأسئلة والإجابة



وزارة التربية
منطقة العاصمة التعليمية
التوجيه الفني للتربية الإسلامية

نموذج إجابة

الدرجة الكلية : (٦٠) درجة
زمن الإجابة : ساعة و٥ دقائق

امتحان المنهج الكامل لمادة التربية الإسلامية
للسف السابع العام الدراسي ١٤٤٦ هـ / ٢٠٢٤-٢٠٢٥ م

تأكد أن عدد الأوراق (٧) مختلفات ، ثم أجب عن جميع الأسئلة الآتية:

السؤال الأول : في مجال حفظ الحديث الشريف : (عشر درجات)
أكمل كتابة الأحاديث النبوية الشريفة الآتية إلى نهايتها:

أ - قال رسول الله - ﷺ - : (إياكم والحسد فإن الحسد يأكل الحسنات ، كما تأكل النار الحطب) .
ثلاث درجات
ج ١ ص ٧٦

ب - قال رسول الله - ﷺ - : (رُفِعَ عَنْ أُمَّتِي الْخَطَأُ وَالنَّسِيَانُ وَمَا اسْتُكْرِهُوا عَلَيْهِ) .
ثلاث درجات
ج ٢ ص ١٣٥

ج - عن ابن عمر - رضي الله عنهما - أن رسول الله - ﷺ - قال : (اللَّهُمَّ أَعِزِّ الْإِسْلَامَ بِأَحَبِّ هَدْيَيْنِ الرَّجُلَيْنِ
الْيَتِيمِ ، بَأَبِي جَهْلٍ أَوْ بَعْمَرَ بْنِ الْخَطَّابِ ، فَكَانَ أَحَبَّهُمَا إِلَى اللَّهِ عُمَرُ بْنُ الْخَطَّابِ) .
أربع درجات
ج ٢ ص ١١٧

السؤال الثاني : في مجال العقيدة : (تسع درجات)

أ - اكتب وظائف الملائكة - عليهم السلام - وفق الجدول الآتي: ثلاث درجات

الوظيفة	الملك
<u>الموكل بالوحي</u>	جبريل - عليه السلام -
<u>الموكل بالمطر والنبات والأرزاق</u>	ميكائيل - عليه السلام -
<u>الموكل إليه قبض الأرواح عند الموت</u>	ملك الموت - عليه السلام -

ج ١ ص ١١١

ب - ضع خطأ تحت الإجابة الصحيحة لكل عبارة مما بين الأقواس فيما يأتي: ثلاث درجات

١ - معجزة نبي الله صالح - عليه السلام - : (العصا - الناقة - السفينة)

ج ٢ ص ١٠٥

٢ - تحول طبيعة النار إلى برد وسلام معجزة نبي الله - عليه السلام - : (موسى عليه السلام - عيسى عليه السلام - إبراهيم عليه السلام)

ج ٢ ص ١٠٦

٣ - أمر خارق للعادة يظهره الله - عليه السلام - على يد عبد صالح غير مُدَّع للنبوة : (الاستدراج - الكرامة - المعونة)

ج ٢ ص ١٠٣

ج - دُونَ ثلاثاً من الأمور التي تفرد بها الأنبياء والرسل - عليهم السلام - دون سائر البشر: ثلاث درجات

١- الوحي .

٢- العصمة .

٣- تنام أعينهم ولا تنام قلوبهم . / تخييرهم عند الموت . / يقبرون حيث يموتون .
/ أحياء في قبورهم ولا تأكل الأرض أجسادهم .

ج ٢ ص ٢٣

السؤال الثالث : في مجال الحديث الشريف : (ثمانية درجات)

عن أبي هريرة - رضي الله عنه - أن رسول الله - صلى الله عليه وسلم - قال : (فَضَّلْتُ عَلَى الْأَنْبِيَاءِ بِسَبْتٍ : أُعْطِيَ جَوَامِعَ الْكَلِمِ ، وَنُصِرْتُ بِالرُّعْبِ ، وَأَحِلَّتْ لِي الْغَنَائِمُ ، وَجُعِلَتْ لِي الْأَرْضُ طَهُورًا وَمَسْجِدًا ، وَأُرْسِلْتُ إِلَى الْخَلْقِ كَافَّةً ، وَخَتِمَ بِي النَّبِيُّونَ) . ج ٢ ص ٣١

أ - بعد قراءتك للحديث الشريف السابق أجب عما يأتي:

- استخرج ثلاثاً من الميزات التي فضّل بها الله - صلى الله عليه وسلم - النبي محمد - صلى الله عليه وسلم - على سائر الأنبياء: ثلاث درجات

١- أعطيت جوامع الكلم.

٢- نُصِرْتُ بِالرُّعْبِ مسيرة شهر.

٣- أُحِلَّتْ لِي الْغَنَائِمُ، ولم تُحَلْ لأحد قبلي. / - جُعِلَتْ لِي الْأَرْضُ طَهُورًا وَمَسْجِدًا. / - أُرْسِلْتُ إِلَى الْخَلْقِ كَافَّةً.

/ - خَتِمَ بِي النَّبِيُّونَ. ج ٢ ص ٣٤-٣٧

ب - أجب عما يأتي :

١- سجّل اثنان من الأمور التي تعين على مداومة الأعمال بلا تشدد أو تقصير : درجتين

١- التزم بأوامر الله تعالى ورسوله صلى الله عليه وسلم .

ج ٢ ص ١٢٥

٢- أداوم على عمل الخير وإن قل .

- أختار أيسر الأمور ما لم يكن أثماً . / أختار الأوقات المناسبة للعبادة . / أحسن الظن بالله تعالى .

<https://t.me/ykuwait>

٢- رتب مراتب الدين الثلاث (الإسلام ، الإحسان ، الإيمان) فيما يلي : ثلاث درجات



(تسع درجات)

السؤال الرابع : في مجال السيرة :

ثلاث درجات

أ - من هي الشخصية ؟

- ١- غلام للسيدة خديجة - ﷺ - رَغَبَهَا بِالزَّوْجِ مِنْ سَيِّدِنَا مُحَمَّدٍ - ﷺ - بعد ما سمعت منه عن أخلاقه وصدقته وأمانته .
- ٢- عُرِفَتْ بِشَجَاعَتِهَا فِي مَعْرَكَةِ أُحُدٍ وَوَقَّفَتْ تَدَافِعُ بِبَسَالَةٍ وَشَجَاعَةٍ عَنِ الرَّسُولِ - ﷺ - .

(نسبية بنت كعب أو أم عمارة) ج ١ ص ٤٢

- ٣- ابن عم السيدة خديجة - ﷺ - - أَنْتَ بِالنَّبِيِّ - ﷺ - إِلَيْهِ بَعْدَ نَزْوِلِ الْوَحْيِ وَقَالَ عَنِ الَّذِي رَأَاهُ : هَذَا النَّامُوسُ الَّذِي أَنْزَلَ اللَّهُ - ﷻ - عَلَى مُوسَى - ﷺ - . (ورقة بن نوفل) ج ١ ص ١٢٧

ثلاث درجات

ب - أكمل الخريطة الذهنية الآتية:



شبكة باللويت القتل أو الحبس أو النفى ج ٢ ص ٤٧

<https://t.me/ykuwait>

ثلاث درجات

ج - املأ الفراغات في الجمل الآتية بكلمات مناسبة:

- ١- أذِنَ الرَّسُولُ - ﷺ - لِأَصْحَابِهِ بِالهِجْرَةِ الْأُولَى إِلَى الْحَبْشَةِ فِي السَّنَةِ الْخَامِسَةِ مِنَ الْبَعْثَةِ. ج ٢ ص ٥٣
- ٢- الْعَامَ الَّذِي تُوُفِيَ فِيهِ عَمُّ النَّبِيِّ - ﷺ - أَبُو طَالِبٍ وَالسَّيِّدَةُ خَدِيجَةُ - ﷺ - سُمِّيَ بِعَامِ الْحَزَنِ.
- ٣- أَهْلُ الطَّائِفِ كَانُوا أَشَدَّ إِيْذَاءً لِلنَّبِيِّ - ﷺ - مِنْ أَهْلِ مَكَّةَ . ج ٢ ص ١٣٢

السؤال الخامس : في مجال الفقه : (تسع درجات)

أ - بين الحكم الشرعي بكتابة (صحيحة / باطلة) أمام كل صلاة مما يأتي: ثلاث درجات

١- صلى صديقك الظهر خمس ركعات ناسياً ثم سجد للسهو بعد التسليم .
ج ٢ ص ١٣٧ - حكم صلاته : (صحيحة)

٢- صلى أخوك العشاء ولم يكبر تكبيرة الإحرام ناسياً .
ج ٢ ص ١٤١ - حكم صلاته : (باطلة)

٣- نسي زميلك صلاة العصر فصلاً فور تذكرها .
ج ٢ ص ٦٤ - حكم صلاته : (صحيحة)

ب - صنف ما بين القوسين حسب المطلوب في الجدول الآتي: ثلاث درجات

(تكبيرة الإحرام - العقل - ستر العورة)

شروط وجوب الصلاة	شروط صحة الصلاة	أركان الصلاة
العقل ج ١ ص ٥٦	ستر العورة ج ١ ص ٥٦	تكبيرة الإحرام ج ١ ص ٥٨

ج - عدد ثلاثاً من شروط المؤذن : ثلاث درجات

شبكة ياكويت التعليمية

<https://t.me/ykuwait>

١- الإسلام .

٢- العقل .

٣- التمييز . / - الذكورة . ج ١ ص ٤٦

السؤال السادس : في مجال التهذيب : (تسع درجات)

أ - اكتب المصطلح المناسب لكل تعريف مما يأتي:

- ١- (الحسد) تمنى زوال نعمة المحسود وانتقالها إلى الحاسد. ج ١ ص ٧٢
- ٢- (الحقد) إضرار الشر للناس إذا لم يتمكن من الانتقام منهم. ج ١ ص ٧٢
- ٣- (الغبطة) أن يتمنى الإنسان أن يكون له من الخير مثل الذي عند غيره دون إلحاق ضرر بالغير. ج ١ ص ٧٣

ب - ضع علامة (✓) بعد العبارة الصحيحة وعلامة (x) بعد العبارة غير الصحيحة فيما يأتي:

ثلاث درجات

- ١- حكم إفشاء السر محرم إذا كان فيه ضرر على صاحبه. (✓) ج ٢ ص ٨١
- ٢- المبالغة في الإطراء والمدح جائز ولا يعد من صور الكذب على الناس. (x) ج ٢ ص ٧١
- ٣- مصاحبة الصالحين من الوسائل المعينة لحفظ الأسرار. (✓) ج ٢ ص ٨١

ثلاث درجات

ج - اختر المكمل الصحيح من بين الأقواس في العبارات الآتية:

- ١- قصة النبي محمد - ﷺ - مع صفوان بن أمية مثال على (العفو - الصبر - الشجاعة) . ج ٢ ص ١٤٩
- ٢- قصة خالد بن الوليد - رضي الله عنه - في غزوة مؤتة مثال على (العفو - الصبر - الشجاعة) . ج ٢ ص ١٥٧
- ٣- قصة النبي أيوب - رضي الله عنه - مع فقد الصحة والمال مثال على (الصبر - الشجاعة) . ج ٢ ص ١٤٩

السؤال السابع : في مجال الثقافة الإسلامية : (ست درجات)

أ- ضع الرقم المناسب من المجموعة (أ) أمام ما يناسبه من المجموعة (ب) فيما يأتي:
ثلاث درجات

(أ)	الرقم	(ب)
١- محبة خاصة بالله - ﷻ - دون سواه	٣	محبة إشفاق . ج ١ ص ٨٢
٢- محبة الجائع للطعام والظمان للماء	-	محبة إنس وألفة .
٣- محبة الوالد لولده	١	محبة عبودية . ج ١ ص ٨١
	٢	محبة طبيعية . ج ١ ص ٨٢

ب - حوِّط مضيعات الوقت فيما يأتي: ثلاث درجات ج ٢ ص ٩٠

التسويق والتأجيل

وضوح الهدف

الفوضى

سوء التنظيم

<https://t.me/ykuwait>

انتهت الأسئلة والإجابة