

تم تحميل هذا الملف من موقع المناهج الكويتية



منطقة العاصمة التعليمية

الملف نموذج أسئلة منطقة العاصمة التعليمية

موقع المناهج ← المناهج الكويتية ← الصف السابع ← اجتماعيات ← الفصل الثاني

روابط مواقع التواصل الاجتماعي بحسب الصف السابع



روابط مواد الصف السابع على تلغرام

[الرياضيات](#)

[اللغة الانجليزية](#)

[اللغة العربية](#)

[التربية الاسلامية](#)

المزيد من الملفات بحسب الصف السابع والمادة اجتماعيات في الفصل الثاني

مذكرة موضوعية محلولة	1
حل الكتاب	2
حل الوحدة الرابعة في مادة الاجتماعيات	3
بنك أسئلة التربة سابع	4
مراجعات الصف السابع	5

السؤال الخامس :- (مقالى) ويتكون من (أ - ب - ج)

(أ) اكتب نقطتين فيما يلى :

١- العقبات التي تواجه الإنتاج الزراعي في الوطن العربي .

* الظروف البيئية

* ...

* ...

٢- أسباب التصحر .

* ...

* ...

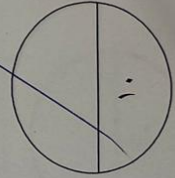
(ب) - فرّق بين كل مما يلى من حيث التعريف :

الموارد الطبيعية	الموارد البشرية
لرورات البهائم والحيوانات مياه الجوف والسطحية الغابات والنباتات	مصادر البترول والغاز مصادر المياه العذبة مصادر الطاقة المتجددة

(ج) - لاحظ الجدول الإحصائي الذي أمامك ثم اجب عما يليه من أسئلة :

جدول إنتاج واحتياط دول الوطن العربي حسب إحصاء ٢٠١٤

إنتاج الغاز الطبيعي	احتياط الغاز الطبيعي	إنتاج النفط الخام	احتياط النفط الخام	الدولة العربية
مليار متر مكعب	مليار متر مكعب	مليار برميل	مليار برميل	برميل / يوم
١٥,٨	٤٨,٤	٩٧,١	٢٦٥,٨	ليبيا
١٠,٢,٤	٢٦٥,٨	٢٨٦,٨	١٠١,٨	السعودية
١٥	٢٩,٢	٧٠,٣	١١٩,٣	الكويت
٢٠,٤,٦	١٢,٢			قطر
٨١,٧				الجزائر



السؤال الرابع :- (مقال) ويتكون من (أ - ب - ج)

(أ) - علل لما يلي :

١- تحتل الأغنام العربية مكاناً مهماً ضمن الثروة الرعوية .

* لتوفر الحراش / أكثر الحيوانات طرائد

* لأنها منتجاها

٢- تدني وفرة المياه في الوطن العربي .

* البصر / قلل الضغط / تسببت قديم

* الحفاف / الخوال السريع على الكان / طرق تقليدية

(ب) - قارن بين كل مما يلي حسب المطلوب في الجدول التالي :

أوجه المقارنة	منظمة الأوبك	منظمة الأوابك
عام التأسيس	١٩٦٠	١٩٦٨
الأجهزة التي تعمل من خلالها	المؤتمر مجلس المحافظين الامانة العامة	المكتب التنفيذي المجلس الوزاري الامانة العامة

(ج) - أقرأ الفقرة التالية ثم اجب عما يليها من اسئلة :

(يصيب التلوث عناصر البيئة من عدة مصادر للملوثات صناعية ، زراعية ، منزلية ، ومن أكثر هذه الملوثات انتشاراً التلوث الكيميائي مثل الغازات السامة ، وكذلك الملوثات الصادرة عن البقايا الصلبة وتراكم النفايات والمواد البلاستيكية) .

١- عرف ما تحته خط .

* الضرر الذي يلحق بالهواء والماء

٢- استخرج من الفقرة أكثر الملوثات انتشاراً .

* التلوث الكيميائي

(أ) - عدد اثنين لكل مما يلى :

١ - طرق النقل في الوطن العربي .

*
الجوية / البحرية

*
البحرية

٢ - المشكلات التي تواجه التنمية البشرية .

*
الاقتصاد / التعليم / الصحة / البيئة / المياه / الطاقة / التكنولوجيا

*
البيئة / الاقتصاد / التعليم / الصحة / البيئة / المياه / الطاقة / التكنولوجيا

(ب) - لاحظ الصورة التي أمامك ثم أجب عما يليها من أسئلة :

١ - ما اسم القمة التي تشير إليها الصورة ؟

*
القمة العربية

٢ - من هو صاحب المبادرة لعقد القمة ؟

*
صباح

٣ - ما اسم الدولة العربية التي عقدت بها القمة ؟

*
الكويت

٤ - اذكر أحد أهداف هذه القمة ؟

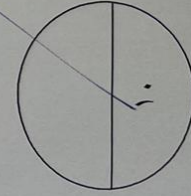
*
تعزيز التعاون بين الدول العربية

(ج) - عرف لما يلى :

١ - التنمية المستدامة :
هي التنمية التي تلبي احتياجات الحاضر دون المساس بقدرة الأجيال القادمة على تلبية احتياجاتها

٢ - التضامن العربي :
هو الشعور بالوحدة بين العرب وتعاونهم في كل شأن عربي

انتهت الأسئلة مع تمنياتنا لكم بالتوفيق ،،



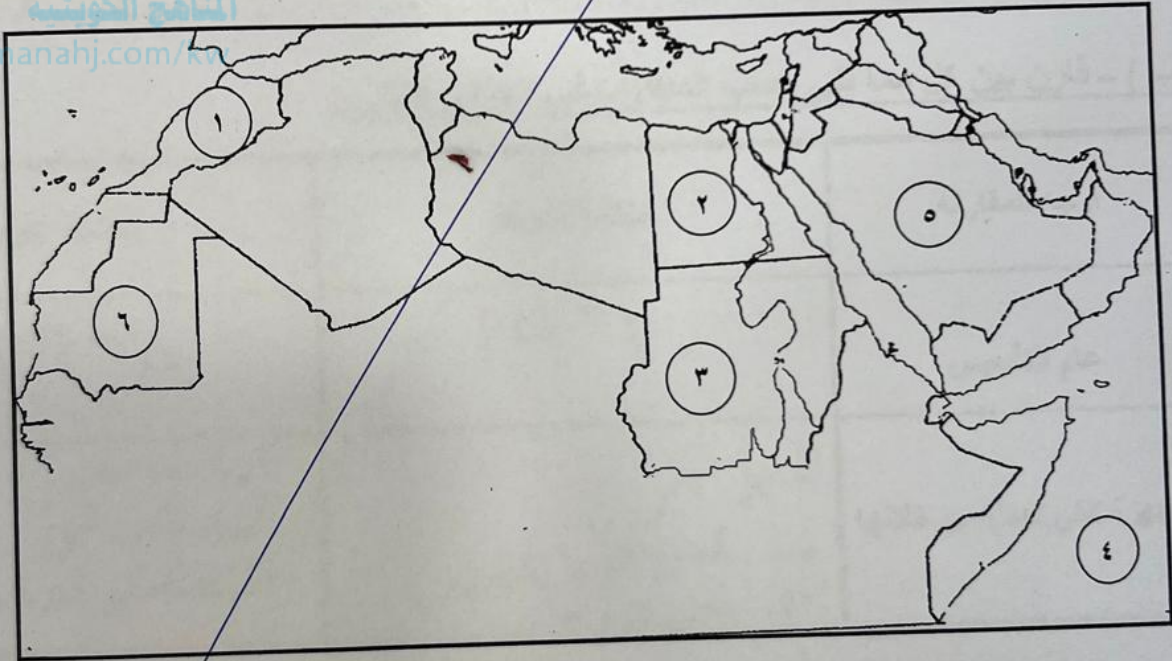
السؤال الثالث :- (موضوعي) ويتكون من (أ - ب)

(أ) - صنف المحاصيل الزراعية التالية حسب ما يناسبها في الجدول التالي :

الشمندر - القمح - العنب - البن - الشعير

الحبوب الغذائية	الغلات الصناعية والتجارية	الفواكه والثمار
القمح الشعير	البن الشمندر	الكتف

(ب) - لاحظ خريطة الوطن العربي الصماء التي أمامك ثم أكتب الرقم الدال على العبارات التالية :



- * الدولة العربية التي تحتل المركز الأول في إنتاج معدن الفوسفات يمثلها على الخريطة الرقم (١) .
- * الدولة العربية التي تحتل المركز الأول في إنتاج الأسماك يمثلها على الخريطة الرقم (٣) .
- * الدولة العربية التي تحتل المركز الأول في إنتاج الأبقار يمثلها على الخريطة الرقم (٣) .
- * المحيط الهندي يمثل على الخريطة الرقم (٤) .
- * الدولة العربية التي تحتل المركز الأول في إنتاج التمور يمثلها على الخريطة الرقم (٥) .

السؤال الثاني :- (موضوعي) ويتكون من (أ - ب)

(أ) - أكتب المفهوم أو المصطلح الدال على كل من العبارات التالية :

١- (الزيادة الطرية) الفرق بين معدل المواليد ومعدل الوفيات .

٢- (المطاوعة) قوى محركة للآلات ، وعنصر مهم للتقدم والتطور الاقتصادي في جميع المجالات

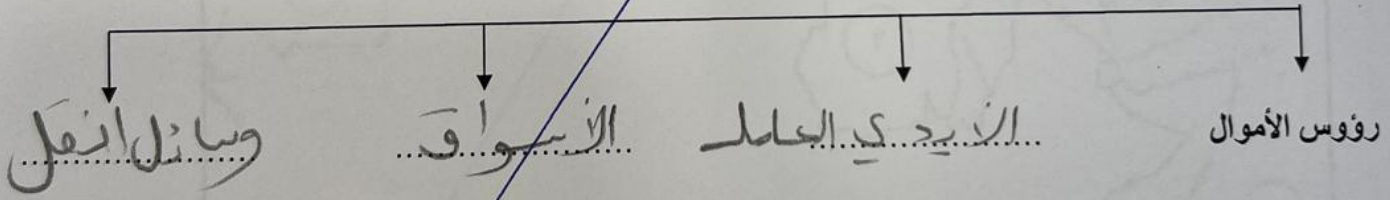
٣- (غاز طبيعي) غاز مصاحب للنفط الخام أو يوجد منفردا تتم إيسالته لاستخدامات عديدة .

٤- (التجارة البينية) التبادل التجاري بين الدول العربية .

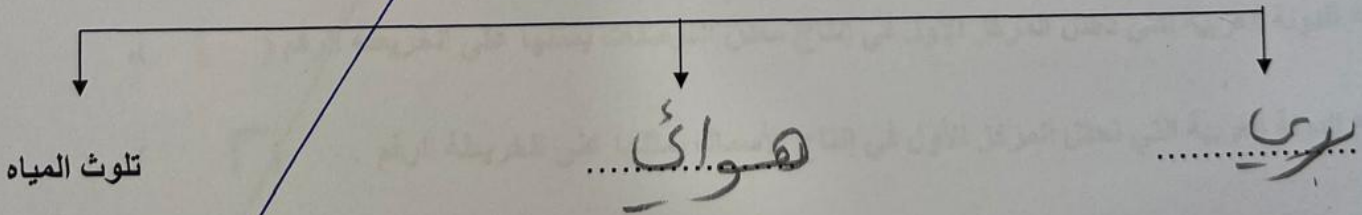
٥- (الصحراء) زحف رمال الصحراء على المناطق الجافة وشبه الجافة .

(ب) - أكمل المخططات السهمية التالية :

١. المقومات البشرية اللازمة لقيام الصناعة



٢. أنواع التلوث



السؤال الأول:- (موضوعي) ويتكون من (أ - ب)

(أ) - أكمل العبارات التالية بما يناسبها فيما درست :

- ١- تسجيل المواليد والوفيات وحالات الزواج والطلاق يسمى البحر الحيوي
- ٢- الدولة العربية التي تحتل المركز الأول في عدد السكان حسب إحصاء عام ٢٠١٤ م تسمى مصر
- ٣- عدد السكان الكلي للدولة على المساحة الكلية لهذه الدولة يسمى الكثافة السكانية
- ٤- الدولة العربية التي تحتل المركز الأول في زراعة محصول البن تسمى الصومال
- ٥- الطبقة التي تحمي الأرض من الإشعاعات فوق البنفسجية الضارة تسمى الاستوزون

المنهج الكويتية
almanahj.com/kw

(ب) - ظلل الخيار الصحيح من بين الخيارات التي تلي كل عبارة من العبارات التالية :

١ - الدولة العربية التي تحتل المركز الأول في تربية الإبل :

السعودية	قطر	الصومال	الأردن
----------	-----	---------	--------

٢ - الدولة العربية التي تحتل المركز الأول في إنتاج معدن الحديد :

اليمن	عمان	الإمارات	موريتانيا
-------	------	----------	-----------

٣ - تعتبر صناعة المنسوجات من الصناعات :

الاستخراجية	الحرفية	التحويلية	التجميعية
-------------	---------	-----------	-----------

٤ - عقد مؤتمر قمة الأرض في مدينة ريو دي جانيرو بالبرازيل عام :

١٩٩٢م	١٩٩٣م	١٩٩٤م	١٩٩٥م
-------	-------	-------	-------

٥- الدولة العربية التي عقد فيها المؤتمر الدولي الأول لمانحي سوريا عام ٢٠١٣ م :

الكويت	العراق	ليبيا	البحرين
--------	--------	-------	---------

