

تم تحميل هذا الملف من موقع المناهج الكويتية



الملف أسئلة اختبارات من السنوات السابقة للوحدة الثامنة

[موقع المناهج](#) ⇌ [المناهج الكويتية](#) ⇌ [الصف السادس](#) ⇌ [رياضيات](#) ⇌ [الفصل الثاني](#)

روابط مواقع التواصل الاجتماعي بحسب الصف السادس



روابط مواد الصف السادس على تلغرام

| | | | |
|---------------------------|----------------------------------|-------------------------------|-----------------------------------|
| الرياضيات | اللغة الانجليزية | اللغة العربية | التربية الاسلامية |
|---------------------------|----------------------------------|-------------------------------|-----------------------------------|

المزيد من الملفات بحسب الصف السادس والمادة رياضيات في الفصل الثاني

| | |
|--|---|
| اوراق عمل رياضيات | 1 |
| اوراق عمل ونماذج اختبار ممتازة في مادة الرياضيات | 2 |
| نموذج اختبار مهم لمادة الرياضيات | 3 |
| نموذج احابة اختبار مهم لمادة الرياضيات | 4 |
| نماذج اختبارات مهمة في مادة الرياضيات | 5 |

مراجعات من الاذنبارات



موقع
المنهج الكويتي
@Exam8
almanahj.com/kw

رياضيات



@Exam8

الصف السادس

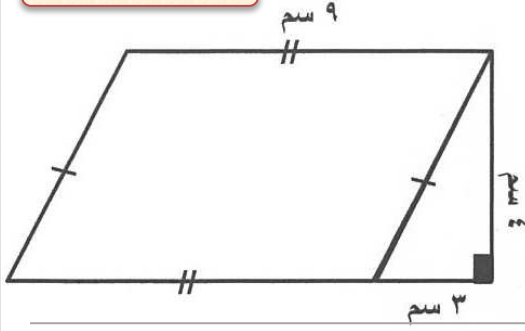
الفصل الدراسي الثاني الوحدة الثامنة

أسئلة اذنبارات الأعوام السابقة

رابط القناة @Exam8

التواصل والرد على استفساراتكم @AboMAged88

الأحمدى ٢٠١٧/٢٠١٨



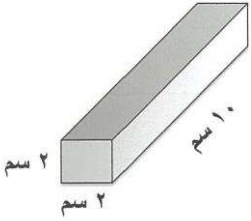
١- أوجد مساحة الشكل المدمج التالي :



موقع
المنهاج الكويتية
almanahj.com/kw

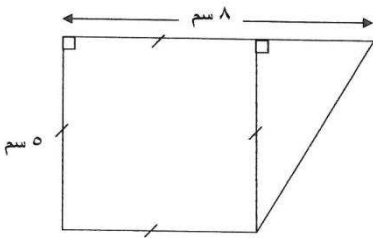
الأحمدى ٢٠١٧/٢٠١٨

٢- أوجد حجم المنشور القائم الموضح في الرسم :



الجهراء ٢٠١٧/٢٠١٨

٣- أوجد مساحة الشكل المقابل :

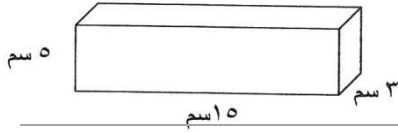


رابط القناة @Exam8

التواصل والرد على استفساراتكم @AboMaged88



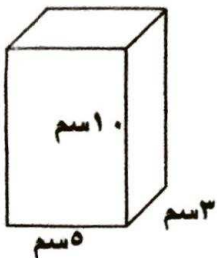
٤- أوجد حجم شبه المكعب المقابل :



٥- أوجد مساحة الشكل المقابل :

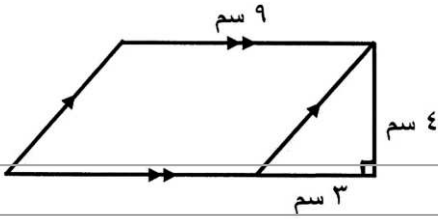


٦- أوجد حجم المنشور القائم موضحا خطوات الحل



حولي ٢٠١٧/٢٠١٨

٧- أوجد المساحة الكلية للشكل المقابل :

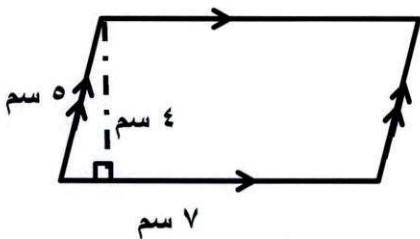


حولي ٢٠١٧/٢٠١٨

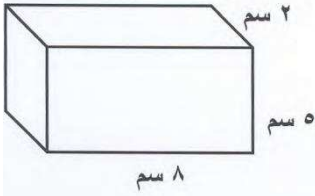
٨- أوجد حجم مكعب طول حرفه ٥ سم :

م. الكبير ٢٠١٧/٢٠١٨

٩- أوجد محيط ومساحة الشكل الرباعي التالي :

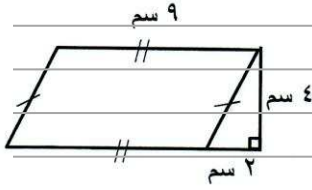


١٠- أوجد حجم المنشور في الشكل المقابل :



الفروانية ٢٠١٧/٢٠١٨

١١- أوجد مساحة الشكل المدمج الذي أمامك :



الفروانية ٢٠١٧/٢٠١٨

١٢- أوجد المساحة الكلية لسطح الصندوق الذي أمامك :

