

تم تحميل هذا الملف من موقع المناهج الكويتية



الملف نموذج إجابة منطقة الفروانية

[موقع المناهج](#) ⇌ [المناهج الكويتية](#) ⇌ [الصف الثامن](#) ⇌ [اجتماعيات](#) ⇌ [الفصل الثاني](#)

روابط مواقع التواصل الاجتماعي بحسب الصف الثامن



روابط مواد الصف الثامن على تلغرام

الرياضيات	اللغة الانجليزية	اللغة العربية	التربية الاسلامية
---------------------------	----------------------------------	-------------------------------	-----------------------------------

المزيد من الملفات بحسب الصف الثامن والمادة اجتماعيات في الفصل الثاني

تلخيص	1
امتحان دولة الكويت والعالم الاسلامي	2
حل التقويم لمادة الاجتماعيات	3
نموذج احابة اختبار في مادة الاجتماعيات لنهاية الفترة الدراسية الثانية	4
نموذج الاحابة لامتحان الاجتماعيات فرواتية	5

تفويض الاجابة

الإدارة العامة لمنطقة الفروانية التعليمية
مفتتحون الفروانية التعليمية



وزارة التربية
الإدارة العامة لمنطقة الفروانية التعليمية
التوجيه الفني للاجتماعيات

امتحان الفترة الدراسية الثانية
الصف الثامن
(نموذج الإجابة)
العام الدراسي: ٢٠٢١ م / ٢٠٢٢ م

المقرر / دولة الكويت والعالم الإسلامي
الزمن : ساعة ونصف
عدد الأوراق: ٦

السؤال الأول :- يتكون من (١ - ب - ج - د - هـ)

(أ) اختر البديل المناسب من بين البدائل التالية لكل عبارة :-

١- ترجع فكرة إنشاء الصندوق الكويتي للتنمية إلى الشيخ :- ص ١٥٩

صباح الأحمد الصباح

جابر الأحمد الصباح

عبدالله السالم الصباح

مبارك الصباح

المنهج الكويتية

almanahj.com/٩١

٢- أي مواد زائدة غير مرغوب فيها من مخلفات البيئة أو الفضلات : ص ٩١

العولمة

الضوضاء

التدوير

النفائيات

٣- عقد المؤتمر الخامس لمنظمة التعاون الإسلامية في عام ١٩٨٧م في دولة إسلامية : ص ١٤٣

مصر

الكويت

السعودية

المغرب

٤- عقد مؤتمر عقير لترسيم الحدود بين دولة الكويت و دولة العراق و المملكة العربية السعودية في عام ص ١٠٦

١٩٢٤م

١٩٢٣م

١٩٢٢م

١٩٢١م

٥ - نسبة السكان الذين يعيشون تحت خط الفقر بالنسبة لسكان العالم الإسلامي حوالي : ص ٩٧

%٣٨

%٣٧

%٣٦

%٣٥

ص ١٣٨

٦- أنشأت منظمة التعاون الإسلامي في ٢٥ سبتمبر عام :

١٩٨٩م

١٩٧٩م

١٩٦٩م

١٩٥٩م

٧- الغاز الأول المسؤول عن ظاهرة الاحتباس الحراري : ص ٩٠

النتروجين

الأكسجين

أول أكسيد الكربون

ثاني أكسيد الكربون

ص ١٥٩

٨- تأسست جمعية الهلال الأحمر بدولة الكويت في عام :

١٩٨٨م

١٩٧٧م

١٩٦٦م

١٩٥٥م

(ب) أكمل العبارات التالية بما يناسبها :-

١- تم إنشاء شرطة البيئة في دولة الكويت عام٢٠١٥.....م ص٨٢

٢- زحف رمال الصحراء علي المناطق الجافة و شبه الجافة يسمى ...التصحّر.... ص٨٨

٣- تم الاعتداء علي مركز الصامطة الحدودي في عام ..١٩٧٣.....م ص١٠٣

٤- عانت موريتانيا عام ٢٠١٧م من شدة التلوث يسمى.....المائي..... ص٨٥

٥- الدولة التي يكون فيها نسبة المسلمين ٥٠% أو أكثر تسمى ...الدولة الإسلامية... ص١٣٧

٦- أعلى الدول الإسلامية في معدل محو الأمية دولة تسمى ..كازاخستان... ص١٢٩

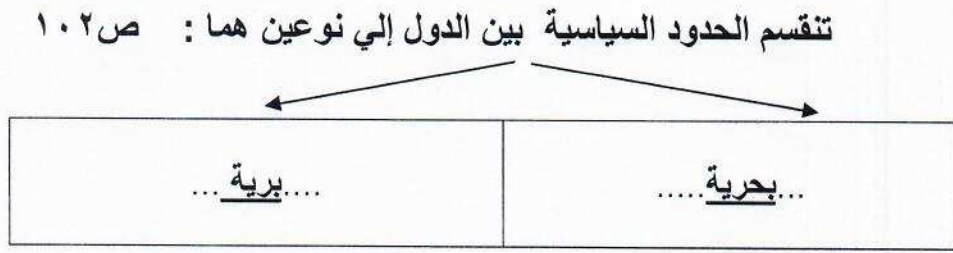
٧- مؤتمر ملوك و أمراء ورؤساء الدول و الحكومات يعقد مرة كل ثلاث سنوات يسمى .القمة الإسلامية. ص١٤١

٨- وقعت دولة الكويت اتفاقية الحماية عام ١٨٩٩م في عهد الشيخ مبارك الصباح .. ص١٠٦

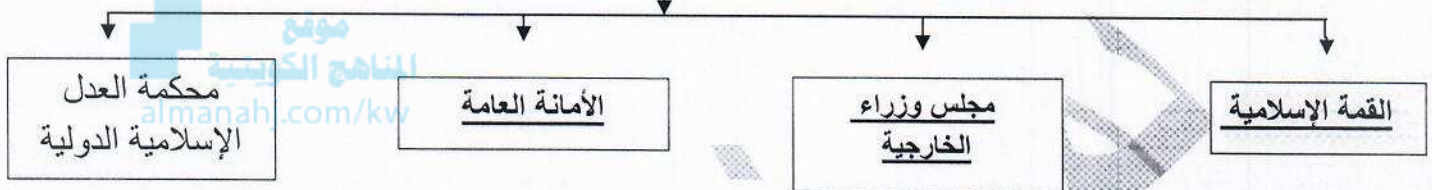
(ج) أختَر من القائمة (أ) ما يناسبها من القائمة (ب) :-

م	القائمة (أ)	الرقم المناسب	القائمة (أ)
١	تحررت دولة الكويت في عام	٣	٦ نوفمبر ١٩٩١م ص١٢٠
٢	نظام عالمي جديد يقوم علي الإبداع و التطور التقني و التكنولوجي	٥	التكامل الاقتصادي ص١٠٠
٣	تم إخماد آخر بئر نفطي مشتعل في دولة الكويت في تاريخ	=	الصناعة
٤	بدأت حرب عاصفة الصحراء في عام	١	٢٦ فبراير ١٩٩١م ص١٠٤
٥	عملية اقتصادية و اجتماعية يتم بموجبها إزالة جميع الحواجز بين الوحدات المختلفة	٢	العولمة ص٩٩
٦		٤	١٧ يناير عام ١٩٩١م ص١٢٢

د) أكمل المخططات السهمية التالية :-



أجهزة منظمة التعاون الإسلامي (الهيكل التنظيمي) ص ١٤١



هـ) لاحظ الصور التالية ثم أجب :-



(أ)

* الصورة (أ) تمثل شعار الهيئة الخيرية الإسلامية العالمية تأسست في عام ... ١٩٨٤ م ... ص ١٦٠




(ب)

* الصورة (ب) تمثل شعار الصندوق الكويتي للتنمية تأسس في عام ... ١٩٦١ م ... ص ١٥٩



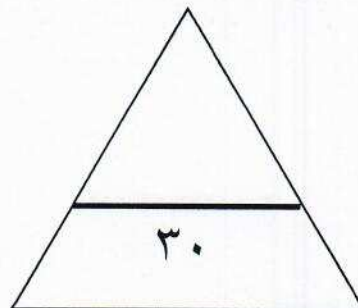
(ج)

* الصورة (ج) تمثل شعار منظمة إسلامية تسمى منظمة التعاون الإسلامي ص ١٤٥



(د)

* الصورة (د) تمثل شعار ... التدوير ... ص ٩١



السؤال الثاني :- يتكون من (أ - ب)

(أ) عرف المفاهيم التالية:- (٦ درجات)

- ١- التلوث البيئي: ص ٨١
أي تغير غير مرغوب به في الخواص الطبيعية أو الكيميائية أو البيولوجية للبيئة المحيطة.
- ٢- الحدود السياسية: ص ١٠٢
..هي خطوط حددت بواسطة الإنسان ورسمت حتى تفصل بين سيادة دولة و دولة أخرى ..
- ٣- الانفجار السكاني : ص ٩٥
....هو الزيادة الكبيرة في أعداد السكان
- ٤- البلدان النامية : ص ١٠٠
.. هي الدول التي مازالت أقل تقدما في ميادين الاقتصاد و العلم و التكنولوجيا ..
- ٥- التنمية المستدامة : ص ٩٣
برامج تحسين نوعية الحياة و لا تتحقق إلا بمشاركة جميع المواطنين من أجل تحسين نوعية الحياة وفق بيئة صحية آمنة و مستقرة و متقدمة
- ٦- الاحتباس الحراري ص ٩٠
ارتفاع درجات حرارة الأرض عن معدلها الطبيعي مما يؤدي إلي تغيرات مناخية .



(ب) لاحظ الشكل التالي ثم أجب:- (٤ درجات) ص ١٦٠

- ١- أ- في أي عام تأسست هذه الهيئة .
..... ١٩٨٢م (درجة)

ج- أكمل :- تخضع هذه الهيئة لإشراف وزارة ..الأوقاف و الشؤون الإسلامية.. (درجة)

٢- علل لما يأتي :- إنشاء هذه الهيئة الخيرية في دولة الكويت ؟ (درجتان)

- * إحياء ركن من أركان الإسلام و تيسير أدائه .
- * جمع و توزيع الزكاة بأفضل وأجود الطرق المشروعة.

السؤال الثالث :- يتكون من (أ - ب)

(أ) قارن بين التلوث الضوضائي و تلوث التربة حسب الجدول التالي: (٦ درجات)

وجه المقارنة	التلوث الضوضائي ص ٨٧	تلوث التربة ص ٨٨
الأسباب	١. وسائل النقل السيارات بأنواعها المختلفة و الطائرات و القطارات	١. الإفراط في استخدام المبيدات الحشرية علي المزروعات النباتية .
	٢. عمليات البناء و الهدم و أصوات آلات الحفر	٢. المخلفات الصناعية و الكيميائية والبشرية ٣. الأمطار الحمضية
النتائج	١- تؤدي إلي ضرر خطير في الجهاز السمعي *التوتر العصبي لدى الإنسان	١-الاخلال بالتوازن البيئي *ضعف عمليات البناء الضوئي *انحسار الغطاء النباتي

(ب) علل لما يأتي: (٤ درجات)

ص ٩٥

١- ظهور المشكلة السكانية في العالم الإسلامي .

نتيجة لعدم التوازن بين عدد السكان و الموارد و الخدمات.

ص ٩٨

٢- انتشار الفقر في الدول الإسلامية .

عدم توفر فرص عمل - ضعف اقتصاد الدولة - انتشار البطالة - تضخم أسعار السلع و الخدمات - قلة التبرعات و الصدقات في المجتمع.

ص ٨٥

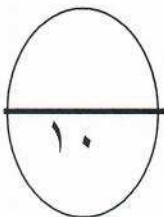
٣- نفوق كثير من الأسماك في جون الكويت عام ٢٠٠١ م .

بسبب ضخ مياه المجاري في جون الكويت وتكررت هذه الظاهرة عدة سنوات كما حدث آخرها في عام ٢٠١٧م

ص ١٥٩

٤- إنشاء الصندوق الكويتي للتنمية الاقتصادية .

تقديم القروض الميسرة للدول المحتاجة - تقديم المنح على سبيل المثال المعونات الفنية - الإسهام في برامج التنمية



السؤال الرابع :- يتكون من (أ - ب)

(أ) فرق بين كلاً من : (٤ درجات)

الأمية عند البلدان المتقدمة ص ١٢٨	الأمية عند البلدان النامية ص ١٢٨
الشخص الذي لم يصل إلي المستوى التعليمي الذي يجعله يفهم التعليمات الكتابية في موضوعات التقنية في عمله	هو الإنسان الذي بلغ الثانية عشر من عمره و لم يتعلم مبادئ القراءة و الكتابة و الحساب بلغة ما
الدخل القومي ص ١٠٠	الميزان التجاري ص ١٠٠
مجموع الدخل المكتسب في بلد ما خلال فترة زمنية معينة	الفرق بين قيمة الصادرات وقيمة و الواردات بالدولة

(ب) عدد ما يلي (مكثفياً بنقطتين) : (٦ درجات)

١- اهم قرارات القمة الخامسة لمنظمة التعاون الاسلامي: ص ١٤٣

- دعم القضية الفلسطينية.
- الحرص التام على استقلال ووحدة أراضيه . ورفض الاحتلال الإسرائيلي للجزء الجنوبي منه .
- ضرورة الوقف الفوري لكل عمليات الحربية بين الجمهورية العراقية وجمهورية إيران الإسلامية.
- الموافقة على مشروع النظام الأساسي لمحكمة العدل الإسلامية الدولية.

ص ١٢٦


٢- أسباب الإدمان في الدول الإسلامية :

- ضعف الوازع الديني و انحدار القيم الأخلاقية - ضعف الرقابة من الأسرة علي الفرد - رفاق السوء - التقليد الأعمى و استيراد قيم جديدة غريبة علي مجتمعاتنا - انتشار التدخين بين المتعلمين في المدارس - قضاء أوقات الفراغ في أمور تافهة لا تعود علي الشباب بالنفع

ص ٨٦

٣- الآثار المترتبة علي التلوث المائي:

- هلاك الكائنات البحرية الحيوانية و النباتية - فقدان السواحل لقيمتها الاقتصادية و السياحية
- التأثير علي صحة الإنسان لاعتماده علي الغذاء البحري



(انتهت الأسئلة)