

تم تحميل هذا الملف من موقع المناهج الكويتية



مدرسة التميز النموذجية

الملف نماذج اختبارات تجريبية

[موقع المناهج](#) ← [ملفات الكويت التعليمية](#) ← [الصف الثاني](#) ← [اجتماعيات](#) ← [الفصل الأول](#)

روابط مواقع التواصل الاجتماعي بحسب الصف الثاني



روابط مواد الصف الثاني على تلغرام

[الرياضيات](#)

[اللغة الانجليزية](#)

[اللغة العربية](#)

[التربية الاسلامية](#)

المزيد من الملفات بحسب الصف الثاني والمادة اجتماعيات في الفصل الأول

[توزيع خطة المنهج](#)

1

[تحميل كتاب الطالب للمنهج الجديد](#)

2

[تحميل حل كتاب الطالب للمنهج الجديد](#)

3

نماذج اختبار تجريبي

مادة الاجتماعيات

موقع
المناهج الكويتية
almanahj.com/kw

الفصل الدراسي الأول 2025 – 2026 م

للمصف (الثاني)

مدرسة التميز النموذجية

(ابتدائي - متوسط - ثانوي)



إعداد
قسم الاجتماعيات



التميز

مدرسة التميز النموذجية بنين (ابتدائي - متوسط - ثانوي) خيطان - قطعة (٤) - شارع (١٠٠)

اجب عن الأسئلة التالية:

20

(أ) ضع علامة (✓) إذا كانت العبارة الصحيحة وعلامة (x) إذا كانت العبارة خاطئة في كل مما يلي:

م	العبارة	العلامة
1	يجب الترشيد في استهلاك الكهرباء والماء.	
2	لا يوجد دول مجاورة لوطني الكويت.	
3	ولد الشيخ مشعل الأحمد الصباح عام 1945م	
4	نلبس الزي الوطني في المناسبات المختلفة.	

(ب) ظلل الخيار الصحيح من بين الخيارات التي تلي كل عبارة مما يلي:

1- تطل دولة الكويت على مسطح مائي اسمه:

البحر المتوسط	البحر الأحمر	الخليج العربي	خليج عمان
---------------	--------------	---------------	-----------

2- الدولتان المجاورتان للكويت هما السعودية و:

قطر	العراق	الإمارات	عمان
-----	--------	----------	------

3- الدكتور "سعد عبد الهادي الدوسري" حقق انجازاً عالمياً في مجال:

الرياضة	الهندسة	المحاماة	الطب
---------	---------	----------	------

4- تحويل الأشياء القديمة كالورق والبلاستيك وغيرها إلى أشياء جديدة نستفيد منها يسمى:

ترشيد الاستهلاك	الإسراف	إعادة التدوير	التلوث
-----------------	---------	---------------	--------

5- استخدام الكهرباء والماء أكثر من الحاجة يسمى:

الإسراف	ترشيد الاستهلاك	إعادة التدوير	التنمية
---------	-----------------	---------------	---------



(ج) صنف المفاهيم التالية في مكانها الصحيح:

(التنمية المستدامة / حاكم الدولة / الهوية الوطنية)

م	المفهوم	العبرة
1		الشخص الذي يقود الدولة.
2		نستخدم ما نحتاجه فقط من الطبيعة دون أن نؤذيها.
3		الشعور بالانتماء إلى الوطن واحترام القوانين.

(د) ظلل الحرف (أ) إذا كان السلوك صحيح والحرف (ب) إذا كان السلوك خاطئ:

م	السلوك	أ	ب
1	اتمسك بتعاليم الدين الإسلامي.		
2	أطفئ الأنوار عند خروجي من الصف.		
3	أشارك في المحافظة على البيئة.		
4	النباتات غير مهمة وليس من الضروري الحفاظ عليها.		

(هـ) صل بين الصور التالية في المجموعة (أ) وما يعبر عنها ويناسبها من المجموعة (ب):

م	المجموعة (أ)	المجموعة (ب)
1		خريطة الكويت
2		الدين الإسلامي
3		الزي الوطني
4		إعادة التدوير



اجب عن الأسئلة التالية:

20

(أ) ضع علامة (✓) إذا كانت العبارة الصحيحة وعلامة (✗) إذا كانت العبارة خاطئة في كل مما يلي:

م	العبارة	العلامة
1	وزارة الكهرباء والماء بالكويت تحرص على توفير خدماتها بجودة عالية.	
2	دولة الكويت لها موقع مميز.	
3	بدر المطوع مثل الكويت في مجال السباحة.	
4	نلبس الزي الوطني في المناسبات المختلفة.	

(ب) ظلل الحرف (أ) إذا كان السلوك صحيح والحرف (ب) إذا كان السلوك خاطئ:

م	السلوك	أ	ب
1	احترم القوانين واعمل من أجل رفعة وطني.		
2	اترك صنبور الماء مفتوح عند تنظيف أسناني.		
3	أضع النفايات في صندوق إعادة التدوير المخصص لها.		
4	لا التزم بالعادات والتقاليد والقيم.		

(ج) صنف المفاهيم التالية في مكانها الصحيح:

(الهوية الوطنية / الإسراف / ترشيد الاستهلاك / إعادة التدوير / حاكم الدولة)

م	المفهوم	العبارة
1	الشخص الذي يقود الدولة.	
2	نأخذ الأشياء القديمة ونحولها إلى أشياء جديدة نستفيد منها.	
3	استخدام الكهرباء والماء أكثر من الحاجة.	
4	الشعور بالانتماء إلى الوطن واحترام القوانين.	



(د) ظلل الخيار الصحيح من بين الخيارات التي تلي كل عبارة مما يلي:

1- تولى الشيخ مشعل الأحمد مقاليد الحكم عام:

2024م	2023م	2022م	2021م
-------	-------	-------	-------

2- الدكتور "سعد عبد الهادي الدوسري" حقق انجازاً عالمياً في مجال:

الرياضة	الهندسة	المحامة	الطب
---------	---------	---------	------

3- منار الحشاش مثلت جيل الشباب في مجال:

تكنولوجيا المعلومات	الفنون	علم الرياضيات	الطب
---------------------	--------	---------------	------

4- الدولتان المجاورتان للكويت هما السعودية و:

قطر	العراق	الإمارات	عمان
-----	--------	----------	------

(هـ) صل بين الصور التالية في المجموعة (أ) وما يعبر عنها ويناسبها من المجموعة (ب):

م	المجموعة (أ)	المجموعة (ب)
1		إعادة التدوير
2		العادات والتقاليد والقيم
3		اللغة العربية
4		شعار وزارة الكهرباء والماء



20

اجب عن الأسئلة التالية:

(أ) ضع علامة (✓) إذا كانت العبارة الصحيحة وعلامة (✗) إذا كانت العبارة خاطئة في كل مما يلي:

م	العبارة	العلامة
1	يجب الترشيد في استهلاك الكهرباء والماء.	✓
2	لا يوجد دول مجاورة لوطني الكويت.	✗
3	ولد الشيخ مشعل الأحمد الصباح عام 1945م	✗
4	نلبس الزي الوطني في المناسبات المختلفة.	✓

(ب) ظلل الخيار الصحيح من بين الخيارات التي تلي كل عبارة مما يلي:

1- تطل دولة الكويت على مسطح مائي اسمه:

البحر المتوسط	البحر الأحمر	الخليج العربي	خليج عمان
---------------	--------------	---------------	-----------

2- الدولتان المجاورتان للكويت هما السعودية و:

قطر	العراق	الإمارات	عمان
-----	--------	----------	------

3- الدكتور "سعد عبد الهادي الدوسري" حقق انجازاً عالمياً في مجال:

الرياضة	الهندسة	المحاماة	الطب
---------	---------	----------	------

4- تحويل الأشياء القديمة كالورق والبلاستيك وغيرها إلى أشياء جديدة نستفيد منها يسمى:

ترشيد الاستهلاك	الإسراف	إعادة التدوير	التلوث
-----------------	---------	---------------	--------

5- استخدام الكهرباء والماء أكثر من الحاجة يسمى:

الإسراف	ترشيد الاستهلاك	إعادة التدوير	التنمية
---------	-----------------	---------------	---------



(ج) صنف المفاهيم التالية في مكانها الصحيح:





(التنمية المستدامة / حاكم الدولة / الهوية الوطنية)

م	المفهوم	العبرة
1	حاكم الدولة	الشخص الذي يقود الدولة.
2	التنمية المستدامة	نستخدم ما نحتاجه فقط من الطبيعة دون أن نؤذيها.
3	الهوية الوطنية	الشعور بالانتماء إلى الوطن واحترام القوانين.

(د) ظلل الحرف (أ) إذا كان السلوك صحيح والحرف (ب) إذا كان السلوك خاطئ:

م	السلوك	أ	ب
1	اتمسك بتعاليم الدين الإسلامي.		
2	أطفئ الأنوار عند خروجي من الصف.		
3	أشارك في المحافظة على البيئة.		
4	النباتات غير مهمة وليس من الضروري الحفاظ عليها.		

(هـ) صل بين الصور التالية في المجموعة (أ) وما يعبر عنها ويناسبها من المجموعة (ب):

م	المجموعة (أ)	المجموعة (ب)
1		خريطة الكويت
2		الدين الإسلامي
3		الزي الوطني
4		إعادة التدوير



اجب عن الأسئلة التالية:

(أ) ضع علامة (✓) إذا كانت العبارة الصحيحة وعلامة (x) إذا كانت العبارة خاطئة في كل مما يلي:

م	العبارة	العلامة
1	وزارة الكهرباء والماء بالكويت تحرص على توفير خدماتها بجودة عالية.	✓
2	دولة الكويت لها موقع مميز.	✓
3	بدر المطوع مثل الكويت في مجال السباحة.	x
4	نلبس الزي الوطني في المناسبات المختلفة.	✓

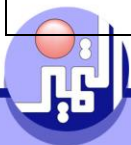
(ب) ظلل الحرف (أ) إذا كان السلوك صحيح والحرف (ب) إذا كان السلوك خاطئ:

م	السلوك	أ	ب
1	احترم القوانين واعمل من أجل رفعة وطني.	■	
2	اترك صنبور الماء مفتوح عند تنظيف أسناني.		■
3	أضع النفايات في صندوق إعادة التدوير المخصص لها.	■	
4	لا التزم بالعادات والتقاليد والقيم.		■

(ج) صنف المفاهيم التالية في مكانها الصحيح:

(الهوية الوطنية / الإسراف / ترشيد الاستهلاك / إعادة التدوير / حاكم الدولة)

م	المفهوم	العبارة
1	حاكم الدولة	الشخص الذي يقود الدولة.
2	إعادة التدوير	نأخذ الأشياء القديمة ونحولها إلى أشياء جديدة نستفيد منها.
3	الإسراف	استخدام الكهرباء والماء أكثر من الحاجة.
4	الهوية الوطنية	الشعور بالانتماء إلى الوطن واحترام القوانين.



(د) ظلل الخيار الصحيح من بين الخيارات التي تلي كل عبارة مما يلي:

1- تولى الشيخ مشعل الأحمد مقاليد الحكم عام:

2024م	2023م	2022م	2021م
-------	-------	-------	-------

2- الدكتور "سعد عبد الهادي الدوسري" حقق انجازاً عالمياً في مجال:

الرياضة	الهندسة	المحاماة	الطب
---------	---------	----------	------

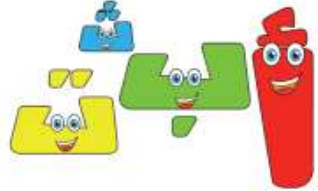



3- منار الحشاش مثلت جيل الشباب في مجال:

تكنولوجيا المعلومات	الفنون	علم الرياضيات	الطب
---------------------	--------	---------------	------

4- الدولتان المجاورتان للكويت هما السعودية و:

قطر	العراق	الإمارات	عمان
-----	--------	----------	------

(هـ) صل بين الصور التالية في المجموعة (أ) وما يعبر عنها ويناسبها من المجموعة (ب):

م	المجموعة (أ)	المجموعة (ب)
1		إعادة التدوير
2		العادات والتقاليد والقيم
3		اللغة العربية
4		شعار وزارة الكهرباء والماء

