



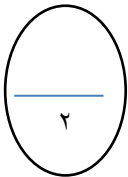
التقييم (١) الوحدة السابعة والثامنة

الاسم:..

السؤال الأول : اجمع. استخدم   و

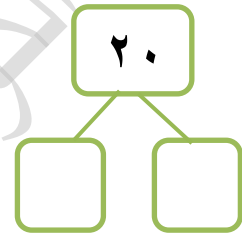
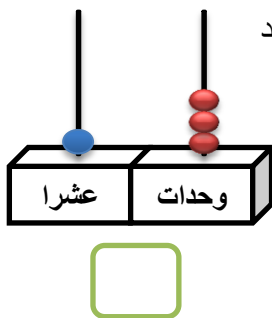
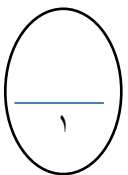
()

 = 0 + 9



السؤال الثاني : (١) اكتب مكونات العدد

(٢) اكتب رمز العدد



السؤال الثالث: اكتب < أو > أو =

١٢ ○ ٢٠ (١)

۱۴ ○ ۱۴ (۲)

السؤال الرابع : حل المسائل

عند حمد ١٢  واعطى سالم ٢ 

كم عدد  المتبقية عند حمد ؟ 

السؤال الخامس: اختر الاجابة الصحيحة

□ = 0 + 0 + 0



السؤال السادس : لون لتوضيح الترتيب (لون الخامس)



قسم الرياضيات

رئيسة القسم: حنان الصراف

مديرة المدرسة : سعاد البيدان