

تم تحميل هذا الملف من موقع ملفات الكويت التعليمية



[com.kwedufiles.www//:https](https://www.kwedufiles.com)

*للحصول على أوراق عمل لجميع الصفوف وجميع المواد اضغط هنا

* للحصول على أوراق عمل لجميع مواد الصف الثاني اضغط هنا

<https://kwedufiles.com/2>

* للحصول على جميع أوراق الصف الثاني في مادة علوم ولجميع الفصول, اضغط هنا

<https://kwedufiles.com/2science>

* للحصول على أوراق عمل لجميع مواد الصف الثاني في مادة علوم الخاصة بـ الفصل الأول اضغط هنا

<https://www.kwedufiles.com/2science1>

* لتحميل كتب جميع المواد في جميع الفصول للـ الصف الثاني اضغط هنا

<https://www.kwedufiles.com/grade2>

[bot_kwlinks/me.t//:https](https://t.me/bot_kwlinks)

للحصول على جميع روابط الصفوف على تلغرام وفيسبوك من قنوات وصفحات: اضغط هنا

الروابط التالية هي روابط الصف الثاني على مواقع التواصل الاجتماعي

مجموعة الفيسبوك

صفحة الفيسبوك

مجموعة التلغرام

بوت التلغرام

قناة التلغرام

رياضيات على التلغرام

الدرس (١): ما خصائص الكائنات الحية والأشياء الغير حية؟

السؤال الأول : اختر الإجابة الصحيحة علمياً لكل من العبارات التالية بوضع علامة (✓) في المربع المقابل لها:

١. من الكائنات الحية:

السيارة ☐ الطائرة ☐ الأرنب ☐ الكتاب ☐

السؤال الثاني: ضع علامة (✓) أمام العبارة الصحيحة وعلامة (X) أمام العبارة الغير صحيحة :

١. الكائنات الحية تتنفس وتشرب وتتغذى. ()

٢. الأشياء الغير حية تتغذى ولا تتنفس. ()

السؤال الثالث: أكمل العبارات التالية بما يناسبها علمياً:

١. الكائنات الحية تتنفس وتشرب و

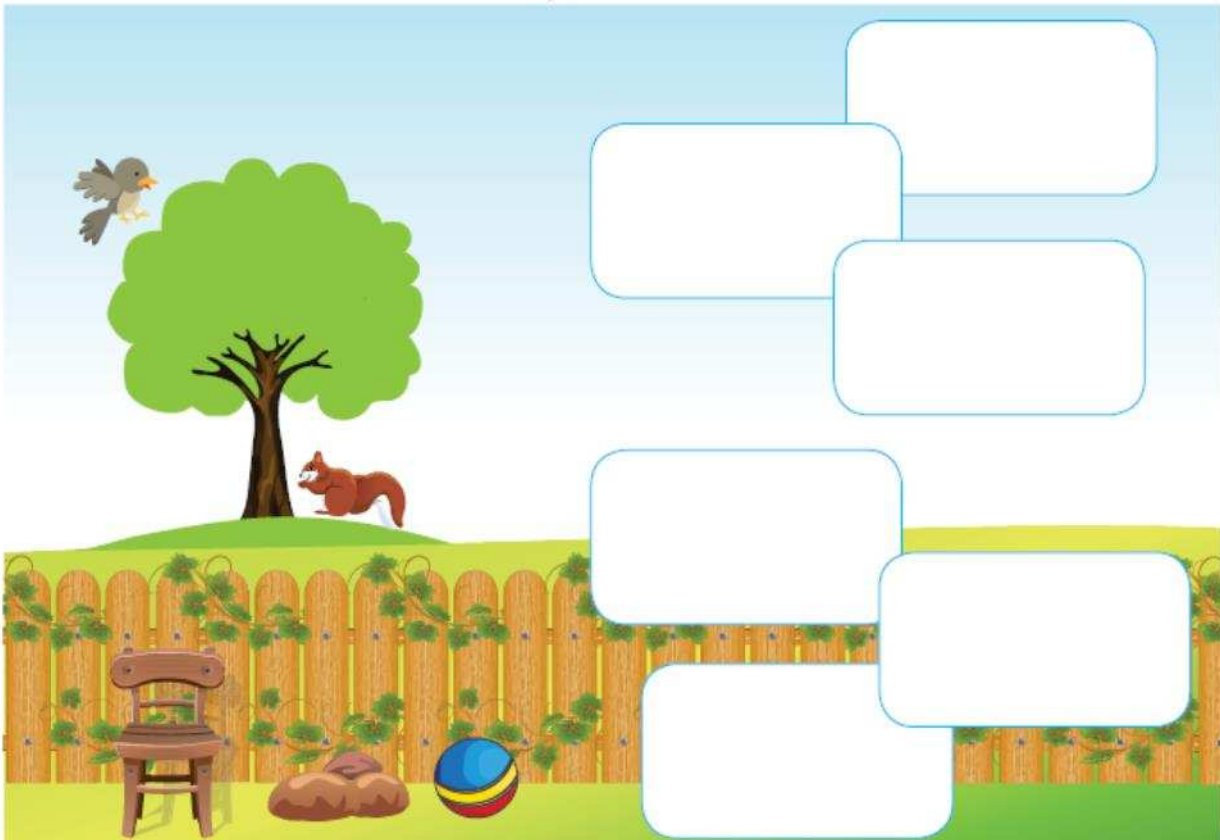
٢. الأشياء لا تتغذى ولا تتنفس.

السؤال الرابع : أكمل الأشكال والمخططات التالية:

أرسم كائنات حية وأشياء غير حية.

١

حديقة الحيوان









صَنَّفِ الصُّوَرِ الَّتِي أَمَامَكَ إِلَى كَائِنَاتٍ حَيَّةٍ وَأَشْيَاءٍ غَيْرِ حَيَّةٍ.

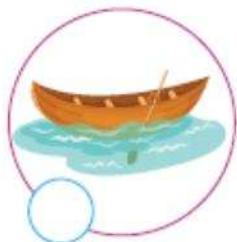
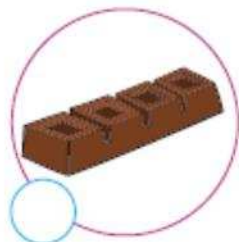
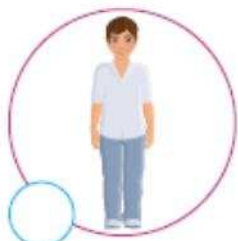

أَشْيَاءٌ غَيْرُ حَيَّةٍ	كَائِنَاتٌ حَيَّةٌ

سَجِّلْ مَلاحِظَاتِكَ بِوَضْعِ ✓ أَوْ ✗.

				الْعَبَةُ
				تَنْتَفِسُ
				تَشْرَبُ
				تَتَغَذَّى



ضَعِ ✓ لِلْكَائِنَاتِ الْحَيَّةِ أَوْ ✗ لِلأَشْيَاءِ غَيْرِ الْحَيَّةِ.



اَكْتُبِ الْكَلِمَاتِ الْجَدِيدَةَ: 

تَتَغَذَّى

تَشْرَبُ

تَنْتَفِسُ

.....

الدرس (٢): ما أجزاء النباتات؟

السؤال الأول : اختر الإجابة الصحيحة علمياً لكل من العبارات التالية بوضع علامة (✓) في المربع المقابل لها:

١. الجذور والساق من أجزاء

☐ الحيوان ☐ النبات ☐ الأسماك ☐ العين

السؤال الثاني: ضع علامة (✓) أمام العبارة الصحيحة وعلامة (X) أمام العبارة الغير صحيحة :

١. الأزهار من أجزاء النبات. ()

٢. الأوراق من أجزاء الحيوان. ()

السؤال الثالث: أكمل العبارات التالية بما يناسبها علمياً:

١. من أجزاء النبات الجذور و والأوراق والأزهار.

٢. الأوراق من أجزاء.....

السؤال الرابع : أكمل الأشكال والمخططات التالية:

أرسم نبتة، ثم دون بيانات أجزائها باستخدام الكلمات التي أمامك.

جذور	
ورقة	
زهرة	
ساق	

٢

عَبَّرَ بِاسْتِخْدَامِ الرَّجْهِ الْمُنَاسِبِ () () .



اُكْتُبِ الْكَلِمَاتِ الْجَدِيدَةَ:

جُذُورٌ

٣

٤

لَوْنُ

السَّاقُ أَصْفَرُ

الزَّهْرَةُ أَحْمَرُ

الجُذُورُ بَيْضُ

الأوراقُ أَخْضَرُ



اكتب الكلمات التالية في مكانها الصحيح (ساق - جذور - ورقة - زهرة).

جزء من النبتة يحمل الأوراق والأزهار

--	--	--




جزء من النبتة يثبت النبتة في التربة

--	--	--	--



جزء من النبتة يصنع الغذاء للنبتة

--	--	--	--



جزء من النبتة يتحول إلى ثمرة

--	--	--	--



اكتب اسم جزء النبات في المكان المناسب.



الدرس (٣): ما وظيفة الجذور؟

السؤال الأول : اختر الإجابة الصحيحة علمياً لكل من العبارات التالية بوضع علامة (✓) في المربع المقابل لها:

١. تثبت النبات في التربة.
- ☐ الجذور ☐ الساق ☐ الأوراق ☐ الأزهار
٢. تمتص الماء من التربة.
- ☐ الأزهار ☐ الساق ☐ الأوراق ☐ الجذور


السؤال الثاني: ضع علامة (✓) أمام العبارة الصحيحة وعلامة (X) أمام العبارة الغير صحيحة :

١. الأوراق تثبت النبات في التربة. ()
٢. الجذور تمتص الماء من التربة. ()

السؤال الثالث: أكمل العبارات التالية بما يناسبها علمياً:

١. الجذور النبات في التربة.
٢. تمتص الماء من التربة.

السؤال الرابع : لون جذور نبات الجزر باللون البرتقالي



الدرس (٤): ما وظيفة الساق؟

السؤال الأول : اختر الإجابة الصحيحة علمياً لكل من العبارات التالية بوضع علامة (✓) في المربع المقابل لها:

١. توصل الماء الى جميع أجزاء النبات.

☐ الجذور ☐ الساق ☐ الأوراق ☐ الأزهار

السؤال الثاني: ضع علامة (✓) أمام العبارة الصحيحة وعلامة (X) أمام العبارة الغير صحيحة :

١. الأوراق توصل الماء الى جميع أجزاء النبات. ()

٢. الساق تحمل الأوراق والأزهار والثمار. ()

السؤال الثالث: أكمل العبارات التالية بما يناسبها علمياً:

١. الساق الماء الى جميع أجزاء النبات.

٢. تحمل الأوراق والأزهار والثمار.

السؤال الرابع : لون ساق النبات باللون الأصفر



الدرس (٥): ما وظيفة الأوراق؟

السؤال الأول : اختر الإجابة الصحيحة علمياً لكل من العبارات التالية بوضع علامة (✓) في المربع المقابل لها:

١. تصنع الغذاء للنبات:

☐ الجذور ☐ الساق ☐ الأوراق ☐ الأزهار

السؤال الثاني: ضع علامة (✓) أمام العبارة الصحيحة وعلامة (X) أمام العبارة الغير صحيحة :

١. الأزهار تصنع الغذاء للنبات. ()

٢. أوراق النبات تصنع الغذاء للنبات. ()

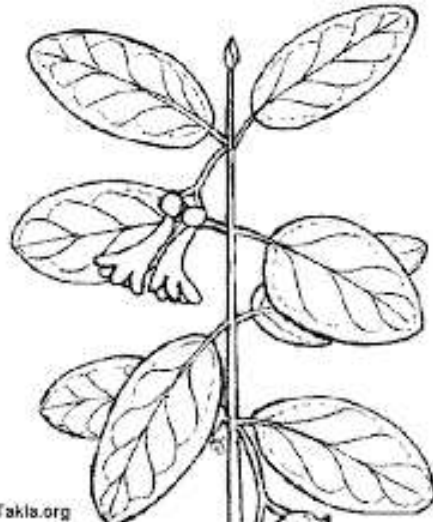
السؤال الثالث: أكمل العبارات التالية بما يناسبها علمياً:

١. أوراق النبات تصنع..... للنبات.

السؤال الرابع : اختر من المجموعة (ب) ما يناسبها من المجموعة (أ) بوضع الرقم المناسب

الرقم	(أ)	(ب)
	تحتاج أوراق النبات لتصنع الغذاء الى	السكر
	الأوراق تصنع	الماء والهواء والترربة

السؤال الخامس: لون أوراق النبات باللون الأخضر،



الدرس (٦): ما وظيفة الأزهار؟

السؤال الأول : اختر الإجابة الصحيحة علمياً لكل من العبارات التالية بوضع علامة (✓) في المربع المقابل لها:

١. تتحول الى ثمار.
- ☐ الجذور ☐ الساق ☐ الأوراق ☐ الأزهار
٢. تحتوي على بذرة وتعطينا نبات جديد.
- ☐ الجذر ☐ الثمرة ☐ الورقة ☐ الزهرة

السؤال الثاني: ضع علامة (✓) أمام العبارة الصحيحة وعلامة (X) أمام العبارة الغير صحيحة :

١. تتحول الأزهار الى ثمار. ()
٢. تحتوي الزهرة على بذرة وتعطينا نبات جديد. ()

السؤال الثالث: أكمل العبارات التالية بما يناسبها علمياً:

١. تتحول..... الى ثمار.
٢. الثمرة تحتوي على وتعطينا نبات جديد.

السؤال الرابع : لون الزهرة باللون الاحمر

