

تم تحميل هذا الملف من موقع المناهج الكويتية



الملف نموذج إجابة منطقة مبارك الكبير

[موقع المناهج](#) ⇌ [المناهج الكويتية](#) ⇌ [الصف الثامن](#) ⇌ [اجتماعيات](#) ⇌ [الفصل الأول](#)

روابط مواقع التواصل الاجتماعي بحسب الصف الثامن



روابط مواد الصف الثامن على تلغرام

[الرياضيات](#)

[اللغة الانجليزية](#)

[اللغة العربية](#)

[التربية الاسلامية](#)

المزيد من الملفات بحسب الصف الثامن والمادة اجتماعيات في الفصل الأول

مسودة كتاب الطالب في مادة الاجتماعيات لعام 2018	1
خطة توزيع منهج العام الجديد في مادة الاجتماعيات	2
حل الوحدة الاولى في مادة الاجتماعيات	3
ورقة عمل في مادة الاجتماعيات	4
ورقة عمل في مادة الاجتماعيات	5

نموذج الإجابة

(أجب على جميع الأسئلة)

السؤال الأول: موضوعي و يتكون من (أ - ب) : لكل نقطة درجة واحدة فقط

(أ) ظلل الخيار الصحيح من بين البدائل التي تلي كل عبارة :

١ - المنصب الإداري الذي استحدثه الخليفة عمر بن الخطاب منصب : ص ٢٥

الوزير	الوالي	المحتسب	الحاجب
--------	--------	---------	--------

٢ - قام المسلمون ببناء جامع عمرو بن العاص في مدينة : ص ٣٣

دمشق	الفسطاط	دومة الجندل	اسطنبول
------	---------	-------------	---------

٣ - أولى دول العالم الإسلامي في إنتاج معدن اليورانيوم : ص ٧٠

كازاخستان	النيجر	باكستان	السعودية
-----------	--------	---------	----------

٤ - القرن الميلادي الذي امتدت به الحضارة الإسلامية عبر قارات العالم القديم : ص ١٧

الخامس	السادس	السابع	الثامن
--------	--------	--------	--------

٥ - لقب الشيخ صباح الأحمد الجابر الصباح من قبل الأمم المتحدة بقائد العمل الإنساني في عام : ص ٢٤

٢٠١١ م	٢٠١٢ م	٢٠١٣ م	٢٠١٤ م
--------	--------	--------	--------

(ب) أكمل العبارات التالية بما يناسبها فيما درست :

١. يبلغ إنتاج العالم الإسلامي من الحبوب ----- ١٤ % ----- ص ٧٢

٢. محاصيل تزرع من أجل التصدير تسمى ----- الغلات النقدية ----- ص ٧٣

٣. الخليفة العباسي الذي شجع على العلم و حركة الترجمة هو --- المأمون --- ص ٣٧

٤. اشتهرت الصناعات الخشبية في الدولة الإسلامية باسم ----- الأرابيسك / Arabisk ----- ص ٢٧

٥. استفاد الأوروبيون من طريقة المسلمين في نقل الرسائل جواً عن طريق --- الحمام الزاجل --- ص ٤٣



تابع / نموذج امتحان نهاية الفترة الدراسية الاولى - دولة الكويت و العالم الإسلامي - للصف الثامن - العام الدراسي ٢٠٢١ م

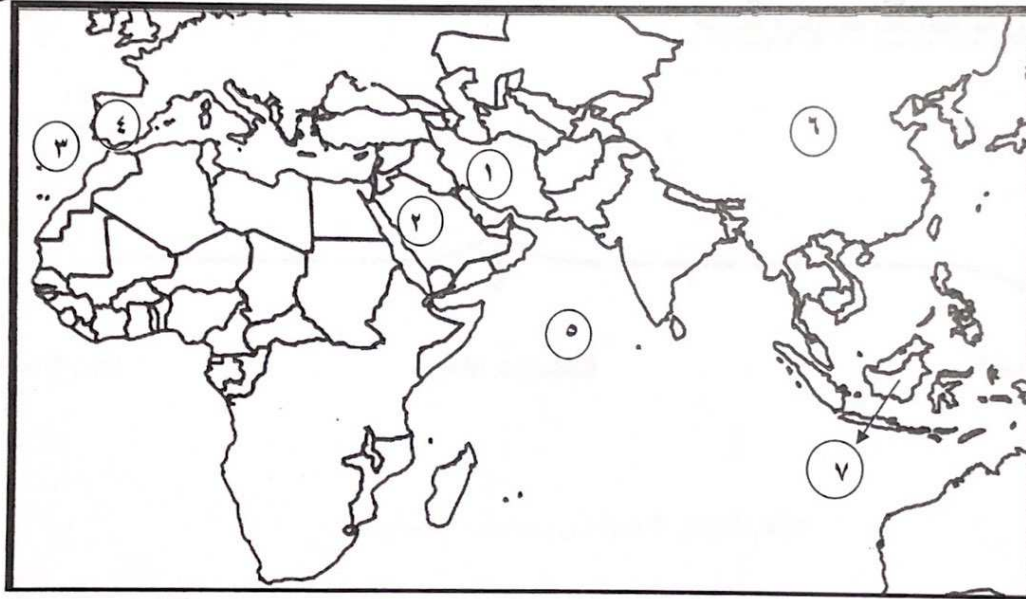
السؤال الثاني : موضوعي و يتكون من (أ - ب) : لكل نقطة درجة واحدة فقط

(أ) اختر من المجموعة (أ) ما يناسبها من المجموعة (ب) بكتابة الرقم المناسب :

م	أسماء العلماء	الرقم	أشهر مؤلفاتهم
١	الكندي ص ٤٢	--	الصيدلة في الطب
٢	الجاحظ ص ٤٠	٥	الجبر و المقابلة
٣	الرازي ص ٤٠	٤	نزهة المشتاق في اختراق الأفاق
٤	الإدريسي ص ٤٢	١	الهندسة
٥	الخوارزمي ص ٣٩	٢	الحيوان
٦		٣	الحاوي في الطب



(ب) لاحظ خريطة العالم الاسلامي الصماء التي أمامك ثم نفذ المطلوب :



١. مقر قيام الدولة الإسلامية في عهد الرسول ﷺ يمثلها على الخريطة الرقم ----- ٢ ----- ص ١٧
٢. تعتبر بلاد الأندلس مركز إشعاع الحضارة الإسلامية إلى أوروبا يمثلها على الخريطة الرقم - ٤ --- ص ٤١
٣. يحد بلاد المغرب من جهة الغرب مسطح مائي يمثلها على الخريطة الرقم ----- ٣ ----- ص ٧٤
٤. الإمبراطورية الفارسية يمثلها على الخريطة الرقم ----- ١ ----- ص ١٧
٥. دولة أسبوعية تحتل المركز الثاني على مستوى العالم في الإنتاج البحري عام ٢٠١٤ م
يمثلها على الخريطة الرقم ----- ٧ ----- ص ٧٤

السؤال الثالث : موضوعي و يتكون من (أ - ب) : لكل نقطة درجة واحدة فقط

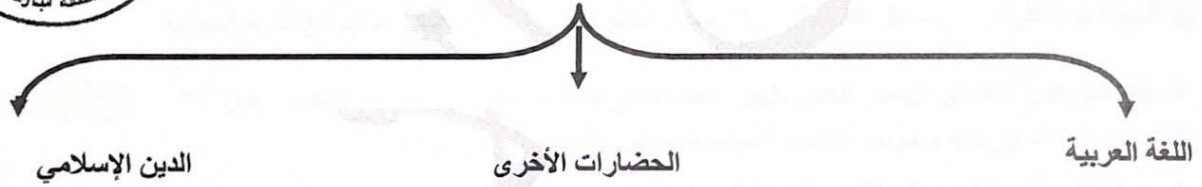
أ) اكتب المفهوم أو المصطلح العلمي الدال على العبارات التالية:

١. (أهل الذمة) هم النصارى واليهود الذين ظلوا على دينهم مع دفع الجزية . ص ٣٦
٢. (مجالس القصاص و الوعاظ) تميز المجتمع الإسلامي بسماع القصص و الحكايات التي كانت محببة لدى الناس . ص ٣٦
٣. (احتياطي النفط) كمية النفط المخزونة في باطن الأرض ولم تستخرج بعد . ص ٦٨
٤. (الجوت) نبات ينمو في المناطق الاستوائية والموسمية . ص ٧٣
٥. (الحضارة) كل ما يطرأ على المجتمع من تقدم ورقي في الجانب المادي أو الجانب الروحي . ص ١٨

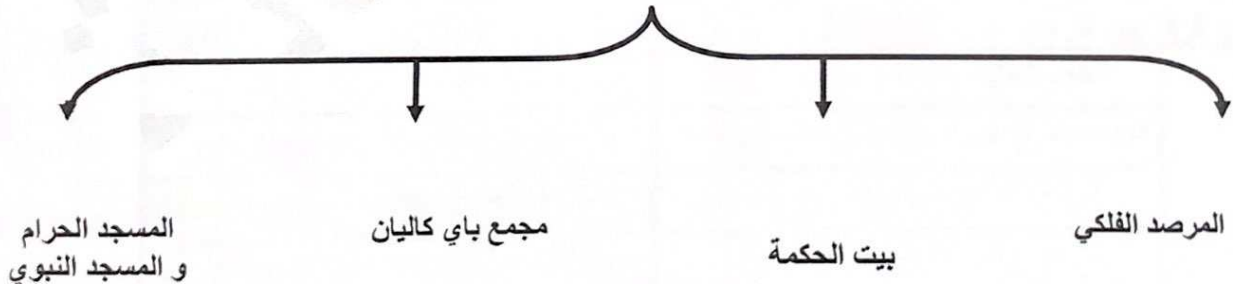
ب) أكمل المخططات السهمية التالية :



١- أسس الحضارة الإسلامية ص ٢٠



٢. أهم المراكز العلمية في الحضارة الإسلامية ص ٣٨





درجة واحدة فقط

السؤال الرابع: مقالتي و يتكون من (أ - ب - ج)
(أ) علل لما يلي :
١. تنوع الثروات الطبيعية في العالم الإسلامي.

* امتداد العالم الإسلامي على مساحات شاسعة من اليابسة و التنوع التضاريسي و المناخي .

درجتان

٢. أنعكس أثر خصائص الحضارة الإسلامية على دولة الكويت . ص ٢٤

*نشأ الشعب الكويتي على الحب و التراحم و العدل و التسامح و المساواة .

* مد يد العون للمسلمين و الغير مسلمين

* العمل على فعل الخير من خلال تأسيس المؤسسات و الهيئات و الجمعيات الخيرية (مثل) : بيت الزكاة الكويتي ، الهيئة الخيرية الإسلامية العالمية .

درجتان

٣. لقيت التجارة تشجيعاً كبيراً في الحضارة الإسلامية. ص ٢٨



١. لدورها الكبير في التبادل التجاري مع المناطق المجاورة . ٢. أسهمت في نشر الإسلام .

٣. يمتلك موقع العالم الإسلامي الاستراتيجي يتضمن من الخطوط التجارية البرية و البحرية مما انعكس على ازدهار صادراته و وارداته .

(ب) أجب عن الأسئلة التالية :-

درجة واحدة فقط

١. للحضارة الإسلامية دور في نهضة الحضارة الأوروبية. (علل) ص ٤٢

تدين أوروبا بالفضل الكبير للحضارة الإسلامية حيث كانت سبباً في النهضة الصناعية والعلمية الأوروبية الحديثة ونذكر منها المجالات التالية : (١) مجال الفلسفة . (٢) مجال الجغرافيا . (٣) مجال استخراج المياه الجوفية

٣ درجات

٢. العوامل التي أدت إلى ازدهار العلم وظهور العلماء في الحضارة الإسلامية . (عدد) ص ٣٧

*تشجيع العلماء ورعاية وتمويل القيادات السياسية لهم من خلفاء وملوك وأمرأ.

* حركة التعريب (الترجمة) للكتب القديمة اليونانية و الهندية و الفارسية وغيرها .

*التنافس العلمي بين الدول الإسلامية

* الرخاء الاقتصادي

درجتان

٣. جهود المسلمين في الزراعة . (أنكر) ص ٢٦ / ٢٧

* شق القنوات المائية و الترعة . * إنشاء ديوان الماء . * إقامة السدود . * تنظيم وسائل الري

(ج) فرق بين كل من : ٤ درجات

العلوم العقلية (أمثلة) ص ١٧ درجة	العلوم النقلية (أمثلة) ص ١٧ درجة
الرياضيات والفيزياء والكيمياء والفلسفة والفلك	علوم الدين من حديث وفقه وتفسير وتاريخ
الزكاة (المفهوم) ص ٢٨ درجة	الخزاج (المفهوم) ص ٢٨ درجة
ركن من أركان الإسلام يخرجها المسلمون الأغنياء للمستحقين من الفقراء وسميت الزكاة لما فيها من تركية للنفس و تطهيرها .	ضرورية الأرض الزراعية التي تخرج مبلغاً مالياً معيناً من ناتج المحصول الزراعي وهي أهم مورد في العصور الوسطى وكان يستعان بها في حماية ثغور الدول في الحضارة الإسلامية و منح العطاء للجند

السؤال الخامس: مقالتي و يتكون من (أ - ب - ج):
(أ) أقرأ الفقرة التالية ثم أجب عما يليها من أسئلة : ص ٣١

((يعتبر المسجد الكبير من أهم المظاهر العمرانية في دولة الكويت له إطلالة جميلة و منظر بديع ، حيث يقع في قلب العاصمة مقابل قصر السيف ، و الذي افتتح في عام ١٩٨٦ م في عهد الشيخ جابر الأحمد الصباح ، وقد صمم المسجد وفق الطراز الأندلسي و المنقوشات الإسلامية)) .
أجب على الأسئلة التالية :

١. ضع عنوان للفقرة السابقة . **درجة**
* (المظاهر العمرانية في دولة الكويت) أو (المسجد الكبير في الكويت) و ما يراه المصحح مناسباً للفقرة السابقة

درجة
المنهج الكويتية
المنهج الكويتية
almanak.com/kw



٢. أذكر العام الذي تم افتتاح المسجد الكبير .
* تم افتتاح المسجد الكبير في عام ١٩٨٦ م

٣. في عهد أي شيخ تم فيه افتتاح المسجد الكبير .
* في عهد الشيخ جابر الأحمد الصباح

٤. ما نوع الطراز المعماري الذي صمم عليه المسجد السابق .

* الطراز الأندلسي * المنقوشات الإسلامية

(ب) دلل على صحة العبارات التالية :

١. اهتمام الدولة الإسلامية بقطاع الصناعة.

من أجل استثمار الموارد الطبيعية المتوفرة في الدولة الإسلامية .

٢. تعتبر الحضارة الإسلامية حضارة إنسانية.

* تميزت باحترامها للأديان و ساوت بين الشعوب كافة دون النظر إلى العرق أو اللون أو الدين.
* حثت الشعوب على مواصلة دورهم الحضاري والثقافي تحت مظلة الإسلام حتى تقدمت البشرية أضعاف ما كانت عليه

٣. ساعدت عوامل عديدة على زيادة الإنتاج الزراعي في دول العالم الإسلامي. ص ٧٢ **درجات**


* المناخ. * التربة الخصبة. * كثرة السكان والأيدي العاملة.

* وجود البحيرات والأنهار والابار. * سقوط الأمطار

(ج) أجب عما يلي : ص ٦٧

حول نسبة إنتاج دول العالم الإسلامي من النفط الخام ١,٥ ٪ والغاز الطبيعي ٣٦ ٪ من إجمالي الإنتاج العالمي على شكل دائرة بيانية. (٤ درجات)

٣٦ ٪ إنتاج دول العالم الإسلامي من الغاز الطبيعي



١,٥ ٪ إنتاج النفط لدول العالم الإسلامي

