

تم تحميل هذا الملف من موقع المناهج الكويتية



الملف أوراق عمل الاختبار التحصيلي الأول

[موقع المناهج](#) ⇌ [المناهج الكويتية](#) ⇌ [الصف الثاني](#) ⇌ [رياضيات](#) ⇌ [الفصل الثاني](#)

روابط مواقع التواصل الاجتماعي بحسب الصف الثاني



روابط مواد الصف الثاني على تلغرام

<a href="#">الرياضيات</a>	<a href="#">اللغة الانجليزية</a>	<a href="#">اللغة العربية</a>	<a href="#">التربية الاسلامية</a>
---------------------------	----------------------------------	-------------------------------	-----------------------------------

المزيد من الملفات بحسب الصف الثاني والمادة رياضيات في الفصل الثاني

<a href="#">تدريبات</a>	1
<a href="#">وسائل الوحدة الحادية عشر</a>	2
<a href="#">مذكرة</a>	3
<a href="#">مذكرة مهمة</a>	4
<a href="#">مذكرة مهمة</a>	5



أوراق عمل (التحصيلي الأول) الصف: الثاني  
العام الدراسي (٢٠٢٤ / ٢٠٢٥)  
الفصل الدراسي الثاني

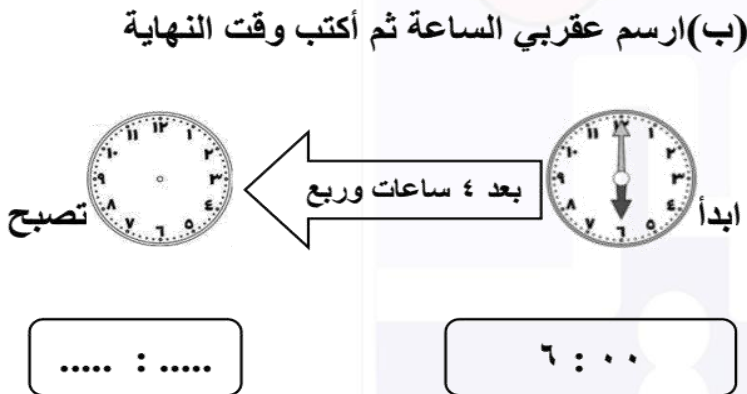
مدرسة التميز النموذجية بنين  
المرحلة الابتدائية  
قسم الرياضيات

### السؤال الأول :

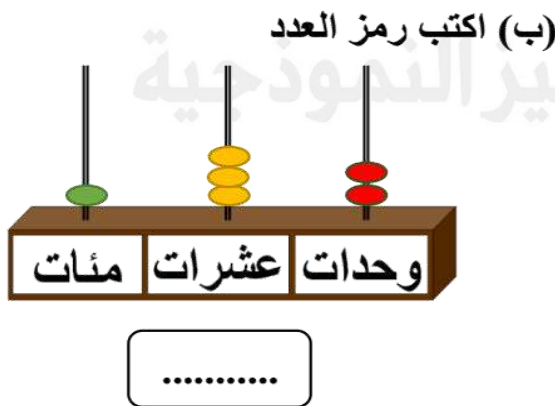


(أ) وزعت ساره عدداً من بالتساوي  
على ٢ فكان في كل   
٤ فكم عدد كل ؟  
 $4 = 2 \div$

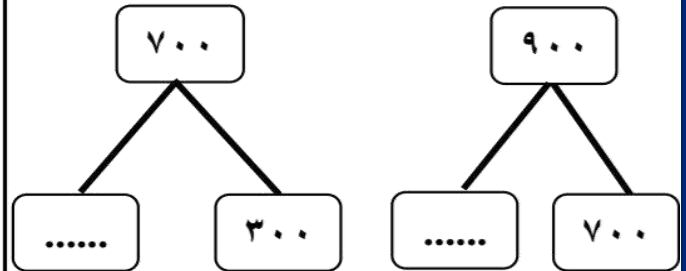
### السؤال الثاني :



### السؤال الثالث :



(أ) اكمل



( أ ) حوّل الإجابة الصحيحة فيما يلي :

( ١ ) ١٥ 🍊 وزعت على ٣ 🍲 بالتساوي، فكم عدد 🍊 في كل طبق ؟

٣

١٥

٥

موقع  
المنهاج الكويتية  
almanahj.com/kw

( ٢ ) الساعة =

٦٠ دقيقة

٣٠ دقيقة

٤٠ دقيقة

( ٣ )  $= ٢٠٠ + ٥٠ + ٧$

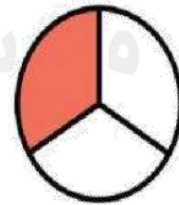
٥٧٢

٢٥٧

٧٢٥

( ب ) صل كل شكل بالكلمة المناسبة

ربع




ثلث





## الاجابات

### السؤال الأول :


(أ) وزعت ساره عدداً من  بالتساوي

على ٢  فكان في كل 

٤  فكم عدد كل  ؟

$$4 = 2 \div \boxed{8}$$

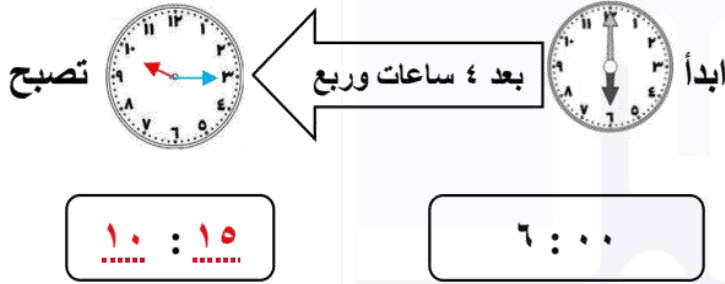
(ب) لون مايمثل النصف



موقع  
المنهج الكويتية  
almanahj.com/kw

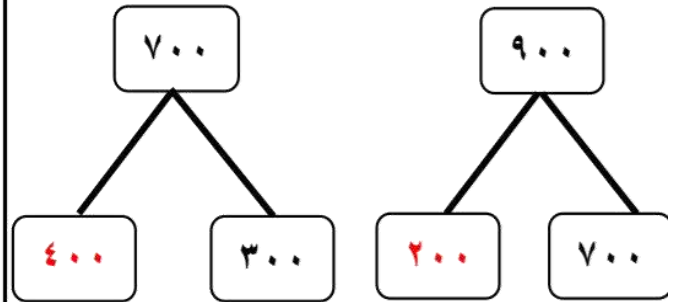
### السؤال الثاني :

(أ) حوط الشكل الذي قسم الي جزئين متطابقين

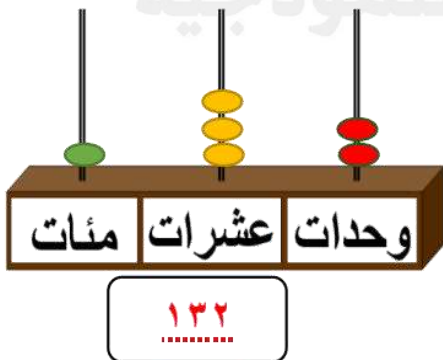


### السؤال الثالث :

(أ) اكمل



(ب) اكتب رمز العدد



( أ ) حوّل الإجابة الصحيحة فيما يلي :

( ١ ) ١٥ 🍊 وزعت على ٣ 🍲 بالتساوي، فكم عدد 🍊 في كل طبق ؟

٣

١٥

٥

موقع  
المنهج الكويتية  
almanahj.com/kw

( ٢ ) الساعة =

٦٠ دقيقة

٣٠ دقيقة

٤٠ دقيقة

( ٣ )  $200 + 50 + 7 =$

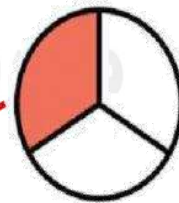
٥٧٢

٢٥٧

٧٢٥

( ب ) صل كل شكل بالكلمة المناسبة

ربع



ثلث







مدرسة التميز النموذجية  
(ابتدائي - متوسط - ثانوي)  
الجهاز الفني التربوي

# منصات التميز التعليمية

لزيارة منصة التميز التعليمية في اليوتيوب امسح الباركود التالي :



لزيارة منصة التميز التعليمية في تليجرام امسح الباركود الخاص بقناة كل فصل مما يلي :



الصف الرابع



الصف الثالث



الصف الثاني



الصف الأول



الصف التاسع



الصف الثامن



الصف السابع



الصف السادس



الصف الخامس



الصف العاشر  
أدبي



الصف العاشر  
علمي



الصف الحادي عشر  
علمي




الصف الحادي عشر  
أدبي



الصف العاشر



لزيارة صفحتنا في تويتر



لزيارة صفحتنا في الإنستغرام

عنواننا : خيطان - ق ٤ - ش ١٠٠



مدرسة التميز النموذجية بنين (ابتدائي - متوسط - ثانوي)