

تم تحميل هذا الملف من موقع المناهج الكويتية




محمد البلاطي

الملف أسئلة اختبار القصير الأول من منصة البلاطي

[موقع المناهج](#) ← [المناهج الكويتية](#) ← [الصف السابع](#) ← [اجتماعيات](#) ← [الفصل الثاني](#)

روابط مواقع التواصل الاجتماعي بحسب الصف السابع



روابط مواد الصف السابع على تلغرام

[الرياضيات](#)

[اللغة الانجليزية](#)

[اللغة العربية](#)

[التربية الاسلامية](#)

المزيد من الملفات بحسب الصف السابع والمادة اجتماعيات في الفصل الثاني

مذكرة موضوعية محلولة	1
حل الكتاب	2
حل الوحدة الرابعة في مادة الاجتماعيات	3
بنك اسئلة التربة سابع	4
مراجعات الصف السابع	5

توقعات ليلة الامتحان أسئلة امتحانات تجريبية قصير (أ)



الدراسات الاجتماعية
الكويت والوطن العربي
الفصل الدراسي الثاني
2025 - 2024

10

5

السؤال الأول:أكمل العبارات التالية بما يناسبها:

- ١ أكثر الدول العربية في إنتاج التمور هي. (.....)
- ٢ تبلغ المساحة المزروعة في الوطن العربي. (.....)
- ٣ الدولة العربية الأولى في إنتاج الحديد هي. (.....)
- ٤ تزايد عدد السكان من عام لآخر نتيجة للزيادة الطبيعية والغير طبيعية. (.....)
- ٥ أكبر تجمع للسكان في الوطن العربي يكون حول. (.....)

3

السؤال الثاني:علل لما يأتي :

- ١ تقوم الدولة بإجراء تعداد سكاني مستمر.

- ٢ تختلف أنواع المنتجات من دولة عربية إلى أخرى.

2

السؤال الثالثعرف المفاهيم التالية:

- ١ غلات نقدية:

- ٢ الطاقة:

نموذج (2)

الشعبة /.....

اسم الطالب /.....

10

السؤال الأول:

(أ) اختر الإجابة الصحيحة علمياً لكل من العبارات التالية بوضع علامة (✓) في المربع المقابل لها:

3

1 - تأسست منظمة الأوبك في عام:

() 1960م () 1970م () 1980م () 1990م

2 - أولى الدول العربية في إنتاج الغاز الطبيعي هي:

() موريتانيا () السعودية () مصر () قطر

3 - تستخدم مواد أولية محلية وتعتمد على المجهود البشري هي:

() صناعات حرفية () صناعات تعدينية () صناعات تحويلية () صناعات تجميعية

السؤال الثاني:

اكتب المصطلح العلمي الدال على العبارات التالية:

2

١ عمليات التصدير والاستيراد بين الدول. (.....)

٢ الثروات التي منحها الله لاقليم من دون أن يكون للإنسان دور في وجودها. (.....)

السؤال الثالث:

(أ) عدد الأتي :

5

١ عدد مقومات الإنتاج الزراعي.

.....

٢ الوسائل التي تجعل الثروة الحيوانية قابلة للزيادة والنمو.

.....

٣ أنواع الموارد الطبيعية.

.....

.....

مع أطيب التمنيات بالنجاح والتوفيق

نموذج (3)

الشعبة /

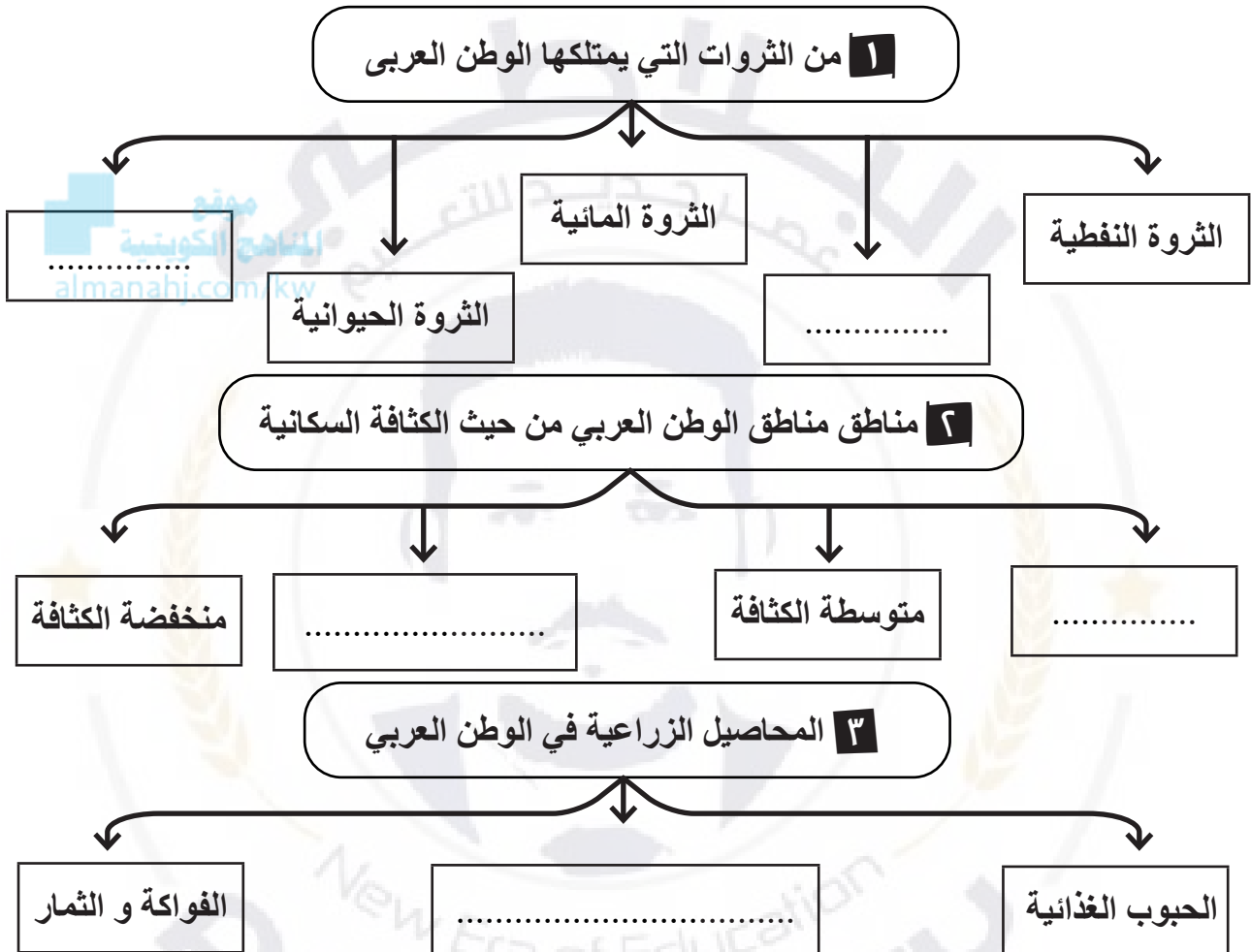
اسم الطالب /

10

5

السؤال الأول:

أكمل المخططات السهمية الآتية:



السؤال الثاني:

قارن بين كلاً مما يلي

5

منظمة الاوابك	منظمة الاربك	وجهة المقارنة
.....	المفهوم
.....	سنة التأسيس
.....	عدد الدول
.....	الاهداف
.....	اللجان و الاجهزة

مع أطيب التمنيات بالنجاح والتوفيق

نموذج (4)

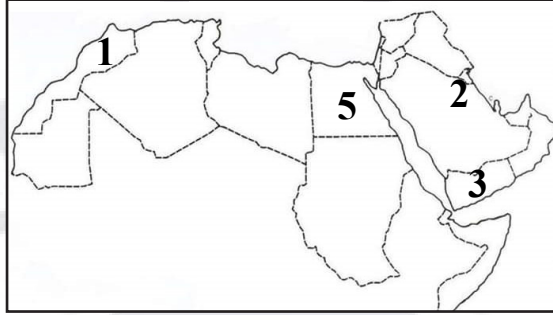
الشعبة /

اسم الطالب /

10

السؤال الأول:

لاحظ خريطة الوطن العربي الصماء التي أمامك نفذها يطلب منك:



- ١ الدولة الأولى في إنتاج السمك تحمل الرقم 5. (.....)
- ٢ الدولة الأولى في إنتاج المعادن تحمل الرقم 1. (.....)
- ٣ الدولة التي تنفرد بزراعة محصول البن و تحمل على الخريطة الرقم 3. (.....)
- ٤ الدولة التي توجد بها مقر منظمة الأوبك تحمل على الخريطة الرقم 2. (.....)
- ٥ أولى الدول العربية في إنتاج النفط واحتياطية تسمى. (.....)

السؤال الثاني:

علل لما يأتي :

١ قلة حجم النقل النهري بالنسبة لباقي وسائل النقل.

٢ معظم صادرات دول الخليج العربية من النفط.

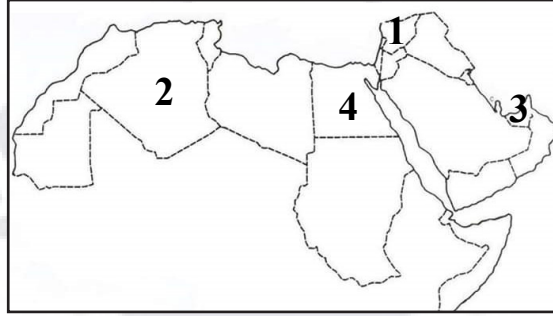
٣ يعد النفط والغاز الطبيعي من أهم مصادر الطاقة.

السؤال الثالث

قارن بين كلا مما يلي:

الزيادة الطبيعية	الزيادة غير الطبيعية	وجه المقارنة
.....	المفهوم

مع أطيب التمنيات بالنجاح والتوفيق

السؤال الأول:لاحظ خريطة الوطن العربي الصماء التي أمامك نفذها يطلب منك:

- ١ الدولة التي تعاني من سوء توزيع السكان و تحمل الرقم (4). (.....)
- ٢ أكبر دوله عربية من حيث المساحة و تحمل الرقم (2). (.....)
- ٣ اولى الدول في انتاج العنب و تحمل الرقم (1). (.....)
- ٤ اولى الدول العربية في إنتاج الابل تسمى. (.....)
- ٥ اولى الدول العربية في إنتاج الغاز الطبيعي و تحمل الرقم (3). (.....)

السؤال الثاني:علل لما يأتي :

- ١ أهداف الصناعات البتروكيميائية.

.....

- ٢ اسباب هجرة الايدى العامله من بعض دول آسيا للبلاد العربية.

.....

- ٣ ماذا يحدث عند زيادة عدد السكان عن موارد الدولة الاقتصادية.

.....

- ٤ المشكلات التي تعاني منها الزراعة في الوطن العربي.

.....

نموذج (6)

الشعبة /.....

اسم الطالب /.....

10

السؤال الأول:

(أ) اختر الإجابة الصحيحة علمياً لكل من العبارات التالية بوضع علامة (✓) في المربع المقابل لها:

5

1 - من أكثر الدول العربية المهددة بالتصحّر:

() السودان () لبنان () فرنسا () النيجر

2 - عقد مؤتمر قمة الأرض عام ١٩٩٢م في دولة تسمى:

() ألمانيا () الكويت () المكسيك () البرازيل

3 - تأسس الصندوق الكويتي للتنمية في عهد الشيخ:

() عبد الله السالم () صباح الاحمد () نواف الاحمد () جابر الاحمد

4 - الغاز المسؤول عن زيادة حرارة الأرض هو:

() الأكسجين () الهيليوم () النيتروجين () ثاني أكسيد الكربون

5 - تأسس صندوق أبوظبي للإنماء الاقتصادي العربي عام:

() 1961م () 1971م () 1981م () 1991م

السؤال الثاني:

عدد الأتي :

5

١ أهداف الصندوق الكويتي للتنمية.

.....
.....
.....
.....

٢ أهداف التنمية الاقتصادية.

.....
.....
.....
.....

مع أطيب التمنيات بالنجاح والتوفيق

نموذج (7)

...../ الشعبة

اسم الطالب/.....

10

السؤال الأول:

5

ضع علامة (✓) بعد العبارة الصحيحة وعلامة (X) بعد العبارة غير الصحيحة فيما يأتي:

- ١ تأتي 50% من الموارد المائية في العالم العربي من خارج حدوده. (.....)
- ٢ صاحب فكرة إنشاء الصندوق الكويتي للتنمية هو الشيخ عبد الله السالم. (.....)
- ٣ عقد مؤتمر المانحين لدعم الوضع في سوريا في دولة المغرب. (.....)
- ٤ الطبقة الغازية المسؤولة عن حماية الأرض من الأشعة فوق بنفسجية هي طبقة الأوزون. (.....)
- ٥ انضمت دولة الكويت جامعة الدول العربية في عام ١٩٦١م. (.....)

السؤال الثاني:

2

فسر المفاهيم التالية :

١ التصحر:

.....

٢ التنمية المستدامة:

.....

السؤال الثالث

3

علل لما يلي:

١ عدم استغلال الأراضي القابلة للزراعة.

.....

٢ موقع الوطن العربي يعرضه للتصحر.

.....

٣ هجرة الشباب والعلماء العرب إلى الخارج.

.....

نموذج (8)

اسم الطالب / الشعبة /

10

السؤال الأول:

اختر من المجموعة (٢) ما يناسبها من المجموعة (١) بكتابة الرقم المناسب:

3

م	المجموعة (٢)	الرقم	المجموعة (١)
١	تعرض قطاع غزة للغزو من قبل.	السعودية
٢	الضرر الذي يلحق بالتربة والهواء والماء.	الكويت
٣	الدولة العربية التي تحتل المركز الثالث في إنتاج النفط.	التلوث
٤	الاحتلال الاسرائيلي

السؤال الثاني:

صنف المقومات الصناعية التالية حسب مكانها في الجدول الذي يليها :

2

(غاز طبيعي - معدنية - بترول - حيوانية)	
مواد خام	الطاقة
.....

السؤال الثالث

عدد لما يلي:

5

١ أنواع طرق النقل في الوطن العربي.

.....

٢ أنواع الهجرة.

.....

٣ فسر التجارة البيئية:

.....

مع أطيب التمنيات بالنجاح والتوفيق

نموذج (9)

الشعبة /.....

اسم الطالب /.....

10

السؤال الأول:

5

(ا) اختر الإجابة الصحيحة علمياً لكل من العبارات التالية بوضع علامة (✓) في المربع المقابل لها:

1 - العام الذي استضافة فيه دولة الكويت أكبر وأهم مؤتمر قمة عربية اقتصادية تنموية:

() 2006م () 2007م () 2008م () 2009م

2 - تبلغ نسبة سكان الوطن العربي في القارة الآسيوية:

() 10% () 20% () 30% () 40%

3 - الدولة العربية التي تحتل المركز الأول في إنتاج البن:

() السعودية () اليمن () مصر () الصومال

4 - الدولة العربية الأولى في إنتاج الغاز الطبيعي:

() السعودية () البحرين () الجزائر () قطر

5 - العام الذي تأسست فيه منظمة الدول المصدرة للنفط أوبك:

() 1960م () 1961م () 1962م () 1963م

السؤال الثاني:

5

علل لما يلي:

١ تحتل الأغنام العربية مكاناً مهماً ضمن الثروة الرعوية.

.....

٢ تختلف أنواع المنتجات الزراعية من دولة عربية إلى أخرى.

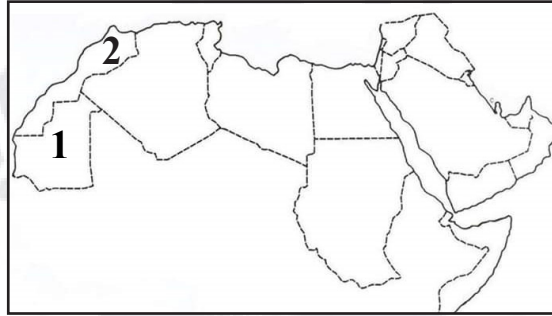
.....

٣ تدني وفرة المياه في الوطن العربي.

.....

السؤال الأول:

5

لاحظ خريطة الوطن العربي الصماء التي أمامك نفذها يطلب منك:

- ١ الدولة العربية التي تحتل المرتبة الأولى في إنتاج معدن الحديد يمثلها على الخريطة الرقم. (.....)
- ٢ الدولة العربية التي تحتل المرتبة الأولى في إنتاج معدن الفوسفات يمثلها على الخريطة. (.....)
- ٣ حدد علي الخريطة باستخدام الرمز ■ المحيط الهندي
- ٤ حدد علي الخريطة باستخدام الرمز ● البحر المتوسط
- ٥ أولى الدول العربية في إنتاج النفط واحتياطية تسمى. (.....)

السؤال الثاني:

3

دال على صحة العبارات التالية:

- ١ يتمتع النفط العربي بمكانة مهمة على المستوى العالمي.

.....

- ٢ للكويت مساهمات كبيرة في العمل العربي المشترك.

.....

السؤال الثالث

2

أجب عما يلي:

- ١ اقترح حلولاً لمشكلة قلة وانخفاض الإنتاج الزراعي في الوطن العربي.

.....



احرص على اقتناء سلسلة منصة البلاطي

- كتاب الشرح.
- كتاب الأسئلة.
- كتاب إجابة الأسئلة.
- المراجعة النهائية (الأسئلة - الإجابة).
- توقعات ليلة الامتحان (الأسئلة - الإجابة).
- كبسولة ليلة الامتحان.
- برشامة ليلة الامتحان.

موقع
المناهج الكويتية
almanahj.com/kw



7 الدراسات الاجتماعية الكويت والوطن العربي

الفصل الدراسي الثاني

2025 - 2024

استمتع بتجربة التعلم
مع منصة البلاطي

