

تم تحميل هذا الملف من موقع المناهج الكويتية



منطقة الجهراء التعليمية

الملف أسئلة الاختبار النهائي لمنطقة العاصمة التعليمية

موقع المناهج ← المناهج الكويتية ← الصف السابع ← علوم ← الفصل الثاني

روابط مواقع التواصل الاجتماعي بحسب الصف السابع



روابط مواد الصف السابع على تلغرام

[الرياضيات](#)

[اللغة الانجليزية](#)

[اللغة العربية](#)

[التربية الاسلامية](#)

المزيد من الملفات بحسب الصف السابع والمادة علوم في الفصل الثاني

<a href="#">انفوجرافيك النظام البيئي</a>	1
<a href="#">كتاب الطالب 7</a>	2
<a href="#">دليل المعلم 7</a>	3
<a href="#">بنك أسئلة العناصر والمركبات</a>	4
<a href="#">إجابة بنك أسئلة العناصر والمركبات</a>	5

وزارة التربية  
الإدارة العامة لمنطقة الجواء التعليمية  
التوجيه الفني للعلوم

امتحان نهاية الفترة الدراسية الثانية  
في مجال العلوم  
للفصل السابع المتوسط

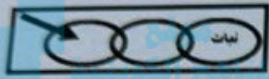
العام الدراسي ٢٠٢٤ / ٢٠٢٥ م  
الزمن: ساعتان وربع  
عدد الأوراق: (٥) صفحات

السؤال الأول: اختر الإجابة الصحيحة علمياً لكل من العبارات التالية وضع إشارة (✓) في المربع المقابل لها (٨×١):

١. تجمعات الكائنات الحية التي تعيش في منطقة واحدة تسمى:

- ☐ نظام بيئي ☐ موطن طبيعي ☐ مجال ☐ المجموعة البيئية

٢. الشكل المقابل يمثل سلسلة غذائية تبدأ بالنبات وتنتهي بـ:



الذئب ☐ النمر ☐ الأرنب ☐ الجمل ☐



٣. موقع الغواصة عند تفريغ خزاناتها تماماً من الماء:

٤. إذا علمت أن وزن الجسم في الهواء (٥) نيوتن ، ووزن نفس الجسم مغموراً في الماء (٣) نيوتن، فإن قوة دفع السائل على الجسم تكون:

- ☐ N (٢) ☐ N (٤) ☐ N (٨) ☐ N (١٥)

٥. العنصر الذي يرمز له بالرمز (Cl) هو:

- ☐ الأكسجين ☐ الكربون ☐ الكلور ☐ النحاس

٦. مطهر يستخدم في الملح اليودي وأفلام التصوير:

- ☐ Hg ☐ Cu ☐ I ☐ He

٧. حمض يعمل كمصدر لفيتامين C ويتواجد في البرتقال والجوافة والطماطم:

- ☐ اللاكتيك ☐ الهيدروكلوريك ☐ الاسكوربيك ☐ الكبريتيك

٨. أحد المحاصيل التي تساعد على جعل التربة خصبة مرة ثانية:

- ☐ الفراولة ☐ قصب السكر ☐ القطن ☐ الفول السوداني

درجة السؤال الاول



السؤال الخامس (أ): أي مما يلي لا ينتمي للمجموعة مع ذكر السبب: - (٢×٣)

١. البومة - الأرنب - الصقر - الثعلب  
الذي لا ينتمي هو..... السبب:.....

٢. قلم رصاص - قارب - كرة زجاجية - طبق الألمونيوم  
الذي لا ينتمي هو..... السبب:.....

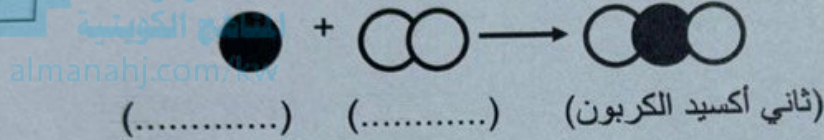
٣. الذئب - الأساس الصخري - الفئات الأم - السهول  
الذي لا ينتمي هو..... السبب:.....

٦

السؤال الخامس (ب):

(١) ادرس الشكل وأجب عن المطلوب: (٢×٣)


- حدد من خلال المعادلة التالية أسماء العناصر:



(٢) أكمل العلاقة البيانية: - (٢×٣)

- أرسم العلاقة البيانية بخط واضح:

- حدد نوع العلاقة: .....




٢

(٣) من خلال الشكل المقابل:

- بعد غمر ورقتي تباع الشمس في الإنانين:

الورقة التي تتحول إلى اللون الأزرق يمثلها رقم (.....)  
الورقة التي تتحول إلى اللون الأحمر يمثلها رقم (.....)



٢

درجة السؤال الخامس

١٢

...انتهت الأسئلة، مع التمنيات لكم بالنجاح والتوفيق

الدرجة النهائية

٥٠



السؤال الرابع (أ) : علل لما يأتي تعليلا علميا سليما :- (٢×٣)

١. يعتبر النبات من الكائنات المنتجة للغذاء.

٢. يجب مراعاة ألا تتعدى حمولة السفينة الحد المسموح بها.

٣. تسمى التربة الجيدة الصالحة للزراعة بالتربة الزراعية الخصبة.

٦

السؤال الرابع (ب) :

(١) : صنف الكلمات حسب المطلوب في الجدول التالي :- (٢×١)

(صناعة الأسمت - أدوية مضادة للحموضة - تقليل من حموضة التربة - صناعة الأدوية)

موقع

استخدامات أكسيد الكالسيوم

استخدامات هيدروكسيد المغنيسيوم

.....  
.....

.....  
.....

٢

(٢) : قارن بين كل من :- (٢×٢)

وجه المقارنة	جسم حديدي مصمت	جسم حديدي مجوف
عند وضعه بالماء	.....	.....

وجه المقارنة	الحديد	الالمنيوم
الاستخدام	.....	.....

٤

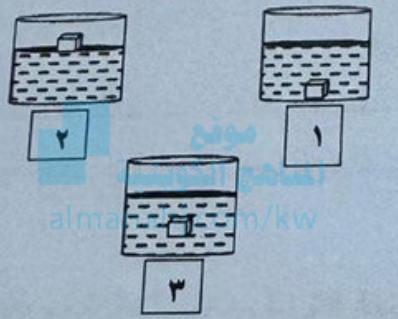

درجة السؤال الرابع

١٢



امتحان نهاية الفترة الدراسية الثانية في مجال العلوم للصف السابع المتوسط العام الدراسي ٢٠٢٤-٢٠٢٥

السؤال الثالث (ب) : في الجدول التالي اختر العبارة أو الشكل من المجموعة ( ب ) و أكتب رقمها أمام ما يناسبها من عبارات المجموعة ( أ ) : (١×٦) .

الرقم	المجموعة ( أ )	المجموعة ( ب )
(....)	- قوة دفع السائل أقل من وزن الجسم.	
(....)	- قوة دفع السائل أكبر من وزن الجسم.	
(....)	- شكل يمثل الحالة السائلة.	
(....)	- شكل يمثل الحالة الغازية.	
(....)	- المسافة بين حبيبات التربة الرملية.	٧. كبيرة
(....)	- المسافة بين حبيبات التربة الطينية.	٨. متوسطة
		٩. صغيرة



السؤال الثاني: أكتب بين القوسين كلمة ( صحيحة ) للعبارة الصحيحة وكلمة ( خطأ ) للعبارة غير الصحيحة علميًا في كل مما يأتي : (١×٨)

١.	الموطن الطبيعي للحمار الوحشي هي الأراضي العشبية والسافانا.	(.....)
٢.	خط بليمسول يرسم على سطح السفينة.	(.....)
٣.	حركة السلحفاة داخل الماء أسرع من حركتها على سطح الأرض.	(.....)
٤.	قائد الغواصة يتحكم في كمية الماء اللازمة للخزانات تبعاً للعمق الذي يريد الوصول إليه.	(.....)
٥.	من أمثلة العناصر التي نراها في حياتنا اليومية السكر.	(.....)
٦.	من صفات الأحماض أنها تتميز بلمس صابوني.	(.....)
٧.	نستخدم الملح للحفاظ على الطعام من الإفساد.	(.....)
٨.	عملية التعرية هي المسؤول الرئيسي عن تكوين التربة.	(.....)

المناهج الك...  
almanahj.com/kw

٨	درجة السؤال الثاني

السؤال الثالث (أ): أكتب الاسم أو المصطلح العلمي الذي تدل عليه العبارات التالية: (١×٤)

١.	الكائنات التي تستهلك الكائنات الحية الأخرى لتأمين غذائها.	(.....)
٢.	كتله وحدة الحجم من المادة.	(.....)
٣.	حالة من حالات المادة تكون جزيئاتها مترابطة ومتقاربة مع بعضها البعض ولها شكل ثابت وحجم ثابت.	(.....)
٤.	مواد ذات طعم لاذع.	(.....)

٤	