

تم تحميل هذا الملف من موقع ملفات الكويت التعليمية



[com.kwedufiles.www//:https](https://www.kwedufiles.com)

*للحصول على أوراق عمل لجميع الصفوف وجميع المواد اضغط هنا

* للحصول على أوراق عمل لجميع مواد الصف السابع اضغط هنا

<https://kwedufiles.com/7>

* للحصول على جميع أوراق الصف السابع في مادة رياضيات وجميع الفصول, اضغط هنا

<https://kwedufiles.com/7math>

* للحصول على أوراق عمل لجميع مواد الصف السابع في مادة رياضيات الخاصة بـ الفصل الأول اضغط هنا

<https://www.kwedufiles.com/7math1>

* لتحميل كتب جميع المواد في جميع الفصول للـ الصف السابع اضغط هنا

<https://www.kwedufiles.com/grade7>

* لتحميل جميع ملفات المدرس مدرسة طارق السيد رجب المتوسطة للبنين اضغط هنا

[bot_kwlinks/me.t//:https](https://t.me/bot_kwlinks)

للحصول على جميع روابط الصفوف على تلغرام وفيسبوك من قنوات وصفحات: اضغط هنا

الروابط التالية هي روابط الصف السابع على مواقع التواصل الاجتماعي

مجموعة الفيسبوك

صفحة الفيسبوك

مجموعة التلغرام

بوت التلغرام

قناة التلغرام

رياضيات على التلغرام



الاسم	الفصل	٧ /
-------	-------	-----

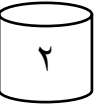
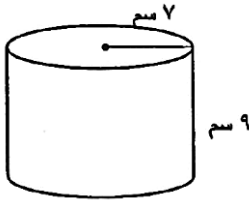


أوجد مساحة سطح أسطوانة دائرية قائمة طول قطر قاعدتها ١٤ سم، وارتفاعها ٥ سم (مستخدماً $\pi = \frac{22}{7}$)




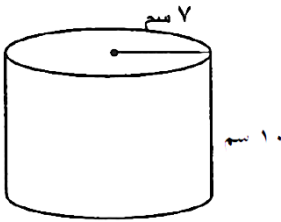
أوجد مساحة سطح الأسطوانة

(مستخدماً $\pi = \frac{22}{7}$)

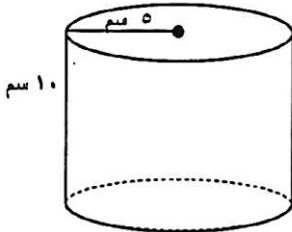



أوجد مساحة سطح الأسطوانة

(مستخدماً $\pi = \frac{22}{7}$)



علبة اسطوانية طول نصف قطرها ٥ سم وارتفاعها ١٠ سم، أوجد مساحة سطحها (مستخدماً $\pi = 3.14$)



أوجد مساحة سطح الأسطوانة الموضحة بالشكل

(مستخدماً $\pi = 3.14$)

