

تم تحميل هذا الملف من موقع المناهج الكويتية



الملف أسئلة منطقة الفروانية التعليمية

[موقع المناهج](#) ← [المناهج الكويتية](#) ← [الصف السابع](#) ← [اجتماعيات](#) ← [الفصل الثاني](#)

روابط مواقع التواصل الاجتماعي بحسب الصف السابع



روابط مواد الصف السابع على تلغرام

[الرياضيات](#)

[اللغة الانجليزية](#)

[اللغة العربية](#)

[التربية الاسلامية](#)

المزيد من الملفات بحسب الصف السابع والمادة اجتماعيات في الفصل الثاني

<a href="#">مذكرة موضوعية محلولة</a>	1
<a href="#">حل الكتاب</a>	2
<a href="#">حل الوحدة الرابعة في مادة الاجتماعيات</a>	3
<a href="#">بنك اسئلة التربة سابع</a>	4
<a href="#">مراجعات الصف السابع</a>	5



وزارة التربية  
الإدارة العامة لمنطقة الفروانية التعليمية  
التوجيه الفني للاجتماعيات

العام الدراسي ٢٠٢٤ / ٢٠٢٥ م  
الزمن : ساعة وخمس واربعون  
عدد الأوراق : ( ٦ )

امتحان نهاية الفترة الدراسية الثانية  
لمقرر/ الكويت والوطن العربي  
الصف السابع

اجب عن جميع الأسئلة

السؤال الأول ( موضوعي ) ويتكون من ( أ - ب - ج - د - هـ - و ) :  
[ ظلل الخيار الصحيح من بين الخيارات التي تلي كل عبارة :

١ - الدولة العربية التي تحتل المركز الأول في إنتاج البن :

الجزائر	المغرب	اليمن	عمان
---------	--------	-------	------

٢ - يبلغ عدد دول الوطن العربي :

دولة ٢٢	دولة ٢٣	دولة ٢٤	دولة ٢٥
---------	---------	---------	---------

٣ - الطبقة التي تحمي الأرض من الأشعة فوق البنفسجية الضارة :

الأوزون	النيتروجين	ثاني أكسيد الكربون	الأكسجين
---------	------------	--------------------	----------

٤ - تأسس الصندوق الكويتي للتنمية الاقتصادية العربية في عهد الشيخ :

سالم المبارك الصباح	أحمد الجابر الصباح	عبدالله سالم الصباح	صباح سالم الصباح
---------------------	--------------------	---------------------	------------------

ب ) صنّف المحاصيل الزراعية حسب نوعها في الجدول التالي :

[ البن - الأرز - العنب - الذرة - الزيتون - الحمضيات ]

الحبوب الغذائية	الثقلات الصناعية والتجارية	الفواكه والخضار
.....	.....	.....
.....	.....	.....

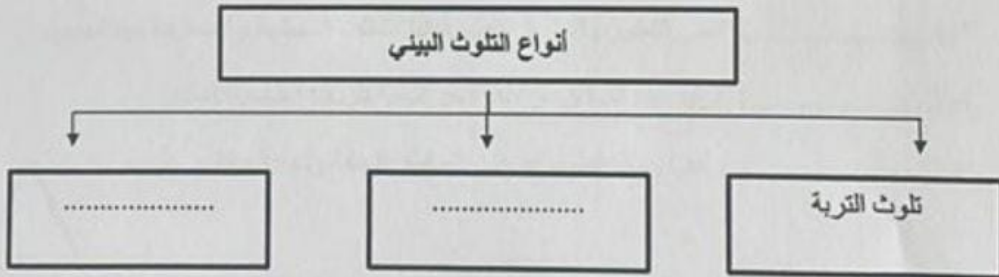
تابع السؤال الأول ( الموضوعي ) :

ج) أكمل العبارات التالية بما يناسبها :

- ١- الغلات التي تدخل في الصناعة وتزرع بغرض التجارة والحصول على نقد تسمى .....
- ٢- الزيادة السكانية التي يكون فيها الفرق بين معدل المواليد ومعدل الوفيات تسمى .....
- ٣- العام الذي تم فيه إنشاء الصندوق الكويتي للتنمية الاقتصادية العربية م.....
- ٤- أكثر أنواع ملوثات البيئة إنتشاراً في الوطن العربي يسمى .....
- ٥- الدولة العربية التي تحتل المركز الأول من حيث إنتاج النفط الخام تسمى .....
- ٦- صناعة تقوم على عملية تركيب وجمع المواد المصنعة كي نحصل على سلع متنوعة تسمى .....

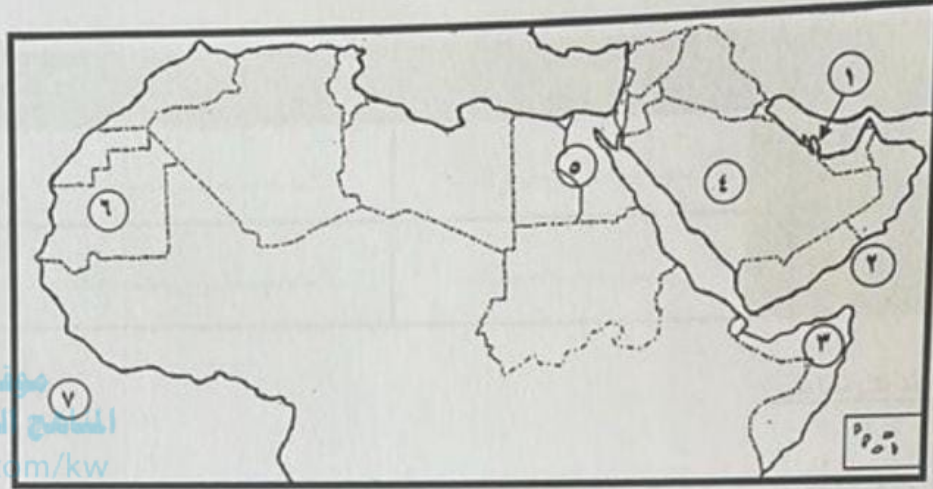
سورة  
المنهج الكويتية  
almanahj.com/kw

د) أكمل المخططات السهمية التالية :



تابع السؤال الأول ( الموضوعي ) :

(هـ) لاحظ خريطة الوطن العربي ثم أكتب مدلولات الأرقام التالية :



- الدولة العربية الأولى في إنتاج الحديد يمثلها على الخريطة الرقم (.....)
- الدولة العربية الأولى في إنتاج الغاز الطبيعي يمثلها على الخريطة الرقم (.....)
- نهر النيل يمثل على الخريطة الرقم (.....)
- بحر العرب يمثل على الخريطة الرقم (.....)
- المحيط الأطلسي يمثل على الخريطة الرقم (.....)

(و) اكتب المفهوم أو المصطلح الدال على العبارات التالية :

- ١- (.....) الثروات التي منحها الله لإقليم من دون أن يكون للإنسان أي دور في وجودها .
- ٢- (.....) تسجيل المواليد والوفيات وحالات الزواج والطلاق من واقع السجلات الرسمية للدولة .
- ٣- (.....) تعني التطور والتطوير وهي عملية تتطلب التخطيط والمشاركة من الجميع .
- ٤- (.....) تزايد عدد السكان من عام لآخر نتيجة للزيادة الطبيعية للسكان .
- ٥- (.....) زحف رمال الصحراء على المناطق الجافة وشبه الجافة .



السؤال الثالث (المقالي) ويتكون من: [ أ ، ب ، ج ]

أ) لاحظ الصورة التي أمامك ثم أجب عما يلي:

١- اكتب - اسم المؤتمر الذي استضافته دولة الكويت في الفترة ما بين (١٩-٢٠ يناير) ٢٠٠٩ م .  
.....

٢- اكتب - اسم صاحب مبادرة عقد المؤتمر .  
.....

٣- عدد - أهم أهداف هذا المؤتمر .  
.....  
.....



ب) عاّل لما يلي :

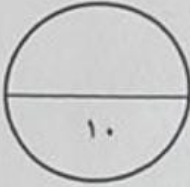
١- تحتل الأعدام العربية مكاناً مهماً ضمن الثروة الرعوية .  
.....  
.....

٢- تنني وبرة المياه في الوطن العربي .  
.....  
.....

ج) عزف ما يلي :

١- الكثافة السكانية :  
.....

٢- الغاز الطبيعي :  
.....



السؤال الثاني (المقالي) ويتكون من [ أ ، ب ، ج ] :

(أ) قارن بين كل من :

منظمة الأونكتاد	منظمة الأوبك	أوجه المقارنة
.....	.....	تاريخ التأسيس
.....	.....	مقر المنظمة الحالي

موقع  
المنهج الكويتية  
almanahj.com/kw

(ب) عذد لكل مما يلي :

١- طرق الحفاظ على ثروة المياه .

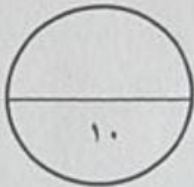
.....  
.....

٢- المشكلات التي تواجه التنمية البشرية.

.....  
.....

(ج) اكتب أهداف الصناعات البتر وكيميائية .

.....  
.....





أجب عن جميع الأسئلة

السؤال الأول ( موضوعي ) ويتكون من ( أ - ب - ج - د - هـ - و ) :  
[ ظلل الخيار الصحيح من بين الخيارات التي تلي كل عبارة :

١ - الدولة العربية التي تحتل المركز الأول في إنتاج البن :

الجزائر	المغرب	اليمن	عمان
---------	--------	-------	------

٢ - يبلغ عدد دول الوطن العربي :

٢٢ دولة	٢٣ دولة	٢٤ دولة	٢٥ دولة
---------	---------	---------	---------

٣ - الطبقة التي تحمي الأرض من الأشعة فوق البنفسجية الضارة :

الأوزون	النيتروجين	ثاني أكسيد الكربون	الأكسجين
---------	------------	--------------------	----------

٤ - تأسس الصندوق الكويتي للتنمية الاقتصادية العربية في عهد الشيخ :

سالم المبارك الصباح	أحمد الجابر الصباح	عبدالله السالم الصباح	صباح السالم الصباح
---------------------	--------------------	-----------------------	--------------------

ب ) صنّف المحاصيل الزراعية حسب نوعها في الجدول التالي :

[ البن - الأرز - العنب - الذرة - الزيتون - الحمضيات ]

الحبوب الغذائية	الفواكه والخضار	الغلات الصلاحية والتجارية
.....	.....	.....
.....	.....	.....

تابع السؤال الأول ( الموضوعي ) :

ج) أكمل العبارات التالية بما يناسبها :

- ١- الغلات التي تدخل في الصناعة وتزرع بغرض التجارة والحصول على نقد تسمى .....
- ٢- الزيادة السكانية التي يكون فيها الفرق بين معدل المواليد ومعدل الوفيات تسمى .....
- ٣- العام الذي تم فيه إنشاء الصندوق الكويتي للتنمية الاقتصادية العربية ..... م
- ٤- أكثر أنواع ملوثات البيئة إنتشاراً في الوطن العربي يسمى .....
- ٥- الدولة العربية التي تحتل المركز الأول من حيث إنتاج النفط الخام تسمى .....
- ٦- صناعة تقوم على عملية تركيب وجمع المواد المصنعة كي نحصل على سلع متنوعة تسمى .....

المنهج الكويتية  
almanahj.com/kw

د) أكمل المخططات السهمية التالية :

