



www.kwEduFiles.com



وزارة التعليم

إدارة الشؤون التعليمية
مراقبة الامتحانات وشؤون الطلبة



نموذج الإجابة

المرحلة المتوسطة

اختبارات نهاية الفترة الدراسية الثاني

المادة : الاجتماعيات

الصف : الثامن

العام الدراسي

2018 / 2017

نموذج الإجابة

العام الدراسي ٢٠١٧ - ٢٠١٨ م
الزمن : ساعة وخمس وأربعون
عدد الأوراق : (٦) أوراق

امتحان نهاية الفترة الدراسية الثانية
للفصل الثامن في مادة الاجتماعيات

وزارة التربية
الإدارة العامة لمنطقة مبارك الكبير التعليمية
التوجيه الفني للاجتماعيات

أجب عن جميع الأسئلة التالية:

السؤال الأول (موضوعي) يتكون من (أ - ب - ج - د - هـ - و)

أ- ضع خطأً تحت الخيار الصحيح من بين الخيارات التي تلي كل عبارة:- (٦ درجات لكل نقطة درجة)

١- الكل المركب الذي يشمل المعرفة والعقيدة والفن والأخلاق والعادات والتقاليد يقصد به : ص ٦٧

أ- الثقافة ب- الحضارة ج- الترجمة د- التأليف

٢- عقد المؤتمر الإسلامي الأول في مدينة الرباط عام : ص ٨٥

أ- ١٩٦٦ م ب- ١٩٦٧ م ج- ١٩٦٨ م د- ١٩٦٩ م

٣- الدولة الإسلامية هي التي يبلغ نسبة عدد المسلمين من مجموع سكانها أكثر من : ص ٨٣

أ- ٢٠% ب- ٣٠% ج- ٥٠% د- ٦٠%

٤- خضعت جمهورية السنغال للاستعمار البريطاني والاستعمار : ص ٨٧

أ- الهولندي ب- الفرنسي ج- البرتغالي د- الايطالي

٥- اعتدى العراق في عام ١٩٧٣ م على مركز حدودي كويتي اسمه : ص ٩٠

أ- العبدلي ب- السالمي ج- الصامته د- النويصيب

٦- يقع مقر وكالة الأنباء الإسلامية الدولية إينا في مدينة : ص ١٠٧

أ- الكويت ب- الدوحة ج- كراتشي د- جدة

www.kwEduFiles.com

ب- اختر من المجموعة (أ) ما يناسبها من المجموعة (ب) بوضع الرقم المناسب:- ص ٧٤ و ٧٥

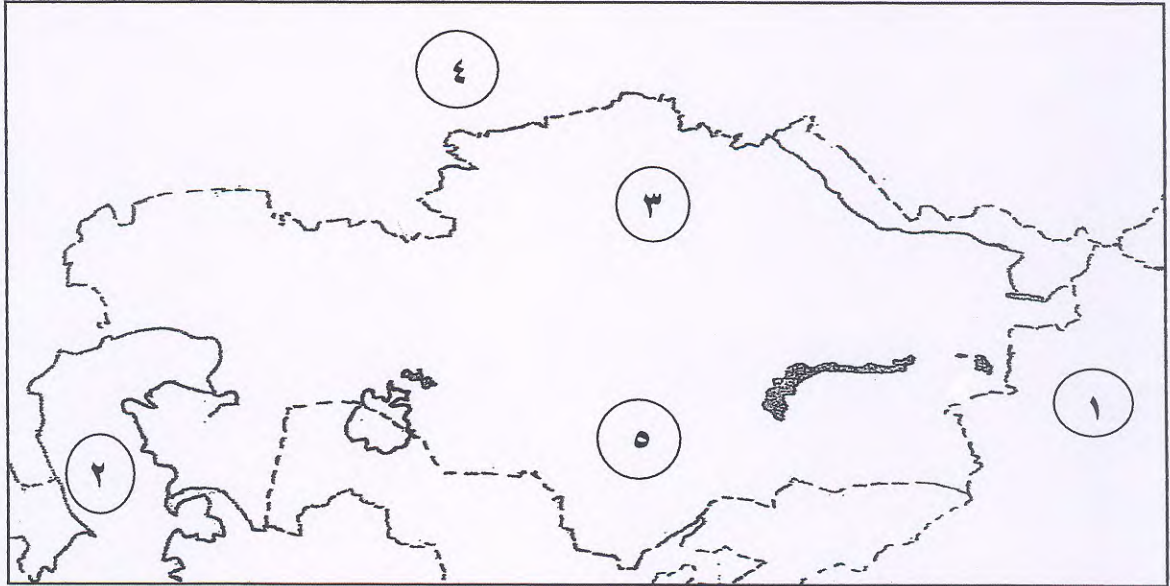
(٥ درجات لكل نقطة درجة)

الرقم	المجموعة (أ)	الرقم المناسب	المجموعة (ب)
١	مؤلف كتاب الحاوي		المسعودي
٢	مؤلف كتاب نزهة المشتاق	١	الرازي
٣	رائد علم الفيزياء	٢	الإدريسي
٤	أشهر علماء النحو	٥	الوليد بن عبد الملك
٥	أنشأ المسجد الأموي	٤	أبو الأسود الدؤلي
		٣	الحسن بن الهيثم

ج- أكمل العبارات التالية بما يناسبها فيما درست:- (٦ درجات لكل نقطة درجة)

- ١- رابع الخلفاء الراشدين هو الخليفة علي بن أبي طالب ص ٦٩
- ٢- نتج عن الحضارة العربية الإسلامية علوم نقلية وعلوم عقلية ص ٦٧
- ٣- يمتد العالم الإسلامي في قارة آسيا وأوروبا وقارة أسمها أفريقيا ص ٨٣
- ٤- أعلى نسبة في الأمية في العالم الإسلامي في دولة أسمها السودان ص ٩٥
- ٥- حصلت دولة الكويت على استقلالها في عام ١٩٦١م ص ٩٠
- ٦- صاحب فكرة إنشاء الصندوق الكويتي للتنمية الاقتصادية الراحل الشيخ جابر الأحمد ص ١٠٤

د- لاحظ خريطة جمهورية كازاخستان الصماء ثم نفذ المطلوب :- (٣ درجات لكل نقطة درجة)



- أ- العاصمة أستانا يمثلها على الخريطة الرقم ٣ ص ٨٩
- ب- بحر قزوين يمثلها على الخريطة الرقم ٢ ص ٨٩
- ج- الصين يمثلها على الخريطة الرقم ١ ص ٨٩

تابع امتحان – نهاية الفترة الدراسية الثانية – للصف الثامن – الكويت والعالم الإسلامي – العام الدراسي ٢٠١٧-٢٠١٨م

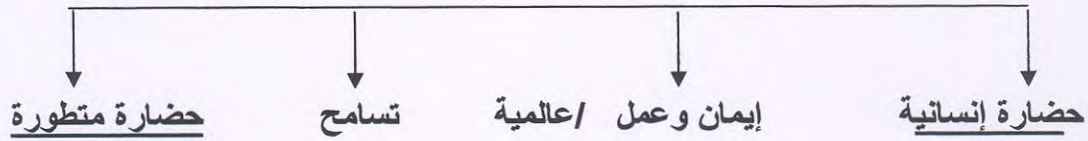
هـ – صنف الكلمات التالية حسب مكانها في الجدول التالي : (٥ درجات لكل نقطة درجة)

رجال الدين - الحاجب - الخليفة - الخدم - الكاتب

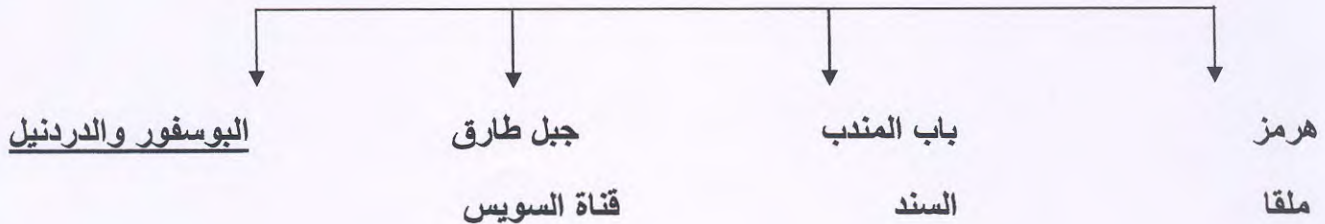
المناصب السياسية	الفئات الاجتماعية
الحاجب الخليفة الكاتب ص ٦٩	رجال الدين الخدم ص ٧٣

و- أكمل المخططات السهمية التالية :- (٥ درجات لكل نقطة درجة)

١- خصائص الحضارة العربية الإسلامية : ص ٦٨



٢- أهم المضائق التي يشرف عليها العالم الإسلامي : ص ٨٤



السؤال الثاني يتكون من (أ- ب) :-

أ - أكتب ما تعرفه عن :- (٦ درجات لكل نقطة درجة)

١ - أهداف بيت الزكاة الكويتي . ص ١٠٥

٢ - جمع وتوزيع أموال الزكاة

١ - القيام بأعمال الخير والبر - بث روح التكافل والتراحم بين أفراد المجتمع

٢ - أهداف منظمة المؤتمر الإسلامي السياسية . ص ٨٥

- تعزيز التضامن الإسلامي بين الدول الأعضاء والمساواة بينهم

- اتخاذ التدابير اللازمة لدعم السلام والأمن بين الدول الإسلامية على أساس العدل

- إيجاد المناخ لتعزيز التعاون والتفاهم بين الدول الأعضاء والدول الأخرى

٣ - أهداف الصندوق الكويتي للتنمية الاقتصادية . ص ١٠٤

- تقديم القروض الميسرة للدول المحتاجة

- تقديم المنح على سبيل المعونات الفنية

- الإسهام في برامج التنمية

www.kwEduFiles.com

ب- علل لما يلي :- (٤ درجات لكل نقطة درجة)

١ - الأهمية الإستراتيجية لموقع العالم الإسلامي . ص ٨٤

- لسيطرته على عدد من المضائق المائية

- إشرافه على بعض البحار والخلجان والبحيرات

٢ - امتلاكه لكثير من طرق المواصلات الجوية والبرية والبحرية

٢ - انتشار الجريمة في المجتمعات الإسلامية . ص ٩٤

- البطالة - الانفجار السكاني

٢ - الافتتاح على الدول الغربية - ضعف دخل الفرد

السؤال الثالث و يتكون من (أ- ب- ج):-

أ- عرف المفاهيم التالية :- (درجتان لكل نقطة درجة)

١- الميزان التجاري : الفرق بين قيمة الصادرات وقيمة الواردات بالدولة ص ٩٣

٢- الحدود السياسية: عبارة عن خطوط حددت بواسطة الانسان ورسمت حتى تفصل بين سيادة دولة

ودولة أخرى ص ٩٠

ب- أعط مثالين عن :- (٤ درجات لكل نقطة درجة)

١- مجالات النشاط الاقتصادي في الدول الإسلامية . ص ٧١ ص ٢

- الرعي - الزراعة

- الصناعة - التجارة

٢- المشكلات التعليمية والثقافية التي تعاني منها دول العالم الإسلامي . ٩٥

- انتشار الأمية - ضعف المستوى التعليمي

- ضعف الخدمات التعليمية - قلة عدد المدارس - ارتفاع الكثافة الطلابية ٢

- عدم استخدام الوسائل التعليمية الحديثة التي تواكب التطور التكنولوجي

ج- قارن بين كلاً مما يلي حسب الجدول التالي :- (٤ درجات لكل نقطة درجة)

أوجه المقارنة	منظمة إذاعات الدول الإسلامية	المنظمة الإسلامية للتربية والعلوم والثقافة
سنة التأسيس	١٩٧٥م ص ١٠٧	١٩٨٢م ص ١٠٧ و ص ١٠٨
الأهداف	<ul style="list-style-type: none"> - نشر مبادئ الدعوة الإسلامية وتعليم اللغة العربية . - تعريف الشعوب الإسلامية ببعضها - شرح القضايا الإسلامية والكفاح من أجلها - إنتاج وتبادل البرامج الإذاعية والتلفزيونية - تنمية التعاون بين الدول الأعضاء في الميدان الإذاعي 	<ul style="list-style-type: none"> - تشجيع التعاون بين الدول الأعضاء في تلك المجالات - العمل على جعل المناهج الدراسية مرتكزة على الثقافة الإسلامية - تدعيم التفاهم بين الشعوب والمساهمة في إقرار السلم والأمن في العالم عن طريق التربية والعلوم والثقافة . - تقوية التعاون بين الدول في ميادين التربية والعلوم والثقافة .

السؤال الرابع يتكون من (أ- ب - ج) :-

أ- عدد كلا مما يلي :- (٦ درجات لكل نقطة درجة)

- ٢ ١- العوامل التي ساعدت على ازدهار الحياة العلمية . ص ٧٣
- رعاية الإسلام للحياة العلمية - ترجمة الكتب التراثية
- تشجيع الخلفاء للعلماء في جميع العصور الإسلامية - حرية الرأي

- ٢ ٢ - قرارات المؤتمر الإسلامي الخامس ١٩٨٧م . ص ٩٩
- دعم القضية الفلسطينية - وحدة لبنان - إدانة الإرهاب
- مطالبة إيران بالاستجابة لمساعي السلام ووقف حرب الخليج الأولى
- حل قضية القبارصة الأتراك - دعم مطالب جبهة مورو للتحرر الوطني لمسلمي الفلبين

- ٢ ٣- جهود الدولة الإسلامية في تطوير الزراعة . ص ٧١
- تنظيم وسائل الري - شق القنوات
- إنشاء السدود المائية

ب- أكتب عبارة مترابطة عن حرب يونيو ١٩٦٧م باستخدام الكلمات التالية : (درجتان)
(أي ربط صحيح يحقق المعنى يراه المصحح) ص ١٠١

الكيان الصهيوني - ١٩٦٧م - الكويت - لواء اليرموك

حرب شنها الكيان الصهيوني عام ١٩٦٧م ضد الدول العربية وقد شاركت الكويت بقوات كويتية من لواء اليرموك .

ج- فرق بين كلا مما يلي حسب الجدول التالي:- (درجتان) ص ٧٠

الخراج	الجزية
المال الذي يفرض على الأراضي الزراعية .	مال يؤخذ من أهل الذمة اليهود والنصارى وتجمع مرة في السنة من العقلاء والأحرار البالغين من الذكور .

انتهت الأسئلة