

١ - ١١



عبر عن الصورة بعبارة جمع / طرح



مَحَلُّ لِتَأْجِيرِ الدَّرَاجَاتِ

موقع
المناهج الكويتية
almanahj.com/kw







@abla-shi5aaa82

موقع
المنهج الكويتية
almanahj.com/kw




@abla-shi5aaa82




مؤلف
المنهج الكويتية
almanahj.com/kw


أكل

@abla-shi5aaa82





موقع
المنهج الكويتية
almanahj.co





$$\underline{\hspace{2cm}} = \underline{\hspace{2cm}} + \underline{\hspace{2cm}}$$


@abla-shi5aaa82





موقع
المنهج الكويتية
almanahj.com/kw



$$\underline{\hspace{2cm}} = \underline{\hspace{2cm}} + \underline{\hspace{2cm}}$$

@abla-shi5aaa82





المناهج الكويتية
almanahj.com



@abla-shi5aaa82

موقع
المنهج الكويتية
almanahj.com/kw



@abla-shi5aaa82



موسى
المنهج الكويتية
almanahj.com/kw

أوجد الناتج باستخدام خط الأعداد

@abla-shi5aaa82

$$= 3 + 9$$

@abla-shi5aaa82

موقع
المنهج الكويتية
almanahj.com/kw

$$= 1 - 17$$

@abla-shi5aaa82

$$= 7 + 10$$

@abla-shi5aaa82

موقع
المنهج الكويتية
almanahj.com/kw

$$= 3 - 14$$

@abla-shi5aaa82

11 + 3 =

@abla-shi5aaa82

موقع
المنهج الكويتية
almanahj.com/kw

19 - 8 =

@abla-shi5aaa82



المنهج الكويتية
almanahj.com/kw

أوجد النتائج
بإمكانك استخدام عناصر

@abla-shi5aaa82

= ^ + ^

@abla-shi5aaa82

موقع
المنهج الكويتية
almanahj.com/kw

= 0 - ١٣

@abla-shi5aaa82

١٤

موقع
المنهج الكويتية
almanahj.com/kw

V +

١٠

V +

١

٢

موقع
المنهج الكويتية
almanahj.com/kw

٣

+

١

٢

٣

+
