

تم تحميل هذا الملف من موقع المناهج الكويتية



منطقة الأحدي التعليمية

الملف أسئلة الاختبار النهائي لمنطقة الأحدي التعليمية

موقع المناهج ← المناهج الكويتية ← الصف الثامن ← اجتماعيات ← الفصل الثاني

روابط مواقع التواصل الاجتماعي بحسب الصف الثامن



روابط مواد الصف الثامن على تلغرام

[الرياضيات](#)

[اللغة الانجليزية](#)

[اللغة العربية](#)

[التربية الاسلامية](#)

المزيد من الملفات بحسب الصف الثامن والمادة اجتماعيات في الفصل الثاني

<a href="#">تلخيص</a>	1
<a href="#">امتحان دولة الكويت والعالم الاسلامي</a>	2
<a href="#">حل التقويم لمادة الاجتماعيات</a>	3
<a href="#">نموذج اجابة اختبار في مادة الاجتماعيات لنهاية الفترة الدراسية الثانية</a>	4
<a href="#">نموذج الاجابة لامتحان الاجتماعيات فرواتية</a>	5

امتحان الفترة الدراسية الثانية  
لمقرر الكويت والعالم الإسلامي  
للمصف الثامن المتوسط  
(أجب عن جميع الأسئلة)

العام الدراسي: ٢٠٢٤  
الزمن: ساعة وخمس وأربعون دقيقة  
عدد الأوراق: (٤)

السؤال الأول (موضوعي) يتكون من ( ١ - ب - ج ) :

( أ ) أكمل العبارات التالية بما يناسبها مما درست :

- ١- العاصمة العربية التي تعتبر نموذجاً للتلوث الضوضائي في العالم الإسلامي تسمى ..... القاهرة
- ٢- الفرق بين قيمة الصادرات وقيمة الواردات بالدولة يسمى ..... الميزان التجاري
- ٣- الحاكم الذي رفض الإدعاءات العراقية لضم دولة الكويت للعراق عام ١٩٦١ م اسمه ..... عبد الله السالم
- ٤- العام الذي اجتاحت فيه القوات العراقية دولة الكويت ..... ١٩٩٠
- ٥- الدولة التي استضافت مؤتمر القمة العربية الاقتصادية والتنمية والاجتماعية عام ٢٠٠٩ م تسمى ..... الكويت

( ب ) ضع خطأ تحت الخيار الصحيح من بين الخيارات التي تلي كل عبارة :

١- العام الذي تم فيه انشاء شرطة البيئة في دولة الكويت:

- أ- ٢٠١٣ م      ب- ٢٠١٤ م      ج- ٢٠١٥ م

٢- الغاز الأول المسؤول عن الاحتباس الحراري:

- أ- الاوكسجين      ب- ثاني أكسيد الكربون      ج- النيتروجين      د- الهيدروجين

٣- الدولة التي اندلعت فيها الحرب الأهلية عام ١٩٩١ م:

- أ- البوسنة والهرسك      ب- ميانمار      ج- الصين      د- الصومال

٤- بلغت نسبة التلوث الهوائي في باكستان :

- أ- ٣٠%      ب- ٤٠%      ج- ٥٠%      د- ٦٠%

٥- الشيخ الذي تم اختياره قائد للعمل الإنساني عام ٢٠١٤ م للأمم المتحدة :

- أ- صباح الأحمد      ب- جابر الأحمد      ج- نواف الأحمد      د- مشعل الأحمد

( ج ) صنف مصادر التلوث البيئي حسب الجدول التالي :

( الحروب - الغبار - المبيدات الحشرية - البراكين - النفايات )

مصادر طبيعية	مصادر بشرية
غبار - براكين	نفايات / حروب / مبيدات



درجة السؤال الأول بالحروف

السؤال الرابع: (مقالى) يتكون من ( أ - ب - ج ) :

( أ ) أقرأ الفقرة التالية ثم أجب عن الأسئلة التالية :

" تأسس الصندوق الكويتي للتنمية الاقتصادية في ٣١ ديسمبر ١٩٦١م، حيث كانت الفكرة والاهداف تجسيدا لمبادرة المغفور له الشيخ جابر الأحمد الجابر الصباح عندما كان وزيرا للمالية في عهد المغفور له الشيخ عبدالله السالم الصباح ويعد هذا الصندوق أول مؤسسة تنموية في المنطقة . "

- ١- ما هو العام الذي تأسس فيه الصندوق الكويتي للتنمية الاقتصادية؟ ..... ١٩٦١ م
- ٢- من صاحب فكرة انشاء الصندوق الكويتي للتنمية الاقتصادية ؟ ..... جابر الأحمد الصباح
- ٣- عدد اثنين من اهداف الصندوق الكويتي للتنمية الاقتصادية .  
..... تقديم المساعدات الإنسانية للدول المحتاجة - الاستثمار في برامج التنمية
- ..... تقديم المساعدات الإنسانية للمؤسسات .

( ب ) علل لما يلي :

- ١- نفوق كثير من الأسماك في جون الكويت عام ٢٠٠١ م .  
..... تلوث مياه البحر
- ٢- ظهور المشكلة السكانية في دول العالم الإسلامي .  
..... عدم التوازن بين عدد السكان والموارد والخطط  
..... وفقرها الذي قاد لنزاع الحشد الحشيش
- ٣- تواجه الأقليات الإسلامية حول العالم عدة تحديات  
..... من أبرزها الطوائف الأرثوذكسية والمسيحية  
..... المحافظون على الطوائف الإسلامية

( ج ) عدد اثنين لكل مما يلي : (س)

- ١- أسباب تلوث التربة .  
..... مساحات كبيرة  
..... مخلفات طابية كبريت / نظائبات
- ٢- أسباب الفقر في الدول الإسلامية .  
..... عدم توفر فرص عمل  
..... ارتفاع البطالة
- ٣- أسماء الجمعيات والهيئات الخيرية في دولة الكويت .  
..... جمعية الهلال الأحمر  
..... جمعية الزكاة
- ..... آلهة الرخيد الإسلامية العالمية

درجة السؤال الرابع بالحروف

( انتهت الأسئلة )

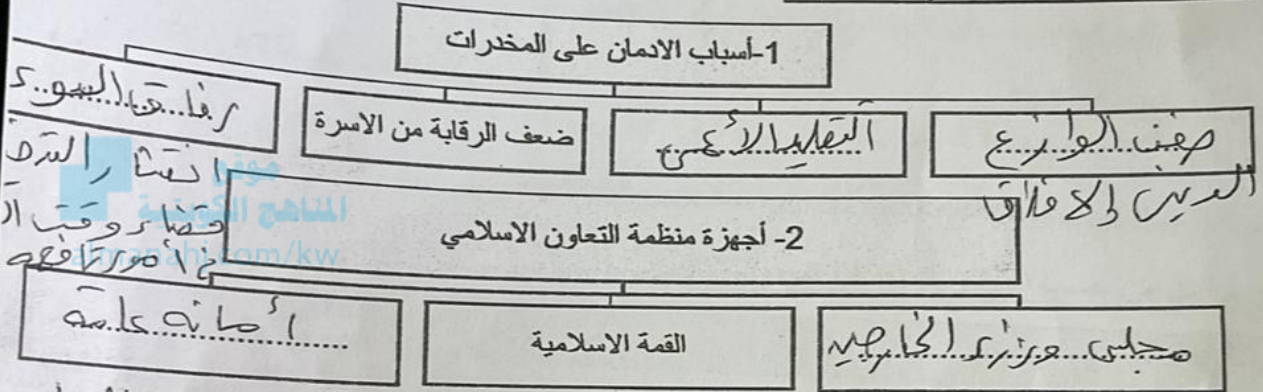






تابع ١ امتحان الفترة الدراسية الثانية لمقرر الكويت والعالم الإسلامي الصف الثامن المتوسط  
السؤال الثاني ( موضوعي ) يتكون من ( أ - ب - ج ) :

م	العبارة	التصويب
١	العام الذي تم فيه تشغيل أول محطة كهرباء تعمل بالطاقة الشمسية في دولة الكويت ٢٠١٠م.	٤.٠.١.٧
٢	تبلغ نسبة السكان في العالم الإسلامي الذين يعيشون تحت مستوى خط الفقر ٦٧%.	٣.٠.١.٧
٣	يطلق على المنظمة الإسلامية للتربية والعلوم والثقافة اليونسكو.	١.٠.١.٧
٤	يبلغ عدد آبار النفط المشتعلة من قبل النظام العراقي الغاشم على دولة الكويت ٣٣٧ بنرا.	١.٠.١.٧
٥	يعتبر هلاك الكائنات البحرية والحيوانية والنباتية من آثار التلوث الضوئية.	١.٠.١.٧

( ب ) أكمل المخططات السهمية التالية :




( ج ) اكتب مدلولات الصور والشعارات التالية :



..... ( وكالة الأنباء الإسلامية ) .....  
..... ( جمهورية إيران الإسلامية ) .....  
..... ( منظمة التعاون الإسلامي ) .....



..... ( أضرار المخدرات ) .....  
..... ( المسجد الحرام ) .....



درجة السؤال الثاني بالحروف