

تم تحميل هذا الملف من موقع المناهج الكويتية



الملف نموذج إجابة منطقة الجهراء

[موقع المناهج](#) ⇨ [المناهج الكويتية](#) ⇨ [الصف التاسع](#) ⇨ [اجتماعيات](#) ⇨ [الفصل الثاني](#)

روابط مواقع التواصل الاجتماعي بحسب الصف التاسع



روابط مواد الصف التاسع على تلغرام

الرياضيات	اللغة الانجليزية	اللغة العربية	التربية الاسلامية
---------------------------	----------------------------------	-------------------------------	-----------------------------------

المزيد من الملفات بحسب الصف التاسع والمادة اجتماعيات في الفصل الثاني

حل التقويم	1
بنك اسئلة	2
مذكرة فصل ثاني	3
حل تقويم	4
مذكرة مراجعة للصف الاسع	5



وزارة التربية

امتحان نهاية الفترة الدراسية الثانية

مقرر / الكويت والعالم

العام الدراسي: ٢٠٢١ / ٢٠٢٢ م

الزمن: ساعة وخمسة وأربعون

عدد الأوراق : (٦)

الصف التاسع / المتوسط

الإدارة العامة لمنطقة الجهراء التعليمية

التوجيه الفني للاجتماعيات

نموذج الإجابة

السؤال الأول : موضوعي و يتكون من (أ - ب - ج - د - هـ) :

(أ) أكمل العبارات التالية بما يناسبها فيما درست : (٦ درجات لكل نقطة درجة)

١- العام الذي أنشأ فيه الصندوق الكويتي للتنمية الاقتصادية ١٩٦١ م . ص ١٧٧

٢- يطلق على المنظمة الإسلامية للتربية والعلوم والثقافة اسم إيسيسكو . ص ١٤٩

٣- ظاهرة حدوث الأمواج الزلزالية في أرضية المحيطات تسمى تسونامي . ص ١١٨

٤- العام الذي تعرض فيه الشعب الكويتي للاحتلال من قبل النظام العراقي البائد ١٩٩٠ م ص ١٣٧

٥- الشخصية الكويتية التي نشرت الدين الإسلامي بقيمه السمحة في القارة الأفريقية اسمه عبدالرحمن السمييط . ص ١٤٢

٦- مكتشف علم الاجتماع وأول من استخدم فكرة الحضارة كفكرة مستقلة لها مفهومها اسمه عبدالرحمن بن خلدون . ص ١٥٠

(ب) صنف الكلمات التالية إلى مكانها المناسب في الجدول الذي يليها : (٦ درجات لكل نقطة درجة)

(المواطنة - الوقاية - الوسطية - حسن الظن - التعاون - النظافة - المساواة) ص ١٣٩

قيم دينية	قيم ديمقراطية	قيم صحية
الوسطية	المواطنة	الوقاية
حسن الظن	المساواة	النظافة

تابع / نموذج اجابة امتحان مقرر الكويت والعالم - الفترة الدراسية الثانية - للصف التاسع - العام الدراسي ٢٠٢١ / ٢٠٢٢ م

(ج) ظلل الخيار الصحيح من بين الخيارات التي تلى كل عبارة : (٦ درجات لكل نقطة درجة)

١- الفن واللغة والعلم والدين مكونات: ص ١٥٠

فكرية	اجتماعية	مادية	جمالية
-------	----------	-------	--------

٢- الجمعية الإنسانية التطوعية التي تأسست في عام ١٩٦٦ م : ص ١٨٠

العون المباشر	الهلال الأحمر الكويتي	الإغاثة الإنسانية	النجاة الخيرية
---------------	-----------------------	-------------------	----------------

٣- يقع المقر الدائم للهيئة الخيرية الإسلامية العالمية في دولة : ص ١٨٢

قطر	البحرين	الكويت	الإمارات
-----	---------	--------	----------

٤- العام الذي اختيرت فيه مدينة الكويت عاصمة للثقافة الإسلامية : ص ١٤٩

٢٠١٦ م	٢٠١٧ م	٢٠١٨ م	٢٠١٩ م
--------	--------	--------	--------

٥- الهيئة الرئيسية للأمم المتحدة والوحيدة التي تمثل فيها جميع الدول الأعضاء وعلى نحو متساوٍ: ص ١٧١

مجلس الأمن	الجمعية العامة	الأمانة العامة	مجلس الوصاية
------------	----------------	----------------	--------------

٦- الحاكم الكويتي الذي قام برفع علم دولة الكويت على سارية الأمم المتحدة عام ١٩٦٣ م: ص ١٦٨

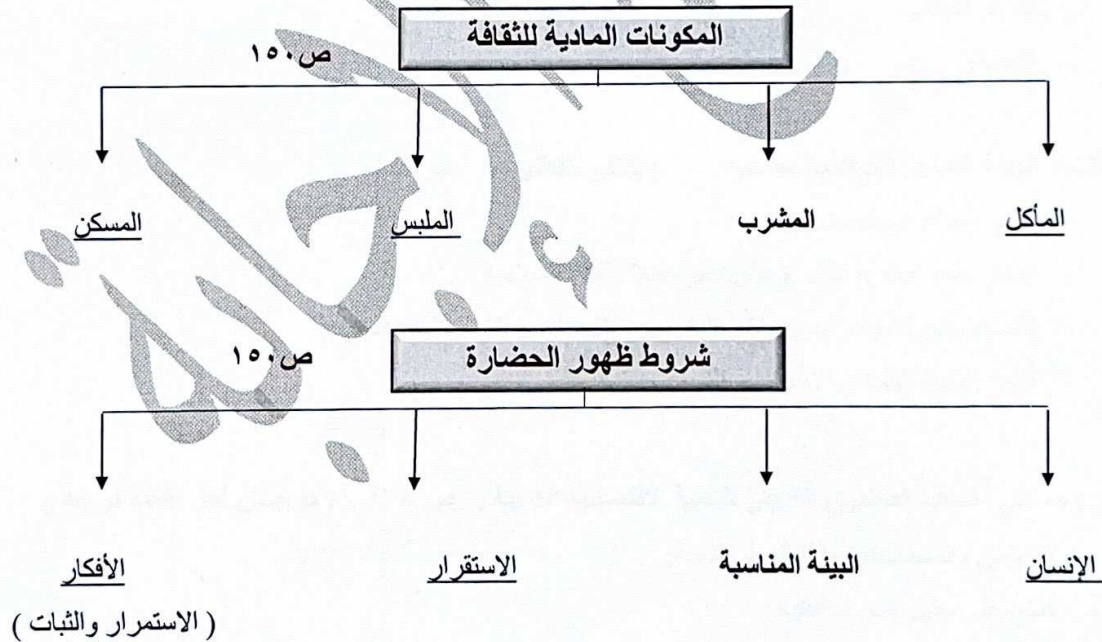
جابر الأحمد الصباح	صباح الأحمد الصباح	صباح السالم الصباح	عبدالله السالم الصباح
--------------------	--------------------	--------------------	-----------------------

تابع / نموذج اجابة امتحان مقرر الكويت والعالم - الفترة الدراسية الثانية - للصف التاسع - العام الدراسي ٢٠٢١ / ٢٠٢٢ م

(د) صوب ما تحته خط في العبارات التالية : (٦ درجات لكل نقطة درجة)

م	العبارة	التصويب
١	انضمت دولة الكويت للأمم المتحدة في عام ١٩٦١ م.	١٦٨ ص ١٦٣
٢	المقر الدائم لمحكمة العدل الدولية مدينة نيويورك.	لاهاي ص ١٧١
٣	حالة نفسية وأحيانا عضوية تنتج عن التفاعل مع العقار <u>العنف</u> .	الإدمان ص ١٢٣
٤	أهم المؤتمرات التي عقدت لتأسيس الأمم المتحدة عام ١٩٤٥ م <u>بالطا</u> .	سان فرانسيسكو ص ١٦٨
٥	الجهاز المفوض من الجمعية العامة للأمم المتحدة للقيام بعدد ضخم من الأنشطة <u>مجلس الوصاية</u> .	المجلس الاقتصادي والاجتماعي ص ١٧٢
٦	القرار الذي تم فيه تشكيل لجنة لترسيم الحدود بين (الكويت والعراق) يحمل رقم ٨٣٣.	٧٧٣ ص ١٧٦

(هـ) أكمل الفراغات في المخططات السهمية التالية : (٦ درجات لكل نقطة درجة)



السؤال الثاني مقالتي و يتكون من (أ - ب - ج) :

(أ) عَرَف المفاهيم والمصطلحات التالية : (٤ درجات لكل نقطة درجة)

١- بطالة : تطلق على الأفراد الذين يعيشون بدون عمل . ص ١٢٠

٢- تكنولوجيا : تعني الطرق المادية المستعملة في صناعة الأشياء وعملها . ص ١٢٠

٣- مشكلة الغذاء: هي حدوث نقص واضح في كمية الغذاء ونوعيته عن المعدلات المطلوبة . ص ١١٨

٤- منظمات دولية : هي هيئة يشترك فيها عدد من الدول للقيام بمجموعة من الأعمال ذات الأهمية المشتركة. ص ١٦٧

(ب) علل لما يلي : (٤ درجات لكل نقطة درجة)

١- استمرار تراجع مقومات الإنتاج الزراعي: ص ١١٨

- انتشار الجفاف
- التصحر

٢- إنشاء الهيئة الخيرية الإسلامية العالمية . (يكتفى بنقطتين) ص ١٨٢

- تقديم المساعدات للمحتاجين .
- ابتكار حلول جذرية للقضاء على الفقر عملاً بالقيم الإسلامية .
- القضاء على الأمية والجهل ونشر العلم من خلال بناء مراكز التعليم والتدريب .
- تقوية روابط الوحدة والأخوة بين الشعوب الإسلامية .

(ج) ما هي أهداف الصندوق الكويتي للتنمية الاقتصادية العربية . ص ١٧٨ (درجتان لكل نقطة درجة)

- القروض والضمانات المالية للدول النامية.
- المنح على سبيل المعونة الفنية .

السؤال الثالث مقالتي و يتكون من (أ - ب) :

(أ) قارن بين كل من حسب المطلوب : (٤ درجات لكل نقطة درجة) (يكتفى بنقطتين)

وجه المقارنة	مجلس الأمن ص ١٧١	محكمة العدل الدولية ص ١٧٢
الاختصاصات	- المحافظة على السلام والأمن الدوليين - التحقيق في أي خلاف دولي - التوصيات بشأن المنازعات الدولية - التوصية بقبول الأعضاء الجدد	- النظر في الخلافات القانونية التي ترفعها الدول - إصدار الفتاوى القانونية

موقع
الاماناه الكويتية
almanahj.com/kw

(ب) اكتب فيما يلي : (٦ درجات لكل نقطة درجة)

١- حقوق اللاجئين وطالبي اللجوء في المعاهدات الدولية . (يكتفى بنقطتين) ص ١١٥

- المساواة أمام القضاء .
- التمتع بجميع حقوق الإنسان الأساسية .
- الحصول على شروط عمل عادلة للاجئين .
- القضاء على جميع أنواع التمييز ضد اللاجئين .
- تحمي المعاهدات الدولية حق التعليم والصحة لطالبي اللجوء .

٢- سلبيات استعمال برامج التواصل الاجتماعي . (يكتفى بنقطتين) ص ١٢٩

- التجارة غير المشروعة .
- نقل الأخبار الكاذبة وإطلاق الشائعات .
- ظاهرة التشهير بالناس .

٣- جهود دولة الكويت في محاربة الأمية على المستوى المحلي . ص ١٧٨

- جعلت التعليم إلزاميا ومجانيا حتى المرحلة المتوسطة .
- سمحت بالتعليم في مدارسها لجميع الجنسيات .

السؤال الرابع مقالى و يتكون من (أ - ب - ج) :

(أ) اقرأ الفقرة التالية ثم أجب عما يليها من أسئلة : (درجتان لكل نقطة درجة)

جمعية العون المباشر مؤسسة تطوعية غير حكومية مهتمة بالتنمية في الأماكن الأكثر احتياجا في قارة أفريقيا تأسست عام ١٩٨١ م ، تقوم بتقديم خدمات متميزة في مجال التعليم والإغاثة . ص ١٨١

- استخرج من الفقرة السابقة ما يلي:

١- عام التأسيس :

- ١٩٨١ م

٢- اذكر الاسم القديم الذي أطلق على الجمعية :

- لجنة مسلمي إفريقيا.

(ب) عدد ما يلي : (٤ درجات لكل نقطة درجة)

١- مصادر اكتساب القيم في حياتنا . (يكتفى بنقطتين) ص ١٣٨

- الأسرة - المدرسة - المساجد ودور العبادة - المسارح والفنون - العمل التطوعي - وسائل التواصل الاجتماعي

- أقوال الصالحين والحكماء - القرآن الكريم - الأحاديث النبوية الشريفة - خطابات وأقوال لأصحاب السمو - وسائل

الإعلام بأشكالها المختلفة

٢- خصائص الثقافة . (يكتفى بنقطتين) ص ١٥٤

- إنسانية - تراكمية

- مكتسبة - قابلة للانتشار والنقل

- ثابتة ومتغيرة

(ج) أجب عما يلي : (٤ درجات لكل نقطة درجة)

١- اذكر الأسباب الاقتصادية للهجرات غير المشروعة . (يكتفى بنقطتين) ص ١١٥

- قلة فرص العمل .

- انخفاض الأجور وتدني المستوى المعيشي .

٢- ماهي خصائص المدمن . (يكتفى بنقطتين) ص ١٢٤

- الرغبة في تعاطي العقار المخدر، ولا يستطيع الإقلاع عنه .

- زيادة الجرعات وعددها .

- أعراض نفسية وجسمية على المدمن .

انتهت الإجابات،،،،



وزارة التربية

الإدارة العامة لمنطقة الجهراء التعليمية

التوجيه الفني العام للاجتماعيات

العام الدراسي: ٢٠٢١ / ٢٠٢٢ م

الزمن: ساعتان وربع

عدد الأوراق: (٦)

امتحان المنهج الكامل للصف التاسع (مقرر الكويت والعالم)

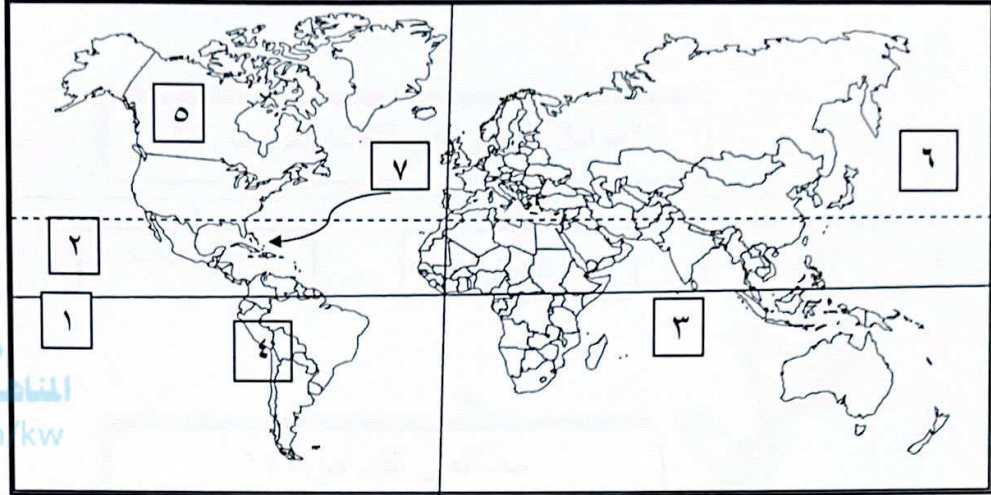
السؤال الأول : ويتكون من [أ ، ب، ج، د، هـ، و]

(أ) أكمل العبارات بما يناسبها بما درست: (٦=٦×١)

- ١- خط الأساس لخطوط الطول يسمى جرينتش ص ٢٢
 - ٢- منظمة الدول المصدرة للنفط تسمى أوبك ص ١٠٢
 - ٣- عدد الآبار الكويتية التي قامت القوات العراقية بحرقها عام ١٩٩١ م ٧٣٧ بئرا.
 - ٤- الرياضي الكويتي الذي يعتبر أول عربي يتسلق قمة إفرست اسمه زيد السيد الرفاعي ص ٢٥
 - ٥- نقص الغذاء من حيث الكم أو النوع يسمى سوء التغذية ص ١١٨
 - ٦- تعرض الشعب الكويتي لاحتلال من قبل النظام العراقي البائد في عام ١٩٩٠ ص ١٤٤
- (ب) أكتب المصطلح أو المفهوم الدال على كل من العبارات التالية : (٦=٦×١)**

المصطلح	العبارة	م
الحضارة	هي جملة مظاهر الرقي العلمي والفني والأدبي والاجتماعي في مجتمع من المجتمعات ص ١٥٠	١
الهيئة الخيرية الإسلامية العالمية	هيئة خيرية مستقلة تقدم خدمات إنسانية للمحتاجين في العالم بدون تمييز، تأسست عام ١٩٤٨ ص ١٨٢	٢
القيم	مجموعة الصفات الأخلاقية كالعادات والمبادئ والاتجاهات حول ما هو مرغوب وغير مرغوب اجتماعيا ص ١٣٧	٣
البيئة	الإطار الذي يعيش فيه الإنسان ويحصل فيه على مقومات حياته ويتفاعل فيها مع عناصر البيئة الأخرى. ص ١٥	٤
المناخ	حالة الجو خلال فترة زمنية طويلة ص ٢٧	٥
الأقاليم المناخية	مساحة من الأرض ذات خصائص مناخية متشابهة ومتميزة عن غيرها ص ٢٧	٦

(ج) أمامك خريطة العالم الصماء أكتب الرقم الدال على كل مما يلي : (٥=٥×١)



موقع
المنهج الكويتية
almanahj.com/kw

(٢) ص ٢٩

(٣) ص ٢٠

(٥) ص ٢٠

(٤) ص ٢٥

(١) ص ٢٩

* مدار السرطان يمثل على الخريطة الرقم

* المحيط الهندي يمثل على الخريطة الرقم

* قارة أمريكا الشمالية يمثلها على الخريطة الرقم

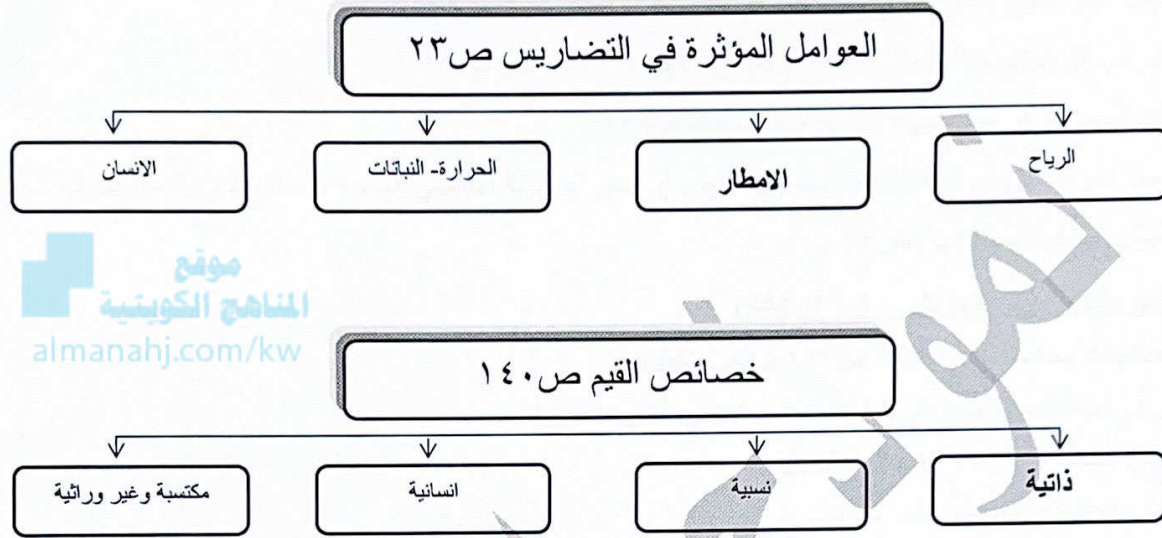
* سلسلة جبال الإنديز يمثلها على الخريطة الرقم

* خط الاستواء يمثل على الخريطة الرقم

(د) اختر للمجموعة (أ) ما يرتبط بها من المجموعة (ب) بوضع الرقم المناسب أمام المجموعة (ب): (٣=٣×١)

م	(أ)	م	(ب)
١	هيئة الأمم المتحدة ص ١٦٨	٣	تأسست عام ١٩٦٦ م
٢	الصندوق الكويتي للتنمية الاقتصادية ص ١٧٧	١	أنشأت عام ١٩٤٥ م
٣	جمعية الهلال الأحمر الكويتي ص ١٨٠	٢	أنشئ عام ١٩٦١ م

(هـ) أكمل المخططات السهمية التالية: (٦=٦ × ١)



(و) صنف المقومات التي أمامك في مكانها حسب الجدول التالي ص ٩٧: (٤=٤ × ١)
(أراضي زراعية خصبة - النفط - التصنيع والابتكار - توفر أيدي عاملة)

مقومات الدول المتقدمة	مقومات الدول النامية
• النفط • التصنيع والابتكار	• أراضي زراعية خصبة • توفر أيدي عاملة

السؤال الثاني " مقال " ويتكون من (أ - ب)

(أ) عرف ما يلي : (١ × ٤ = ٤)

- ١- التعايش : هو القبول بالتنوع بما يضمن وجود علاقات إيجابية مع الآخرين ص ١٥٨
- ٢- الجبل: هي كل مرتفع من الأرض وله قمة لا يقل ارتفاعها عن ١٠٠٠ متر ص ٢٤
- ٣- الموقع النسبي : هو موقع الدولة بالنسبة للباس والماء ص ٢٠
- ٤- التصحر: هو تناقص في قدرة الإنتاج البيولوجي للأرض او تدهور خصوبة الأراضي المنتجة بالمعدل الذي يكسبها ظروف تشبه الأحوال المناخية الصحراوية. ص ٧٢

(ب) أكتب نقطتين لكل مما يلي : (٦ درجات)

- ١- اختصاصات محكمة العدل الدولية ص ١٧٢ (يكتفي بنقطتين)
*-النظر في الخلافات القانونية التي ترفعها الدول - اصدار الفتاوي القانونية
- ٢- عناصر الثقافة ص ١٥٣ (يكتفي بنقطتين)
*-العناصر المادية - العناصر غير المادية
- ٣- درجات التلوث ص ٦٢ (يكتفي بنقطتين)
*- التلوث المقبول - الخطر - المدمر

السؤال الثالث " مقال " ويتكون من : (أ - ب) :

(أ) قارن بين كل مما يلي: (٤ درجات)

أوجه المقارنة	التلوث المائي ص ٦٤ (يكتفي بنقطتين)	تلوث التربة ص ٦٧ (يكتفي بنقطتين)
مصادر التلوث	إلقاء المخلفات الصناعية- التلوث الحراري- التلوث النفطي - إلقاء مياه الصرف الصحي	مصادر ميكانيكية- حيوية- كيميائية

موقع
المنهج الكويتية
almanahj.com/kw

(ب) اقرأ الفقرة التالية ثم أجب عما يليها من أسئلة : (٦ درجات) ص ٦٩

تعتبر الضوضاء شكلاً من أشكال التلوث البيئي له خطورته ومن الصعب تجنبه ، وهو في تزايد مستمر نتيجة للتقدم التكنولوجي والنمو السكاني.

١- ضع عنوان للفقرة السابقة. (أي عنوان مناسب يكتبه المتعلم)(درجة)

.....

٢- ما أنواع التلوث الضوضائي؟ (درجتان)

* - المزمّن - المؤقت

٣- عدد مصادر التلوث الضوضائي. (درجتان) (يكتفي بنقطتين)

*آلات المصانع - ضجيج اعمال البناء - أصوات وسائل النقل - أصوات الآلات المنزلية الحديثة(يكتفي بثلاث نقاط)

السؤال الرابع " مقال " ويتكون من : (أ - ب - ج) :

(أ) برهن على صحة العبارة التالية: (٤ درجات)

١- تعد السهول من أفضل مناطق الاستقرار البشري . ص ٢٤ (يكتفي بنقطتين)

*-تعتبر موانئ طبيعية - سهولة بناء المساكن عليها - تركيز السكان فيها لسهولة التنقل.

٢- تعد البيئة المعتدلة من أفضل البيئات للعيش على وجه الكرة الأرضية ص ٣١ (يكتفي بنقطتين)

*- ممارسة العديد من الأنشطة - تنوع الحياة النباتية والحيوانية أكثر من البيئات الأخرى- ازدياد البناء والاستقرار -إمكانية إقامة النشاط الزراعي والصناعي عليها.

موقع
الكويتية
almanahj.com/kw

(ب) فرق بين خطوط الطول ودوائر العرض من حيث الأهمية ص ١٨- ص ١٩: (٢=٢ × ١)

خطوط الطول	دوائر العرض
تساعدنا على تعيين الزمن بين الأماكن على سطح الأرض	تساعدنا على تقسيم الكرة الأرضية الى أقاليم مناخية

(ج) عدد ما يلي : (٤ درجات)

١- مظاهر التصحر ص ٧٢ (يكتفي بنقطتين)

*- تعرية التربة - انتشار وزحف الكثبان الرملية- تدهور وزوال الغطاء النبات الطبيعي - تملح التربة في المناطق الزراعية.

٢-أسباب الهجرات غير المشروعة . ص ١١٥ (يكتفي بنقطتين)

*- سياسية- اقتصادية- اجتماعية

انتهت الأسئلة