

تم تحميل هذا الملف من موقع المناهج الكويتية




محمد البلاطي

الملف إجابة أسئلة اختبار القصير الأول من منصة البلاطي

[موقع المناهج](#) ← [المناهج الكويتية](#) ← [الصف السادس](#) ← [اجتماعيات](#) ← [الفصل الثاني](#)

روابط مواقع التواصل الاجتماعي بحسب الصف السادس



روابط مواد الصف السادس على تلغرام

[الرياضيات](#)

[اللغة الانجليزية](#)

[اللغة العربية](#)

[التربية الاسلامية](#)

المزيد من الملفات بحسب الصف السادس والمادة اجتماعيات في الفصل الثاني

مراجعة	1
مراجعة	2
مراجعة	3
مذكرة في مادة الاجتماعيات	4
مراجعة محلولة ومفيدة في مادة الاجتماعيات	5

توقعات ليلة الامتحان إجابة امتحانات تجريبية قصير (أ)



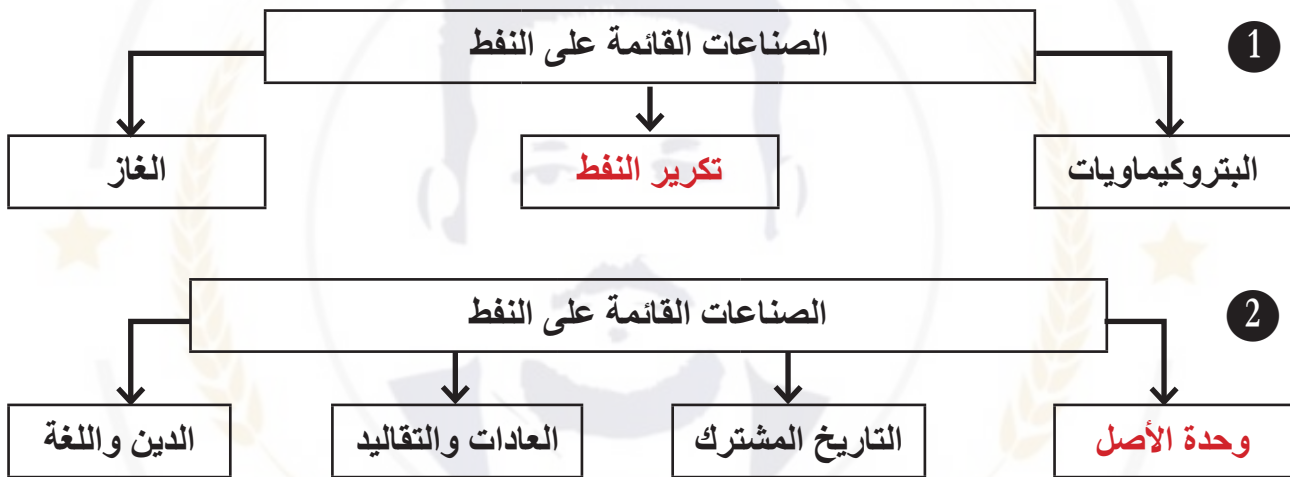
الدراسات الاجتماعية
الكويت ودول
الخليج العربية
الفصل الدراسي الثاني
2025 - 2024



السؤال الأول: أكمل العبارات التالية بما يناسبها: (4 درجات)

- 1 - دولة خليجية تحتل المركز الأول في عدد السكان هي **السعودية**.
- 2 - أعلى دولة خليجية في نسبة الوافدين هي **الإمارات**.
- 3 - مجموعة من الناس تشترك فيما بينها في الصفات الجسمانية هي **السلالة**.
- 4 - تم تصدير أول شحنة للنفط في عام **1946م**.

السؤال الثاني: أكمل المخططات السهمية التالية: (2 درجة)



السؤال الثالث: قارن بين كل مما يلي: (4 درجات)

أسباب التلوث الضوضائي	أسباب التلوث المائي
- آلات كهربائية - أعمال النجارة	- النفط ومشتقاته - مخلفات المصانع

السؤال الأول: وزع الهجرات الآتية حسب مكانها الصحيح في الجدول: (6 درجات)

(آل الصباح – آل خليفة – قبائل الأزد – القواسم – المعاضيد – بني ياسي)

الهجرة	المعاضيد	قبائل الأزد	آل خليفة	القواسم	آل الصباح	بني ياسي
مكان الاستقرار	قطر	عمان	البحرين	رأس الخيمة	الكويت	أبوظبي

السؤال الثاني: أكتب فيما يلي مما درست: (4 درجة)

١ أنواع الهجرات:

- الهجرات الداخلية - الهجرات الخارجية

٢ العوامل التي ساعدت على زيادة أعداد الوافدين في دول الخليج العربية:

- الأمن والأمان - ارتفاع الأجور - توفر فرص العمل - توفر الرعاية الصحية
- زيادة عدد المواليد - السماح للوافدين بأصطحاب عائلاتهم

٣ فسر الثقافة:

مجموعة العادات والتقاليد والقيم في مجتمع من المجتمعات.

السؤال الأول: على خريطة شبه الجزيرة العربية الصماء (4 درجة)
التي أمامك نفذ ما يطلب منك:



- ١ أقل الدول الخليجية في نسبة الوافدين تحمل الرقم (4)
- ٢ مسطح البحر الأحمر يحمل الرقم (2)
- ٣ ظهرت حضارة هيلي في دولة (الامارات)
- ٤ يوجد سهل الباطنة في دولة تحمل على الخريطة الرقم (5)

السؤال الثاني: صحح ما تحته خط: (2 درجة)

- ١ نجحت المملكة العربية السعودية في إنتاج محصول القطن. (القمح)
- ٢ الطبقة التي تحمي الأرض والأحياء من خطر الأشعة فوق بنفسجية هي طبقة التروبوسفير. (الأوزون)

السؤال الثالث: عدد ما يلي: (4 درجة)

١ أنواع التلوث:

- تلوث هوائي
- تلوث مائي
- تلوث التربة
- تلوث ضوضائي

٢ مظاهر التعاون الاقتصادي بين دول الخليج العربية:

- صدور إعلان الدوحة بشأن قيام السوق الخليجية المشتركة.
- زيادة التبادل التجاري.

مع أطيب التمنيات بالنجاح والتوفيق،،،

السؤال الأول: اختر الإجابة الصحيحة من بين الأقواس: (3 درجة)

١ الدولة التي يوجد بها مقر قوات درع الجزيرة هي:

الكويت ☐ السعودية ☒ قطر ☐ عمان ☐

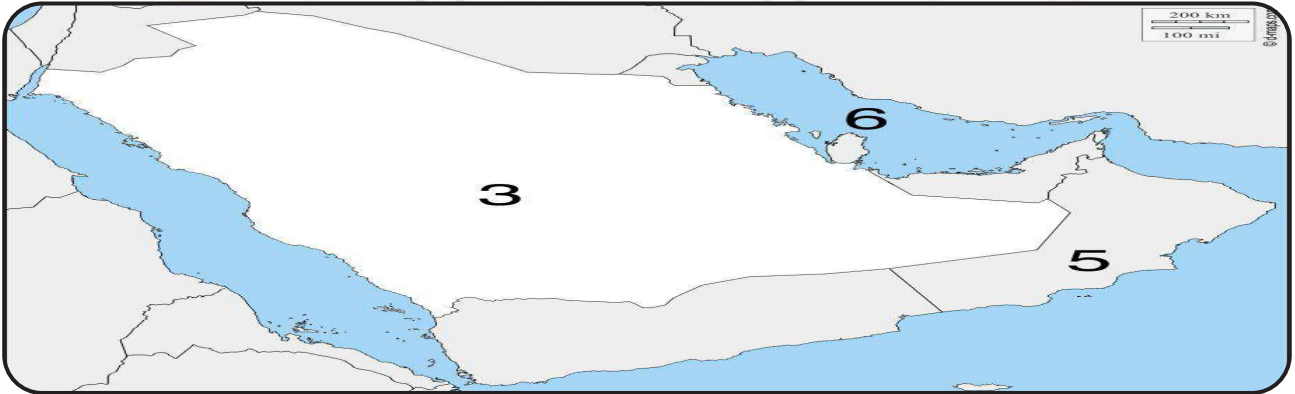
٢ المدينة التي تم فيها الإعلان عن قيام السوق الخليجية المشترك هي:

الدوحة ☒ الكويت ☐ أبوظبي ☐ الرياض ☐

٣ العام الذي قام فيه النظام العراقي البائد بغزو دولة الكويت هو:

1990 ☒ 1991 ☐ 1992 ☐ 1993 ☐

السؤال الثاني: على خريطة شبه الجزيرة العربية الصماء التي أمامك نفذ ما يطلب منك: (3 درجة)



١ أكبر دولة خليجية من حيث المساحة تحمل الرقم (3)

٢ الخليج العربي يحمل على الخريطة الرقم (6)

٣ توجد منطقة لبوا الزراعية في دولة (الامارات)

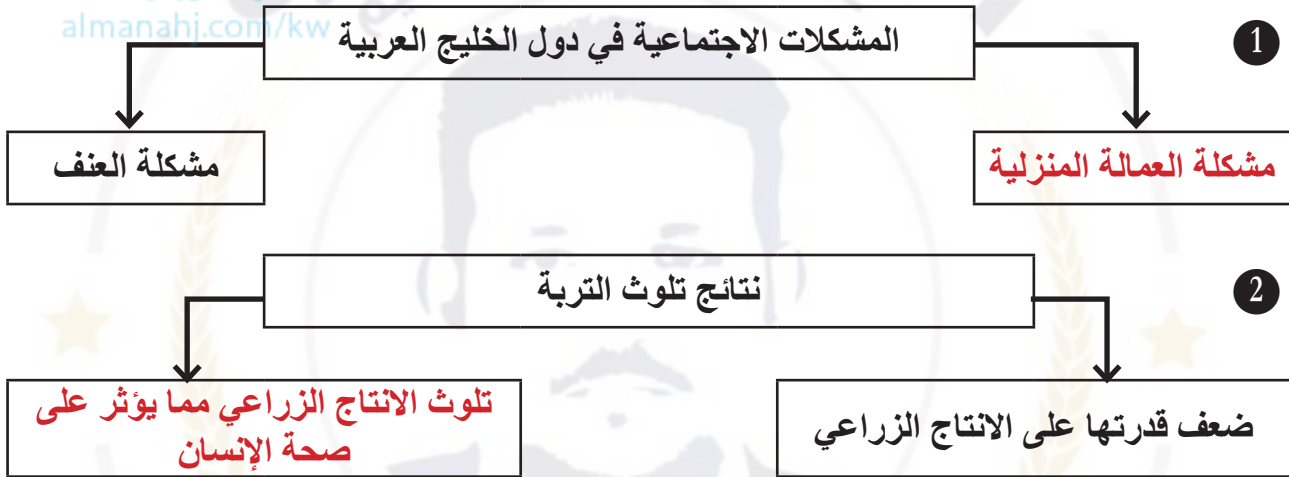
السؤال الثالث: قارن بين كل مما يلي: (4 درجة)

إنتاج النفط	إحتياطي النفط
كميات النفط التي يتم استخراجها للاستفادة منها	كميات النفط المخزونة في باطن الأرض.
الزراعة بدون تربة	بيوت بلاستيكية
هي الزراعة التي تتم في بيئة مائية أو رملية أو نشارة الخشب تضاف إليها المحاصيل الغذائية.	يزرع فيها الخضروات في غير مواسمها وتقوم بحماية المحاصيل من تقلبات الطقس

السؤال الأول: صح ما تحته خط: (2 درجة)

- ١ يوجد سهل الباطنة في دولة الامارات. (عمان)
- ٢ بدأ التنقيب عن النفط في دولة الكويت عام 1934م في حقل برقان. (بحرة)
- ٣ توجد منطقة الأحساء في دولة قطر. (السعودية)

السؤال الثاني: أكمل المخططات السهمية التالية: (2 درجة)



السؤال الثاني: صح ما تحته خط: (2 درجة)

- ١ نجحت المملكة العربية السعودية في إنتاج محصول القطن. (قمح)
- ٢ الطبقة التي تحمي الأرض والأحياء من خطر الأشعة فوق بنفسجية هي طبقة التربوسفير. (الأوزون)

السؤال الثالث: علل لما يأتي: (4 درجة)

- ١ استقبال حوض الخليج العربي موجات سكانية من كل المناطق.
بسبب موقعه الجغرافي المهم بين قارات العالم القديم.
- ٢ عدد مصادر تلوث الهواء.
- مصادر طبيعية - مصادر غير طبيعية -
- ٣ فسر العمال المنزلية:
مجموعة من الأفراد الذين يشاركون الأسرة في دور أو أكثر داخل المنزل أو خارجه.

السؤال الأول: اختر من العمود (أ) ما يناسبه من العمود (ب) (3 درجة)

العمود (ب)	الرقم	العمود (أ)
الاقتصادي		١ بدأ التنقيب عن النفط بدولة الكويت في عام
السياسي	٤	٢ تم تصدير أول شحنة للنفط في عهد الشيخ
الصناعة	٣	٣ تحويل المواد الخام إلى مواد مصنعه يمكن الاستفادة منها
أحمد الجابر	٢	٤ إدانة احتلال الجزر الاماراتية الثلاث من مظاهر العدوان
1934	١	
1946		

السؤال الثاني: ضع علامة (✓) أو (X) أمام العبارات التالية: (3 درجة)

- ١ مجموع الدخول التي تحصل عليها الدولة خلال عام هو الدخل القومي. (✓)
- ٢ ترجع أصول السلالات السكانية في منطقة الخليج العربية إلى جنس البحر المتوسط وغرب أفريقيا. (X)

السؤال الثالث: (4 درجة)

١ عدد الروابط التي تربط بين أبناء دول الخليج العربية:

- التاريخ المشترك.
- وحدة الأصل.
- العادات والتقاليد.
- الدين واللغة.

٢ عدد مظاهر التعاون الثقافي بين دول الخليج العربية:

- توحيد المناهج التعليمية وتطويرها.
- إنشاء مكتب التربية العربي ومقره الرياض.
- اجتماع وزراء التربية والتعليم لدول الخليج كل عامين لوضع السياسات التربوية.

مع أطيب التمنيات بالنجاح والتوفيق،،،

السؤال الثاني: على خريطة شبه الجزيرة العربية الصماء (3 درجة)
التي أمامك نفذ ما يطلب منك:



- ١ مقر مكتب التربية العربي في مدينة (الرياض)
- ٢ بحر العرب يحمل على الخريطة الرقم (6)
- ٣ أعلى دولة في نسبة المواطنين تحمل على الخريطة الرقم (الامارات)
- ٤ الدولة التي ظهرت بها حضارة (ودبا) يحمل على الخريطة الرقم (الامارات)

السؤال الثاني: ضع علامة (✓) أو (X) أمام العبارات التالية: (3 درجة)

- ١ البضائع والسلع التي تشتريها دولنا من الخارج. (الواردات)
- ٢ عدد المواليد - عدد الوفيات (الزيادة الطبيعية)

السؤال الثالث: قارن بين (4 درجة)

التلوث	التلوث الهوائي
هو إحداث إفساد لنوعية المياه من خلال إدخال مواد ضارة بها من قبل الإنسان	هو تعرض الغلاف الجوي لمواد تسبب الضرر للإنسان والكائنات الحية الأخرى.
الصادرات	الترانزيت
السلع والمنتجات التي تبيعها دولنا في الخارج	إعادة تصدير البضائع المستوردة

السؤال الأول: أكمل العبارات التالية بما يناسبها: (4 درجات)

- 1 - العام الذي تعرضت فيه الكويت للغزو العراقي هو 1990م.
- 2 - ترجع أصول السلالات السكانية في منطقة الخليج العربية إلى جنس البحر المتوسط وشرق إفريقيا.
- 3 - المركز الذي تحتله الكويت بين دول الخليج العربية من حيث عدد السكان الثالث.
- 4 - مقر قوات درع الجزيرة في مدينة الرياض.
- 5 - إعلان قيام السوق الخليجية المشتركة في عام 2008م.
- 6 - عدد الآبار الكويتية المحترقة أثناء الغزو العراقي 737 بئراً.

السؤال الثالث: علل لما يأتي: (4 درجة)

1 زيادة عدد الوافدين في دول الخليج العربية.

- توفر فرص العمل.

- ارتفاع الأجور.

- توفر الرعاية الصحية.

- الأمن والأمان.

2 قياد دول الخليج بإقامة العديد من الموانئ النفطية.

- بسبب تزايد الانتاج النفطي لدول الخليج العربي.

- تزايد الطلب العالمي على النفط.



احرص على اقتناء سلسلة منصة البلاطي

- كتاب الشرح.
- كتاب الأسئلة.
- كتاب إجابة الأسئلة.
- المراجعة النهائية (الأسئلة - الإجابة).
- توقعات ليلة الامتحان (الأسئلة - الإجابة).
- كبسولة ليلة الامتحان.
- برشامة ليلة الامتحان.

موقع
المناهج الكويتية
almanahj.com/kw



6 الدراسات الاجتماعية الكويت ودول الخليج العربية

الفصل الدراسي الثاني

2025 - 2024

استمتع بتجربة التعلم
مع منصة البلاطي

