

تم تحميل هذا الملف من موقع المناهج الكويتية



منطقة العاصمة التعليمية

الملف نموذج إجابة منطقة العاصمة

[موقع المناهج](#) ← [المناهج الكويتية](#) ← [الصف السادس](#) ← [اجتماعيات](#) ← [الفصل الأول](#)

روابط مواقع التواصل الاجتماعي بحسب الصف السادس



روابط مواد الصف السادس على تلغرام

[الرياضيات](#)

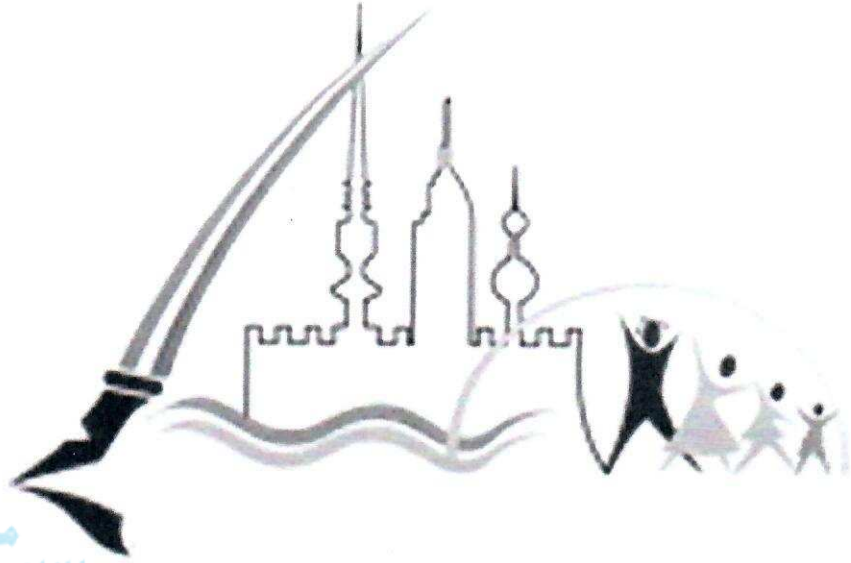
[اللغة الانجليزية](#)

[اللغة العربية](#)

[التربية الاسلامية](#)

المزيد من الملفات بحسب الصف السادس والمادة اجتماعيات في الفصل الأول

<a href="#">نموذج اجابة اختبار لمنطقة مبارك الكبير عام 2016</a>	1
<a href="#">اوراق عمل مهمة في مادة الاجتماعيات</a>	2
<a href="#">بنك اسئلة ممتاز في مادة الاجتماعيات</a>	3
<a href="#">بنك معلومات مهم في مادة الاجتماعيات</a>	4
<a href="#">تلخيص اجتماعيات بشكل مبسط</a>	5



موقع  
المناهج الكويتية

[almanahj.com/kw](http://almanahj.com/kw)


تم التحميل من شبكة ياكويت التعليمية

منطقة العاصمة التعليمية



Telegram:  
[ykuwait\\_net\\_home](https://t.me/ykuwait_net_home)

التنمؤ و د ج ا ب ة  
ال ا ج ا ب ة

<p>العام الدراسي ٢٠٢٢ / ٢٠٢٣ م الزمن : ساعة و خمس وأربعون دقيقة عدد أوراق الأسئلة : ( ٥ )</p>	<p><b>نموذج الإجابة</b> <b>امتحان نهاية الفترة الدراسية الأولى</b> <b>مقرر الكويت ودول الخليج العربية</b> <b>الصف السادس المتوسط</b></p>	<p>وزارة التربية الإدارة العامة لمنطقة العاصمة التعليمية التوجيه الفني للاجتماعيات</p> 
---	--	--

أجب عن جميع الأسئلة

**السؤال الأول (موضوعي) ويتكون من ( أ - ب - ج - د - هـ - و ) : (درجة لكل إجابة = ٣٦ درجة)**

أ- أكمل العبارات التالية بما يناسبها :

تم التحميل من شبكة ياكويت التعليمية



Telegram:  
ykuwait\_net\_home

- ١ - القرن الميلادي الذي ظهر فيه الإسلام بمنطقة خليج العربية هو **السابع** . ص ٥٣ .
- ٢ - أرض مرتفعة و سطحها مستوي وتمتد مساحة كبيرة تعرف باسم **الهضبة** . ص ٢٣
- ٣ - عثر على العديد من أفران صهر المعادن في حضارة تسمى **مجان** ص ٤٨
- ٤ - الجزيرة التي ظهرت فيها الحضارة الهلينستية اسمها **فيلكا** . ص ٤٧
- ٥ - تقع منطقة الخليج العربية في الجهة الجنوبية الغربية من قارة اسمها **آسيا** . ص ١٩
- ٦ - يطلق على نهاية موسم الغوص على اللؤلؤ اسم **القفال** . ص ٣٢

ب- ضع خطأً تحت الخيار الصحيح من بين البدائل التي كل عبارة مما يلي :

- ١ - تعرف القمة السابعة والعشرون بالرياض عام ٢٠٠٦ م باسم قمة الشيخ : ص ٧٤

صباح الأحمد الصباح	<b>جابر الأحمد الصباح</b>	عبدالله السالم الصباح	مبارك الصباح
--------------------	---------------------------	-----------------------	--------------

- ٢ - العام الذي تم فيه انطلاق السوق الخليجي المشترك هو : ص ٧٧

٢٠٠٨ م	٢٠٠٧ م	٢٠٠٦ م	٢٠٠٥ م
--------	--------	--------	--------

- ٣ - أولى الدول الاستعمارية الأوروبية وصولاً لمنطقة الخليج العربية دولة اسمها : ص ٦٠

بولندا	<b>البرتغال</b>	هولندا	إنجلترا
--------	-----------------	--------	---------

- ٤ - يطلق على الصبية الذين يعملون على ظهر السفينة لاكتساب الخبرة اسم : ص ٣٢

الغواصين	السيب	الطواويش	<b>التبابة</b>
----------	-------	----------	----------------

- ٥ - المدينة التي أعلن فيها قيام مجلس التعاون لدول الخليج العربية اسمها :- ص ٧٠

<b>أبو ظبي</b>	المنامة	مسقط	الدوحة
----------------	---------	------	--------

- ٦ - يبدأ موسم الغوص على اللؤلؤ في شهر : ص ٣٢

أغسطس	يوليو	<b>يونيو</b>	مايو
-------	-------	--------------	------



## تابع // السؤال الأول :

ج - صنف الأسماء التالية حسب مكانها الصحيح في الجداول التالية :

١- النباتات الطبيعية حسب نوعها :

( العرفج - الخبيزة - الحويذان - الصبار - الثندا - العنصيل ) ص ٢٦

نباتات حولي	نباتات معمر
الخبيزة / الحويذان / العنصيل	العرفج / الصبار / الثندا

٢- أسماء الهجرات في منطقة الخليج العربي حسب المواقع :

( المعاضيد - بني ياس - القواسم - آل صباح - آل الخليفة ) ص ٥٧

الموقع	البحرين	رأس الخيمة	قطر	الكويت	أبو ظبي
اسم الهجرة	آل خليفة	القواسم	المعاضيد	آل صباح	بني ياس

د - اكتب المفهوم أو المصطلح الدال على كل عبارة مما يلي :

١- ( الخليج العربي ) ذراع مائي لبحر العرب يمتد من خليج عمان جنوباً حتى شط العرب شمالاً . ص ١٩

٢- ( الاستقلال ) تحرر الدولة من المستعمر الأجنبي وقيامها بمسؤولية إدارة شؤونها الداخلية والخارجية. ص ٦٣

٣- ( الاستعمار ) سيطرة دولة قوية على دولة ضعيفة بهدف استغلال مواردها . ص ٦١

٤- ( المناخ ) حالة الجو في مكان ما خلال فترات زمنية طويلة . ص ٢٥

٥- ( القلاب ) صانع السفينة. ص ٣٣

٦- ( المياه الجوفية ) المياه التي توجد في باطن الأرض . ص ٢٨

تم التحميل من شبكة ياكويت التعليمية



Telegram:  
ykuwait\_net\_home

## تابع // السؤال الأول :

هـ - اختر الاسم المناسب لصور الحرف من القائمة التالية وسجله أدناها : ص ٢٩ - ص ٣٣  
( حياكة السدو - صناعة الخوص - صناعة السفن - خياطة البشوت )



٣- خياطة البشوت

almanahj.com/kw

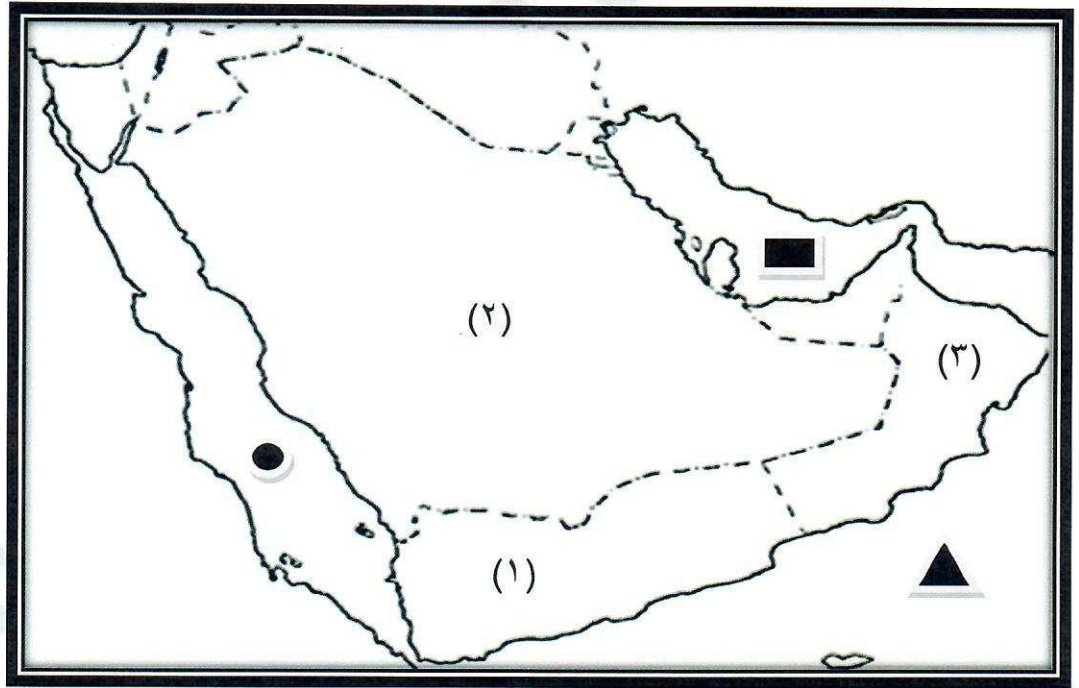


٢- حياكة السدو



١- صناعة الخوص

و - لاحظ خريطة دول الخليج العربية ، ثم نفذ استعن بالمدلولات التي عليها لاكمال العبارات التالية :



- الدولة الخليجية التي يوجد بها الجبل الأخضر يمثلها على الخريطة الرقم ( ٣ ) . ص ٢٣
- الدولة الخليجية الوحيدة التي لم تتعرض للاستعمار الأجنبي يمثلها على الخريطة الرقم ( ٢ ) . ص ٦٥
- الخليج العربي يحمل على الخريطة الشكل ■ . ص ٢٣
- بحر العرب يحمل على الخريطة الشكل ▲ . ص ٢٣



## السؤال الثاني ( مقالي ) يتكون من ( أ - ب - ج ) :

أ- عرف ما يلي : ( ٤ × ١ = ٤ درجات )

- ١ - السهول : أجزاء فسيحة من سطح الأرض تتميز باستوائها وقلّة ارتفاعها . ص ٢٣
- ٢ - مجلس التعاون لدول الخليج العربية : منظمة سياسية اقتصادية إقليمية تضم ست دول عربية خليجية . ص ٧٠
- ٣ - الواحة : منطقة تقع في الصحراء بها مياه عذبة صالحة للزراعة . ص ٢٩
- ٤ - الجليب ( القليب ) : يطلق على البئر عند سكان منطقة الخليج العربية . ص ٥١

ب - فرق بين كل مما يلي من حيث ( التعريف ) : ( ٤ × ١ = ٤ درجات )

نبات حولي	نبات معمر
نباتات يرتبط وجودها بموسم سقوط المطر . ص ٢٦	نباتات متوفرة طول العام لأنها تتحمل الجفاف وارتفاع درجة الحرارة بسبب جذورها طويلة وقلّة أوراقها وكثرة الأشواك فيها وقدرتها العالية على تخزين المياه . ص ٢٦
الموقع النسبي	الموقع الفلكي
الموقع بالنسبة للماء واليابس . ص ٢٠	الموقع بالنسبة لخطوط الطول ودوائر العرض . ص ٢٠

ج- علل ما يلي : ( ٤ × ١ = ٤ درجات )

- ١ - انصراف سكان منطقة الخليج العربية عن حرفة الغوص على اللؤلؤ . ص ٣١  
\* ظهور اللؤلؤ الصناعي .  
\* اكتشاف النفط .
- ٢ - تعتبر سفينة البغلة من أفضل أنواع السفن المستعملة في رحلة السفر . ص ٣٤ ( يكتفى بنقطتين )  
\* لمئاتها / قدرتها على نقل الحمولة الكبيرة .  
\* قلّة تعرضها للأخطار البحرية .

## السؤال الثالث ( مقالي ) ويتكون من ( أ - ب - ج ) :-

أ - اكتب عما يلي : (  $١ \times ٤ = ٤$  درجات / يكتفى بنقطتين )

١ - إنجازات مجلس التعاون لدول الخليج العربية . ص٧٧

- \* إقامة الاتحاد الجمركي
- \* انطلاق السوق الخليجي المشترك في يناير ٢٠٠٨ م
- \* التنسيق في المجال السياسي في المحافل الدولية لكل القضايا التي تهم المجلس
- \* وثيقة التطوير الشامل للتعليم
- \* اتفاقية الدفاع المشتركة واستمرار تعزيز قوة درع الجزيرة
- \* التعاون في مجال العمل البيئي لحل المشكلات ذات الاهتمام المشترك وتوحيد الرؤى في المحافل الدولية البيئية بما يخدم دول المجلس .

٢ - الأنشطة البرية القديمة لمنطقة الخليج العربية . ص ٢٨

- \* الرعي
  - \* الزراعة
  - \* الحرف اليدوية
  - \* التجارة البرية
- موقع المناهج الكويتية  
almanahj.com/kw

ب - قارن بين كل مما يلي حسب المطلوب في الجدول التالي :- ص ٦٢ (  $١ \times ٤ = ٤$  درجات )

وجه المقارنة	معاهدة الحماية ص٦٢	معاهدة الاستقلال ص٦٣
السنة	١٨٩٩م	١٩٦١م
الحاكم	الشيخ مبارك الصباح	الشيخ عبدالله السالم الصباح

ج - عدد ( اثنين ) لكل مما يلي : (  $١ \times ٤ = ٤$  درجات / يكتفى بنقطتين )

- ١ - أهداف مجلس التعاون لدول الخليج العربية . ص ٧٦
- \* تحقيق التعاون بين دول الأعضاء في جميع المجالات . \* تحقيق الترابط والصلات بين دول مجلس التعاون .
- \* العمل على تقدم دول مجلس التعاون في المجال العلمي .

تم التحميل من شبكة ياكويت التعليمية



Telegram:  
ykuwait\_net\_home

٢ - مظاهر الحضارة الإسلامية . ص ٥٥

\* الصناعة . \* الفن . \* العمران

انتهت الأسئلة ،،،،،،،،