



وزارة التربية

الإدارة العامة لمنطقة الجهراء التعليمية
التوجيه الفني للاجتماعيات

شبكة ياكويت التعليمية
<https://t.me/kuwait>
نموذج الإجابة

نموذج الإجابة



العام الدراسي: ٢٠٢٤/٢٠٢٥ م
الزمن: ساعة وخمسة وأربعون دقيقة
عدد الأوراق: (٦)

امتحان الفترة الدراسية الثانية
لمقرر الكويت ودول الخليج العربية
للصف السادس

وزارة التربية
الإدارة العامة لمنطقة الجهوراء التعليمية
التوجيه الفني للاجتماعيات


أجب عن جميع الأسئلة:

* السؤال الأول (موضوعي): ويتكون من (أ، ب، ج، د، هـ، و، ز) (٣٦ درجة - لكل نقطة درجة)

أ- أكمل العبارات التالية بما يناسبها:

- ١- أول حفل نفطي تم اكتشافه بدولة الكويت اسمه بحره. ص ٨٧
- ٢- الدولة الخليجية الأعلى في الكثافة السكانية اسمها مملكة البحرين. ص ١١٤
- ٣- يُطلق على قلعة البحرين اسم قلعة البرتغال. ص ١٢٠
- ٤- المدينة التي يوجد بها مقر مكتب التربية العربي اسمها الرياض. ص ١٣٠
- ٥- العام الذي حصل فيه الغزو العراقي الغاشم لدولة الكويت ١٩٩٠ م. ص ١٣٩

ب- صنف المناطق التالية بمكانها الصحيح في الجدول الذي يليها: ص ٩٢ + ص ٩٦



مناطق زراعية	مناطق صناعية
العبدلي	الشعبية
الوفرة	الجبيل
سهل تهامة	

تابع / السؤال الأول (الموضوعي):

ج- أكتب المفاهيم أو المصطلحات الدالة على العبارات التالية:

م	المفهوم / المصطلح	التعريف
١	<u>الصناعة</u>	تحويل المواد الخام إلى مواد يمكن الاستفادة منها. ص ٩٥
٢	<u>الترانزيت</u>	إعادة تصدير البضائع المستوردة. ص ٩٩
٣	<u>النمو السكاني</u>	التغيير الذي يحدث لعدد السكان نتيجة للزيادة الطبيعية وغير الطبيعية. ص ١١١
٤	<u>الثقافة</u>	مجموعة من العادات والتقاليد والقيم في مجتمع من المجتمعات. ص ١١٨
٥	<u>طبقة الأوزون</u>	درع واق للأحياء ضد خطر الأشعة فوق البنفسجية الضارة. ص ١٣٥

د- ظلل الخيار الصحيح من بين الخيارات التي تلي كل عبارة مما يلي:

١- العام الذي بدأ فيه التنقيب عن النفط بدولة الكويت: ص ٨٧

١٩٣٥ م	١٩٣٤ م	١٩٣٣ م	١٩٣٢ م
--------	--------	--------	--------

٢- البعثة التي اكتشفت الآثار الحضارية في منطقة الخليج العربية: ص ١٠٥

البرتغالية	الدايمركية	الإنجليزية	الأمريكية
------------	------------	------------	-----------

٣- الديسبيل وحدة قياس التلوث: ص ١٣٤

الهوائي	المائي	الأرضي	الضوضائي
---------	--------	--------	----------

٤- المدينة التي أعلن فيها قيام السوق الخليجية المشتركة: ص ١٣٠

الدوحة	المنامة	الرياض	أبو ظبي
--------	---------	--------	---------

٥- يبلغ عدد الآبار النفطية الكويتية التي أشعلها النظام العراقي البائد: ص ١٣٩

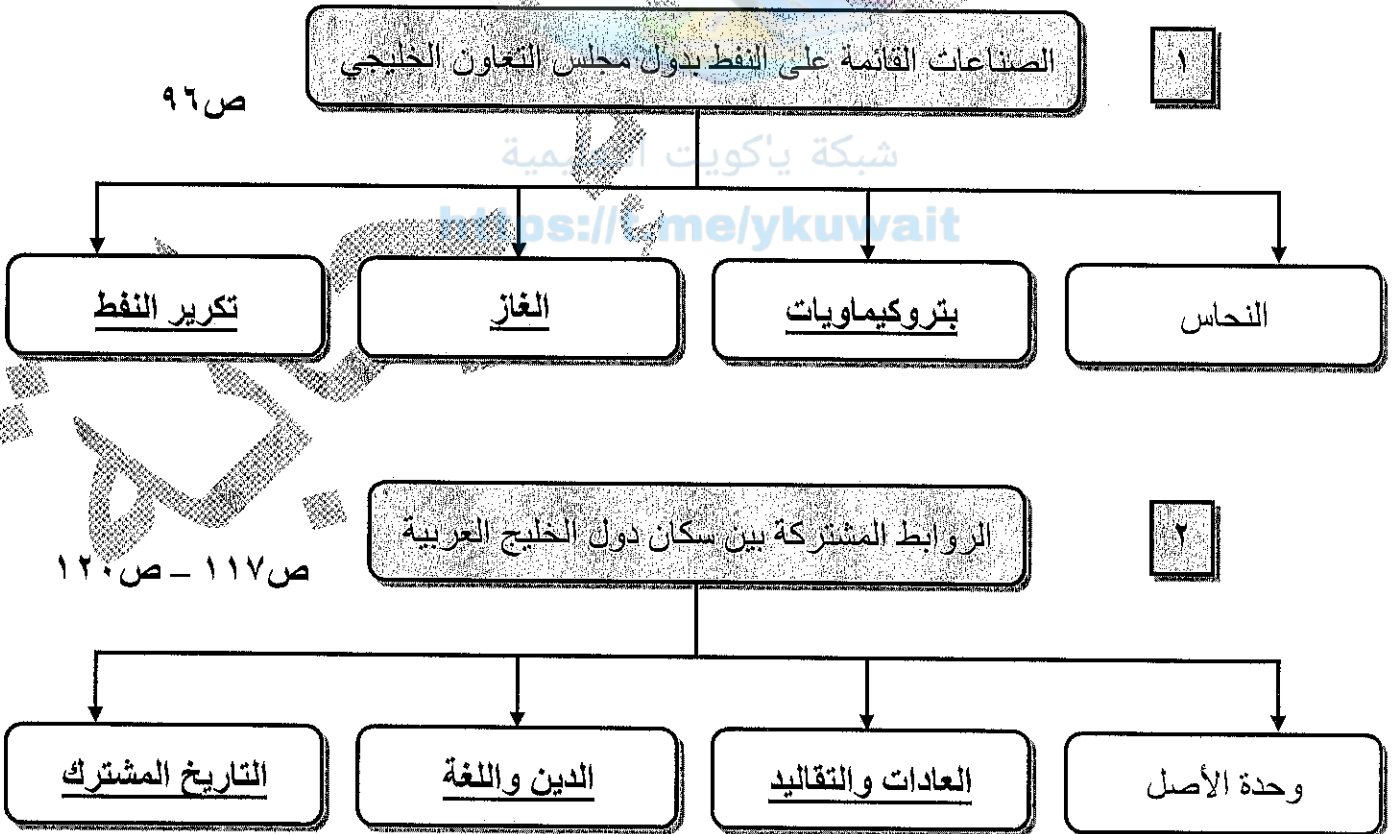
٧٣٦	٧٣٧	٧٣٨	٧٣٩
-----	-----	-----	-----

تابع / السؤال الأول (الموضوعي):

هـ - ظلل الحرف (أ) إذا كانت العبارة صحيحة وظلل الحرف (ب) إذا كانت العبارة خاطئة:

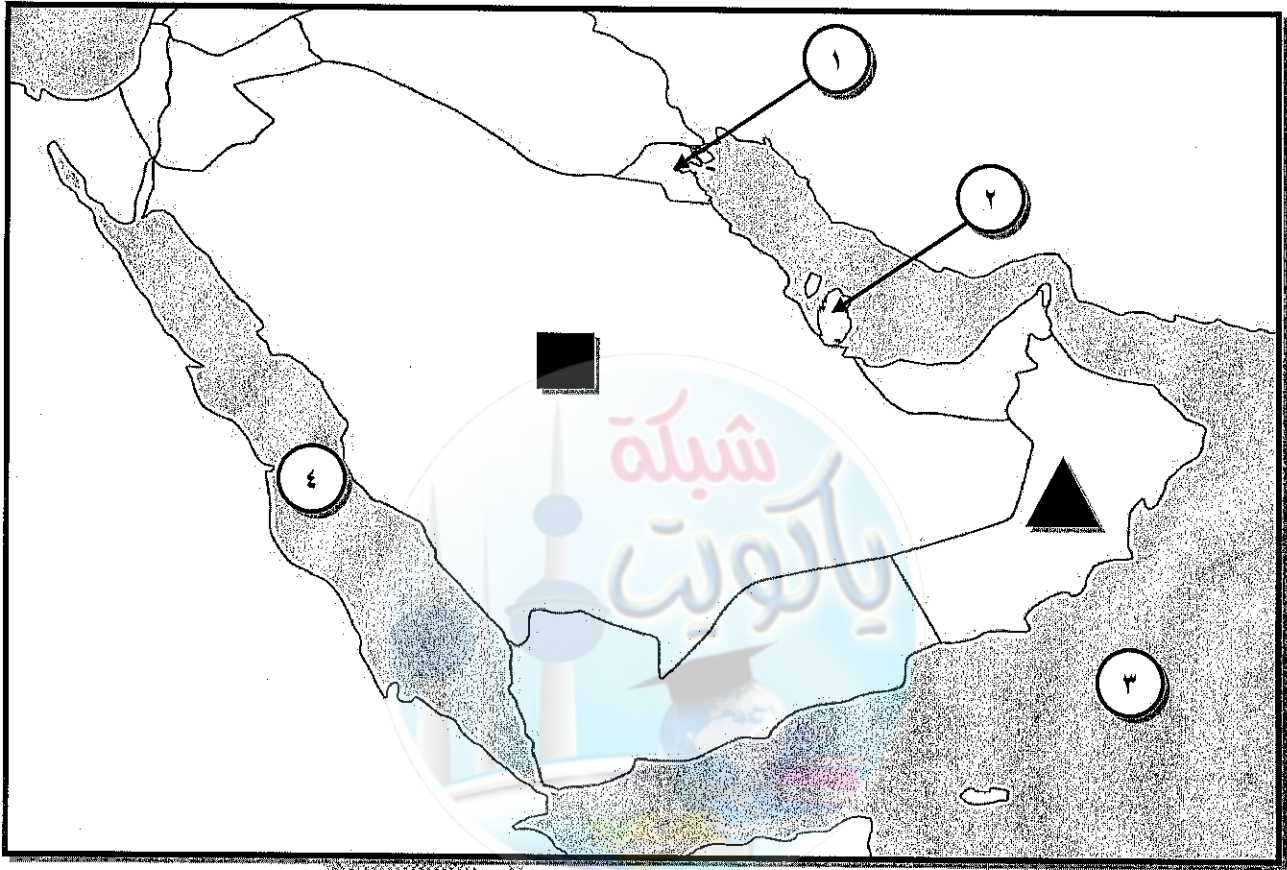
م	العبارة	(أ)	(ب)
١	أعلى دولة خليجية في إنتاج النفط عام ٢٠٠٨ م اسمها السعودية. ص ٨٨	أ	ب
٢	الكثافة السكانية هي عدد السكان في الكيلو متر المربع. ص ١١٤	أ	ب
٣	الدولة الخليجية التي لم تتعرض للاستعمار الأجنبي اسمها سلطنة عمان. ص ١٢٠	أ	ب
٤	مجموعة من الناس تشترك فيما بينها في الصفات الجسمانية الرئيسية كلون الجلد وشكل الأنف وشكل الشعر وطول القائمة وما إليها وتختلف عن غيرها من السلالات في هذه الصفات تسمى السلالة. ص ١٠٦	أ	ب
٥	العنف ظاهرة موروثية. ص ١٤٦	أ	ب

و- أكمل المخططات السهمية التالية:



تابع / السؤال الأول (الموضوعي):

ز- أمامك خريطة شبه الجزيرة العربية الصماء نفذ المطلوب مما يليها:



١- أكتب الرقم الدال على العبارات التالية: شبكة ياكويت

- ٤- البحر الأحمر يمثله على الخريطة الرقم ص ٩٢
٢- الدولة الخليجية التي توجد فيها حضارة أم النار يمثله على الخريطة الرقم ص ١٠٥
١- الدولة الخليجية التي هاجر إليها آل الصباح يمثله على الخريطة الرقم ص ١٠٨

٢- حدد كل مما يلي على الخريطة باستخدام الأشكال التالية:

- الدولة الخليجية التي يوجد بها حقل ناطح باستخدام الشكل ▲ ص ٩١
الدولة الخليجية التي لها تجربة رائدة في إنتاج محصول القمح باستخدام الشكل ■ ص ٩٢

* السؤال الثاني/ (مقال) : يتكون من (أ ، ب ، ج)

أ- فرق بين كل مما يلي من حيث التعريف: (٤ درجات)

احتياطي النفط ص ٨٨	إنتاج النفط ص ٨٨
كميات النفط المخزونة في باطن الأرض. (درجة)	كميات النفط التي يتم استخراجها للاستفادة منها. (درجة)
الواردات ص ٩٩	الصادرات ص ٩٩
البضائع والسلع التي تشتريها دولنا من الخارج. (درجة)	السلع والمنتجات التي تبيعها دولنا في الخارج. (درجة)

ب- لاحظ الصورة المقابلة ثم أجب عن الأسئلة التالية: ص ٩٠ (درجتان)



١- ما اسم الحاكم الذي تم في عهده تصدير أول شحنة من النفط الكويتي؟
* الشيخ أحمد الجابر الصباح. (درجة)

٢- في أي عام تم تصدير أول شحنة من النفط الكويتي؟ (درجة)

* ١٩٤٦ م

ج- أكتب فيما يلي: (٦ درجات)

١- وظائف العمالة المنزلية. ص ١٤٢ (درجتان ويكتفى بنقطتين)

* مربية.

* سائق.

* طباط.

٢- مظاهر التعاون السياسي بين دول مجلس التعاون الخليجي. ص ١٥٢ (درجتان ويكتفى بنقطتين)

* إدانة احتلال الجزر الإماراتية الثلاث.

* مناصرة القضايا العادلة مثل قضية الشعب الفلسطيني وحقه في تقرير مصيره.

* توحيد الموقف السياسي الخليجي تجاه عدوان النظام العراقي البائد على دولة الكويت.

٣- حلول لعلاج مشكلة العمالة المنزلية. ص ١٥٠ (درجتان ويكتفى بنقطتين)

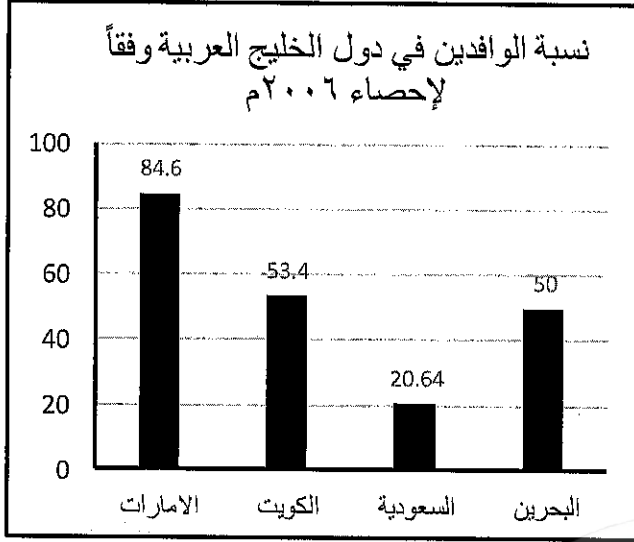
* الاهتمام الجاد بالقرآن الكريم والسنة النبوية الشريفة.

* يتحمل كل فرد في الأسرة مسؤوليته والقيام بدوره خير قيام.

* جعل مهمة الخادم مقتصرة على ممارسة دوره الأساسي في المساهمة في تحمل أعباء المنزل لا غير.

* (كل ما يراه المصحح مناسب) .

* السؤال الثالث/ (مقال) : يتكون من (أ ، ب ، ج)



أ- لاحظ الرسم البياني المقابل ثم أجب عن الأسئلة التالية: ص ١١٢ (٤ درجات)

١- استخرج حقيقة من الرسم البياني. (درجة)

* أي حقيقة يستخرجها المتعلم من الرسم البياني.

٢- رتب الدول الخليجية الثلاث الأولى في نسبة الوافدين ترتيباً تنازلياً. (ثلاث درجات)

الإمارات	الكويت	البحرين
----------	--------	---------

ب- علل لما يلي: (٦ درجات)

١- قيام دول الخليج العربية بإقامة العديد من الموانئ النفطية. ص ٩٠ (درجتان)

* نتيجة لتزايد الإنتاج النفطي.

* تزايد الطلب العالمي على النفط.

٢- شهدت منطقة الخليج العربية بعد اكتشاف النفط نمواً سكانيًا فجائياً. ص ١١٠ (درجتان ويكتفى بنقطتين)

* ارتفاع دخل الفرد.

* توفر الرعاية الصحية.

* توفر فرص العمل.

٣- حدوث التلوث المائي. ص ١٣٦ (درجتان ويكتفى بنقطتين)

* النفط ومشتقاته.

* النفايات الخطرة.

* الأمطار الحمضية.

* مخلفات المصانع.

* مياه الصرف الصحي غير المعالجة.

* مياه الصرف الزراعي.

ج- عرف المفاهيم والمصطلحات التالية: (درجتان)

١- الدخل القومي: هو مجموع الدخول التي تحصل عليها الدولة خلال عام. ص ٩٥

٢- العنف: هو ذلك السلوك العدواني الموجه ضد الغير، والذي يتسم بالتخريب والتدمير، سواء كان ذلك السلوك أقوالاً أو أفعالاً. ص ١٤٤

" انتهت الإجابة "