

تم تحميل هذا الملف من موقع المناهج الكويتية



الملف نموذج 2 للاختبار التحصيلي الأول

[موقع المناهج](#) ⇨ [المناهج الكويتية](#) ⇨ [الصف الأول](#) ⇨ [رياضيات](#) ⇨ [الفصل الثاني](#)

روابط مواقع التواصل الاجتماعي بحسب الصف الأول



روابط مواد الصف الأول على تلغرام

[الرياضيات](#)

[اللغة الانجليزية](#)

[اللغة العربية](#)

[التربية الاسلامية](#)

المزيد من الملفات بحسب الصف الأول والمادة رياضيات في الفصل الثاني

لوراق عمل	1
مذكرة الوحدة السابعة	2
توزيع مقترح لمنهج الرياضيات	3
لوراق عمل	4
نموذج اختبار أول	5



الاختبار التحصيلي الاول للصف الاول الفصل الدراسي الثاني للعام 2024-2025



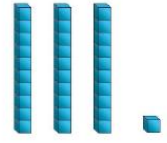
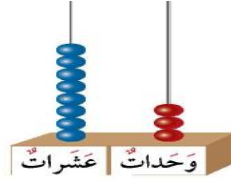



نموذج (٢) اختبار تحصيلي (١)
في مادة الرياضيات للصف (الأول)
الفصل الدراسي الثاني للعام ٢٠٢٤ - ٢٠٢٥



وزارة التربية
الإدارة العامة لمنطقة حولي التعليمية
التوجيه الفني للرياضيات

السؤال الأول : أ - عد الوحدات والعشرات ، ثم اكتب رمز العدد.




ب - قارن . اكتب رمز العلاقة المناسب (< أو > أو =).

١٩ ○ ١٩


٢٤ ○ ٤٣

٨٠ ○ ٦٠

السؤال الثاني :- أ - اكمل سلسلة الأعداد :



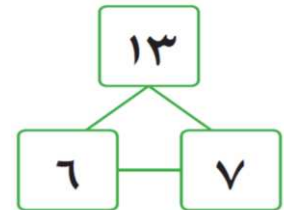
ب - اكتب الوقت .



ب - اكمل الجدول:

العدد	علامات العد	الكائنات الحية
	////	
	// ###	

السؤال الثالث :- أ - اكمل :



_____ = _____ + _____

_____ = _____ - _____

السؤال الرابع: حوّل الإجابة الصحيحة:

١- يصوم المسلمون في شهر

رمضان

محرم

صفر

٢- كم عدد كل  في فصلك تقريباً ؟



يساوي ١٠



أقل من ١٠



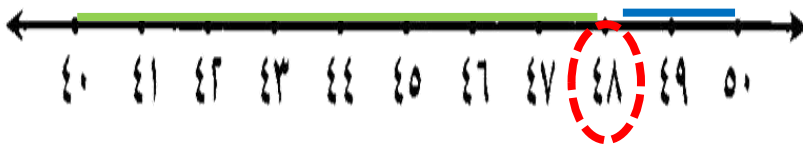
أكثر من ١٠

٣- العدد المجهول فيما يلي $10 + \square = 13$ هو

٤

٣

٢



٤- العدد ٤٨ أقرب الى العدد

٥٠

٤٠

٣٠

٥- الساعة المناسبة للوقت الموضح

٥ : ٠٠




انتهت الأسئلة نتمنى لكم التوفيق،،،



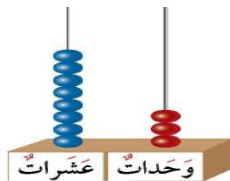
نموذج (٢) اختبار تحصيلي (١)
في مادة الرياضيات للصف (الأول)
الفصل الدراسي الثاني للعام ٢٠٢٤ - ٢٠٢٥

وزارة التربية
الإدارة العامة لمنطقة حولي التعليمية
التوجيه الفني للرياضيات


السؤال الأول: أ - عد الوحدات والعشرات، ثم اكتب رمز العدد.



١٠٠



٨٣



٣١


ب - قارن . اكتب رمز العلاقة المناسب (< أو > أو =).

١٩ = ١٩

٢٤ < ٤٢

٨٠ > ٦٠

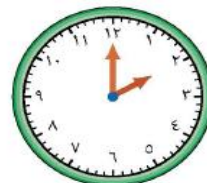
السؤال الثاني :- أ - اكمل سلسلة الأعداد :



ب - اكتب الوقت .



٩ : ٠٠

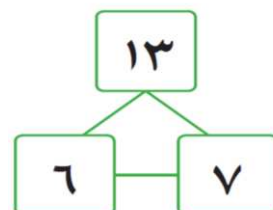


٢ : ٠٠

ب - اكمل الجدول:

العدد	علامات العد	الكائنات الحية
٤	////	
٧	// ###	

السؤال الثالث :- أ - اكمل :



$$13 = 6 + 7$$

$$7 = 6 - 13$$

السؤال الرابع: حوّل الإجابة الصحيحة:

١- يصوم المسلمون في شهر

رمضان

محرم

صفر

٢- كم عدد كل  في فصلك تقريباً ؟



يساوي ١٠



أقل من ١٠



أكثر من ١٠

٣- العدد المجهول فيما يلي $10 + \square = 13$ هو

٤

٣

٢

٤- العدد ٤٨ أقرب الى العدد



٥٠

٤٠

٣٠

٥- الساعة المناسبة للوقت الموضح

٥:٠٠



انتهت الأسئلة نتمنى لكم التوفيق،،،