


تم تحميل هذا الملف من موقع المناهج الكويتية



الملف نموذج 4 للاختبار التحصيلي الأول

[موقع المناهج](#) ⇌ [المناهج الكويتية](#) ⇌ [الصف الأول](#) ⇌ [رياضيات](#) ⇌ [الفصل الثاني](#)

روابط مواقع التواصل الاجتماعي بحسب الصف الأول




روابط مواد الصف الأول على تلغرام

<a href="#">الرياضيات</a>	<a href="#">اللغة الانجليزية</a>	<a href="#">اللغة العربية</a>	<a href="#">التربية الاسلامية</a>
---------------------------	----------------------------------	-------------------------------	-----------------------------------

المزيد من الملفات بحسب الصف الأول والمادة رياضيات في الفصل الثاني

<a href="#">اوراق عمل</a>	1
<a href="#">مذكرة الوحدة السابعة</a>	2
<a href="#">توزيع مقترح لمنهج الرياضيات</a>	3
<a href="#">اوراق عمل</a>	4
<a href="#">نموذج اختبار أول</a>	5

<div style="border: 1px solid black; width: 50px; height: 50px; margin: 0 auto; text-align: center; line-height: 50px;">٢٠</div>	الاسم: .....	الاختبار التحصيلي (١) للفصل الدراسي الثاني للصف الاول الابتدائي ٢٠٢٤ / ٢٠٢٥	 وزارة التربية الإدارة العامة لمنطقة الجواء التعليمية التوجيه الفني للرياضيات
	الصف: .....		

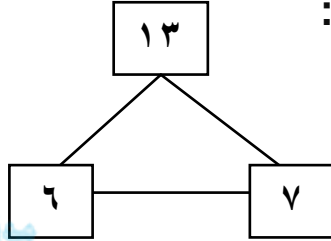
السؤال الأول :

(أ) اكتب الوقت :



:

(ب) اكتب عبارة الجمع وعبارة الطرح ذات الصلة مستخدماً الأعداد المعطاة :



٥

=

+

=

السؤال الثاني :


(أ) قارن . اكتب رمز العلاقة المناسب ( < أو > أو = ) :

١٨ ○ ١٢

٦٥ ○ ٥٦

٩٣ ○ ٥٨

(ب) اكتب رمز العدد الممثل :



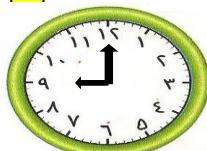

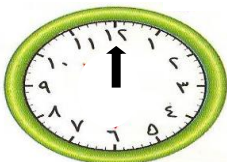
السؤال الثالث :

(أ) رتب الأعداد ( من الأصغر الى الأكبر ) :

٢٠ ، ٣٤ ، ٥٦

(ب) ارسم عقرب الساعة الصغير لتوضيح قبل و بعد الساعة المرسومة :

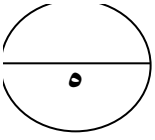
بعد ساعة واحدة



قبل ساعة واحدة



السؤال الرابع : حوّل الإجابة الصحيحة :



١- العدد المجهول هو

$$١٣ = \square + ١٠$$

ج ٤

ب ٥

أ ٣

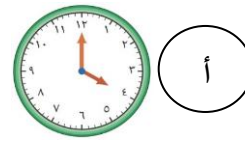
٢- ذهب فهد إلى الملعب الساعة ٦:٠٠ قبل المباراة بساعة ، كم الساعة التي بدأت فيها المباراة؟



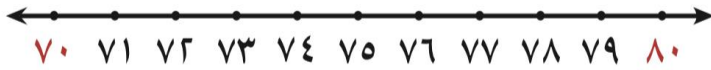
ج



ب



أ



٣- العدد ٧٧ أقرب الى العدد -----

ج ٨٠

ب ٧٠

أ ٧٩

٤- عدد الأشهر في السنة الميلادية هي ----- شهرا :

ج ١٠

ب ١١

أ ١٢




٥- العدد الذي يأتي بعد العدد مباشرة :

ج ٦٥

ب ٦٦

أ ٦١

<div style="border: 1px solid black; width: 50px; height: 50px; margin: 0 auto; text-align: center; line-height: 50px;">٢٠</div>	الاسم: .....	الاختبار التحصيلي (١) للفصل الدراسي الثاني للصف الاول الابتدائي ٢٠٢٤ / ٢٠٢٥ (نموذج الإجابة)	 وزارة التربية الإدارة العامة لمنطقة الجهراء التعليمية التوجيه الفني للرياضيات
	الصف: .....		

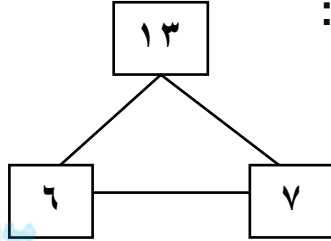
السؤال الأول :

(أ) اكتب الوقت :



٤ : ٠٠

(ب) اكتب عبارة الجمع وعبارة الطرح ذات الصلة مستخدماً الأعداد المعطاة :



amanijecdn/kw  
المنهج الكويتية

$١٣ = ٧ + ٦$  أو  $١٣ = ٦ + ٧$


$٧ = ٦ - ١٣$  أو  $٦ = ٧ - ١٣$

السؤال الثاني :

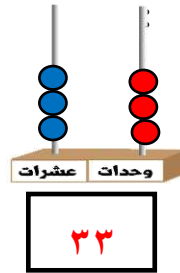
(أ) قارن . اكتب رمز العلاقة المناسب ( < أو > أو = ) :

٩٣ < ٥٨ ، ٥٦ > ٦٥ ، ١٢ > ١٨

(ب) اكتب رمز العدد الممثل



٤٠



٣٣


السؤال الثالث :

(أ) رتب الأعداد ( من الأصغر الى الأكبر ) :

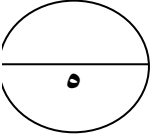
٢٠ ، ٣٤ ، ٥٦

٥٦      ٣٤      ٢٠

(ب) ارسم عقرب الساعة الصغير لتوضيح قبل و بعد الساعة المرسومة :



السؤال الرابع : حوّل الإجابة الصحيحة :



٦- العدد المجهول هو

$$١٣ = \square + ١٠$$

ج ٤

ب ٥

أ ٣

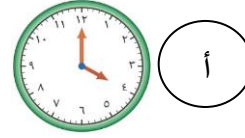
٧- ذهب فهد إلى الملعب الساعة ٦:٠٠ قبل المباراة بساعة ، كم الساعة التي بدأت فيها المباراة؟



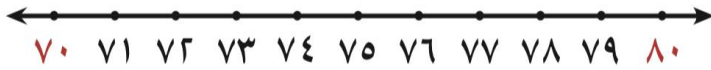
ج



ب



أ



٨- العدد ٧٧ أقرب الى العدد -----

ج ٨٠

ب ٧٠

أ ٧٩

٩- عدد الأشهر في السنة الميلادية هي ----- شهرا :

ج ١٠

ب ١١

أ ١٢



١٠- العدد الذي يأتي بعد العدد مباشرة :

ج ٦٥

ب ٦٦

أ ٦١